

# SECONDARY SCHOOL ANNUAL EXAMINATIONS 2004

Education Assessment Unit - Education Division

**Ir-Raba' Sena**


**STORJA ĠENERALI**

**HIN: Siegha u Nofs**

**Isem:** \_\_\_\_\_

**Klassi:** \_\_\_\_\_

- 1.1 Fl-istampa hawn taht jidhru l-membri ta' wiehed mill-Kunsill tal-Gvern tal-Maltin moghti mill-Inglizi. Sib is-sentenza li taqbel ma' dawn il-kostituzzjonijiet ta' Malta tas-seklu 19 u 20 billi tniżżel in-numri minn **2** sa **6** fil-kolonna l-vojta. **L-ewwel waħda hi moghtija bhala eżempju:**



<b>1</b>	Il-Kostituzzjoni ta' l-1921		saru l-elezzjonijiet l-ewwel darba għall-kunsill.
<b>2</b>	Il-Kostituzzjoni ta' l-1974		tat lill-Maltin Kunsill tal-Gvern magħżul mill-Gvernatur.
<b>3</b>	Il-Kostituzzjoni ta' l-1835		tat il-vot lin-nisa Maltin għall-ewwel darba.
<b>4</b>	Il-Kostituzzjoni ta' l-1947		għamlet lil Malta nazzjon indipendenti.
<b>5</b>	Il-Kostituzzjoni ta' l-1964		bidlet lil Malta f'Repubblika.
<b>6</b>	Il-Kostituzzjoni ta' l-1849	<b>1</b>	kienet l-ewwel kostituzzjoni tas- <i>self-government</i> .

(5 x 1 = 5 marki)

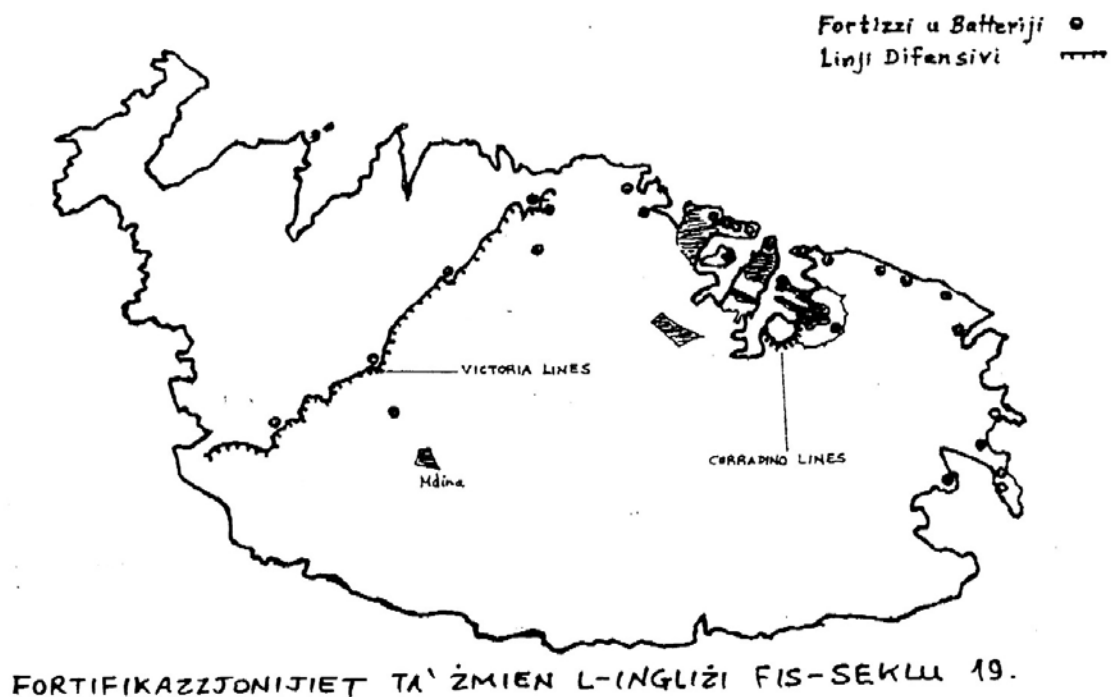
- 1.2 Qiegħed dawn il-ġrajjet skond l-ordni li ġraw fl-istorja billi tniżżel in-numri minn 2 sa 6. L-ewwel waħda hi moghtija bhala eżempju.

1	Il-Kummissjoni Rjali ta' l-1911	<b>1</b>
2	Eluf ta' haddiema jidhlu jahdmu fit-tarzna	
3	Tfaqqa' l-Ewwel Gwerra Dinjija	
4	il-Gvern Inġliż jagħti lill-Maltin kostituzzjoni ġdida	
5	l-elezzjoni ġenerali ta' l-1921	
6	Irvellijiet fil-Belt Valletta u l-qtill ta' erba' rġiel Maltin	

(5 x 1 = 5)

**(Total = 10 marki)**

2.



2.1 **Hares sewwa lejn din il-mappa tal-fortifikazzjonijiet li bnew l-Ingliżi f'Malta.** (Wara wieġeb billi tnizzel VERU jew FALZ fil-kolonna l-vojta tat-tabella).

		<b>VERU jew FALZ</b>
i	L-Ingliżi komplew jużaw il-fortizzi li hallew il-Kavallieri.	
ii	L-Ingliżi ma bnewx fortizzi ġodda f'Malta qabel l-1900.	
iii	L-Ingliżi ma bnewx fortizzi f'Għawdex għax ma qisuhiex importanti għad-difiża tal-gżejjer.	
iv	Il-Forti Rinella nbriet biex thares il-Port il-Kbir.	
v	Qabel l-Ewwel Gwerra Dinjija l-fortizzi bdew jintużaw bħala difiża kontra l-ajruplani.	
vi	Xi fortizzi ta' żmien l-Ingliżi illum huma mikrija lill-privat.	
vii	Dawn il-fortizzi illum m'għandhom l-ebda valur storiku.	
viii	Il- <i>Victoria Lines</i> inbnew madwar il-kosta fit-Tramuntana ta' Malta.	

(8 x 1 = 8 marki)

2.2 Sib mill- mappa żewġ linji difensivi li bnew l-Ingliżi f'Malta.

\_\_\_\_\_ (2)

2.3 Għaliex hafna mill-fortizzi li bnew l-Ingliżi qatt ma ntuzaw fi gwerra proprja?

\_\_\_\_\_ (2)

2.4 Għaliex hafna mill-fortizzi l-Ingliżi bnewhom qrib il-portijiet ewlenin?

\_\_\_\_\_ (2)

2.5 Kif kienu bbenefikaw il-Maltin bil-bini ta' bosta fortizzi mill-Ingliżi?

\_\_\_\_\_ (1)

2.6 (i) Għalfejn baqgħet magħrufa l-aktar il-Fortizza tar-Rinella?

\_\_\_\_\_ (2)

(ii) Liema waħda minn dawn l-ghadqiet volontarji qed jiehu hsieb fortizzi bħal dawn. Aghmel sinjal fil-kaxxa t-tajba:

	Il-Każini tal-Banda
	Il-Kunsill tal-Parroċċa
	Fondazzjoni Wirt Artna
	Il-Caritas (1)

2.7 X'tifhem bil-kelmiet 'bażi navali'?

\_\_\_\_\_ (2)


**(Total = 20 marka)**

3.1 Ma' kull Settur qabbel l-Iżvilupp li seħħ fil-hajja ta' kuljum tal-Maltin f'dawn l-ahhar mitejn sena. Ikteb in-numri minn **1** sa **6** fil-kolonna l-vojtja.

	SETTUR		ŻVILUPP
<b>1</b>	L-iskejjel tal-Gvern		Daħal is-servizz tat-tramm.
<b>2</b>	Il-Port il-Kbir		Twaqqfu l-każini tal-baned.
<b>3</b>	It-trasport pubbliku		Saret il-ligi għall-edukazzjoni primarja obbligatorja.
<b>4</b>	Il-kura tal-mard		Twaqqa' l-Mandraġġ fil-Belt Valletta.
<b>5</b>	Id-divertiment		Instab il-mikrobu li kien iġib il-marda tad-deni rqiq
<b>6</b>	Il-bini tad-djar		Inbena l- <i>breakwater</i> .

(6 x 1 = 6)

3.2 Fl-istampa jidher wiehed mill-mezzi ta' trasport li kien jintuza fis-seklu 19. Qabbel is-sentenzi dwar dawn il-mezzi ta' trasport li dahlu hawn Malta billi tikeb minn numru **1** sa **6**.



Kaless tas-seklu 19.

<b>1</b>	L-omnibus		kien juza l-linji u l- <i>cables</i> ta' l-elettriku.
<b>2</b>	Il-kaless		kien jintuza l-aktar mis-sinjuri.
<b>3</b>	It-tramm		kien qisu karozzin twil migbud b'ziemel.
<b>4</b>	Il-vapur ta' l-art		kienet tahdem bejn Marsamxett u Tas-Sliema.
<b>5</b>	Il-lanca		kellhom ilwien differenti skond ir-rotta.
<b>6</b>	Il-karozza tal-linja		kien jieqaf fi stazzjon f' Birkirkara.

(6 x 1 = 6)

3.3 Ghaliex is-servizz tat-tramm u tal-ferrovja f'Malta kienu spiċċaw għal kollox sa l-1931?

\_\_\_\_\_ (2)

3.4 Ghaliex tahseb li kien hemm biljetti tal-ferrovija ta' l-ewwel u tat-tielet klassi?

\_\_\_\_\_ (2)

3.5 Mnejn kienet titlaq u sa fejn kienet tasal il-ferrovija?

\_\_\_\_\_ (2)

3.6 Ghaliex il-karozza privata saret l-aktar mezz ta trasport popolari fost il-Maltin mit-tmiem tat-Tieni Gwerra sal-lum?

\_\_\_\_\_ (2)

**(Total = 20 marka)**

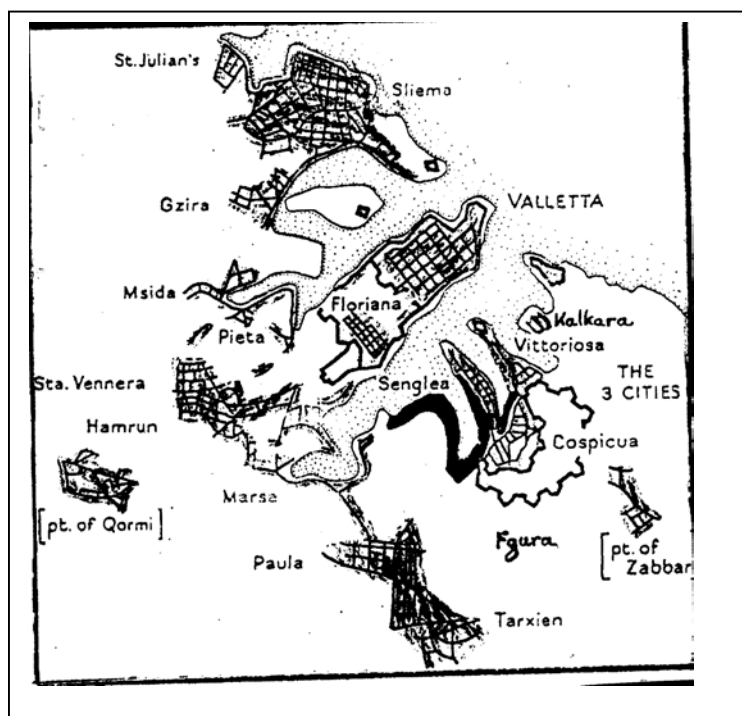
**4. Il-popolazzjoni u l-iżvilupp ta' bliet u rhula.**

4.1 Il-popolazzjoni ta' Malta kibret magħtul iż-żminijiet. Mit-tabella dwar l-ghadd tan-nies f'Malta fi żmien l-Ingliżi u wara, immarka b'ċirku madwar in-numru t-tajjeb għall-popolazzjoni tal-gżejjer Maltin f'dawn is-snin. L-ewwel wiehed huwa mogħti hi mogħtija bħala eżempju.

i	<b>f1-1700</b>	40,000	60,000	80,000	100,000
ii	<b>f1-1800</b>	50,000	100,000	150,000	200,000
iii	<b>f1-1900</b>	100,000	150,000	200,000	250,000
iv	<b>f1-2000</b>	250,000	300,000	350,000	400,000

(3 x 1 = 3)

4.2 Ifli sewwa din il-mappa li turi l-parti tal-portijiet ewlenin għall-habta ta' l-1900 u wiegħeb il-mistoqsijiet marbutin magħha.



(i) F'liema parti ta' Malta kienu jgħixu l-parti l-kbira tal-Maltin fis-seklu 19 u 20? Aghmel sinjal fil-kaxxa t-tajba:

fl-irhula.

fl-inhawi madwar il-Port il-Kbir u Marsamxett.

fin-naħa ta' fuq ta' Malta.

(1)

(ii) Ghaliex kienu jgħixu f'dawk l-inhawi?

(2)

4.3 (i) Semmi żewġ subborgi li nbnew viċin il-portijiet matul is-seklu 19.

\_\_\_\_\_ (2)

(ii) Aghmel sing taht TLIETA minn dawn ix-xogħlijiet li kienu jagħmlu l-aktar dawk in-nies li marru joqogħdu fis-subborgi ta' madwar il-portijiet:

**bdiewa, negozjanti, sajjeda, rghajja, tarznari, bahrin,** (3)

4.4 Xi wħud minn dawk l-irġiel Maltin u Ghawdxin li ma kinux isibu xogħol kien ikollhom jemigraw.

(i) Semmi post wieħed madwar il-Mediterran fejn kienu jemigraw fis-seklu 19:

\_\_\_\_\_ (1)

(ii) Semmi żewġ postijiet fejn il-Maltin kienu jemigraw wara t-Tieni Gwerra.

\_\_\_\_\_ (2)

(iii) Kif kien jgħinhom jemigraw il-Gvern?

\_\_\_\_\_ (2)

(iv) Semmi xi problema li kienu jiltaqghu magħha l-Maltin li jemigraw.

\_\_\_\_\_ (2)

**(Total = 18-il marka)**

## 5. Ix-xogħolijiet u l-industriji Maltin ukoll inbidlu matul iż-żmien

5.1 Immarka ERBGHA ( ✓ ) minn dawn l-industriji li kienu jahdmu bosta Maltin fihom fis-seklu 19.

i	xogħol fil-fabbriki		iv	fil-biedja	
ii	fil-qoton		v	l-industrija tat-turiżmu	
iii	fit-tarzna		vi	xogħol tal-bizzilla	

( 4 x 1 = 4 )

5.2 Minn fost dawn il-Maltin li kienu jghixu madwar 100 sena ilu, għid liema HANSA min dawn taħseb li seta' qal dan il-kliem:

**bidwi,      bahri,      haddiem tat-tarzna,      sid ta' hanut tax-xorb,**  
**avukat,      bennej,      skrivan mal-Gvern,      Malti fl-irvell tas-*Sette Giugno*.**

- (i) 'Imnalla kien hawn il-vapuri u l-bahrin Ingliži. Qatt ma kelli daqshekk kliġenti galantomi.' \_\_\_\_\_ (2)
- (ii) 'Avolja hemm hafna xogħol fil-Port, xorta rrid nibqa' hawn għall-kwiet tal-kampanja.' \_\_\_\_\_ (2)
- (iii) 'L-Ingliži jridu bil-fors idahhlu l-Ingliż fil-Qrati tagħna. Jinhtieg naghmlu xi haġa malajr biex inwaqqfuhom.' \_\_\_\_\_ (2)
- (iv) 'Qatt ma bsart li s-suldati Ingliži kienu se jifthu n-nar fuqna. Dak il-hin twerwirna u nfirex paniku, twerżieq u għajjat kbir fostna.' \_\_\_\_\_ (2)
- (v) 'Issa li spiċċat il-gwerra, nistennew u naraw x'se jiġri minna. Hawn hafna xnihat li se jitkeċċew hafna minna.' \_\_\_\_\_ (2)

**(Total = 14-il marka)**

## **6. Ikteb fit-tul dwar WIEHED minn dawn it-temi:**

6.1 Is-*Sette Giugno* kienet waħda mill-agħar grajjiet li għaddew minnhom il-Maltin taht il-hakma Ingliża. X'taħseb dwar dan?

- 6.2 (i) Kif kienu maqsumin il-Maltin bejn il-partiti politiċi lejn tmien is-seklu 19.  
(ii) Dwar x'hiex kienu jilmentaw l-aktar il-mexxejja Maltin?  
(ii) Xi drittijiet kienu kisbu l-Maltin mingħand l-Ingliži sa tmien is-seklu 19?

6.3 Immaġina li qed tikteb ittra fl-1910 għal habibek li ilu nieqes minn Malta għal xi għoxrin sena u tixtieq tagħtih hjiel tal-bidliet li dahlu f'Malta sa dak iż-żmien. Tista' ssemmi dwar proġetti ta' bini mill-Ingliži, drawwiet, xogħlijiet, mezzi ta' trasport, il-partiti politiċi, il-Kwistjoni tal-Lingwa eċċ.

6.4 Ikteb paragrafu qasir fuq TLIETA minn dawn it-temi:

- (i) il-festa tar-raħal fis-seklu 19.  
(ii) mard infettiv fis-seklu 19.  
(iii) il-*Victoria Lines*  
(iv) il-Mandraġġ fi żmien l-Ingliži  
(v) il-Kwistjoni tal-Lingwa  
(vi) it-tarzna fi żmien l-Ingliži

(6 x 3 = 18-il marka)

**(Total = 18-il marka)**

