

ID-DIRETTORAT GĦAL KWALITÀ U STANDARDS FL-EDUKAZZJONI
Id-Dipartiment tal-Kurrikulu u *eLearning*
It-Taqsima tal-Assessjar Edukattiv

L-Eżamijiet Annwali għall-Iskejjel Primarji 2011

Is-Sitt Sena

L-ISTUDJI SOĊJALI

IL-Hin: Siegħa u Kwart

L-Isem: _____

Il-Klassi: _____

100

Total tal-marka minn 100



1. It-Televixin huwa **MEZZ TA' KOMUNIKAZZJONI**.

Erbgħa (4) minn dawn li ġejjin huma wkoll mezzi ta' komunikazzjoni. Immarka t-tajbin bis-sinjal **X** kif għandek fl-eżempju.

Eżempju	televixin	X
a	mejda	
b	mowbajl	
c	gwardarobba	
d	gazzetti	
e	telefown	
f	nuċċali	
g	ħajt tas-sejjieh	
h	radju	

(2 marki x 4 = 8 marki)

2. Tahseb li dawn li ġejjin qeghdin isahħu l-**KOMUNIKAZZJONI SOĊJALI**?

Ikteb **IVA** jew **LE**.

a	L-għalliema tiddiskuti ħafna mal-istudenti qabel torganizza ħarġa edukattiva.	
b	Is-sindku u l-kunsilliera ma jsimghux dak li jgħid il-poplu, imma jagħmlu dejjem dak li jaqbel lilhom personali.	
c	L-ulied u l-ġenituri jiddiskutu bejniethom kif se jaqsmu x-xogħol.	
d	Il-kelliema fuq il-programm ta' diskussjoni fuq it-televixin imaqdru lil xulxin.	
e	Ir- <i>referee</i> bil-paċenzja kollha spjega lill-plejers għaliex kien ħa dik id-deċiżjoni.	
f	Il- <i>warden</i> waqqaf lil Fredu u spjegalu għaliex għandu jilbes il- <i>helmet</i> meta jsuq ir- <i>rota</i> .	

(2 marki x 6 = 12-il marka)



3. Wieġeb bil-ghajjnuna tal-mappa.

(a) L-ittri A, B u C, flimkien mal-vleġġ, juruna tliet daħliet li minnhom tista' tgħaddi biex tidhol fil-Baħar Mediterran. Ikteb l-ismijiet tat-tliet daħliet fil-kaxxi li ġejjin.



(2 marki x 3 = 6 marki)

(b) Ghaliex il-Baħar Mediterran meta jithammeġ idum hafna biex jindaf?

Immarka t-tajba bis-sinjal **X**.

Il-kelma Mediterran tfisser ilma maħmuġ.	
Fuq ix-xtut tal-Mediterran insibu hafna foresti.	
Fil-Baħar Mediterran jibqa' niezel hafna hmieġ minħabba x-xmajjar.	
Il-Mediterran huwa magħluq, hlief għal tliet fethiet dojoq; allura l-ilma jdum biex jinbidel.	

(3 marki)

(c) Immarka bis-sinjal **X** hames pajjiżi li x-xtut tagħhom imissu mal-Baħar Mediterran:

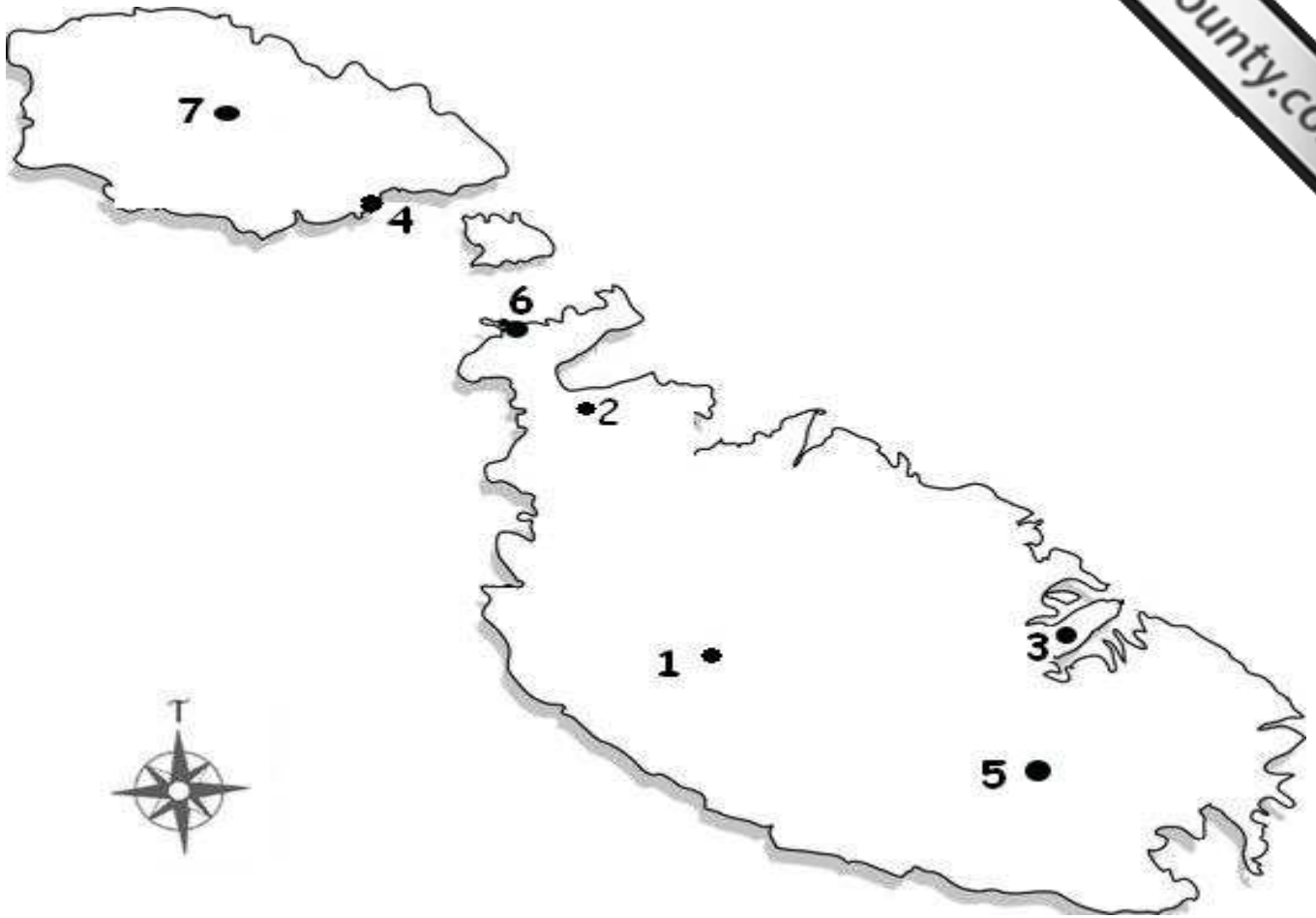
Franza	
Ir-Rumanija	
Il-Libja	
It-Turkija	
Id-Danimarka	

L-Eġittu	
Il-Ġermanja	
It-Tuneżija	
L-Awstrija	
L-Iżvezja	

(marka 1 x 5 = 5 marki)

(Total eżerċizzju 3 = 14-il marka)

4. Wieġeb il-mistoqsijiet bil-ghajnuna ta' din il-mappa tal-Gzejjer Maltin.



(a) Biex immorru minn Malta għal Għawdex naqdbu l-vapur minn fejn hemm in-numru 6 fil-mappa. X'jismu l-port immarkat bin-numru 6?

_____ (2)

(b) Meta mmorru Għawdex bil-baħar, ninzlu fil-Port tal-Imġarr. B'liema numru huwa mmarkat il-Port tal-Imġarr fuq il-mappa?

_____ (2)

(c) B'liema numru huwa mmarkat ir-raħal tal-Mellieħa?

_____ (2)

(d) Imla l-ismijiet tal-bliet jew l-irħula li ġejjin fil-kaxxi skont il-mappa:

Valletta, Victoria Għawdex, L-Ajruport tal-Gudja, Rabat Malta

1	
3	
5	
7	

(2 marki x 4 = 8 marki)

(Total eżerċizzju 4 = 14-il marka)

5. Dan ir-ritratt jurina fdalijiet li jinsabu għall-wiri fil-mużew ta' Għar Dalam. Immarka bis-sinjal **X** it-tweġiba t-tajba:



(a) Il-fdalijiet ta' Għar Dalam juruna li:

f'Malta nbnew tempji megalitiċi	
f'Malta nsibu iktar tempji milli f'Għawdex	
Malta xi darba kienet magħquda man-naħa t'isfel tal-Ewropa	
Malta kienet magħquda mal-Asja	

(2)

(b) Fir-ritratt ta' fuq jidhru:

ċaġħak mill-bajja ta' Marsaxlokk	
għadam tal-fniek selvaġġi	
fossili ta' annimali li llum m'għadhomx jghixu fil-Gżejjer Maltin	
fossili ta' bnedmin preistoriċi	

(2)

(c) Fil-preistorja, il-bniedem:

kien jikteb biss fuq il-ħitan	
ma kienx jaf jikteb	
ma kienx jitellem	
ma kienx jaħdem għelieqi imma jikkaċċja biss	

(2)

(d) L-ewwel djar, jew għerejjex, f'Malta nbnew:

għewwa Haġar Qim, qrib il-Qrendi	
f'Għar Dalam, Birżebbuġa	
fir-Rabat qrib id-Dar Rumana	
fi Skorba qrib l-Imġarr, Malta	

(2)



fdalijiet preistoriċi

(e) Dak kollu li nafu dwar il-preistorja nafuh:

mill-arkeoloġija	
mill-kitba tal-Feniċi	
minn Għar Dalam	
mill-kotba ta' Sir Temi Zammit	

(2)

(Total eżerċizzju 5 = 10 marki)

6. Fir-ritratt tidher xena mit-Tempju Megalitiku tal-Ġgantija.


Wieġeb il-mistoqsijiet:

(a) Qrib liema raħal jinsabu t-Tempji tal-Ġgantija?

_____ (2)

(b) Xi tfisser MEGALITIKU?

_____ (2)



(c) Immarka bis-sinjal **X** żewġ postijiet minn dawn li ġejjin fejn sibna l-fdalijiet ta' tempji megalitici:

Haġar Qim	
Il-Belt Valletta	
Il-Forti Sant'Iermu	

Għar Dalam	
L-Imnajdra	
Għajn Tuffieħa	

(2 marki x 2 = 4 marki)

(d) Id-differenza prinċipali bejn **Tempju** u **Ipoġew** hija li:

Ipoġew insibuh biss fit-Tramuntana ta' Malta filwaqt li t-Tempji nsibuhom Ghawdex ukoll.	
Ipoġew jagħmel parti mill-preistorja filwaqt li tempju huwa ta' Żmien il-Kavallieri.	
Ipoġew huwa mdawwar bil-bini filwaqt li tempju nsibuh qalb l-għelieqi.	
It-tempju huwa mibni fuq l-art, l-Ipoġew huwa mħaffer fil-blat.	

(3)

(e) (i) Immaġina li kont prezenti meta sar l-Ipoġew ta' Hal Saflieni. Kieku kellna nerġghu nagħmluh illum, dan ix-xogħol konna nsibuh: (immarka bis-sinjal **X**)

(2)

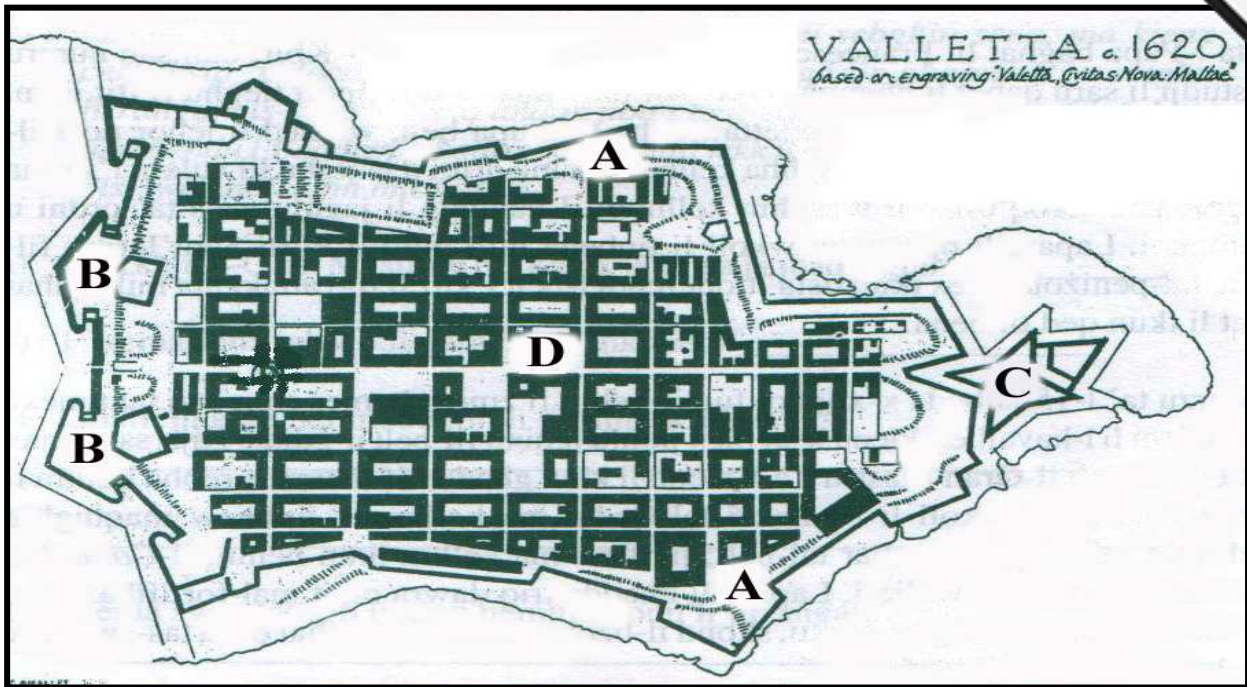
a	eħfef	
b	itqal	

(ii) Agħti raġuni waħda għaliex.

_____ (4)

(Total eżercizzju 6 = 17-il marka)

7. Din hija pjanta tal-Belt Valletta.



Wieġeb billi timla l-vojt jew taqta' sing taht it-tajbin:

- (a) Fejn hemm l-ittra **C** nsibu (l-Kastell Sant' Anġlu, l-Forti Sant' Iermu, il-Forti San Mikiel, l-Isla). (1)
- (b) Fejn hemm l-ittra **D**, jiġifieri fil-qalba tal-Belt, insibu (l-Forti Sant' Iermu, s-swar, l-Bieb Prinċipali tal-Belt, l-Palazz tal-Gran Mastri). (1)
- (c) L-ittra **B** turina fejn hemm (il-Forti Sant' Iermu, il-Bieb Prinċipali tal-Belt, il-Palazz tal-Gran Mastri, il-Knisja ta' San Ġwann). (1)
- (d) Min għamel il-pjanta tal-Belt Valletta? _____ (2)
- (e) Min għamel il-pjanti tal-Knisja ta' San Ġwann, tal-Bereġ u tal-Palazz? _____ (2)
- (f) L-ittra **A** turina triq li ddu mal-Belt Valletta kollha. X'kien l-iskop ta' din it-triq? _____ (3)
- (g) Aġhti raġuni waħda għaliex inbniet il-Belt Valletta. _____ (3)

(Total eżercizzju 7 = 13-il marka)

8. Wieġeb il-mistoqsijiet li ġejjin billi timmarka t-tweġiba t-tajba bis-sinjal X.

(a) Mill-iskart nistgħu naghmlu prodotti tajbin jekk:

narmu iktar fil-baħar	
taghmel hafna xita	
nisseparaw l-iskart fil- <i>Bring-in-Sites</i>	
nużaw iktar skips	

(2)



(b) Jekk nirriċiklaw il-karti li niġbru permezz tal-*Bring-in-Sites*

inkunu qed nibzġu għall-foresti u s-siġar	
inkunu qed noholqu problema kbira lill- <i>Wasteserv</i>	
ikollna festi isbaħ fis-sajf	
ikollna iktar kotba x'naqraw	

(2)

(c) Fil-*Bring-in-Sites*:

ma nistgħux narmu kartonċin	
m'għandniex narmu gazzetti u ġurnali minhabba l-linka li jkollhom	
nistgħu narmu annimali mejtin	
m'għandniex narmu batteriji użati	

(2)

(Total eżerċizzju 8 = 6 marki)

9. Ghid għaliex l-arja fil-kampanja ġeneralment taghmlilna gid għal saħhitna iktar mill-arja tal-bliet.

(3)

10. Semmi mod kif nistgħu nnaqqsu t-tniġġis tal-arja li niehdu.

(3)

TMIEM IL-KARTA