


ID-DIRETTORAT GĦAL KWALITÀ U STANDARDS FL-EDUKAZZJONI
Id-Dipartiment tal-Kurrikulu u *eLearning*
It-Taqsima tal-Assessjar Edukattiv
L-Eżamijiet Annwali għall-Iskejjel Primarji 2011

Ir-Raba' Sena L-ISTUDJI SOĊJALI Il-Ħin: Siegħa u kwart

L-Isem: _____

Il-Klassi: _____

IT-TOTAL TAL-MARKI



AQRA SEWWA DAN LI ĠEJ:

- Imla ismek u l-klassi.
- Qabel tikteb it-twegiba, ara li tkun fhimt sewwa l-mistoqsija.
- Jekk ma tkunx taf tagħti xi twegiba, ħalliha vojta u kompli l-oħrajn, imbagħad erġa' ippruvaha fl-aħħar.
- Jekk tiegħu żball, ingassah pulit u erġa' ikteb.
- Meta tlesti, erġa' ara l-karta kollha mill-bidu biex tirranġa xi żbalji li jista' jkollok u timla dak li ħallejt barra.

Eżerċizzju A: Wieġeb billi taqta' sing taħt it-tajbin.

1. Bil-kelma **DRITT** nifhmu:
 - (a) dak li nistenna mingħand ħaddieħor
 - (b) dak li għandi nagħmel jien lil ħaddieħor
 - (c) dak li nistenna mingħand l-għalliema tiegħi
2. Bil-kelma **DMIR** nifhmu:
 - (a) dak li nistenna mingħand ħaddieħor
 - (b) dak li għandi nagħmel jien
 - (c) dak li nistenna mingħand l-għalliema tiegħi



(2 marki x 2 = 4 marki)

Eżerċizzju B: Aqra.

Dawn li ġejjin huma xi affarijiet li għamel Ġużi lbieraħ. Maġenb kull waħda ikteb **DRITT** jew **DMIR**. L-ewwel waħda lesta bħala eżempju.

		DRITT jew DMIR?
Eż.	<i>Ġużi obda minn ommu u għall-kolazzjoni ħa ċereali bil-ħalib minflok pasta tal-ħelu.</i>	DMIR
1	Għen lil ommu tipprepara l-lunch għall-iskola.	
2	Il-ġenituri ta' Ġużi pprovdewlu lbies xieraq għall-iskola.	
3	L-iskola ħa lezzjonijiet tajba fil-Matematika u l-Ingliz.	
4	Meta kiel il-ħelu ma remiex il-karta fl-art imma fil-bin.	
5	Wara l-iskola mar iżur lin-nanna u marrilha qadja.	
6	Għamel il-homework kollu li tatu l-għalliema.	
7	Mar jagħmel qadja oħra lil ommu.	
8	Minbarra ħin għall-homework sab ukoll ħin għall-mistrieħ.	

(marka 1 x 8 = 8 marki)

Eżerċizzju C: Min jien?

1	Inzomm l-ordni fil-pajjiż; meta xi ħadd jikser il-liġi, jiena nressqu quddiem il-qorti.	
2	Nagħti kura lill-morda fl-isptar, f'xi klinika u fid-djar stess.	
3	Jiena kap ta' partit politiku u kap tal-gvern Malti.	
4	Jiena l-mexxej tal-Knisja Kattolika fid-dinja.	
5	Jiena mmexxi l-iskola primarja tar-raħal.	

(2 marki x 5 = 10 marki)

Eżerċizzju D: Liema mezz ta' komunikazzjoni nista' nuża?

Imla l-kaxxi vojta bil-mezz ta' komunikazzjoni li jixraq l-iktar. Uża l-kliem mogħti. Kull kelma tintuża darba biss.

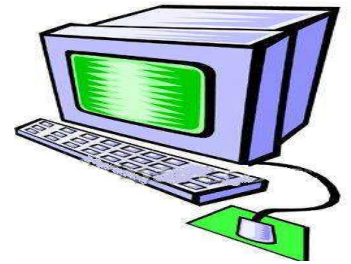


radju, gazzetta, posta, internet, mowbajl

1	Nixtieq naqra l-aħbarijiet li għaw ilbieraħ.	
2	Nixtieq insib informazzjoni dwar id-deżert tas-Sahara fl-Afrika.	
3	Nixtieq navża malajr lil ommi li se ndum ftit ma nasal id-dar illejla.	
4	Qiegħed fil-karozza u nixtieq nisma' ftit mużika.	
5	Nixtieq nibgħat kartolina tal-Milied liz-ziju li joqgħod il-Kanada.	

(marka 2 x 5 = 10 marki)

Eżerċizzju E: Kif tista' tkun isbaħ ħajjitna permezz tal-mezzi ta' komunikazzjoni?



(3 marki)

Eżerċizzju F: Ma' liema festa hi marbuta din id-drawwa?

	DRAWWA	FESTA
1	Jinħarqu l-murtali waqt il-ħruġ u waqt id-dhul tal-istatwa mill-knisja.	
2	Jintramaw il-presepji u jiżzejnu t-twieqi bid-dwal.	
3	Isiru l-figolli u jitqassmu bħala rigali.	
4	Ħafna nies imorru l-Buskett jisimgħu l-għana tradizzjonali Malti.	

(2 marki x 4 = 8 marki)

Eżerċizzju G: Qabbel billi tikteb in-numri minn 1 sa 5 fil-kaxxi l-vojtta:

1	Il-Konti Ruġġieru kien	kienu ta' reliġjon Musulmana
2	Meta l-Konti Ruġġieru ġie Malta	kienu ġellieda tajba
3	In-Normanni ġew Malta	il-kap tan-Normanni li rebħu lil Malta
4	L-Għarab f'Malta	kienu jaħkmu l-Għarab
5	Is-suldati Normanni	minn Sqallija

(marka 1 x = 5 marki)

Eżercizzju H:

Ħdejn kull waħda minn dawn id-drawwiet li ssib hawn isfel, ikteb **ANTIK** jew **MODERN**, skont jekk hijiex drawwa ta' dari jew tal-lum.



		ANTIK jew MODERN ?
1	Ir-raħħal jigi jbiegħ il-ħalib bieb bieb.	
2	Filgħaxija joqogħdu jaraw it-televixin.	
3	Imorru jaraw film fiċ-ċinema.	
4	It-tfal jilagħbu fuq il-kompjuter.	
5	Jiltaqgħu fuq iz-zuntier tal-knisja u joqogħdu jgħannu.	
6	Isegwu t-tlielaq tal-karozzi fuq it-televixin.	
7	Immorru naraw logħba futbol barra minn Malta.	
8	It-tfal jgħaddu ħinijiet twal jilagħbu l-passju.	

(marka 1 x 8 = 8 marki)

Eżercizzju I: Ħares sew lejn dan ir-rapport tat-temp:

TEMP: Imsaħħab bil-ħalbiet tax-xita.
RIĦ: Moderat għal qawwi mill-Majjistral
TEMPERATURA: 11-il grad Celsius



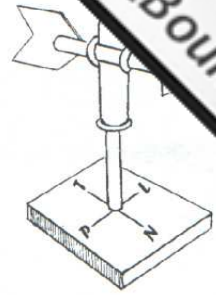
Aqta' sing taħt it-TAJBA:

1. Ir-rapport tat-temp jurina li t-temp għal-lum se jkun (kiesaħ, xemxi, sħun, bnazzi).
2. X'hin noħroġ barra se nilbes (*T-shirt*, xorts, ġakketta, sandli).
3. Ix-xahar huwa (Awwissu, Ġunju, Lulju, Frar).
4. Fis-sitta ta' filgħaxija se jkun (ġa dalam, għadu d-dawl, għadu qiegħed jidlam, għadu qiegħed jisbaħ).

(2 marki x 4 = 8 marki)

Eżerċizzju J: Imla l-vojt bl-isem tal-istrument.

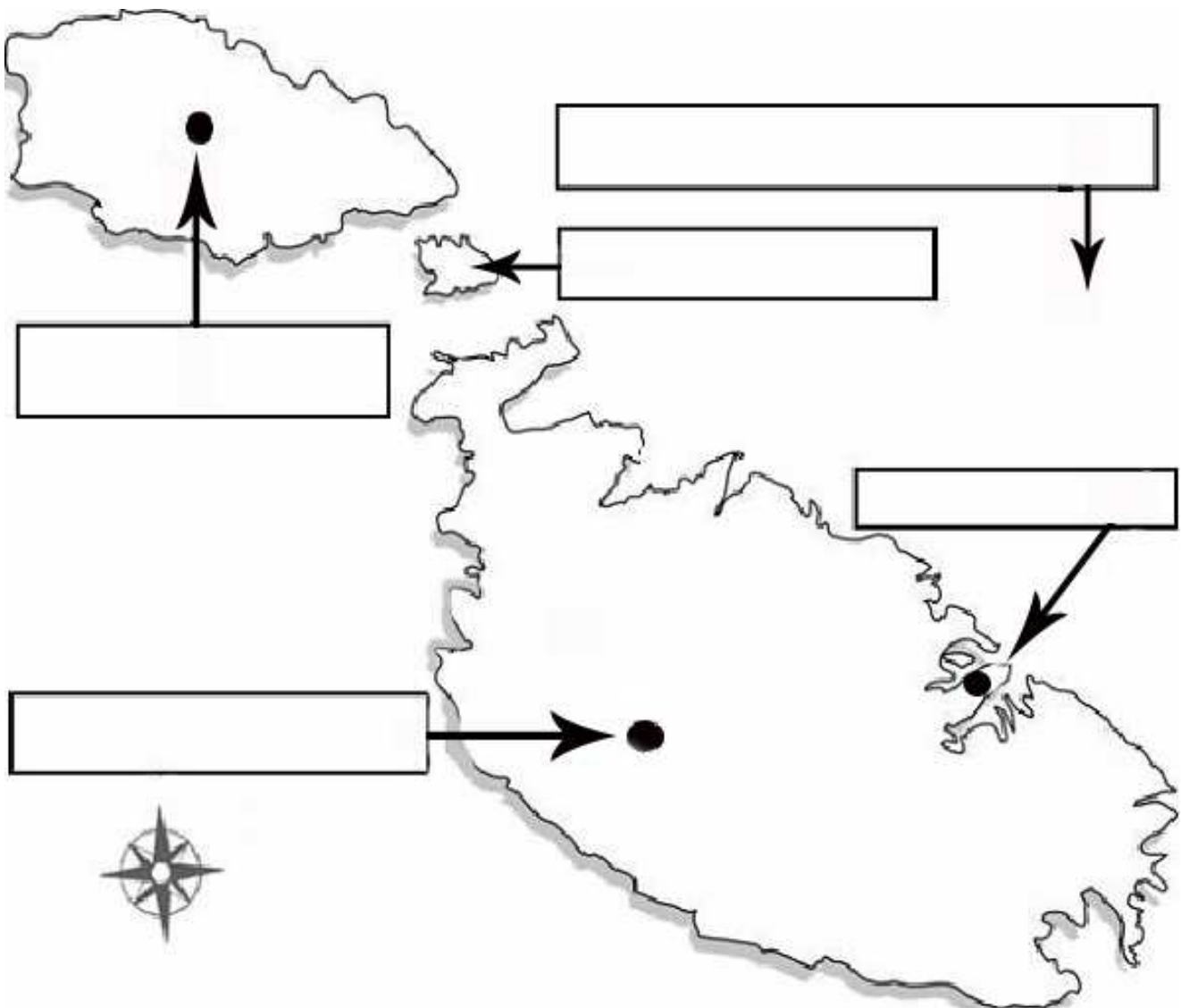
1. _____ juri d-direzzjoni tar-riĥ.
2. _____ jkejjel il-qawwa tar-riĥ.
3. _____ juri kemm niżlet xita.
4. _____ juri kemm hi sħuna jew kiesħa l-arja fi gradi Celsius.



(2 marki x 4 = 8 marki)

Eżerċizzju K: Imla dawn li ġejjin fil-kaxxi tal-mappa:

Il-Baħar Mediterran, L-Imdina, Valletta, Victoria, Kemmuna



(2 marki x 5 = 10 marki)

Eżercizzju L: Wieġeb billi tikteb VERU jew FALZ.

		VERU / FALZ
1	Biex insir naf fejn hi Birżebbuġa għandi bżonn mappa tal-Ewropa.	
2	Nista' nimmarka l-Port ta' Marsaxlokk fuq mappa ta' Malta.	
3	Għandi bżonn pjanta tal-Awstralja biex nara fejn hi Ruma.	
4	Użajt mappa tad-dinja biex tghallimt il-kontinenti.	
5	F'mappa żgħira tal-Ewropa ssib l-irhula ta' Malta immarkati.	
6	Jekk insiefer Ruma nista' niġi bżonn mappa tal-Italja.	
7	Kelli bżonn mappa ta' Franza biex nara fejn hu l-ajruport ta' Pariġi.	
8	Biex issib triq f'xi belt jew raħal għandek bżonn mappa tad-dinja.	
9	Mappa tad-dinja ma turikx it-toroq ta' kull pajjiż.	
10	Biex tara kif inhi mqassma l-iskola għandek bżonn pjanta tal-iskola.	

(marka 1 x 10 = 10 marki)

Eżercizzju M: Hares lejn il-kliem li hemm fil-kaxxa, imbagħad wieġeb billi timmarka t-tajbin bis-sinjal X fil-kaxxi:

1. Dan huwa l-kliem:

tal-Innu Malti	
ta' innu ta' skola	
ta' każin tal-festa	
tal-Innu Taljan	

2. Dan il-kliem kitbu:

Dun Mikiel Xerri	
Dun Karm Psaila	
Monsinjur Anġlu Agius	
l-Arcisqof ta' Malta	

3. Il-kliem huwa miktub f'forma ta':

stilla	
komponent	
poeżija	
quddiesa	

4. 'Din l-art ħelwa' qed tirreferi għal:

art fejn jikbru ħafna sigar	
Malta	
pajjiż fl-Amerika	
art fejn jinħadem ħafna ħelu għall-ikel	

(2 marki x 4 = 8 marki)

IT-TMIEM TAL-KARTA