

EŻAMIJET ANNWALI TA' L-ISKOLA PRIMARJA 2008

Taqsimata ta' l-Assessjar Edukattiv – Diviżjoni ta' l-Edukazzjoni

IS-SITT SENA

STUDJI SOĊJALI

HIN : Siegha

Isem : _____

Klassi : _____

TOTAL TAL-MARKI

A. Aqta' sing taht il-kelma jew il-frazi t-tajba.

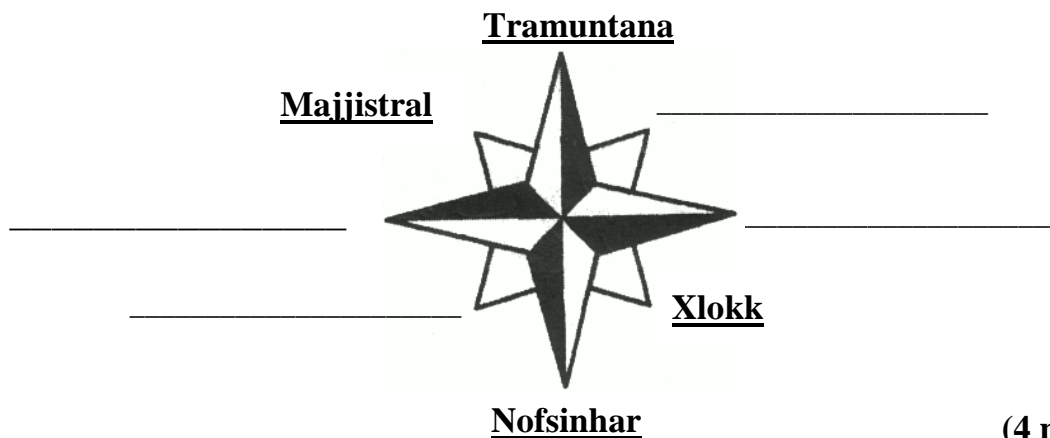
1. Ritratti u tpingijiet ta' fossili li nstabu fil-Gzejjer Maltin issibhom mill-Internet bl-użu (tar-radju, tat-televixin, tal-kompjuter, tat-telefon).
2. It-tifrik, it-tkissir u t-tmermir ta' l-art fil-gzejjer Maltin jista' jsir bis-saħħa tal-mewġ tal-baħar u b'xi (terrimot, nixfa, uragan, vulkan).
3. Il-ġebel għall-bini tal-Belt Valletta nqata' minn barriera (fis-Siġġiewi, fil-Qrendi, f'Kerċem, fil-Mandraġġ).
4. Il-Belt Valletta ssaħħet bhala fortizza bil-bini (tas-swar, tal-kerrejja, tal-palazzi, tal-monumenti).
5. It-toroq tal-Belt Valletta huma (mserrpin, mħarbtin, dritti, mghawġin).
6. Il-kavallieri taw spinta lill-kultura fil-belt il-ġdida bil-bini (tad-djar privati, tat-teatru, ta' l-infermerija, ta' l-ifran).

(6 marki)

B. Ir-Rih

B (i) Din hi l-Warda ta' l-Irjeh.

Ikteb l-ismijiet tad-direzzjoni tar-rih li hawn nieqsa.





(4 marki)

B (ii) Imla l-vojt.

Nużaw _____ biex inkunu nafu l-qawwa tar-rih. Dan l-istrument ikun fih bħal kikkri li jduru bil-mod meta jkun hemm _____ helwa u jduru _____ hafna meta r-rih ikun qawwi.

(3 marki)
**B (iii) Kompl imla t-tabella bil-kliem jew bin-numri t'hawn taht.
L-ewwel wahda lesta.**

siġar jitqacçtu	20	qawwi hafna
55	bandiera ma tiçcaqlaqx	moderat

Qawwa tar-rih (kilometri fis-siegħa)	Rih	X'Tara
0	kalm	<u>bandiera ma tiçcaqlaqx</u>
_____	ħafif	
36	_____	trab itir
_____	qawwi	
62	_____	_____

(5 marki)

Ċ. Il-blat Malti

Ċ (i) Ikteb x'jissejhu.

1.	materjal bhal frak, ramel, ċagħaq, hama u tajn li ngarr mix-xmajjar u tpoġġa fil-qiegh tal-baħar	_____
2.	il-blat ġdid li fforma minn materjal li ngarr mix-xmajjar u qxur ta' ġhadd kbir ta' hlejjaq tal-baħar	blat _____

(2 marki)


Ċ (ii) Wiegeb.

1. X'inhuma fossili?

2. Ikteb l-ismijiet ta' ŻEWĠ fossili komuni fil-blat Malti.

(3 marki)

**Ċ (iii) It-tpiġija t'hawn taht turi l-hames saffi tal-blat ta' Malta.
Ikteb l-ismijiet tas-saff tal-blat.
Tnejn minnhom lesti.**



(3 marki)

Ċ (iv) Aqra t-tagħrif dwar is-saffi differenti tal-blat Malti.
Ikteb l-isem tas-saff ta' blat.
L-ewwel wiehed lest.



Blat ħamrani
Hu blat li jitfarrak malajr.
Jintuża biex jinbnew il-ħitan tas-sejjieħ.

Ġebbla s-Safra

Blat bajdani jagħti fl-isfar
Hu blat artab iżda b' saħħtu biżżejjed biex nibnu bih.
Jintuża biex isiru knaten għall-bini u xaħx.

Blat bajdani fil-griz
Hu blat iebes ħafna.
Minnu jsir iż-żrar u r-ramel.

Blat griz jew ikhal skur
Hu blat artab.
Minnu jsiru oġġetti tal-fuħħar bħal vażuni u pasturi.

Blat bajdani fil-griz
Hu blat iebes ħafna u jiflaħ saħħa kbira.
Minnu jsir il-gir.

(4 marki)

D. Forom ta' l-art

D (i) Qabbel billi tikteb numru fil-kaxxa l-vojta.

L-ewwel wiehed lest.

1	Dahljet mal-kosta li ffurmaw bil-mewg tal-baħar u mtlew bir-ramel		Għoljiet
2	Quċcati dojq u oħrajn ċatti u wesgħin		Widien
3	Blat għoli ħafna li jinżel dritt 'l isfel għall-baħar		Portijiet
4	Artijiet fondi, niexfa fis-sajf u mimlijin ilma fix-xitwa	1	Bajjiet
5	Xquq fil-blat li mal-medda taż-żmien kibru u saru fondi bl-ilma tal-baħar jew tax-xita		Irdumijiet
6	Dahljet kennija għad-dgħajjes u l-vapuri		Gherien

(5 marki)

D (ii) Aghti isem iehor ta':

1	Wied	Wied il-Kbir, _____
2	Irdum	Ta' Ċenċ, _____
3	Għolja	Tal-Mellieħa, _____
4	Bajja	Għajn Tuffieħa, _____
5	Għar	Għar Ħasan, _____

(5 marki)



E. Komunikazzjoni



E (i) Wieġeb

1. Kif nistgħu nwasslu messaġġi lil xulxin?
Ikteb **TLIET** eżempji.

a) _____ b) _____ c) _____

2. It-televisxin, ir-radju u l-gazzetti huma mezzi ta' komunikazzjoni soċjali.
Dawn kif qed isahħu d-demokrazija fil-pajjiż?
Ikteb **ŻEWĠ** eżempji.



a) _____

b) _____

3. X'għandhom jagħmlu l-membri ta' grupp biex il-komunikazzjoni waqt diskussjoni tkun effettiva?

a) _____

b) _____

4. Għaliex għandek taċċetta n-nuqqas ta' qbil waqt diskussjoni fi grupp?

(8 marki)

F. Aqra dwar l-Assedju l-Kbir.

Fi żmien l-Assedju l-Kbir, La Vallette ried jibbaża d-difiża ta' Malta fl-Isla, fil-Birgu u fuq l-gholja Xiberras.

L-Imdina u ċ-Ċittadella f'Għawdex kienu mdawra bis-swar imma kienu dgħajfa wisq għax kienu 'l bogħod mill-bqija tad-difiża ta' l-Ordni.



F (i) Wieġeb.

1. Liema fortifikazzjonijiet kienu jharsu l-ibliet ta' l-Isla u l-Birgu?

a) Il-belt ta' l-**Isla** kienet imharsa mill- _____

b) Il-belt tal-**Birgu** kienet imharsa mill- _____

2. Xi żvantagġ kellu l-Forti Sant'Iermu? _____

(3 marki)

F (ii) Aghmel (✓) taht VERU jew FALZ.

		VERU	FALZ
1	Il-flotta Torka thalliet f' Marsamxett.	✓	
2	It-Torok għamlu l-kamp tagħhom il-Mosta.		
3	It-Torok bdew l-attakk tagħhom fuq Sant'Iermu.		
4	Wara, it-Torok attakkaw il-Birgu u l-fortizza ta' San Mikiel.		
5	It-Torok rebħu l-fortizzi kollha.		
6	It-Torok telqu minn Malta meta waslet l-ghajjnuna minn barra.		

(5 marki)

F (iii) Semmi:

ŻEWĠ raġunijiet għala t-Torok riedu jattakkaw lil Malta.

a) _____

b) _____

TLIET diffikultajiet li kellhom it-Torok waqt l-Assedju.

a) _____

b) _____

ċ) _____

(5 marki)

Ġ. Aqra dwar il-Bini ta' Belt Ġdida.

Il-Gran Mastru La Vallette ried jibni belt ġdida fuq l-ġholja Xiberras. Hu talab l-ġhajnuna tal-Papa Piju V. Dan il-Papa baġhat perit biex ifassal il-pjanta tal-belt il-ġdida. F'Marzu ta' l-1566 beda x-xogħol fuq il-belt. Fi żmien ħames snin il-kavallieri marru jgħixu fiha. Din il-belt issemmiet Valletta f'ġieħ il-Gran Mastru li kien għadu kif mexxa r-rebħa kontra t-Torok.

Ġ (i) Wieġeb.

1. Min kien il-perit li fassal il-pjanta tal-belt il-ġdida? _____

2. Min kien il-perit Malti li fassal ħafna mill-bini li hemm fil-belt Valletta?

3. Ikteb **ŻEWĠ** ragunijiet għala nbriet il-belt Valletta?

a) _____

b) _____

4. F'liema bini kienu jgħixu l-kavallieri ta' lingwi differenti? _____

(7 marki)

Ġ (ii) Ikteb x'insibu ġol-bini taht ir-ritratt.

L-ewwel waħda lesta.

artali mnaqqxa	armerija tal-kavallieri	taqsima għall-ilsiera
sett t'arazzi famużi	kamra tesa' elfejn sodda	pitturi ta' nies famużi



Il-palazz tal-Gran Mastri

sett t'arazzi famużi



Il-Kon-Katidral ta' San Ġwann




Is-Sagra Infermerija

(5 marki)

G. II-Biedja

**G (i) Ikteb ERBA' ismijiet t'animali li jitrabbew mill-bdiewa fil-kolonna:
TROBBIJA TAL-BHEJJEM**

**(ii) Ikteb ERBA' ismijiet ta' frott jew hxejjex li l-bdiewa jkabbru fil-kolonna:
XOGHOL TAR-RABA'**



IŻ-ŻEWĠ TAQSIMIET EWLENIN TAL-BIEDJA	
TROBBIJA TAL-BHEJJEM	XOGHOL TAR-RABA'
Eżempju: <u>hnieżer</u>	Eżempju: <u>basal</u>
_____	_____
_____	_____
_____	_____
_____	_____

(8 marki)

G (ii) Semmi HAMES problemi fix-xoghol tal-bidwi.

Eżempju: Hamrija fqira

a) _____

b) _____

ċ) _____

d) _____

e) _____

(5 marki)

