

EŻAMIJIET ANNWALI TA' L-ISKOLA PRIMARJA 2008
DIRETTORAT GĦAL KWALITÀ U STANDARDS FL-EDUKAZZJONI
Taqsimat ta' l-Assessjar Edukattiv

IR-RABA' SENA

STUDJI SOĊJALI

HIN: Siegha

Isem _____

Klassi _____

TOTAL TAL-MARKI

AQRA SEWWA DAN LI ĠEJ:

- Imla ismek u l-klassi.
TAQLIBX IL-PAĠNA QABEL JGHIDULEK.
- Qabel tikteb it-twegiba, ara li tkun fhimt sewwa l-mistoqsija.
- Jekk ma tkunx taf tagħti xi twegiba, halliha vojta u kompli l-oħrajn, imbagħad erga' ippruvaha fl-aħhar.
- Jekk tiehu żball, ingassah pulit u erga' ikteb.
- Meta tlesti, erga' ara l-karta kollha mill-bidu biex tirrangja xi żbalji li jista' jkollok u timla dak li hallejt barra.




A (i) Nilbsu hwejjeg skond it-temp.

Kif inhu t-temp?

Ikteb il-kelma taht l-istampa li taqbel.

shun	kiesah	bix-xita	xemxi
------	--------	----------	-------









(4 marki)

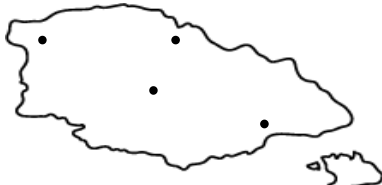
A (ii) Ikteb VERU jew FALZ dwar tibdil li jsehh madwarna.

1. Il-vaganzi tal-Ghid ingawduhom fil-harifa. _____
2. Is-sena skolastika tibda fil-harifa. _____
3. Fir-rebbiegħa jidlam kmieni u l-jum jibda jiqsar. _____
4. Il-vaganzi tas-sajf huma itwal minn dawk tal-Milied. _____
5. Fis-sajf il-lejl jitwal u jdum ma jisbah. _____
6. Is-sena skolastika tispicča fix-xitwa. _____

(6 marki)

- B (i) 1. Pingi ċirku ○ madwar it-tikka • li turi fejn tinsab il-belt ewlenija:**
a) t’Għawdex
b) ta’ Malta

2. Ikteb l-isem tal-belt fil-kaxxa t-tajba.



a) Il-belt ewlenija t’Għawdex hi _____.

b) Il-belt ewlenija ta’ Malta hi _____.



(4 marki)

- B (ii) Qabbel il-belt kapitali mal-pajjiż bi vlegġa.**
Wahda lesta.

Ruma

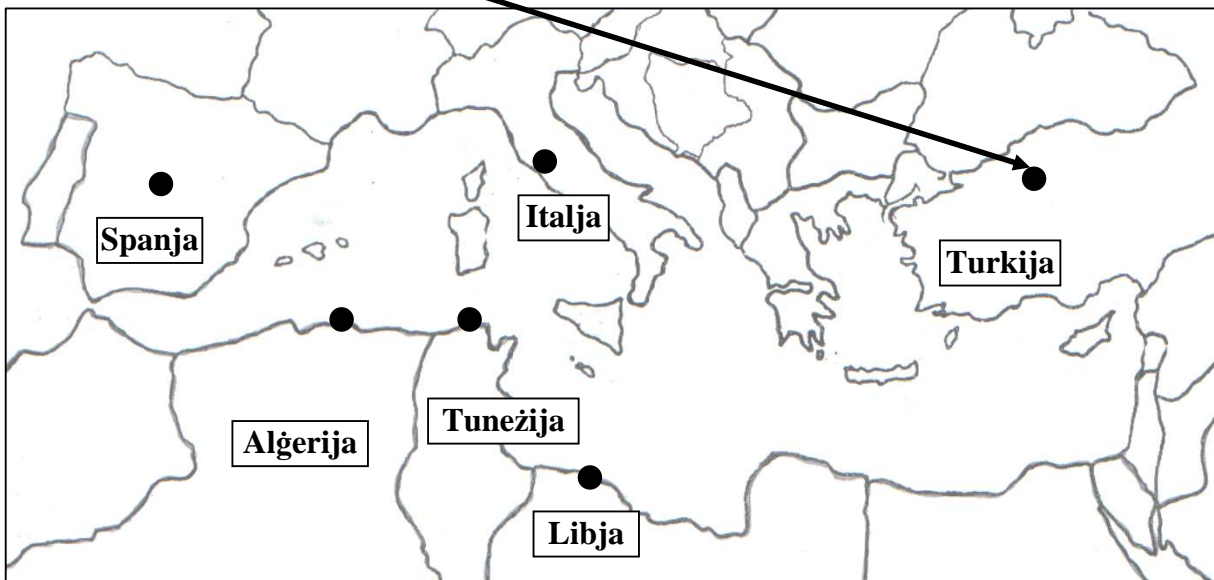
Ankara

Tuniż

Algier

Tripli

Madrid



(5 marki)

Ċ (i) Hares sewwa lejn dawn l-istazzjonijiet ċentrali tat-trasport. Ikteb l-isem it-tajjeb taht kull stampa.

Venda	Ajruport	Freeport	Stazzjon tat-Tren
-------	----------	----------	-------------------



(4 marki)

Ċ (ii) Wiegheb.



1. X'kular jixghel meta rrid nistenna biex naqsam? _____

2. X'kular jixghel meta nkun nista' naqsam? _____

(2 marki)

Ċ (iii) Fit-toroq naraw strixxi bojod u suwed. Għalfejn qeghdin dawn?

(marka)

Ċ (iv) Min jiġi fit-triq biex jagħti xi servizz? Ikteb ERBA' haddiema.

1. _____ 2. _____
3. _____ 4. _____

(4 marki)

Ċ (v) Imla l-vojt

1. Fit-triq insibu d-dar tagħna u d-djar tal-_____.
2. L-ismijiet tat-toroq ifakkruna fi _____ mill-istorja u _____ tal-lokalità.

(3 marki)

D. Aqra

Fil-ħajja ta' kuljum aħna l-bnedmin inħossu l-bżonn li nikkomunikaw bejni u bejni. Meta nikkomunikaw tajjeb, niftiehm u aħjar. Aħna nikkomunikaw b' modi differenti.

D (i) Kif tista' tikkomunika?

Ikteb il-mod ta' komunikazzjoni taħt l-istampa.

tibgħat email	bis-sinjali	tisma' aħbar	titkellem
---------------	-------------	--------------	-----------



(4 marki)

D (ii) Imla l-vojt.

1. Waqt diskussjoni fi grupp għandi d-**dritt** li _____ l-opinjoni tiegħi.
2. Waqt diskussjoni fi grupp għandi d-**dmir** li _____ lill-oħrajn jitkellmu.

(2 marki)


D (iii) Ikteb kif dawn il-mezzi ta' komunikazzjoni jistghu jressquna qrib nies li jghixu f'artijiet ohra.

It-telefon: _____

Il-gazzetti: _____

(2 marki)

E. Dawn huma eżempji ta' xi passatempji.



il-kaçça	it-tlielaq tal-karozzi	is-sajd	it-televisin
iż-żfin	il-logħob fuq il-kompjuter	iç-çinema	it-tiġrijiet taż-żwiemel

1. Mit-tabella ikteb l-ERBA' passatempji antiki li għadhom popolari sal-lum.

- a) _____
- b) _____
- ç) _____
- d) _____

(4 marki)

2. Mit-tabella ikteb l-ERBA' passatempji moderni.

- a) _____
- b) _____
- ç) _____
- d) _____

(4 marki)

F (i) Festi u Drawwiet

Qabbel id-DRAWWA mal-FESTA billi tikteb numru fil-kaxxa l-vojt.

	FESTA		DRAWWA
1	il-Milied		il-figolla
2	l-Ghid		il-ħarga sal-Buskett
3	l-Imnarja		il-qubbajt
4	Santa Marija		il-presepju

(4 marki)

F (ii) Drawwiet ohra huma:

1. Il-_____ bil-Bambin Ġesù mill-membri tal-M.U.S.E.U.M fi żmien il-Milied.
2. Il-_____ bl-istatwa ta' Kristu Rxoxt fl-Ghid.
3. L-_____ mad-daqq tal-kitarri fl-Imnarja.
4. Il-_____ tan-nar waqt il-festa ta' Santa Marija.

(4 marki)

Ġ. Dahhal dan il-kliem fil-vojt fis-sentenzi dwar il-pajsagġ.

arja	xita	ħajja	algi	xaghri
kesħa	gholja	silġ	baxxa	ħamrija

1. Deżert huwa post _____. Ftit li xejn tinzel _____ u għalhekk hemm ftit _____.
2. F' deżert kiesaħ it-temperatura tkun _____ ħafna u tkun ħafna _____. Fix-xitwa jinzel ħafna _____.
3. F' deżert shun it-temperatura tkun _____ matul il-jum imma bil-lejl l-_____ tiksah.
4. Fid-deżert insibu xi likeni u _____ li jikbru fuq _____ fqira.

(10 marki)

G. Il-Miġja tal-Konti Ruġġieru f'Malta

G (i) Aqta' sing taht il-kelma jew il-frazi t-TAJBA.

1. In-Normanni ġejjin min-Normandija li tiġi fit-Tramuntana ta' (l-Italja, Franza, Spanja, Sqallija).
2. Wara l-miġja tal-Konti Ruġġieru, l-Għarab (baqgħu jgħixu fil-gzejjer Maltin, baqgħu jmexxu l-gzejjer Maltin, telqu mill-gzejjer Maltin, harbu lejn pajjiżhom).
3. In-Normanni reġgħu taw spinta (lill-kultura, lill-kummerċ, lis-saħħa, lis-swar).
4. In-Normanni žiedu l-kuntatti ma' (Ċipru, l-Ewropa, Rodi, l-Afrika).

(4 marki)

G (ii) Wieġeb

1. Liema kien it-twemmin tan-Normanni? _____

(marka)

2. X'sar il-Konti Ruġġieru wara li n-Normanni rebhu l-gzejjer Maltin?

(marka)

3. X'kien il-ftehim bejn l-Għarab u l-Konti Ruġġieru?

(2 marki)

4. Għala n-Normanni ġew biex jieħdu lil Malta taht idejhom?

(2 marki)



GH. Aqra s-sentenzi.

Imla l-vojt b'dawn il-kliem:

rwol	soċjali	Ewropew	fehmiel
lingwi	familja	jiddiskutu	drawwiel

Malta għandha nies li huma Membri tal-Parlament _____.

Membri tal-parlament għandu _____ importanti għax jirrappreżenta liċ-ċittadini ta' pajjiżu.



Fil-parlament, il-membri

_____ ħafna liġijiet.

Xi liġijiet huma dwar il-harsien ta'

l-ambjent, is-saħħa u d-drittijiet

tal-konsumatur.

L-Unjoni Ewropea holqot ambjent _____

għdid għall-gzejjer Maltin.

Il-gzejjer Maltin jagħmlu parti minn _____

akbar fejn il-pajjiżi membri għandhom _____,

logħob, _____ u _____ differenti.



(8 marki)

H. Ikteb HAMES sentenzi fuq WIEHED minn dawn:

1. Dun Mikiel Xerri

Ikteb dwar il-ġrajja tal-qlubija ta' dan il-qassis Malti li ta hajtu ghal art twelidu.

2. Immagina li inti s-Sindku ta' raħal jew ta' belt.

Ikteb dwar x'kont tagħmel biex iżżomm it-toroq tar-raħal jew tal-belt tiegħek indaf u sbieħ.

3. Il-mergħa u l-foresta

Ikteb dwar il-pjanti li jikbru fil-mergħa u fil-foresta u kif dawn il-*habitats* jaffettwaw il-hajja fuq din id-dinja.

(15-il marka)

TMIEM IL-KARTA