

EŻAMI ANNWALI TA' L-ISKOLA PRIMARJA 2005

Taqsimata ta' l-Assessjar Edukattiv – Diviżjoni ta' l-Edukazzjoni

IS-SITT SENA

STUDJI SOĊJALI

HIN: SIEGHA

Isem: _____

Klassi: _____

A (i) L-Assedju l-Kbir ta' l-1565.

Min kienu dawn?



La Valette

1. **Eż.** Jien kont il-Gran Mastru waqt l-Assedju l-Kbir. _____
2. Jien is-sultan Tork li riddet neqred lill-Kavallieri. _____
3. Jien il-forti li ddefendajt lill-Birgu waqt l-Assedju l-Kbir. _____
4. Jien l-għolja fejn hemm l-forti Sant'Iermu fit-tarf tiegħi. _____
5. Jien Tork li kont niehu hsieb il-flotta (tal-baħar) Torka. _____
6. Jien Tork li kont niehu hsieb it-truppi (ta' l-art) Torok. _____

(5 marki)

A(ii) Ikteb kelma wahda:

1. **Eż.** Il-ħbit kontinwu waqt xi gwerra. _____
2. Bini għoli mibni madwar post għad-difiża. _____
3. Grupp ta' gzejjer flimkien. _____
4. Iż-żmien ta' qabel bdiet tinkiteb l-istorja. _____
5. Iż-żmien ta' meta l-għodda kienet tal-ġebel. _____
6. Il-baħar bejn żewġ pajjiżi jew gzejjer. _____


Assedju

(5 marki)

B. Wahda minn dawn hi hażina.

Aqta' sing taht il-kelma jew frażi li mhix tajba.

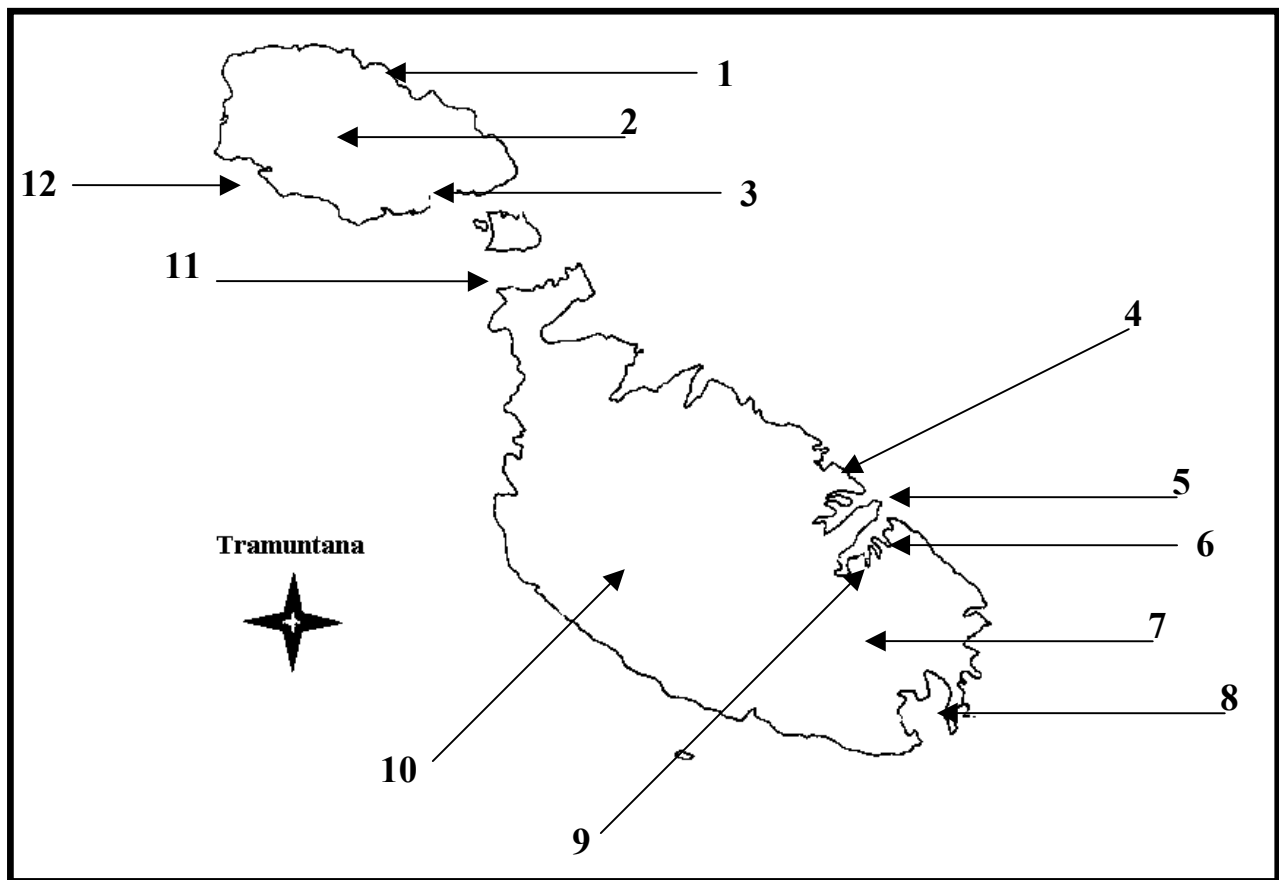
1. (Il-Konti Ruġġieru, Dragut, Toni Bajada, La Valette) kellhom x'jaqsmu ma' l-Assedju l-Kbir ta' l-1565.
2. Fis-sistema edukattiva Maltija nsibu (l-kindergarten, l-Iskola Primarja, l-Iskola Sekondarja, l-Iskola Edukattiva, l-Iskola Post Sekondarja).
3. It-traffiku jgħib miegħu l-problema ta' (tniġġis ta' l-arja, gassijiet valenużi, xi inċidenti serji u fatali, serħan il-moħħ).
4. (Il-Marokk, il-Libja, l-Italja, l-Egittu, it-Tuneżija) huma pajjizi fl-Afrika ta' Fuq li jmissu mal-Baħar Mediterran.
5. (Il-Kap ta' l-Iskola, l-Assistent Kap, l-Għalliema, is-Sindku) jiffurmaw l-istaff ta' l-iskola.
6. Fuq il-bandiera Maltija tista' tara (l-istilel ta' l-Ewropa, l-George Cross, l-kulur abjad, l-kulur aħmar).
7. (Kreta, Majorka, Minorka, Ibiza) huma magħrufin bħala l-gzejjer Baleariċi.
8. Fil-belt Valletta nsibu hafna bini storiku fosthom (il-Bereġ tal-Kavallieri, is-Sagra Infermerija, il-Palazz tal-Gran Mastri, il-Habs il-Qadim).
9. Religjonijiet li jemmnu fihom diversi nies huma (l-Islam, l-Buddiżmu, r-religjon Kattolika Rumana, l-Euro).
10. L-ewwel nies f'Malta kienu (teknixins tal-kompjuter, bdiewa, sajjieda, rghajja).



(10 marki)

Ċ. Hares sew lejn il-mappa tal-gzejjer Maltin li tidher taht it-tabella.
 Wara imla t-tabella bin-numru skond il-post. Ghandek tnejn lesti.

Numru	Post
5	Il-Belt Valletta
3	Il-Port ta' l-Imgarr
	Marsaxlokk
	Ir-Rabat (Malta)
	Ir-Rabat (Għawdex)
	Ix-Xlendi
	Bormla
	Hal Luqa
	Iċ-Ċirkewwa
	Tas-Sliema
	Il-Birgu
	Marsalforn




(10 marki)

D. Aqra din is-silta dwar il-miġja ta' San Pawl f'Malta.

Fuq il-ġifen kien hemm 276 ruħ, fosthom ċenturjun, suldati u żewġt iħbieb kbar ta' Pawlu, Luqa u Aristarku. Dan ir-rakkont insibuh fl-Atti ta' l-Appostli.

Luqa jirrakkonta li fi triqthom lejn Ruma qamet tempesta kbira. In-nies ta' fuq il-ġifen bdew jibzġhu li se jegħrqu, iżda Pawlu għamlilhom il-kuraġġ u qalilhom, “Ħbieb, tibzġhux għax hadd mhu se jegħreq. Bil-lejl deherli anglu



u qalli li kien meħtieġ naħbtu ma' gżira.” U hekk gara għax il-ġifen ħabat ma' sikka, in-nies qabżu biex jgħumu lejn ix-xatt u kollha salvaw.

Missirijietna qabbdulhom huġġieġa biex jinxfu. Waqt li Pawlu kien qed jitfa' xi ħatab fiha, qabdet miegħu lifgħa, imma ma għalu xejn. Il-Maltin, li f'dak iż-żmien kienu pagani, ħasbuh li kien xi alla. Qatt ma kienu semgħu b'Alla veru. Pawlu beda jgħallem u jxandar il-Bxara t-Tajba. Publiju, il-prinċep ta' Malta, ħadu jara lil missieru li kien marid. Pawlu talab fuqu u fejqu. Hu kompla jgħallem u jfejjaq lill-morda. Il-Maltin intebħu li Pawlu kien qed jgħallem fuq Alla veru u aċċettaw ir-religjon nisranija. Dan iżda ma jfissirx li l-Maltin kollha saru nsara mill-ewwel. Nafu b'dan mill-imqades ta' l-allat Rumani li baqgħu miftuhin għall-qima, bħalma nistgħu naraw fit-tempji ta' Tas-Silġ f'Marsaxlokk. Postijiet marbutin man-nawfragju ta' San Pawl huma: Il-Bajja u l-Gzejjer ta' San Pawl, Għajn Razul, San Pawl Milqi, il-Knisja tal-Huġġieġa u l-Grotta tar-Rabat.

Aghmel taht Veru jew Falz. L-ewwel wahda lesta.

	Veru	Falz
1. Dan ir-rakkont tan-nawfragju nsibuh fl-Atti ta' l-Appostli.	<input type="checkbox"/>	
2. Il-ġifen kien fit-triqtu lejn il-Palestina.		
3. Ċesri kien il-prinċep ta' Malta f'dak iż-żmien.		
4. San Luqa kiteb dan ir-rakkont fl-Atti ta' l-Appostli.		
5. Tnejn biss għerqu mill-276 persuna fuq il-ġifen.		
6. Il-Maltin kollha saru nsara mill-ewwel.		

(5 marki)

E. Ikteb sentenza QASIRA fuq kull wahda minn dawn biex turi li taf xi jfissru.

1. MENHIR: _____

2. DOLMEN: _____

3. IPOĠEW: _____

4. SANCTA SANCTORUM: _____

5. ŻMIEN NEOLITIKU: _____



(10 marki)

F. Imla l-vojt bil-kliem li jidhru hawn taht.

HAMSA biss tista' tuża.

it-tempji	Meteoroloġiku	it-temp	Luqa
anemometru	Parrokkjali	ritratti	Safi

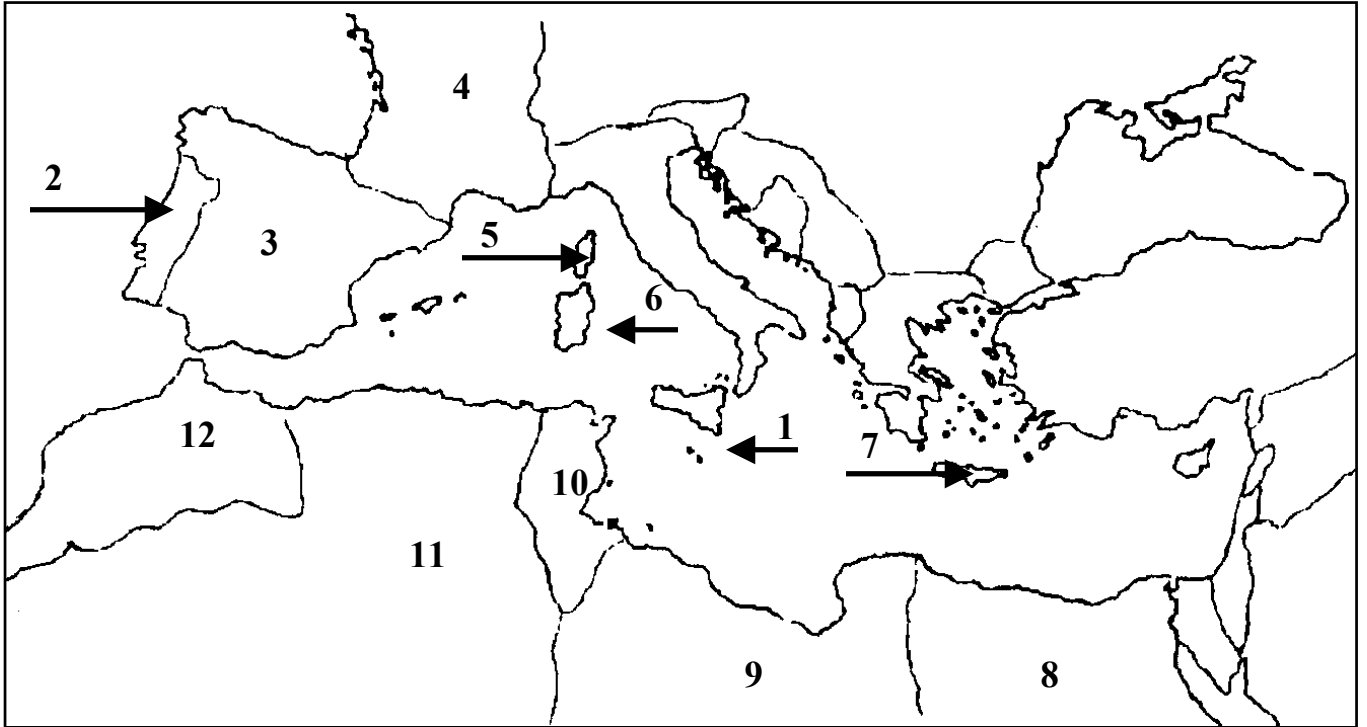
F'Hal _____ nsibu l-Uffiċċju _____ li jinsab viċin it-torri tal-kontroll ta' l-ajruplani. Hawn jingabar it-tagħrif dwar _____. Fost l-istrumenti li jintużaw, insibu t-termometru, il-

pinnur, l-_____, il-pluvjometru, makkinarju li jirċievi _____ mis-satelliti u l-kompjuter. (5 marki)

Ġ. (i) Dan is-Sajf int sifirt bil-vapur fil-Mediterran mal-familja tieghek.

Kompli t-tabella li tidher taht il-mappa.

Ikteb l-isem tal-pajjiżi u l-gzejjer li żort. L-ewwel tnejn le[sti.



Numru	Pajjiż jew Gżira	Numru	Pajjiż jew Gżira
1.	Malta	2.	Il-Portugall
3.		4.	
5.		6.	
7.		8.	
9.		10.	
11.		12.	

Ġ (ii) It-tliet fethiet li ghandu l-Mediterran lejn ibhra ohra huma:

(a) _____ (b) _____ (c) _____

(16-il marka)

G. Kompli din is-silta fuq il-kontinenti.

Kontinent huwa biċċa _____ kbira hafna. F'kull kontinent tista' ssib hafna _____ . Il-Baħar Mediterran imiss ma' tliet kontinenti.

Dawn huma _____ , _____ u _____ .

Tliet kontinenti oħra huma l- _____ , _____ , u l- _____ .

(8 marki)

GH. Kompli din it-tabella. L-ewwel waħda lesta.

<i>Pajjiż</i>	<i>Belt Kapitali</i>
Malta	Valletta
Il-Libja	
Franza	
L-Italja	
Il-Portugall	
Spanja	
Il-Greċja	
L-Alġerija	
L-Iżrael	
It-Turkija	
L-Egittu	

(10 marki)



