

PRIMARY SCHOOLS ANNUAL EXAMINATIONS 2002

Educational Assessment Unit - Education Division

IR-RABA' SENA

STUDJI SOĊJALI

HIN: SIEGHA

Isem: _____

Klassi: _____

SEZZJONI 'A'

a) Immarka b' (✓) hdejn it-twegiba t-tajba: (Ara l-eżempju u għamel bħalu)

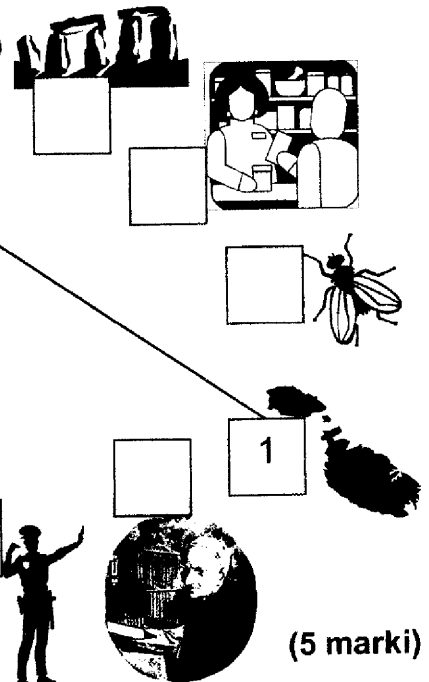
1. Ix-xitwa hi l-iktar staġun sħun tas-sena.
2. Il-pustier iġib l-ittri d-dar.
3. Fl-iskola, l-għalliema qeghdin flok il-ġenituri tagħna.
4. Ahna m'hemmx għalfejn nistudjaw biex nitghallmu.
5. Il-Milied jigi fl-24 ta' Diċembru.
6. Ahna qatt m'għandna ninhaslu.
7. Il-karozza mhijiex mezz ta' trasport.
8. Dun Mikiel Xerri kien Franciż.
9. Min iġhid il-verita' jkun onest.
10. Is-siġar jagħtu arja safja.
11. Min ikun ma' jiflaħx imur għand it-tabib.

VERU	MHUX VERU
	✓

(10 marki)

b) Immarka min jien. (Qabbel billi tagħmel bħall-eżempju)

1. Jien ninsab imdawra bl-ilma minn kullimkien.
2. Jien naqbad, u narresta l-ħallelin.
3. Jien ġejt mibni fi Żmien il-Ħaġar.
4. Jien ktibt il-kliem ta' l-Innu Malti.
5. Jien inġorr ħafna mard.
6. In-nies jiġu għandi biex jixtru.



(5 marki)

SEZZJONI 'B'

a) L-ewwel agra sew din l-istorja:

Trevor mar passiġġata ma' missieru. Huma telqu mid-dar bil-mixi lejn il-kampanja. Meta waslu hemm huma bdew jimxu qalb l-għelieqi. Huma kienu qed jieħdu pjaċir.

F'daqqa waħda, Trevor waqa' minn tulu ma' l-art. Ġebba nbarmet taħt siequ u Trevor tilef il-bilanċ. Kif waqa' ma' l-art beda jghajjat hafna bl-uġiġh! Kien waqa' fuq qiegh ta' flixxun u ċarrat il-ġenb ta' siequ x-xellugija!

Trevor kellu jmur l-isptar biex jagħmlulu l-punti. Hu kellu joqghod id-dar għal ġimgha shiħa. Ma marx skola u ommu hadet hsiebu sakemm reġa' beda jimxi sewwa fuq siequ.

Issa aghzel it-twegħiba t-tajba billi tagħmel '✓' fil-kaxxa:

1. Trevor wegġa'

- i) tort ta' missieru.
- ii) tort ta' min kisser il-flixxun u hallieh hemm fin-nofs.
- iii) tort ta' Trevor.

2. Min għamel il-punti lil Trevor?

- i) ommu.
- ii) it-tabib.
- iii) missieru.

3. Trevor mar l-isptar

- i) b'ambulanza.
- ii) bil-karozza tal-linja.
- iii) b'taxi.

4. Minhabba l-aċċident, Trevor tilef











- i) il-flus.
- ii) il-lezzjonijiet.
- iii) l-arloġġ.

5. Trevor ma marx skola għal ġimgha. X'taħseb li qagħad jagħmel?

- i) jilgħab il-futbol.
- ii) jgħin lil missieru fil-garaxx.
- iii) fis-sodda.

(5 marki)

b) Imla l-vojt. (Uża l-kliem li hemm taht l-istampi)

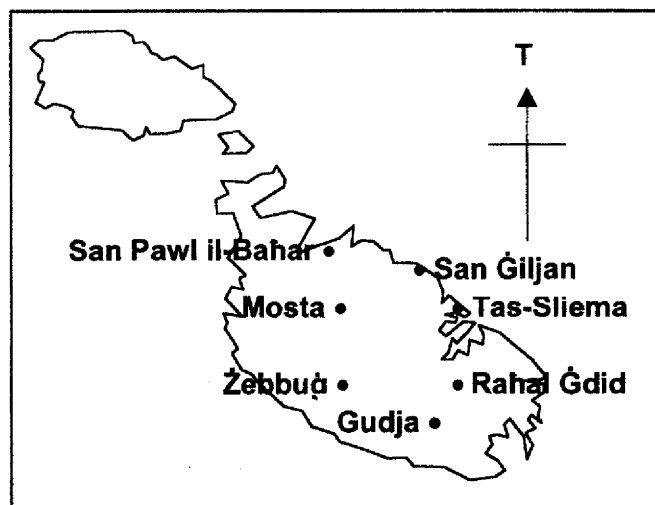
				
ir-radju	il-vapur	it-triq	il-librerija pubblika	l-ajruplan
				
il-gazzetta	l-ittra	it-televixin	il-karozza	il-ktieb

1. Biex inkun naf l-aħħar ahbarijiet nista' nuża _____ jew _____ jew _____.
2. Ahna nistudjaw minn fuq _____.
3. Biex nibghat messaġġ lil xi hadd ieħor nuża _____.
4. Biex infittex xi informazzjoni għandi mmur _____.
5. Biex nivvjagġa minn post għal ieħor jew minn pajjiż għal ieħor nista' nuża _____ jew _____ jew _____.
6. Biex immorru mid-dar tagħna għal post ieħor irridu nivvjagġaw fuq _____.

(10 marki)

SEZZJONI 'Ċ'

a. Imla l-vojt bid-direzzjonijiet: *Tramuntana; Nofsinhar; Punent; Lvant.*



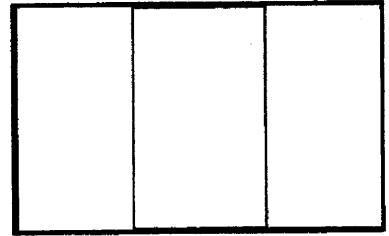
1. Mosta fil-Punent ta' Tas-Sliema.
2. Raħal Ġdid _____ ta' Tas-Sliema.
3. San Pawl il-Baħar _____ tal-Mosta.
4. Żebbuġ _____ ta' Raħal Ġdid.
5. Gudja _____ ta' San Ġiljan.
6. Tas-Sliema _____ tal-Mosta.

(10 marki)

- b) 1. **Pinġi l-bandieri kollha.**
 2. **Ikteb liema huma l-kuluri.**
 3. **Ikteb x'jismha l-Belt Kapitali tal-pajjiż.**
 4. **Semmi xi haġa li dan il-pajjiż magħruf għaliha: xi bini famuż, xi użanza speċjali li ssir fih, xi kostum tipiku tal-pajjiż, eċċ.**

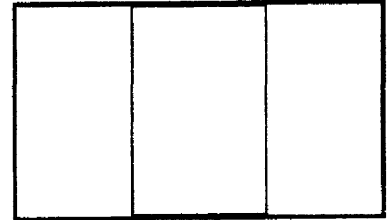
ITALJA

2. Kuluri = _____
 3. Belt Kapitali = _____
 4. L-Italja magħrufa = _____




FRANZA

2. Kuluri = _____
 3. Belt Kapitali = _____
 4. Franza magħrufa = _____



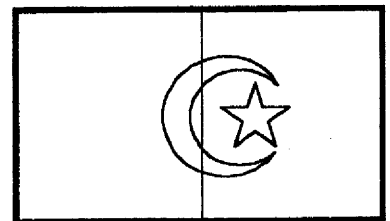
TUNEŻIJA

2. Kuluri = _____
 3. Belt Kapitali = _____
 4. It-Tuneżija magħrufa = _____



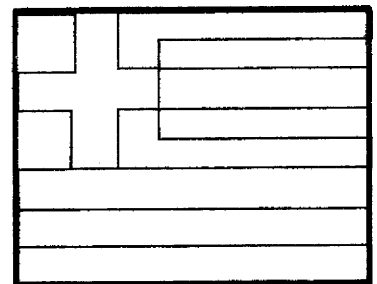
ALĠERIJA

2. Kuluri = _____
 3. Belt Kapitali = _____
 4. L-Alġerija magħrufa = _____



GREĊJA

1. Kuluri = _____
 2. Belt Kapitali = _____
 3. Il-Greċja magħrufa = _____



(20 marka)


ċ) X'taf fuq dawn? Kompli is-sentenzi:

1. Dan huwa PINNUR.



Il-pinnur nużawh biex _____

2. Dan huwa ANEMOMETRU.



L-anemometru nużawh biex _____

3. Din hija 'RAIN-GAUGE'.




Ir-'rain-gauge' nużawha biex _____

4. Dan huwa TERMOMETRU.



It-termometru nużawh biex _____

5. Din hija parti minn Termometru. Qiegħed juri Temperatura ta' 40°C . Ikteb fi kliem $^{\circ}\text{C}$.



$^{\circ}$ = _____

C = _____

(20 marka)

SEZZJONI 'D'

a) Qabbel il-Festa mat-Tradizzjoni. (Aghmel bhall-eżempju)

- | | | | |
|----|---------------------------|----------------------------|---|
| 1. | Il-Karnival | <input type="checkbox"/> | Il-ħarġa sal-Buskett. |
| 2. | Il-Milied | <input type="checkbox"/> | Il-logħob tan-nar fil-pjazza. |
| 3. | L-Imnarja | 1 <input type="checkbox"/> | Il-maskarati. |
| 4. | Il-Festa ta' Santa Marija | <input type="checkbox"/> | Il-figolla. |
| 5. | Il-festa tar-raħal | <input type="checkbox"/> | Il-wirja tal-ħxejjex u l-bhejjem f'Għawdex. |
| 6. | L-Ghid il-Kbir | <input type="checkbox"/> | Il-priedka tat-tifel. |

(5 marki)

b) Komplil dawn is-sentenzi.

1. Lil Dun Mikiel Xerri qatluh _____

2. Dun Karm Psaila kien minn _____

3. In-Normanni kienu nies _____

4. Il-Konti Ruggieru kien _____

5. F'Malta, l-Għarab, kienu _____

(15-il marka)