


# SENIORSERTIFIKAAT- EKSAMEN



**FEBRUARIE / MAART**

**2007**

**REIS EN TOERISME**

**SG**

**935-2/0 A**

REIS EN TOERISME SG



935 2 0A

SG

17 bladsye

**X05**



KOPIEREG VOORBEHOU  
GOEDGEKEUR DEUR UMALUSI



## GAUTENGSE DEPARTEMENT VAN ONDERWYS

## SENIORSERTIFIKAAT-EKSAMEN

REIS EN TOERISME SG

TYD: 3 uur

PUNTE: 150

**INSTRUKSIES:**

- AL die vrae moet beantwoord word.
- Waar daar meervoudige keusevrae gevra word, skryf slegs die vraagnommer en die gekose antwoord neer, bv. 1.1.6 D.
- Nommer jou antwoorde in ooreenstemming met die nommers van die vrae.
- Laat 'n lyntjie oop na elke antwoord.
- 'n Sakrekenaar mag vir berekeninge gebruik word.

**AFDELING A  
HERROEPING VAN GELEERDE KENNIS****VRAAG 1  
MEERVOUDIGE KEUSEVRAE**

1.1 Kies die korrekte antwoord uit die moontlikhede wat verskaf word. Skryf slegs die vraagnommer en die letter neer, bv. 1.1.6 – D.

1.1.1 Die Minister van Omgewingsake en Toerisme is \_\_\_\_\_ .

- A. Valli Moosa
- B. Martinus van Schalkwyk
- C. Pallo Jordan
- D. Amos Masondo

(1)

1.1.2 Die lugrederyterm vir **passasier** is \_\_\_\_\_ .

- A. Pax
- B. Reisiger
- C. Toerder
- D. Toeris

(1)

1.1.3 Geld van 'n ander land, staan bekend as \_\_\_\_\_ .

- A. buitelandse valuta
- B. beskikbare kontant
- C. geld voorhande
- D. sakgeld

(1)

- 1.1.4 Die geldeenheid wat in Duitsland gebruik word, is die \_\_\_\_\_ .
- A. Rand  
B. Duitse mark  
C. Euro  
D. Pond (1)
- 1.1.5 Jy beplan om in New York te gaan werk as 'n *au pair*. Om jou eerste maand se onkoste te dek, het jy R7 500 gespaar. Teen 'n wisselkoers van R6,60 teenoor die dollar, hoeveel is dit werd in Amerikaanse Dollar?
- A. \$1 136,36  
B. \$1 200,00  
C. \$1 234,67  
D. \$1 206,66 (1)  
(5)

**VRAAG 2**  
**STREEKSTOERISME – AFSETGEBIEDE**

- 2.1 Noem die hoofstede van die volgende SAOG-lande:
- 2.1.1 Zimbabwe (1)  
2.1.2 Botswana (1)  
2.1.3 Malawi (1)  
2.1.4 Zambië (1)  
2.1.5 Mauritius (1)
- 2.2 Skryf die volgende afkortings en tegnologiese terme in woorde uit.
- 2.2.1 GVS (1)  
2.2.2 SBS (1)  
2.2.3 IATA (1)  
(8)

**VRAAG 3**  
**INTERNASIONALE TOERISTEBESTEMMINGS EN EKOTOERISME**

- 3.1 Pas die **internasionale ikoon** in **Kolom A** by die **land** in **Kolom B**.

KOLOM A		KOLOM B	
INTERNASIONALE IKOON		LAND	
3.1.1	Taj Mahal	A.	Australië
3.1.2	Mount Fuji	B.	Egipte
3.1.3	Sydney Operahuis	C.	Tanzanië
3.1.4	Piramides en die sfinx	D.	Indië
3.1.5	Golden Gate-brug	E.	Japan
		F.	Suid-Afrika
		G.	Verenigde State van Amerika

(5)

- 3.2 Noem TWEE wêrelderfenisgebiede in die Wes-Kaap. (2)
- 3.3 Wat verstaan jy onder die term **ongerep**? (1)
- 3.4 Watter ander provinsie spog ook met twee wêrelderfenisgebiede? Noem die provinsie en enige een van die twee gebiede. (2)
- 3.5 Gee 'n ander term vir **internskap**. (1)
- 3.6 Die persoon wat 'n vliegtuig bestuur, word die \_\_\_\_\_ genoem. (1)
- 3.7 Sê of die volgende stellings WAAR of ONWAAR is.
- 3.7.1 'n Gastehuis is akkommodasie wat in 'n wildspark aangetref word. (1)
- 3.7.2 'n Toesighouer is iemand wat oor werkers toesig hou. (1)
- 3.7.3 'n Glimlag is nie belangrik in die toerismebedryf nie. (1)
- 3.7.4 Die olifant is nie een van die **gevaarlike ses** nie. (1)
- 3.7.5 'n Paspoot is 'n pas wat 'n persoon toegang tot die vliegtuig gee. (1)
- (17)

**TOTAAL VIR AFDELING A: [30]**

**AFDELING B**  
**TOEPASSING VAN VAARDIGHEDE**

**VRAAG 4**  
**REISBEGROTINGS EN BASIESE REISPLANNE**

- 4.1 Teken die onderstaande reisplan in jou antwoordboek oor. Gebruik die reisplan in Addendum A en voltooi die reisplan vir dag 2 en 3.

Dag	Oggend-aktiwiteit	Middag-aktiwiteit	Aand-aktiwiteit	Akkommodasie
2				Mobiele kamp
3				Safaritente

(6)

- 4.2 Teken die onderstaande tabel in jou antwoordboek oor en gebruik dit om 'n akkommodasie-begroting vir dag 8, 9 en 10 te bereken vir twee paartjies wat deel. Toon al jou berekeninge. Gebruik Addendum A (reisplan) en Addendum B (Into Africa) om die tabel te voltooi.

(8)

<b>Akkommodasiekoste vir twee paartjies</b> <b>Berekeninge</b>		
Dag 8 en 9		
Dag 10		
Totale koste		

- 4.3 Gebruik Addendum C (British Airways) om die volgende vrae te beantwoord.

4.3.1 Bereken die koste indien een paartjie in ekonomiese klas van Victoria Falls na Johannesburg terugvlieg. Toon al jou berekeninge.

(3)

4.3.2 Skryf die vlugnommer en die aankomstyd van hulle vlug neer.

(2)

(19)

**VRAAG 5**  
**TYDROOSTERS EN TOERISTEKAARTE**

- 5.1 Verwys na Addendum D (Botswana) en beantwoord die volgende vrae:

5.1.1 Watter land grens in die weste aan Botswana?

(1)

5.1.2 Noem die beroemde Nasionale Park in die noordweste van Botswana, naby die waterval.

(1)

5.1.3 Noem die Nasionale Park wat aan Namibië grens.

(1)

5.1.4 Is die Caprivistreek deel van Botswana? Indien nie, in watter land is dit geleë?

(2)

5.1.5 Hoe lank sal 'n toeris per bus van Gaborone na Francistown reis?

(1)

5.1.6 Volgens die gegewe tye, indien daar per vliegtuig vanaf Gaborone gereis word, watter dorp is die verste geleë?

(1)

b.o.

- 5.2 Bestudeer Addendum E (The Blue Train) en beantwoord die volgende vrae.
- 5.2.1 Verduidelik in jou eie woorde, wat bedoel word met **in seisoen** (high season) en verskaf 'n toepaslike voorbeeld. (2)
- 5.2.2 Verskaf volledige aankoms- en vertrekbesonderhede oor die rit vanaf Kaapstad na Port Elizabeth. (3)
- 5.2.3 Watter items word nie by die prys ingesluit nie? (3)
- 5.2.4 Hoeveel uur sal die noordwaartse rit van Kaapstad na Pretoria duur? (1)
- 5.2.5 Bereken die koste van **twee** eenrigting, De Luxe Dubbelsuites op die Blou Trein vanaf Pretoria na Kaapstad op 13 Februarie. (2)  
(18)

### VRAAG 6 EKOTOERISME

- 6.1 Ekotoerisme is 'n dinamiese interaksie tussen vier strategiese rolspelers of belanghebbendes. Elkeen het 'n belangrike rol om te speel in die hele natuurbewaringsplan. Skryf 'n opstel oor die vier strategiese rolspelers in ekotoerisme en bespreek hulle aparte, tog geïntegreerde rolle in 'n suksesvolle ekotoerismeplan. (15)
- 6.2 Pas **Kolom A** by **Kolom B**. Skryf in jou antwoordboek slegs die vraagnommer en die ooreenstemmende letter neer, bv. 6.2.8 – L.

Kolom A		Kolom B	
6.2.1	Ais-Ais Richtersveld-oorgrenspark	A.	Mosambiek / Suid-Afrika / Zimbabwe
6.2.2	Groot Limpopo-oorgrenspark	B.	Om te voorsien in die behoeftes van die huidige generasie sonder om die behoeftes van die volgende generasie te benadeel.
6.2.3	Kgalagadi-oorgrenspark	C.	Namibië / Suid-Afrika
6.2.4	Volhoubare toerisme	D.	Sluit alle lewende spesies in 'n area in
6.2.5	Maloti Drakensberg-oorgrenspark	E.	Water
6.2.6	Biodiversiteit	F.	Bome
6.2.7	Onhernubare bronne	G.	Mosambiek / Swaziland
		H.	Botswana / Suid-Afrika
		I.	Verskeidenheid lewe in 'n area
		J.	Lesotho / Suid-Afrika
		K.	Botswana / Suid-Afrika / Zimbabwe

(7)  
(22)

**VRAAG 7**  
**UITMUNTENDE DIENS / INTERPRETASIE VAN STATISTIEK**

- 7.1 Bestudeer die onderstaande leesstuk geneem uit *Responsible Tourism Guide* en beantwoord die daaropvolgende vrae:

Imvelo- toekennings	Mpumalanga	Wenner: Beste Praktyk deur Mikro- Besigheid
<b>Shangana Kulturele Stat</b>		
<p>Shangana kulturele stat is ontwikkel om die Shangaan-kultuur te bewaar en te vier, om 'n platform te skep vir plaaslike kunstenaars om hulle musiek, dans en toneelspeeltalente te gebruik om 'n inkomste te verdien.</p> <p>Shangana kan tot 220 gaste huisves, hulle kan die Marula Mark besoek, waar plaaslik vervaardigde handwerk verkoop word; 'n toer meemaak na die stat waar meer geleer kan word van die Shangaan-gebruike en tradisionele medisynes; of 'n fees in die aand bywoon waar akteurs en dansers die storie vertel van die Shangaan-nasie terwyl 'n tradisionele maaltyd genuttig word.</p> <p>Shangana is op die rand van die Bosbokrandgemeenskap geleë en huisves nagenoeg een miljoen mense, van wie nagenoeg 80% werkloos is. Shangana het 34 permanente en 70 tydelike betrekkinge opgelewer waarvan die meeste verwant is aan kulturele vaardighede soos optredes en die vervaardiging van tradisionele kuns.</p> <p>'n Intensiewe opleidingsprogram het lede van die plaaslike gemeenskap in staat gestel om 80% van die bestuursposisies in die organisasie te vul, tot op Algemene Bestuursvlak.</p> <p>Deur goedere en dienste van plaaslike besighede te verkry, ondersteun Shangana 20 klein- en mikrobeshede betrokke by die bouery, instandhouding, verskaffing van vrugte en groente en curio-produksie. Shangana voorsien die besighede ook van tegniese bystand, grondstof en terugvoer waarvan die toeriste hou. Die kulturele stat het meer as 200 poste geskep, direk en indirek.</p> <p>Besluitneming by Shangana vind deur konsultasie plaas en alle personeellede word aangemoedig om hulle idees te gee en besware te opher. Dit het 'n klimaat van selfvertroue en persoonlike groei geskep vir die mense wat daar werk.</p> <p>Om groter betrokkenheid van plaaslike gemeenskappe te verseker, het Shangana die stat se eiendom aangebied aan die Grondweteise Kommissie, wat die gemeenskap verseker het dat hulle, wat eens van hulle grond verwyder was, weer die grondregte sal terug kry. Die personeel en bestuur van Shangana beplan om die eiendom by die gemeenskap te huur.</p> <p>Die personeel van Shangana deel tans 10% van die maatskappy se wins en 'n trust is geskep wat personeel toelaat om aandeelhouers te word. Wanneer die grondgebied teruggegee is, hoop hulle dat die personeel asook die plaaslike gemeenskap aandeelhouers van Shangana sal word.</p>		

- 7.1.1 Die plaaslike gemeenskap word bevoordeel deur betrokkenheid. Bespreek enige TWEE van die geleenthede wat Shangana aan plaaslike gemeenskap bied. (4)
- 7.1.2 Shangana lewer ook dienste aan klein besighede. Verduidelik watter dienste hier ter sprake is. (3)
- 7.1.3 Noem enige VYF belangrike rolle van 'n werknemer by Shangana om uitnemende diens te verseker. (5)

- 7.2 Bestudeer die grafiek (Addendum F) en beantwoord die vrae wat volg.
- 7.2.1 Sedert 1994 het besoekersgetalle na Suid-Afrika dramaties gestyg. Waarom dink jy dit het gebeur? (2)
- 7.2.2 Verskaf die rede waarom besoekersgetalle in 2001 afgeneem het. (1)
- 7.2.3 Noem die baie belangrike kongres wat in 2002 in Suid-Afrika plaasgevind het wat veroorsaak het dat besoekersgetalle skielik gestyg het. (1)
- 7.2.4 Noem die persentasie besoekers-aankomste uit die res van Afrika. (1)
- 7.2.5 Rangskik die besoekersgetalle vanaf 2001 tot 2003 in afnemende volgorde. (3)
- 7.2.6 Volgens die inligting op die grafiek, wat kan jy voorspel oor die toekoms van Suid-Afrikaanse Toerisme? (1)
- (21)**

### VRAAG 8 GLOBALE PERSPEKTIEWE

- 8.1 Identifiseer die internasionale bestemming wat beskryf word in Vraag 8.1.1 en 8.1.2. Verduidelik hoekom elkeen daarvan so 'n gewilde toeriste-aantreklikheid is.
- 8.1.1 'n Temapark in die VSA (3)
- 8.1.2 Die kleinste onafhanklike staat in Italië, Rome (3)
- (6)**

### VRAAG 9 WISSELKOERSE EN TEGNOLOGIE

- 9.1 Noem enige TWEE vorme van buitelandse valuta behalwe kontant wat vir toeriste beskikbaar is om geld landuit te neem. (2)
- 9.2 Watter lande gebruik geldeenhede met die volgende kodes?
- 9.2.1 ZAR (1)
- 9.2.2 GBP (1)
- 9.2.3 BWP (1)



- 9.3 Bestudeer die onderstaande tabel en beantwoord die vrae wat volg. Toon al jou berekeninge. Antwoorde moet korrek afgerond word tot twee desimale plekke. Toon die geldeenhede duidelik aan.

LAND	WAARDE IN SUID-AFRIKAANSE RAND
Frankryk	R7.25
Zimbabwe	R0.08
Japan	R0.55
Botswana	R1.80

- 9.3.1 Roland wil graag sy suster in Frankryk besoek. Hy ontvang 500 Euro van haar om sy vliegkaartjie te koop. Wat is die koste van die kaartjie in Suid-Afrikaanse rand? (2)
- 9.3.2 Roland het R2 000 gespaar vir sy besoek en wil dit graag in Yen omskakel. Hoeveel sal hy in Yen ontvang? (2)
- 9.4 Wie gebruik normaalweg 'n **GVS** of GDS? (1)
- 9.5 Noem die TWEE besprekingsisteme wat onderskeidelik deur British Airways en SAL gebruik word. (2)
- 9.6 Verduidelik in jou eie woorde die verskil tussen 'n **GVS** en 'n **SBS**. (4)
- (16)**

### VRAAG 10 TYDSONES

Bestudeer die tydsonekaart (Addendum G) en beantwoord die volgende vrae. Toon alle berekeninge. Dui die tyd en datum duidelik aan.

- 10.1 Op watter lengtelyn vind ons die internasionale datumlyn? (1)
- 10.2 Indien dit 15:00 op 3 Junie in Kaapstad is, hoe laat sal dit op die volgende plekke wees?
- 10.2.1 Mumbai (2)
- 10.2.2 Los Angeles (3)
- 10.3 Dit is 05:00 op Nuwejaarsdag in Tokyo. Mnr. Lee Wong wil graag sy vennoot in Durban 'n voorspoedige nuwejaar toewens.
- 10.3.1 Watter dag en hoe laat sal dit in Durban wees as mnr. Lee om 05:00 uit Tokyo bel? (2)
- 10.3.2 Indien mnr. Wong hom om 12:01 Suid-Afrikaanse tyd voorspoed wil toewens, op watter dag en hoe laat moet hy hom uit Tokyo skakel? (2)
- (10)**

**VRAAG 11**

- 11.1 Bestudeer die onderstaande advertensie en beantwoord die vrae wat daarop volg.

**Het jy 'n passie vir reis? Op soek na 'n opwindende loopbaan?**

Flight Centre Internasionale Reiskonsultant

Jou internasionale reiservaring en vermoëns om jou entoesiasme vir reis om te skakel na verkope. Gee terselfdertyd eerstehandse advies wat enige beskrywings in brosjures sal oortref, terwyl jy die geleentheid gebied sal word om by die beste reisagentskap in die land aan te sluit.

Stuur 'n gedetailleerde CV met 'n minimum van 2 jaar voltydse werkervaring verkieslik in verkope en/of kleinhandel saam met jou matriekvrystellingsertifikaat per e-pos na [hr@flightcentre.co.za](mailto:hr@flightcentre.co.za)

- 11.1.1 Gee die titel van die werk. (1)
- 11.1.2 Watter dokumente sal 'n applikant moet ingee om in aanmerking te kom vir hierdie werk? (2)
- 11.1.3 Indien die aansoek suksesvol was, wat sal die volgende logiese stap wees in die proses? (1)
- 11.1.4 Noem die spesifieke vaardighede wat die applikant moet hê. (3)
- 11.1.5 Die applikant benodig sekere tegnologiese apparaat om aansoek te doen. Wat sal dit wees? (1)

(8)

**TOTAAL VIR AFDELING B: [120]****TOTAAL: 150**

## ADDENDUM A

Lees die onderstaande reisplan van twee paartjies wat Botswana wil besoek. Hulle sal dubbelkamers gebruik vir akkommodasie.

### HEMINGWAY SE BOTSWANA Die ontdekker se onvergeetlikste oorland safari

#### DAG 1: Sentrale Kalahari

Die safari begin in Maun – ingang tot die bekende wildsgebiede van Botswana. Met aankoms, sal 'n verteenwoordiger help met die formaliteite en daar word aan boord gestap van die spesiale vlug na *Deception Valley Lodge*, waar jou safarigids jou sal inwag en by jou sal bly vir die duur van die toer. Die lodge is in 'n private konsessie aan die rand van die sentrale Kalahari-wildreservaat geleë. Geniet 'n wildsrit in die aand en besigtig sommige fassinerende nagvoëls en diere.

#### DAG 2: Sentrale Kalahari

Reis na die Sentrale Kalahari-wildreservaat en ontmoet die kamppersoneel. Die dag word deurgebring deur die omliggende halfwoestyn van die sentrale Kalahari te ontdek op 'n uitgebreide wildsrit. Geniet 'n tradisionele aandete om die kampvuur waar jy die nag in die voorafopgestelde mobiele kamp sal deurbly.

#### DAG 3: Okavango-delta

Vlieg met 'n ligte vliegtuig na die hart van die Okavango-delta en ontdek hierdie natuurwonder met 'n motorboot. Na middagete geniet jy 'n natuurtog saam met 'n plaaslike kenner. Spandeer die aand by die wonderlike Nxabega Okavango Safari Kamp wat luukse Oos-Afrikaanse styl safaritentent met aan-suite fasiliteite verskaf.

#### DAG 4 & 5: Moremi-wildreservaat

Na 'n vroeë oggend wildsrit en ontbyt, vlieg jy met 'n spesiale ligte vliegtuig na die Kwai-streek van die Moremi-wildreservaat, bekend as een van Afrika se pragtigste areas. Na jou aankoms by die vooraf opgestelde mobiele kampeenhede, geniet jy twee dae van wildsbesigtiging in hierdie manjifieke area.

#### DAG 6 & 7: Savute, Chobe Nasionale Park

Na ontbyt, reis verder oorland na Savute, wêreldberoemd vir sy groot konsentrasie wild en 'n gevestigde aantal roofdiere. Spandeer twee nagte by die Savute Olifantkamp, 'n luukse 24-bed lodge wat uitkyk oor die droë Savute-kanaal.

#### DAG 8 & 9: Noordelike Chobe Nasionale Park

Na ontbyt vertrek na die noordelike streek wat uitstekende geleenthede bied vir wildsritte en voëlkyksessies. Geniet 'n bootrit op die Chobe-rivier en spandeer twee nagte by die ten volle gedienste lodge.









#### DAG 10: Victoria-waterval

Reis na Victoria-waterval per motor en geniet 'n begeleide toer van die waterval. Die res van die dag is joune om te spandeer soos jy wil. Geniet 'n tradisionele dansskouspel, heerlike afskeidsete en oornag by die Victoria Falls Hotel met sy outydse sjarme en pragtige omgewing.

#### DAG 11: Victoria-waterval

Die safari eindig na ontbyt en sluit die vervoer in vanaf die hotel na Victoria Falls Lughawe.

ADDENDUM B

<p><b>Chobe Marina Lodge</b></p> 	<p><b>Victoria Falls Safari Lodge</b></p> 																														
<p>BOTSWANA (FI)</p>	<p>VICTORIA FALLS (B&amp;B)</p>																														
<table border="0"> <tr> <td></td> <td style="text-align: center;"><b>Single</b></td> <td style="text-align: center;"><b>Double</b></td> </tr> <tr> <td><b>Standard room</b></td> <td style="text-align: center;"><b>R2 060</b></td> <td style="text-align: center;"><b>R1 375</b></td> </tr> <tr> <td colspan="3"><b>Validity Period 01/04/04 – 31/10/04</b></td> </tr> <tr> <td colspan="3"><b>Rates quoted per person per night</b></td> </tr> <tr> <td colspan="3" style="text-align: center;">  </td> </tr> </table>		<b>Single</b>	<b>Double</b>	<b>Standard room</b>	<b>R2 060</b>	<b>R1 375</b>	<b>Validity Period 01/04/04 – 31/10/04</b>			<b>Rates quoted per person per night</b>						<table border="0"> <tr> <td></td> <td style="text-align: center;"><b>Single</b></td> <td style="text-align: center;"><b>Double</b></td> </tr> <tr> <td><b>Standard room</b></td> <td style="text-align: center;"><b>R1 055</b></td> <td style="text-align: center;"><b>R660</b></td> </tr> <tr> <td colspan="3"><b>Validity Period 01/04/04 – 30/06/04</b></td> </tr> <tr> <td colspan="3"><b>Rates quoted per person per night</b></td> </tr> <tr> <td colspan="3" style="text-align: center;">  </td> </tr> </table>		<b>Single</b>	<b>Double</b>	<b>Standard room</b>	<b>R1 055</b>	<b>R660</b>	<b>Validity Period 01/04/04 – 30/06/04</b>			<b>Rates quoted per person per night</b>					
	<b>Single</b>	<b>Double</b>																													
<b>Standard room</b>	<b>R2 060</b>	<b>R1 375</b>																													
<b>Validity Period 01/04/04 – 31/10/04</b>																															
<b>Rates quoted per person per night</b>																															
																															
	<b>Single</b>	<b>Double</b>																													
<b>Standard room</b>	<b>R1 055</b>	<b>R660</b>																													
<b>Validity Period 01/04/04 – 30/06/04</b>																															
<b>Rates quoted per person per night</b>																															
																															

## ADDENDUM C

## BRITISH AIRWAYS

**FROM JOHANNESBURG  
TO CAPE TOWN (JNB - CPT)**

12345 - -	0630	0840	BA 6-441	B737
12345 - -	0700	0910	BA 6-401	B737
1234567	0730	0940	BA 6-405	B737
1234567	0930	1140	BA 6-411	B737
1234567	1030	1240	BA 6-409	B737
1234567	1245	1455	BA 6-417	B737
1234567	1400	1610	BA 6-419	B737
12345 -7	1500	1710	BA 6-425	B737
1234567	1545	1755	BA 6-427	B737
1234567	1700	1910	BA 6-429	B737
12345 - -	1730	1940	BA 6-413	B737
1234567	1800	2010	BA 6-431	B737
12345 -7	1845	2055	BA 6-407	B737

**TO DURBAN (JNB - DUR)**

12345 - -	0645	0755	BA 6-201	B737
-----6-	0730	0840	BA 6-213	B737
12345 -7	0900	1010	BA 6-203	B737
1234567	1110	1220	BA 6-211	B737
12345 -7	1400	1510	BA 6-209	B737
12345 - -	1515	1625	BA 6-207	B737
-----67	1545	1655	BA 6-219	B737
12345 -7	1630	1740	BA 6-229	B737
-----5 - -	1730	1840	BA 6-215	B737
1234 - -7	1800	1910	BA 6-221	B737

**TO PORT ELIZABETH (JNB - PLZ)**

12345 - -	0630	0810	BA 6-231	B737
1234567	1110	1250	BA 6-241	B737
1234567	1600	1740	BA 6-237	B737
12345 -7	1815	1955	BA 6-239	B737

**TO HARARE (JNB - HRE)**

1234567	1230	1405	BA 6-267	B737
---------	------	------	----------	------

**TO VIC. FALLS (JNB - VFA)**

1234567	1125	1300	BA 6-285	B737
---------	------	------	----------	------

**TO WINDHOEK (JNB - WDH)**

1234567	1200	1355	BA 6-275	B737
---------	------	------	----------	------

Effective 28 March 2004

**LIVINGSTONE (JNB-LVI)**

--3-5--	1055	1230	BA 6-291	B737
-----7	0950	1135	BA 6-293	B737

**FROM CAPE TOWN  
TO JOHANNESBURG (CPT - JNB)**

12345 - -	0645	0845	BA 6-400	B737
12345 - -	0710	0910	BA 6-424	B737
1234567	0730	0930	BA 6-428	B737
1234567	0910	1110	BA 6-406	B737
1234567	1000	1200	BA 6-410	B737
1234567	1100	1300	BA 6-436	B737
1234567	1245	1445	BA 6-414	B737
1234567	1400	1600	BA 6-416	B737
12345 - -	1500	1700	BA 6-412	B737
1234567	1600	1800	BA 6-418	B737
12345 -7	1700	1900	BA 6-422	B737
1234567	1800	2000	BA 6-426	B737
-----7	1845	2045	BA 6-438	B737
12345 - -	1945	2145	BA 6-420	B737

**TO DURBAN (CPT - DUR)**

12345 - -	0630	0825	BA 6-301	B737
1 2 3 4 5 6 -	0925	1120	BA 6-303	B737
-----7	1100	1255	BA 6-305	B737
-----7	1800	1955	BA 6-307	B737
12345 - -	1830	2025	BA 6-313	B737

**FROM DURBAN****TO CAPE TOWN (DUR - CPT)**

12345 - -	0630	0835	BA 6-300	B737
123456 -	1200	1405	BA 6-304	B737
-----7	1400	1605	BA 6-302	B737
12345 -7	1815	2020	BA 6-306	B737

**FROM DURBAN****TO JOHANNESBURG (DUR-JNB)**

12345 - -	0645	0755	BA 6-200	B737
12345 - -	0830	0940	BA 6-202	B737
123456 -	0910	1020	BA 6-204	B737
----6-	1015	1125	BA 6-224	B737
12345 -7	1130	1240	BA 6-216	B737
12345 -7	1300	1410	BA 6-214	B737
-----6 -	1500	1610	BA 6-212	B737
12345 -7	1600	1710	BA 6-218	B737
1234567	1730	1840	BA 6-220	B737
-----5 - -	1915	2025	BA 6-222	B737

**FROM PORT ELIZABETH  
TO JOHANNESBURG (PLZ - JNB)**

12345 - -	0630	0805	BA 6-232	B737
1234567	0845	1020	BA 6-238	B737
1234567	1320	1455	BA 6-242	B737
12345 -7	1815	1950	BA 6-236	B737

**FROM HARARE  
TO JOHANNESBURG (HRE - JNB)**

1234567	1450	1630	BA 6-268	B737
---------	------	------	----------	------

**FROM WINDHOEK  
TO JOHANNESBURG (WDH - JNB)**

1234567	1500	1650	BA 6-274	B737
---------	------	------	----------	------

**FROM VICTORIA FALLS  
TO JOHANNESBURG (VFA - JNB)**

1234567	1350	1530	BA 6-282	B737
---------	------	------	----------	------

Effective 28 March 2004

**FROM LIVINGSTONE  
TO JOHANNESBURG (LVI-JNB)**

--3-5-7	1305	1445	BA 6-292	B737
---------	------	------	----------	------

ALL FLIGHTS OPERATED BY  
COMAIR LIMITED / ALL  
TIMES ARE GIVEN AS  
LOCAL TIMES.

**INTERNATIONAL/REGIONAL AIRFARES**

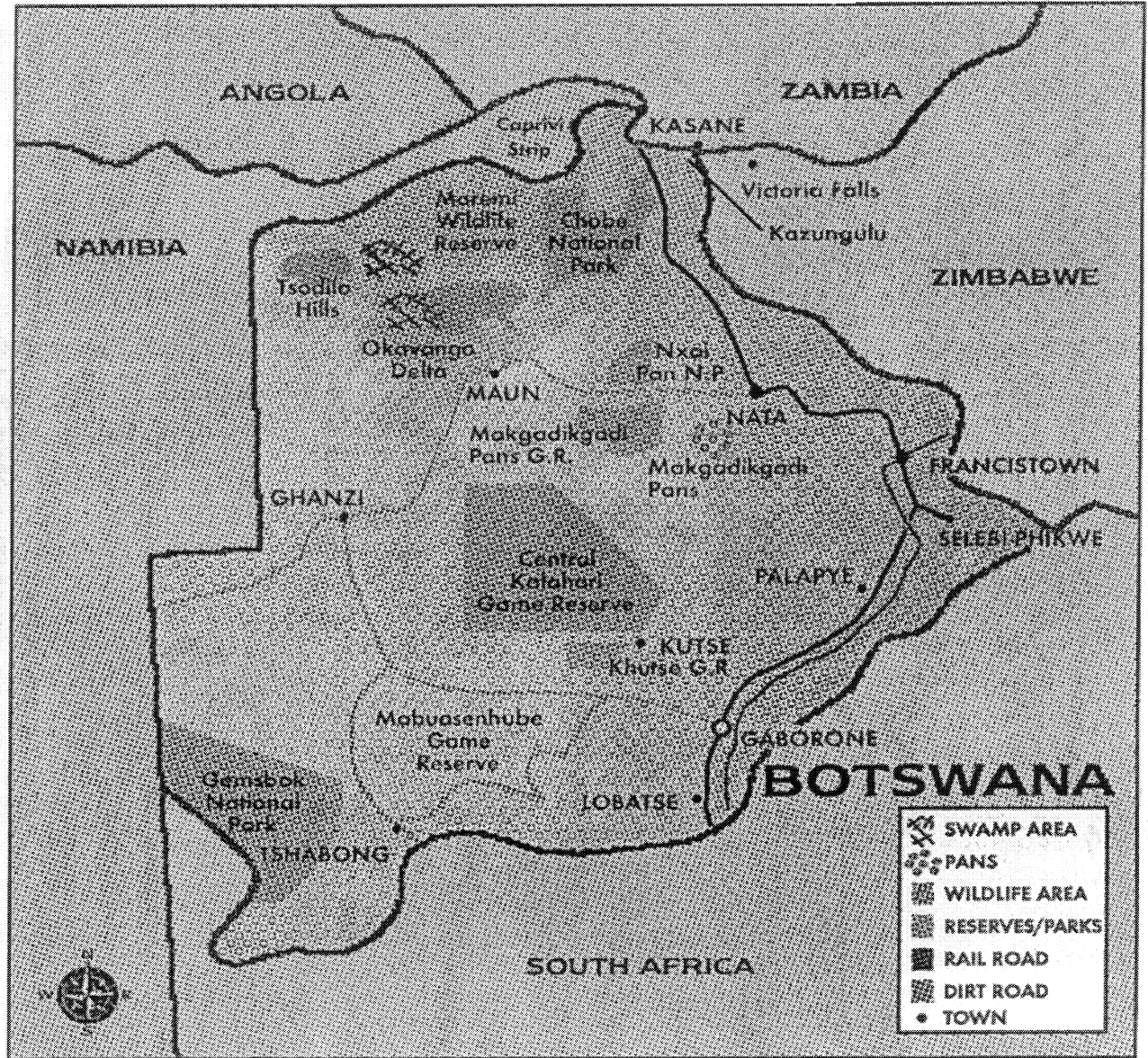
Effective 19 January 2004

Eff. 28 Mar '04

FARE	JNB TO VFA		JNB TO HRE		JNB TO WDH		JNB TO LVI	
	O/w	Rtn	O/w	Rtn	O/w	Rtn	O/w	Rtn
J	2430	4420	2120	4240	2300	4200	2430	4420
Y	2100	4100	2050	4000	1950	3500	2100	4100
B	1900	3800	1900	3800	N/A	N/A	1900	3800
H	N/A	N/A	N/A	2770 high	N/A	N/A	N/A	N/A
	N/A	N/A	N/A	2520 low	N/A	N/A	N/A	N/A
YEB6M	N/A	N/A	N/A	N/A	N/A	2800	N/A	N/A
YEE1M	N/A	N/A	N/A	N/A	N/A	2450	N/A	N/A
YEE45	N/A	2860 high	N/A	2860 high	N/A	N/A	N/A	2860 high
	N/A	2620 low	N/A	2620 low	N/A	N/A	N/A	2620 low
HXOWV/HX6MV	960	1770	N/A	N/A	N/A	N/A	960	1770
K	N/A	1930 high	N/A	1930 high	N/A	N/A	N/A	1930 high
	N/A	1770 low	N/A	1770 low	N/A	N/A	N/A	1770 low
BPEX	N/A	N/A	N/A	N/A	N/A	2200	N/A	N/A
BCD3M (Senior Citizen Fare)	N/A	N/A	N/A	N/A	1400	2200	N/A	N/A
BZZ6M (Youth Fare)	N/A	N/A	N/A	N/A	1400	2200	N/A	N/A
BSD6M (Student Fare)	N/A	N/A	N/A	N/A	1400	2200	N/A	N/A

ADDENDUM D

**BOTSWANA**



● **JOURNEY TIMES**

Approximate journey times from Gaborone (in hours and minutes) to other major cities and towns in Botswana.

	Air	Road	Rail
Francistown	0.50	5.00	6.35
Selebi-Phikwe	1.00	4.30	-
Orapa	-	5.00	-
Lobatse	0.20	0.45	1.50
Maun	1.30	12.00	-
Kasane	2.50	13.30	-
Tshabong	2.00	15.00	-
Ghanzi	1.25	-	-

● **ACCOMMODATION**

Air Holidays

**DECEPTION VALLEY LODGE**

Tel: (012) 346-6864      E-mail: [res@deceptionvalley.co.za](mailto:res@deceptionvalley.co.za)  
 Fax: (012) 460-2466      [info@deceptionvalley.co.za](mailto:info@deceptionvalley.co.za)  
 Cell: 083-271-9590      [www.deceptionvalley.co.za](http://www.deceptionvalley.co.za)

**BOTSWANA SAFARIS UNDER CANVAS**



• 7 Days Okavango Delta & Moromi from R4895  
 • 12 Days Okavango Delta, Savute, Chobe, Vic Falls from R8250  
 • 14 Days Botswana Overland, JNB to JNB, from R6730

Tel: (031) 563 9774 E-mail: [karibu@karibu.co.za](mailto:karibu@karibu.co.za)



## ADDENDUM E

# THE BLUE TRAIN

<p><b>PRETORIA TO CAPE TOWN</b> Departure: 08:50 Arrival: 12:00</p> <p>5, 14, 26 4, 9, 13, 18, 23, 27 8, 19 2, 12, 16, 26 10, 24 — 2, 7, 16, 21, 26, 30 6, 11, 16, 20, 25, 30 3, 10, 20 1, 6, 11, 15, 20, 25, 29 3, 8, 12, 17, 22, 26 1, 6, 13, 17</p>		<p><b>CAPE TOWN TO PRETORIA</b> Departure: 11:00 Arrival: 13:45</p> <p>2, 7, 16, 28 6, 11, 16, 20, 25 1, 10, 26 5, 14, 19, 28 12, 26 — 5, 9, 19, 23, 28 2, 9, 13, 18, 23, 27 1, 6, 13, 22 4, 8, 13, 18, 22, 27 1, 5, 10, 15, 19, 24, 29 3, 8, 15, 20</p>															
<p><b>RATES PER SUITE - ONE WAY</b></p> <table border="1"> <thead> <tr> <th></th> <th>HIGH SEASON</th> <th>LOW SEASON</th> </tr> </thead> <tbody> <tr> <td>Luxury Double (P)</td> <td>R20 430.00</td> <td>R17 365.00</td> </tr> <tr> <td>Luxury Single (P)</td> <td>R15 200.00</td> <td>R12 900.00</td> </tr> <tr> <td>De Luxe Double (K)</td> <td>R18 300.00</td> <td>R15 560.00</td> </tr> <tr> <td>De Luxe Single (K)</td> <td>R13 520.00</td> <td>R11 500.00</td> </tr> </tbody> </table>				HIGH SEASON	LOW SEASON	Luxury Double (P)	R20 430.00	R17 365.00	Luxury Single (P)	R15 200.00	R12 900.00	De Luxe Double (K)	R18 300.00	R15 560.00	De Luxe Single (K)	R13 520.00	R11 500.00
	HIGH SEASON	LOW SEASON															
Luxury Double (P)	R20 430.00	R17 365.00															
Luxury Single (P)	R15 200.00	R12 900.00															
De Luxe Double (K)	R18 300.00	R15 560.00															
De Luxe Single (K)	R13 520.00	R11 500.00															
<p><b>GARDEN ROUTE</b> CAPE TOWN TO PORT ELIZABETH Depart: Sunday 14:00 Arrive: Tuesday 09:30</p>		<p><b>GARDEN ROUTE</b> PORT ELIZABETH TO CAPE TOWN Depart: Tuesday 15:30 Arrive: Thursday 11:00</p>															
<p>21 MARCH 23</p>																	
<p><b>RATES PER SUITE - ONE WAY</b></p> <table border="1"> <thead> <tr> <th></th> <th>HIGH SEASON</th> <th>LOW SEASON</th> </tr> </thead> <tbody> <tr> <td>Luxury Double (P)</td> <td>R23 500.00</td> <td>R19 975.00</td> </tr> <tr> <td>Luxury Single (P)</td> <td>R17 820.00</td> <td>R15 160.00</td> </tr> <tr> <td>De Luxe Double (K)</td> <td>R21 660.00</td> <td>R18 515.00</td> </tr> <tr> <td>De Luxe Single (K)</td> <td>R16 280.00</td> <td>R13 920.00</td> </tr> </tbody> </table>				HIGH SEASON	LOW SEASON	Luxury Double (P)	R23 500.00	R19 975.00	Luxury Single (P)	R17 820.00	R15 160.00	De Luxe Double (K)	R21 660.00	R18 515.00	De Luxe Single (K)	R16 280.00	R13 920.00
	HIGH SEASON	LOW SEASON															
Luxury Double (P)	R23 500.00	R19 975.00															
Luxury Single (P)	R17 820.00	R15 160.00															
De Luxe Double (K)	R21 660.00	R18 515.00															
De Luxe Single (K)	R16 280.00	R13 920.00															
<p>High Season: 1 January to 30 April &amp; 1 October to 31 December Low Season: 1 May to 30 September • Rates are per suite, inclusive of all meals, drinks and off-train excursions. (Excluding French Champagne, Caviar and Telephone)</p>																	

## SPECTACULAR ROUTES

### PRETORIA – CAPE TOWN – PRETORIA

The route between Pretoria and Cape Town is a 27-hour journey through some of the most diverse and spectacular scenery the sub-continent has to offer. Southbound off-train excursions include the diamond town of Kimberley, explore the Big Hole and the Diamond Museum. Northbound, visit the small town of Matjiesfontein, which includes the famous Lord Milner Hotel and the Old Car Museum.

### GARDEN ROUTE

The Blue Train takes you on a 2-night and 1<sup>1</sup>/<sub>2</sub>-days journey between Cape Town and Port Elizabeth over the majestic Outeniqua Pass, stopping at Oudtshoorn for a memorable off-train excursion, explore the Cango Caves and an Ostrich farm, ending at a local restaurant which prides itself on serving typical South African cuisine.

## TAILOR MADE CHARTERS

Why not charter The Blue Train for strategic meetings, product launches, VIP cocktail parties, VIP breakfasts, lunches and dinners, weddings and more. You can also book a charter with a difference such as a Golfing or Safari charter. Traverse along the Victoria Falls route where The Blue Train offers a window to view nature situated to the north of South Africa's borders. The route winds its way to the awesome 'Smoke that Thunders'. Or make your way through the unique beauty of the Olifants Valley to the Game Reserves and other attractions of Mpumalanga. Charters are not limited to the charter options or the routes mentioned above. Charters are dependant on rail networks' compatibility with The Blue Train's technology.

YOU CAN ALSO VISIT THE BLUE TRAIN OFFICE AT JHB AIRPORT, INTERNATIONAL ARRIVAL HALL, TERMINAL 2 OR CALL (011) 978-3110/3113 (OPEN 7 DAYS A WEEK 06h30 - 23h00)



**THE BLUE TRAIN**

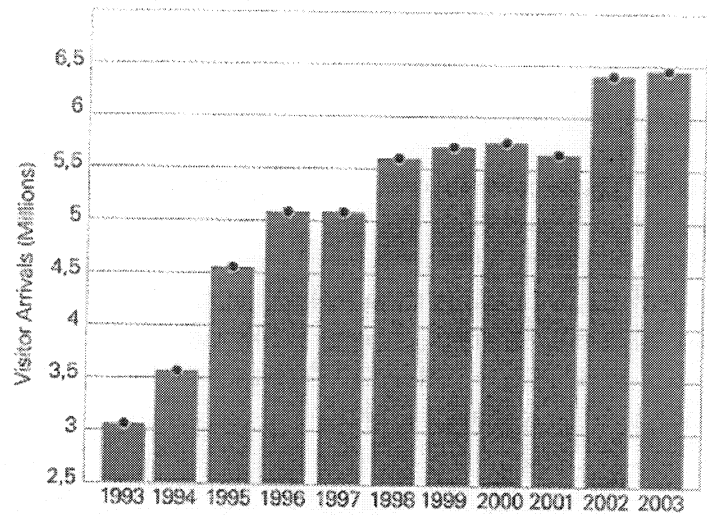
A WINDOW TO THE SOUL OF SOUTH AFRICA

FOR RESERVATION ENQUIRIES, TEL: 012-334-8459 /8460 (PRETORIA) OR 021-449-2672 (CAPE TOWN), FAX: 012-334-8464/8081 OR 021-449-3338, BLUETRAIN@TRANSNET.CO.ZA, WWW.BLUETRAIN.CO.ZA

## ADDENDUM F

## Tourism will become one of our biggest job creators

- Tourism Arrivals in 2003: **6,5 million**
- International tourist spend in South Africa in 2003: **R53,9bn**
- Local tourist spend in South Africa in 2003: **R47bn**
- Tourism employment in 2003: **512 000** people
- South Africa ranked **30<sup>th</sup>** of top destinations worldwide
- South African Tourism marketing spend: **R400m**
- **72 percent** of tourists are from Africa.



Overall Visitor Arrivals To South Africa



ADDENDUM G

