



education

Department:
Education
REPUBLIC OF SOUTH AFRICA

SENIORSERTIFIKAAT-EKSAMEN - 2006

REKENINGKUNDE

HOËR GRAAD

FEBRUARIE/MAART 2006

401-1/0 A

Punte: 400

3 Ure

Hierdie vraestel bestaan uit 19 bladsye.

REKENINGKUNDE HG
Vraestel & Antwoordboek



401 1 0A

HG

X05



HIERDIE BLADSY MOET BLANKO GEHOU WORD

INSTRUKSIES

1. Beantwoord AL die vrae.
2. 'n Spesiale ANTWOORDEBOEK word voorsien waarin AL die vrae beantwoord moet word.
3. Toon AL die berekeninge sodat deelpunte toegeken kan word.
4. Lees die instruksies noukeurig deur en voer dit stiptelik uit.
5. Kandidate sal punte verbeur vir:
 - 5.1 Weglating van belangrike datums
 - 5.2 Gebruik van niegestandaardiseerde afkortings
 - 5.3 Oormekaarskryf van syfers
 - 5.4 Onnodige inskrywings/vreemde items/beginselfoute
6. Nieprogrammeerbare sakrekenaars mag gebruik word.
7. Geen bladsye mag uit die antwoordeboek verwyder word nie. Die antwoordeboek maak voorsiening vir alternatiewe formate van finansiële state.
8. Gebruik die inligting in die onderstaande tabel as 'n riglyn vir die beantwoording van die vraestel en probeer om nie daarvan af te wyk nie.

VRAAG	ONDERWERP	PUNTE	TYDGIDS Minute
1	Rekeningkundige vergelyking Vennootskap	50	22 minute
2	Bateverkope	35	16 minute
3	Periodieke voorraadstelsel	48	22 minute
4	Maatskappy	94	42 minute
5	Klub	74	34 minute
6	Beslote korporasie	67	30 minute
7	Kontantbegroting	32	14 minute
	TOTAAL	400	180 minute

VRAAG 1**VENNOOTSKAPPE****(50 punte; 22 minute)**

Die onderstaande inligting is geneem uit die rekeningkundige rekords van Jakaranda Handelaars, vennote J. Jak en C. Randa, vir September 2005.

OPDRAG:

Op die antwoordblad voorsien, dui die rekeninge in die **Algemene Grootboek wat gedebiteer en gekrediteer** moet word aan, die **bedrag** asook die **effek op die rekeningkundige vergelyking** in verband met die volgende transaksies vir September 2005.

Volg die voorbeeld wat gegee word.

LET WEL: Neem aan dat die banksaldo te alle tye **ongunstig** is.

Indien daar meer as een inskrywing vir 'n transaksie is, is dit **NIE** nodig om die **netto effek** van al die transaksies te toon **NIE**. Indien daar geen effek is nie, moet dit met 'n '0' aangedui word.

Die **deurlopende voorraadstelsel** is in gebruik.

Jakaranda Handelaars maak van **kontrolerekeninge** in die Algemene Grootboek, asook van **hulpgrootboeke** vir die persoonlike rekening van die Debiteure en Krediteure gebruik.

VOORBEELD:

'n Tjek van R800 is ten gunste van BB Handelaars uitgereik ter betaling van skryfbehoeftes, R200 en R600 vir die aankoop van goedere.

Nr.	ALGEMENE GROOTBOEK			REKENINGKUNDIGE VERGELYKING		
	Rekening gedebiteer	Rekening gekrediteer	Bedrag	Bates	Eienaars-belang	Laste
Bv.	Skryfbehoeftes	Bank	200	0	-	+
	Handelsvoorraad	Bank	600	+	0	+

INLIGTING SEPTEMBER 2005:

1. Goedere op krediet aangekoop van Poppy Groothandelaars, R1 800 min 10%-handelskorting. Een derde van die goedere is vir vennoot J. Jak se persoonlike gebruik aangekoop.
2. Jakaranda Handelaars het op 15 September 2005 'n rekenaar vir kantoorgebruik teen 'n kosprys van R10 000 van IT2U aangekoop. 'n Deposito van R2 500 is op dieselfde datum betaal. Die saldo sal in 6 gelyke paaiemente van R1 250 elk vanaf die volgende maand betaal word.
3. 'n Tjek ten bedrae van R40 560 is ontvang van Rand Bank ten opsigte van 'n vaste deposito wat verval het. Die bedrag sluit rente teen 12% per jaar vir vier maande in.
4. Vennoot C. Randa het gedurende September haar maandelikse salaris vir September en Oktober per tjek onttrek, teen R11 000 per maand.
5. 'n Tweedehandse kasregister, gewaardeer teen R3 400, is van R. Naidoo aanvaar, as betaling van sy skuld, R3 600. Sy skuld is reeds verlede jaar afgeskryf.

Aansuiwerings op 30 September 2005 – die einde van die rekenpligtige tydperk. (Toon slegs aan hoe al die aansuiwerings gedoen sal word. Dit is nie nodig om die sluitingsoordragte te toon nie.)

6. Vennoot C. Randa verdien 'n maandelikse salaris van R11 000. (Sien punt 4 hierbo.)
7. Die vennote is geregtig op 15% p.j. rente op hulle maandelikse saldo's van hulle kapitaal-rekening. Hulle het hulle bydraes op 1 Januarie 2005 vermeerder/verminder sodat hulle bydraes gelyk sou wees. Besonderhede van hulle kapitaalbydraes is soos volg:

KAPITAAL	J. JAK	C. RANDA
Saldo op die laaste dag van die vorige jaar	400 000	200 000
Addisionele kapitaal bygedra		100 000
Vermindering in kapitaal	100 000	
Saldo op die laaste dag van die huidige jaar	300 000	300 000

VRAAG 2**BATEVERKOPE****(35 punte; 16 minute)**

Die onderstaande inligting is geneem uit die rekeningkundige rekords van BB Couriers. Die finansiële periode eindig op 28 Februarie elke jaar.

OPDRAG:

Gebruik die gegewe inligting om die volgende te beantwoord:

- 2.1 Voltooi die kolomme van die bateregister deur die Waardevermindering, asook die Opgehoopte Waardevermindering op Voertuie ten opsigte van voertuig MGN111GP vir elke jaar te bereken. Al jou berekeninge moet tussen hakies in die kolomme voorsien, getoon word om deelpunte te verdien. (18)
- 2.2 Bereken die wins/verlies op die bate wat verkoop is op 31 Mei 2004. (8)
- 2.3 Bereken die bedrag vir boekwaarde (drawaarde) van die voertuie op 28 Februarie 2005, soos wat dit in die Balansstaat sal verskyn. (Die nota word nie verlang nie.) (9)

LET WEL: Al die berekeninge moet getoon word, aangesien deelpunte daarvoor toegeken sal word.

INLIGTING:

INLIGTING OP DIE BATEREGISTER VAN VOERTUIE VAN BB COURIERS				
Voertuig se registrasienommer	Datum aangekoop	Datum verkoop	Kosprijs	Opgehoopte waardevermindering 28 Februarie 2005
HLN298GP	1 Januarie 2002		R 90 000	R45 456
MGN111GP	1 September 2002	31 Mei 2004	R180 000	0
RGB390GP	1 Junie 2004		R240 000	?

ADDISIONELE INLIGTING:

- BB Couriers verminder hulle voertuie se waarde teen 20% p.j. volgens die verminderdesaldo-metode.
- Voertuig MGN111GP is op krediet aan PD Valla vir R130 000 verkoop.
- Voertuig RGB390GP is op krediet van Reliable Motors aangekoop.

VRAAG 3**PERIODIEKE VOORRAADSTELSEL****(48 punte; 22 minute)**

Die volgende inligting is geneem uit die boeke van Monare Handelaars, eienaar Mark Monare, 'n onderneming wat sy boeke volgens die **periodieke voorraadstelsel** byhou. Monare Handelaars adverteer dat hulle die pryse van enige mededinger sal ewenaar of verbeter. Hulle gebruik 'n winsopslag van 25% op kosprys.

OPDRAG:

3.1 Voltooi die volgende rekeninge in die Algemene Grootboek op 28 Februarie 2005. Saldeer/Sluit die rekeninge af op 28 Februarie 2005 - **die einde van die rekeningkundige tydperk.**

- Aankoperekening (10)
- Handelsrekening (18)

3.2 Monare Handelaars maak gebruik van 'n winsopslagpersentasie van 25% op die kosprys wanneer verkooppriese op goedere vasgestel word.

3.2.1 Bereken die werklike winsopslagpersentasie wat gedurende die rekenpligtige tydperk behaal is. (4)

3.2.2 Bereken die omsetsnelheid van die voorraad vir die rekenpligtige tydperk. (4)

3.3 Beantwoord die probleemoplossingsvraag wat volg.

Uittreksel uit: VOORAANSUIWERINGSPROEFBALANS OP 28 FEBRUARIE 2005	R
Handelsvoorraad (1 Maart 2004)	481 000
Krediteurekontrole	46 800
Aankope	378 000
Verkope	913 500
Debiteure-afslag	95 700
Vraggeld op aankope	5 792
Doeanebelasting	5 400
Ander oorhoofse koste/bokoste	105 000

AANSUIWERINGS EN ADDISIONELE INLIGTING:

1. Voorraad met 'n kosprys van R1 280 is op 15 Februarie 2005 aan 'n tehuis vir straatkinders geskenk; dit is nog nie in die boeke aangeteken nie.
2. 'n Faktuur is van ZZ Vervoerders op 20 Februarie 2005 ontvang vir die vervoer van handelsvoorraad:
 - Na Monare Handelaars, R360
 - Aan kliënte, R680

3. Die eienaar het op 27 Februarie 2005 handelsvoorraad teen kosprys vir eie gebruik onttrek. Die boekhouer het egter die Onttrekkingsrekening gedebiteer en die Verkoperekening met die verkoopprys, R740, gekrediteer. Korrigeer die fout.
4. Goedere ten bedrae van R15 480 is aan verskaffers teruggestuur gedurende die rekeningkundige tydperk.
5. 'n Faktuur vir goedere verkoop aan R. Radebe is nog nie aangeteken nie. Die verkoopprys van die goedere was R12 000, maar Radebe het gesê dat hy dieselfde goedere by 'n mededinger teen R10 500 kan aankoop. Die winkelassistent, Tume, het toegestem om die prys te ewenaar toe sy die faktuur voorberei het.
6. 'n Fisiese voorraadopname toon die waarde van voorraad voorhande op 28 Februarie 2005 as R160 920.

3.3 Probleemoplossingsvraag:

Verwys na VRAAG 3.2. Mark is ontevrede oor die bruto- en netto wins. Hy oorweeg dit om die winsopslag na 30% op die kosprys te vermeerder om sy netto inkomste te verhoog.

- 3.3.1 Noem TWEE redes waarom jy voel dat Mark ontevrede is met die bruto- en netto wins. (4)
- 3.3.2 Watter prosedures moet Mark Monare na jou mening volg om die probleem op te los? Noem TWEE geldige opsies wat hy het en bespreek elke opsie kortliks. (8)

VRAAG 4**MAATSKAPPY****(94 punte; 42 minute)**

ACE Beperk is gemagtig met 'n aandelekapitaal van 200 000 gewone aandele met 'n nominale waarde van R5 elk. Die onderstaande inligting is geneem uit die finansiële state op 28 Februarie 2005, **die einde van die finansiële jaar.**

OPDRAG:

Bestudeer die inligting om:

- 4.1 Die volgende rekeninge in die Algemene Grootboek te voltooi. Saldeer/Sluit die rekeninge af op 28 Februarie 2005.
- Gewone aandeledividenderekening (6)
 - Verdelingsrekening (11)
- 4.2 Bereken hoeveel nuwe aandele op 1 Maart 2004 uitgereik is. (7)
- 4.3 Voltooi die Nota tot die Kontantvloeistaat vir die rekonsiliasie van netto wins voor belasting en kontant verkry uit bedrywigheede vir die jaar geëindig 28 Februarie 2005. (16)
- 4.4 Toon die volgende aan soos wat dit in die Kontantvloeistaat sal verskyn:
- 4.4.1 Kontantvloei uit beleggingsaktiwiteite (10)
 - 4.4.2 Kontantvloei uit finansieringsaktiwiteite (5)
- 4.5
- 4.5.1 Voltooi die Rente-op-Leningsrekening (6)
 - 4.5.2 Watter bedrag sal op die gesig (voorkant) van die Kontantvloeistaat verskyn ten opsigte van Rente-op-lening vir die huidige jaar? (2)
- 4.6 Die direkteure is nie seker of die premie gevra op die verkoop van die nuwe aandele, uitgereik op 1 Maart 2004, gepas is of nie.
- 4.6.1 Bereken die Netto Batewaarde per aandeel op 28 Februarie 2004, dit is die vorige finansiële jaar. (6)
 - 4.6.2 Was die direkteure, na jou mening, reg om die aandele teen 650 sent op 1 Maart 2004 uit te reik? Neem in aanmerking dat die netto batewaarde vir die huidige jaar 615 sent was. Gee TWEE redes vir jou antwoord. (6)
- 4.7 Opbrengs op Aandeelhoudersbelang:
- 4.7.1 Gee EEN rede waarom hierdie verhouding vir die aandeelhouer belangrik is. (2)
 - 4.7.2 Bereken die Opbrengs op Aandeelhoudersbelang vir 2005. (5)
 - 4.7.3 Lewer kortliks kommentaar oor jou bevinding in VRAAG 4.7.2 as die Opbrengs op Aandeelhoudersbelang in 2004 18,25% was. (2)

4.8 Skuld/Eienaarsbelangverhouding

4.8.1 Bereken die Skuld/Eienaarsbelangverhouding vir die huidige rekeningkundige tydperk. (4)

4.8.2 Indien die Opbrengs op Kapitaal Aangewend 16% in 2004 was, lewer kortliks kommentaar oor die Skuld/Eienaarsbelangverhouding vir 2005. (6)

INLIGTING:

Uittreksel uit: INKOMSTESTAAT VIR DIE JAAR GEËINDIG 28 FEBRUARIE 2005	
Omset	1 500 000
Belasting	32 000
Waardevermindering vir die huidige jaar	?
Rente op lening: Good Bank	14 400

Uittreksel: BALANSSTAAT	2005 28 Februarie	2004 28 Februarie
VASTE BATES		
Vaste bates teen drawaarde	820 000	680 000
BEDRYFSBATES	170 800	114 750
Voorraad/inventarisse	86 000	60 000
Handelsdebiteure	76 000	54 000
Opgelope inkomste	500	750
Kontant en kontantekwivalente	4 300	0
SAID: Inkomstebelasting	4 000	0
AANDEELHOUERSBELANG	590 000	480 000
Gewone aandelekapitaal (Pari-waarde R5 per aandeel)	?	400 000
Aandelepemie	?	0
Behoue inkomste	86 000	80 000
NIE-BEDRYFSLASTE		
Lening: Good Bank (12% p.j.)	140 000	100 000
BEDRYFSLASTE	260 800	214 750
Handelskrediteure	201 800	169 150
SAID: Inkomstebelasting	0	8 800
Oortrokke bank	0	2 800
Aandelhouders vir dividende	57 600	32 000
Opgelope uitgawes: Rente op lening	1 400	2 000

ADDISIONELE INLIGTING:**1. Vaste bates:**

Vaste bates bestaan slegs uit Grond en Geboue en slegs **een voertuig**. Daar is gedurende die jaar uitbreidings aan die geboue gedoen en een voertuig is op 28 Februarie 2005 teen boekwaarde verkoop. Besonderhede van die voertuig verkoop verskyn soos volg in die Vaste Bateregister op datum van verkope:

Kosprys	R200 000
Opgehoopte waardevermindering tot op datum (28 Februarie 2005)	R128 000
Wins/Verlies gemaak	Nul
Waardeverminderingakoers	12% op kosprys

2. Gewone aandelekapitaal en gewone aandeledividende:

- Alle aandele uitgereik tot op 28 Februarie 2004 is teen pari-waarde uitgereik.
- Bedrae verskuldig aan aandeelhouders vir dividende vir 2004 is op 10 April 2004 betaal.
- Nuwe aandele uitgereik op 1 Maart 2004 is teen 'n premie van R1,50 elk uitgereik.
- 'n Interim dividend van R14 400 is op 1 Oktober 2004 verklaar en is op 15 Oktober 2004 betaal.
- 'n Finale dividend is op 28 Februarie 2005 verklaar.

3. Lening: Good Bank

- Die lening is op 1 September 2004 verhoog.
- Rente is bereken op 12% p.j. vir die huidige jaar.

VRAAG 5**KLUB****(74 punte; 34 minute)**

'n Vloed het die rekords van Diphala Sokkerklub vernietig.

OPDRAG:

5.1 Voltooi die volgende rekeninge in die **Algemene Grootboek** van Diphala Sokkerklub. Saldeer/Sluit die rekeninge af op 31 Desember 2004.

- Ledegeldrekening (15)
- Sokkeraandenkings (Hierdie is 'n nominale rekening wat die wins/verlies op die verkoop van aandenkings moet toon.) (12)

5.2 Gebruik die inligting om die **Staat van Ontvangste en Betalings** vir die jaar geëindig 31 Desember 2004 op te stel. (Waar grootboekrekeninge nie verlang word nie, moet berekeninge tussen hakies getoon word.) (47)

INLIGTING:

DIPHALA SOKKERKLUB STAAT VAN INKOMSTE EN BETALINGS VIR DIE JAAR GEËINDIG 31 DESEMBER 2004	
INKOMSTE	414 100
Ledegeld	112 800
Wins op verkoop van sokkeraandenkings	45 300
Kontantdonasie van die munisipaliteit	66 000
Huurinkomste: Sokkerstadion	190 000
UITGAWES	(283 940)
Ledegeld afgeskryf	200
Salarisse en lone	36 000
Onderhoud van stadion	52 928
Water en elektrisiteit	9 000
Skryfbehoeftes	2 656
Telefoon	1 376
Versekering	21 280
Waardevermindering op sokkertoerusting	160 500
SURPLUS VAN ALGEMENE AKTIWITEITE	130 160
Rente op vaste deposito	1 375
NETTO SURPLUS VIR DIE JAAR	131 535

DIPHALA SOKKERKLUB LYS VAN SALDO'S			
		31 Des. 2004 R	31 Des. 2003 R
Kapitaalfonds		13 145 015	13 013 480
Sportstadion		12 000 000	12 000 000
Sokkertoerusting		1 600 000	1 300 000
Opgehoopte waardevermindering op sokkertoerusting		(440 500)	(280 000)
Vaste deposito (10% p.j.)		10 000	15 000
Inventarisse	1	4 650	8 980
Ontvangbares	2	2 580	4 100
Kontant en kontantekwivalente		172 385	1 200
Betaalbares	3	204 100	14 000
Oortrokke bank		0	21 800

1	INVENTARISSE BESTAAN UIT:	31 Des. 2004 R	31 Des. 2003 R
	Voorraad sokkeraandenkings	4 000	8 000
	Verbruiksvorraad voorhande: Skryfbehoeftes	650	980
		4 650	8 980

2	ONTVANGBARES BESTAAN UIT:	31 Des. 2004 R	31 Des. 2003 R
	Opgelope inkomste: Ledegeld	800	2 400
	Vooruitbetaalde uitgawes: Versekering	1 780	1 700
		2 580	4 100

3	BETAALBARES BESTAAN UIT:	31 Des. 2004 R	31 Des. 2003 R
	Krediteure	200 000	10 000
	Vooruitontvange inkomste (Uitgestelde): Ledegeld	2 600	3 000
	Opgelope uitgawes: Salarisse en lone	1 500	1 000
		204 100	14 000

ADDISIONELE INLIGTING:

1. Sokkertoerusting is op krediet aangekoop van NNN Sport Voorsieners, R300 000.
2. Een van die vaste deposito's verval op 1 Oktober 2004. Die bedrag is op dieselfde dag in die lopende bankrekening gedeponeer.
3. 'n Kontantdonasie van R66 000 is van die munisipaliteit ontvang.
4. Die klub hou 'n voorraad aandenkings vir verkoop aan die lede. Die aandenkings bestaan uit vuvuzelas, hoede, kentekens en sambrele. Bogenoemde is op krediet deur die klub aangekoop, R60 000, asook vir kontant, R40 000. Aandenkings word slegs vir kontant deur lede aangekoop.
5. Daar is geen ander kredietaankope gemaak nie.

VRAAG 6**BESLOTE KORPORASIE****(67 punte; 30 minute)**

Jy word voorsien van inligting met betrekking tot MP HANDELAARS, 'n beslote korporasie, vir die jaar geëindig 30 Junie 2005. Die boekhouer het die netto inkomste op R333 000 bereken, maar sommige van die aansuiwerings is nie in berekening gebring nie.

Die belang van die twee lede in die beslote korporasie is M. Minnie, 55% en A. Pillay, 45%.

OPDRAGTE:

Gebruik die inligting verskaf om:

- 6.1 Die korrekte **netto inkomste na belasting** vir die jaar geëindig 30 Junie 2005 te bereken. Gebruik die boekhouer se bedrag van R333 000 as jou aanvangsyfer. (23)
- 6.2 Berei die volgende **Notas tot die Finansiële State** voor:
- 6.2.1 Behoue inkomste (9)
- 6.2.2 Handels- en ander krediteure (19)
- 6.3 Voltooi slegs die Ekwiteit (Fondse)- en Laste-afdeling van die **Balansstaat** op 30 Junie 2005. (16)

LET WEL:

- **Waar van toepassing, moet berekeninge tussen hakies getoon word om deelpunte te verdien.**

INLIGTING:

UITTREKSEL: SALDO'S IN DIE ALGEMENE GROOTBOEK 30 JUNIE 2005		
	Debiet	Krediet
Ledebydraes		613 400
Behoue inkomste (1 Julie 2004)		120 000
Toerusting	132 800	
Opgehoopte waardevermindering op toerusting (1 Julie 2004)		123 000
Handelsvoorraad	180 000	
Debiteurekontrole	66 000	
Voorsiening vir oninbare skulde		3 000
Oortrokke bank		113 500
Lening aan lid: M. Minnie (12% p.j.)	30 000	
SA Inkomstediens: Inkomstebelasting	86 500	
SA Inkomstediens: LBS		12 000
Krediteure vir salarisse		36 000
Lening van lid: A. Pillay (10% p.j.)		137 700
Krediteurekontrole		40 200

AANSUIWERING EN ADDISIONELE INLIGTING**DIE NETTO INKOMSTE VAN DIE BESLOTE KORPORASIE VOOR BELASTING
WAS R333 000 VOOR DIE VOLGENDE IN AANMERKING GENEEM IS:**

- Die boekhouer het nie die waardevermindering op toerusting teen 10% p.j. jaar op die kosprys in berekening gebring nie.
LET WEL: Die toerusting is baie oud en nader die vervangingsdatum.
- Die LBS-afrekkings van een werknemer is verkeerd bereken in die Salarisjoernaal van Junie 2005. 'n Bedrag van R2 000 is afgetrek, maar die korrekte bedrag is R1 200.
- Daar is vasgestel dat 'n tjek vir R50 000, gedateer 15 Julie 2005, uitgereik aan WE Bouers op 10 Junie 2005, in die Kontantbetalingsjoernaal op daardie datum aangeteken is. Die tjek was ten opsigte van uitbreidings aan die geboue wat in Junie 2005 voltooi is.

4. Volgens die leningsooreenkoms moet lid A. Pillay R48 000 plus rente jaarliks op 30 Junie betaal. Op 30 Junie 2005 het die boekhouer die volgende inskrywing gemaak:

Lening: A. Pillay	Dt	R60 300
Bank	Kt	R60 300

Hierdie bedrag sluit die rente op die lening, R12 300, vir die rekeningkundige tydperk in.

5. 'n Brand het voorraad wat R5 000 kos, vernietig. Die ABC Versekeringsmaatskappy het ingestem om 40% van die eis te betaal, aangesien die onderneming onderverser was. Die onderneming het nog nie die tjek van die versekeringsmaatskappy ontvang nie.
6. 'n Fisiese voorraadopname het die waarde van die voorraad voorhande, as R172 500 getoon.
7. Die voorsiening vir oninbare skulde moet verminder word na R2 800.
8. Die inkomstebelasting vir die rekeningkundige tydperk bedra R99 000.
9. 'n Tussentydse verdeling van wins, R45 000, is verklaar en betaal in Desember 2004. 'n Finale verdeling van R95 000 is op 30 Junie 2005 verklaar en dit sal op 15 Julie 2005 betaal word en tussen die lede volgens die ooreengekome verhouding verdeel word.

VRAAG 7**KONTANTBEGROTING****(32 punte;14 minute)**

Dudu Mogase beoog om 'n onderneming, Finale Handelaars, te begin.

OPDRAG:

- 7.1 Bestudeer die inligting verskaf van sy kontantbegroting vir die eerste drie maande van handel dryf en beantwoord die vrae wat volg.

INLIGTING:

FINALE HANDELAARS KONTANTBEGROTING VIR FEBRUARIE TOT APRIL 2006			
KONTANTONTVANGSTE	2006 28 Februarie	2006 31 Maart	2006 30 April
Kapitaalbydrae	196 000		
Kontantverkope	270 000	275 400	280 908
Invorderings van debiteure	0	54 000	88 380
Lening: Karen-E Bank 18% p.j.	144 000	0	0
TOTALE ONTVANGSTE	610 000	329 400	369 288
KONTANTBETALINGS			
Kontantaankope van voorraad	90 000	91 800	93 636
Betalings aan krediteure	0	86 400	88 128
Grond en geboue	300 000	10 000	10 000
Toerusting	50 000	15 000	15 000
Advertensie	30 000	0	0
Onttrekkings	18 000	18 000	18 000
Rente op lening	0	2 160	2 160
Salaris van die vloerbestuurder	10 000	10 000	10 000
Loon van die 3 winkelassistente	9 000	9 000	9 000
Ander oorhoofse koste	76 600	53 000	45 000
TOTALE BETALINGS	583 600	295 360	290 924
KONTANTSURPLUS (TEKORT)	26 400	34 040	78 364
BANK (Aanvangsaldo)	0	26 400	60 440
BANK (Eindsaldo)	26 400	60 440	104 764

ADDISIONELE INLIGTING:

Dudu Mogase beplan om 'n winsopslag van 100% op kosprys te gebruik en hy verwag die volgende verkoopsyfers:

Februarie 2006	R360 000
Maart 2006	R367 200
April 2006	R374 544

Hy sal maandeliks sy voorraad vervang en beoog om die handelsvoorraadsaldo op R216 000 te hou.

BEANTWOORD DIE VOLGENDE VRAE:

7.1.1 Bestudeer die begrote bedrag vir advertensiekoste van Finale Handelaars. Stem jy saam met Dudu se beoogde advertensieplan? Lewer kortliks kommentaar. (4)

7.1.2 Dudu voel dat hy nie met die begrote bedrag vir onttrekkings van R18 000 per maand sal uitkom nie. Hy wil sy onttrekkings met 50% vermeerder. Dink jy dat dit 'n geldige opsie vir Dudu is? Verduidelik. (4)

7.1.3 Watter persentasie van sy verkope sal op krediet wees? Toon jou berekening. (5)

7.1.4 Dudu sal die krediteure na 30 dae betaal. Bereken die persentasie kontantkorting wat hy verwag om van hulle te ontvang in Maart 2006? (5)

7.1.5 • Bereken die persentasie van die debiteure wat hulle rekeninge na een maand sal vereffen. Geen korting word aan debiteure toegestaan nie. (4)

• Is die debiteure-invordering na jou mening aanvaarbaar? Verduidelik kortliks. (2)

7.2 Dudu het aan die einde van April 2006, na drie maande se handel dryf, die volgende vasgestel:

Item	Begrote Syfers	Werklike Syfers	Persentasie Vermeerdering/ Vermindering
Totale verkope	R1 101 744	R1 322 092	+20%
Aankope	R550 872	R561 889	+2%
Salaris: Bestuurder	R24 000	R28 800	+20%
Lone: Winkelassistente	R9 000	R9 000	0%
Ander oorhoofse uitgawes	R174 600	R183 330	+5%

Bostaande werklike syfers toon dat Dudu moontlik sekere probleme sal ondervind met sy onderneming. Identifiseer en verduidelik TWEE potensiële probleme. Maak voorstelle vir 'n moontlike oplossing vir elke probleem. (8)


**GAUTENG DEPARTMENT OF EDUCATION
GAUTENGSE DEPARTEMENT VAN ONDERWYS**

**ERRATA FOR WEEK 3
ERRATA VIR WEEK 3**

**SENIOR CERTIFICATE EXAMINATION: SUPPLEMENTARY 2006
SENIORSERTIFIKAAT-EKSAMEN: AANVULLENDE 2006**

SESSION 23 / SESSIE 23 (am)

401-1/0A - Rekeningkunde HG
401-2/0E - Accounting SG




education

Department:
Education
REPUBLIC OF SOUTH AFRICA

**ERRATA FOR THE SENIOR CERTIFICATE SUPPLEMENTARY EXAMINATION -
FEBRUARY/MARCH 2006**

REKENINGKUNDE HG

Page 14 **Sport Voorsieners** - one word **Sportvoorsieners**



education

Department:
Education
REPUBLIC OF SOUTH AFRICA

**ERRATA FOR THE SENIOR CERTIFICATE SUPPLEMENTARY EXAMINATION -
FEBRUARY/MARCH 2006**

ACCOUNTING SG

Page 5 3.5 Change **unpaid** cheque - to **A dishonoured** cheque

CENTRE NUMBER/SENTRUMNOMMER

--	--	--	--	--	--	--	--

CANDIDATE'S EXAMINATION NUMBER/KANDIDAAT SE EKSAMENNUMMER

--	--	--	--	--	--	--	--	--	--	--	--	--

SENIOR CERTIFICATE EXAMINATION
SENIORSERTIFIKAAT-EKSAMEN

FEBRUARY/MARCH 2006
FEBRUARIE/MAART 2006

DEPARTMENT OF EDUCATION
DEPARTEMENT VAN ONDERWYS

ACCOUNTING HIGHER GRADE
REKENINGKUNDE HOËR GRAAD

SPECIAL ANSWER BOOK/SPEZIALE ANTWOORDEBOEK

This answer book consists of 18 pages.
Hierdie antwoordeboek bestaan uit 18 bladsye.

QUESTION VRAAG	MARKS PUNTE	INITIAL PARAFEER	MOD. MOD.
1.			
2.			
3.			
4.			
5.			
6.			
7.			
TOTAL TOTAAL			

QUESTION 1/VRAAG 1

No./ Nr.	GENERAL LEDGER/ ALGEMENE GROOTBOEK			ACCOUNTING EQUATION/ REKENINGKUNDIGE VERGELYKING		
	Account debit/ Rekening gedebiteer	Account credit/ Rekening gekrediteer	Amount/ Bedrag	Assets/ Bates	Owners' Equity/ Eienaars- belang	Liabi- lities/ Laste
e.g. Bv.	Stationery/ Skryfbehoeftes	Bank/ Bank	200		-	+
	Trading Stock/ Handelsvoorraad	Bank/ Bank	600	+		+
1						
2						
3						
4						
5						
6						
7						

TOTAL/ TOTAAL
50

QUESTION 2/VRAAG 2

2.1

*Extract: ASSET REGISTER BB COURIERS/
 Uittreksel: BATEREGISTER BB COURIERS*

VEHICLES/VOERTUIG

Toyota Hilux: MGN111GP

COST PRICE/KOSPRYS: R180 000

Date purchased: 1 September 2002

DATE SOLD: 31 May 2004

Datum aangekoop: 1 September 2002

DATUM VERKOOP: 31 Mei 2004

DEPRECIATION: 20% p.a. on diminishing balance method/

WAARDEVERMINDERING: 20% p.j. op die verminderdesaldo-metode

Date/ Datum	Calculation/ Berekening	Depreciation/ Waardevermin- dering	Accumulated depreciation to date/ Opgehoopte waardevermin- dering tot op datum

Marks/
Punte

18

**2.2 PROFIT/LOSS ON SALE OF ASSET/
 2.2 WINS/VERLIES OP VERKOOP VAN BATE**

Marks/
Punte

8

2.3	CARRYING VALUE VEHICLES – 28 FEBRUARY 2005/ 2.3	DRAWAARDE VOERTUIG – 28 FEBRUARIE 2005

Marks/
Punte

9

TOTAL/ TOTAAL
35

QUESTION 3/VRAAG 3

3.1

Dr	GENERAL LEDGER OF MONARE TRADERS/ ALGEMENE GROOTBOEK VAN MONARE HANDELAARS										Cr
Dt	PURCHASES ACCOUNT/ AANKOPEREKENING										Kt
2005 Feb	28										

Marks/
Punte

10

TRADING ACCOUNT/ HANDELSREKENING											
2005 Feb	28										

Marks/
Punte

18

3.2.1	ACTUAL MARK-UP PERCENTAGE ACHIEVED/ WERKLIKE WINSOPSLAGPERSENTASIE BEHAAL

Marks/
Punte

4

3.2.2 RATE OF STOCK TURNOVER/ OMSETSNELHEID VAN VOORRAAD

Marks/
Punte

4

3.3	PROBLEM SOLVING/PROBLEEMOPLOSSING
3.3.1	Provide TWO reasons why you feel Mark is unhappy about the gross and the net profit. Noem TWEE redes waarom jy voel dat Mark ontevrede is met die bruto- en netto wins.
	•
	•
3.3.2	Procedures to solve the problem/Prosedures om die probleem op te los
	•
	•

TOTAL/ TOTAAL
48

Marks/
Punte

12

QUESTION 4/VRAAG 4

4.1

Dr	GENERAL LEDGER OF ACE LIMITED/ ALGEMENE GROOTBOEK VAN ACE BEPERK								Cr
Dt	ORDINARY SHARE DIVIDENDS/ GEWONE AANDELEDIVIDENDE								N9

Marks/
Punte

6

APPROPRIATION ACCOUNT/ VERDELINGSREKENING									

Marks/
Punte

11

4.2	NUMBER OF NEW SHARES ISSUED/ AANTAL NUWE AANDELE UITGEREIK								

Marks/
Punte

7

**4.3 NOTES TO THE CASH FLOW STATEMENT/
 NOTAS TOT DIE KONTANTVLOEISTAAT**

RECONCILIATION BETWEEN NET PROFIT BEFORE TAXATION AND CASH GENERATED FROM OPERATIONS/ REKONSILIASIE VAN NETTO WINS VOOR BELASTING EN KONTANT VERKRY UIT BEDRYWIGHEDE	
Adjustment in respect of/Aansuiwerings ten opsigte van	
Operating profit before changes in working capital/ Bedryfswins voor verandering in bedryfskapitaal	
Net change in working capital/ Netto verandering in bedryfskapitaal	
Cash generated from operations/ Kontant uit bedrywighede voortgebring	

Marks/
Punte

16

4.4.1 CASH FLOW FROM INVESTING ACTIVITIES/ KONTANTVLOEI UIT BELEGGINGSAKTIVITEITE	

Marks/
Punte

10

4.4.2 CASH FLOW FROM FINANCING ACTIVITIES/ KONTANTVLOEI UIT FINANSIERINGSAKTIVITEITE	

Marks/
Punte

5

4.5 INTEREST ON LOAN ON FACE OF CASH FLOW STATEMENT/ RENTE OP LENING OP DIE GESIG VAN DIE KONTANTVLOEISTAAT									
Dr		GENERAL LEDGER OF ACE LIMITED/ ALGEMENE GROOTBOEK VAN ACE BEPERK						Cr	
Dt								Kt	
4.5.1		INTEREST ON LOAN/ RENTE OP LENING							

4.5.2 AMOUNT TO BE SHOWN ON FACE OF CASH FLOW STATEMENT/ BEDRAG WAT OP DIE GESIG VAN DIE KONTANTVLOEISTAAT GETOON WORD									

*Marks/
Punte*

8

4.6.1	CALCULATE THE NET ASSET VALUE PER SHARE. BEREKEN DIE NETTO BATEWAARDE PER AANDEEL.
4.6.2	In your opinion, were the directors correct in issuing the shares at 650c on 1 March 2004? Bear in mind that the net asset value for the current year was 615c. Provide TWO reasons for your answer./ Was die direkteure, na jou mening, reg om aandele teen 650c uit te reik? Neem in aanmerking dat die netto batewaarde vir die huidige jaar 615c was. Gee TWEE redes vir jou antwoord.
Opinion	
Reason	•
	•

*Marks/
Punte*

12

4.7	RETURN ON SHAREHOLDERS' EQUITY/ OPBRENGS OP AANDEELHOUBERSBELANG
4.7.1	Give ONE reason why this ratio is important to the shareholder./ Gee EEN rede waarom hierdie verhouding vir die aandeelhoubers belangrik is.
4.7.2	Calculate the Return on Shareholders' Equity./ Bereken die Opbrengs op Aandeelhoubersbelang.
4.7.3	Briefly comment on Return on Shareholders' Equity./ Lewer kortliks kommentaar oor die Opbrengs op Aandeelhoubersbelang.

Marks/
Punte

9

4.8	DEBT/EQUITY RATIO SKULD/EIENAARSBELANGVERHOUDING
4.8.1	Calculate the Debt/Equity ratio./ Bereken die Skuld/Eienaarsbelangverhouding.
4.8.2	Briefly comment on the Debt/Equity ratio./ Lewer kortliks kommentaar oor die Skuld/Eienaarsbelangverhouding.

Marks/
Punte

10

TOTAL/ TOTAAL
94

QUESTION 5/VRAAG 5

5.1

5.1

Dr	GENERAL LEDGER OF DIPHALA SOCCER CLUB										Cr
Dt	ALGEMENE GROOTBOEK VAN DIPHALA SOKKERKLUB										Kt
MEMBERSHIP FEES ACCOUNT/ LEDEGELDREKENING											

Marks/
Punte

15

SOCCER SOUVENIRS/ SOKKERAANDENKINGS											

Marks/
Punte

12

5.2

DIPHALA SOCCER CLUB/DIPHALA SOKKERKLUB
STATEMENT OF RECEIPTS AND PAYMENTS
FOR THE YEAR ENDED 31 DECEMBER 2004/
STAAT VAN ONTVANGSTE EN BETALINGS
VIR DIE JAAR GEëINDIG 31 DESEMBER 2004

RECEIPTS/ONTVANGSTE		
PAYMENTS/BETALINGS		
SURPLUS (DEFICIT) FOR THE YEAR/ SURPLUS (TEKORT) VIR DIE JAAR		

Marks/
Punte

TOTAL/ TOTAAL
74

47

QUESTION 6/VRAAG 6

6.1 CALCULATION OF CORRECT NET INCOME AFTER TAX/ BEREKEN DIE KORREKTE NETTO INKOMSTE NA BELASTING			
Net income before adjustments/ Netto inkomste voor aansuiwerings			333 000

Marks/
Punte

23

MP TRADERS CC/MP HANDELAARS BK
NOTES TO THE FINANCIAL STATEMENTS – 30 JUNE 2005/
NOTAS TOT DIE FINANSIËLE STATE – 30 JUNIE 2005

6.2.1 Accumulated profit/Retained income/ Opgehoopte wins/Behoue inkomste	

Marks/
Punte

9

6.2.2 Trade and other payables/ Handels- en ander krediteure	

Marks/
Punte

19

6.3

MP TRADERS CC/MP HANDELAARS BK			
BALANCE SHEET AT 30 JUNE 2005/ BALANSSTAAT OP 30 JUNIE 2005			
EQUITY AND LIABILITIES/ EKWITEIT EN LASTE			
MEMBERS EQUITY/ LEDEBELANG			
NON-CURRENT LIABILITIES/ NIEBEDRYFSLASTE			
CURRENT LIABILITIES/ BEDRYFSLASTE			

Marks/
Punte

16

TOTAL/ TOTAAL
67

QUESTION 7/VRAAG 7

7.1

7.1.1	Plans for advertising/ Planne aangaande advertensies

<i>Marks/ Punte</i>
4

7.1.2	Comment on drawings/ Kommentaar aangaande onttrekkings

<i>Marks/ Punte</i>
4

7.1.3	Calculate percentage sales on credit. Bereken persentasie kredietverkope.

<i>Marks/ Punte</i>
5

7.1.4	Calculate the percentage cash discount on creditors payment./Bereken die persentasie kontantkorting op die krediteurebetaling.

<i>Marks/ Punte</i>
5

7.1.5	Calculate percentage debtors to settle after one month./ Bereken persentasie van debiteure wat hulle rekeninge na een maand sal vereffen.
	Briefly comment/Lewer kortliks kommentaar

<i>Marks/ Punte</i>
6

7.2	Identify and explain TWO potential problems and suggest a possible solution to each./ Identifiseer en verduidelik TWEE potensiele probleme en maak voorstelle vir 'n moontlike oplossing van elk.
	Identify problem/Identifiseer probleem
	•
	•
	Solution/Oplissing
	•
	•

<i>Marks/ Punte</i>
8

TOTAL
32

**GAUTENG DEPARTMENT OF EDUCATION
GAUTENGSE DEPARTEMENT VAN ONDERWYS**

**ERRATA FOR WEEK 3
ERRATA VIR WEEK 3**

**SENIOR CERTIFICATE EXAMINATION: SUPPLEMENTARY 2006
SENIORSERTIFIKAAT-EKSAMEN: AANVULLENDE 2006**

SESSION 23 / SESSIE 23 (am)

401-1/0A - Rekeningkunde HG
401-2/0E - Accounting SG




education

Department:
Education
REPUBLIC OF SOUTH AFRICA

**ERRATA FOR THE SENIOR CERTIFICATE SUPPLEMENTARY EXAMINATION -
FEBRUARY/MARCH 2006**

REKENINGKUNDE HG

Page 14 **Sport Voorsieners** - one word **Sportvoorsieners**



education

Department:
Education
REPUBLIC OF SOUTH AFRICA

**ERRATA FOR THE SENIOR CERTIFICATE SUPPLEMENTARY EXAMINATION -
FEBRUARY/MARCH 2006**

ACCOUNTING SG

Page 5 3.5 Change **unpaid** cheque - to **A dishonoured** cheque

CENTRE NUMBER/SENTRUMNOMMER

--	--	--	--	--	--	--	--

CANDIDATE'S EXAMINATION NUMBER/KANDIDAAT SE EKSAMENNOMMER

--	--	--	--	--	--	--	--	--	--	--	--	--

SENIOR CERTIFICATE EXAMINATION
SENIORSERTIFIKAAT-EKSAMEN

FEBRUARY/MARCH 2006
FEBRUARIE/MAART 2006

DEPARTMENT OF EDUCATION
DEPARTEMENT VAN ONDERWYS

ACCOUNTING HIGHER GRADE
REKENINGKUNDE HOËR GRAAD

SPECIAL ANSWER BOOK/SPEZIALE ANTWOORDEBOEK

This answer book consists of 18 pages.
Hierdie antwoordeboek bestaan uit 18 bladsye.

QUESTION VRAAG	MARKS PUNTE	INITIAL PARAFEER	MOD. MOD.
1.			
2.			
3.			
4.			
5.			
6.			
7.			
TOTAL TOTAAL			

QUESTION 1/VRAAG 1

No./ Nr.	GENERAL LEDGER/ ALGEMENE GROOTBOEK			ACCOUNTING EQUATION/ REKENINGKUNDIGE VERGELYKING		
	Account debit/ Rekening gedebiteer	Account credit/ Rekening gekrediteer	Amount/ Bedrag	Assets/ Bates	Owners' Equity/ Eienaars- belang	Liabi- lities/ Laste
e.g. Bv.	Stationery/ Skryfbehoeftes	Bank/ Bank	200		-	+
	Trading Stock/ Handelsvoorraad	Bank/ Bank	600	+		+
1						
2						
3						
4						
5						
6						
7						

TOTAL/ TOTAAL
50

QUESTION 2/VRAAG 2

2.1

*Extract: ASSET REGISTER BB COURIERS/
 Uittreksel: BATEREGISTER BB COURIERS*

VEHICLES/VOERTUIG

Toyota Hilux: MGN111GP

COST PRICE/KOSPRYS: R180 000

Date purchased: 1 September 2002

DATE SOLD: 31 May 2004

Datum aangekoop: 1 September 2002

DATUM VERKOOP: 31 Mei 2004

DEPRECIATION: 20% p.a. on diminishing balance method/

WAARDEVERMINDERING: 20% p.j. op die verminderdesaldo-metode

Date/ Datum	Calculation/ Berekening	Depreciation/ Waardevermin- dering	Accumulated depreciation to date/ Opgehoopte waardevermin- dering tot op datum

Marks/
Punte

18

**2.2 PROFIT/LOSS ON SALE OF ASSET/
 2.2 WINS/VERLIES OP VERKOOP VAN BATE**

Marks/
Punte

8

2.3 CARRYING VALUE VEHICLES – 28 FEBRUARY 2005/ 2.3 DRAWAARDE VOERTUIG – 28 FEBRUARIE 2005	

Marks/
Punte

9

TOTAL/ TOTAAL
35

QUESTION 3/VRAAG 3

3.1

Dr	GENERAL LEDGER OF MONARE TRADERS/ ALGEMENE GROOTBOEK VAN MONARE HANDELAARS										Cr
Dt	PURCHASES ACCOUNT/ AANKOPEREKENING										Kt
2005 Feb	28										

Marks/
Punte

10

TRADING ACCOUNT/ HANDELSREKENING											
2005 Feb	28										

Marks/
Punte

18

3.2.1	ACTUAL MARK-UP PERCENTAGE ACHIEVED/ WERKLIKE WINSOPSLAGPERSENTASIE BEHAAL

Marks/
Punte

4

3.2.2 RATE OF STOCK TURNOVER/ OMSETSNELHEID VAN VOORRAAD

Marks/
Punte

4

3.3	PROBLEM SOLVING/PROBLEEMOPLOSSING
3.3.1	Provide TWO reasons why you feel Mark is unhappy about the gross and the net profit. Noem TWEE redes waarom jy voel dat Mark ontevrede is met die bruto- en netto wins.
	•
	•
3.3.2	Procedures to solve the problem/Prosedures om die probleem op te los
	•
	•

TOTAL/ TOTAAL
48

Marks/
Punte

12

QUESTION 4/VRAAG 4

4.1

Dr	GENERAL LEDGER OF ACE LIMITED/ ALGEMENE GROOTBOEK VAN ACE BEPERK								Cr
Dt	ORDINARY SHARE DIVIDENDS/ GEWONE AANDELEDIVIDENDE								N9

Marks/
Punte

6

APPROPRIATION ACCOUNT/ VERDELINGSREKENING									

Marks/
Punte

11

4.2	NUMBER OF NEW SHARES ISSUED/ AANTAL NUWE AANDELE UITGEREIK								

Marks/
Punte

7

**4.3 NOTES TO THE CASH FLOW STATEMENT/
 NOTAS TOT DIE KONTANTVLOEISTAAT**

RECONCILIATION BETWEEN NET PROFIT BEFORE TAXATION AND CASH GENERATED FROM OPERATIONS/ REKONSILIASIE VAN NETTO WINS VOOR BELASTING EN KONTANT VERKRY UIT BEDRYWIGHEDE	
Adjustment in respect of/Aansuiwerings ten opsigte van	
Operating profit before changes in working capital/ Bedryfswins voor verandering in bedryfskapitaal	
Net change in working capital/ Netto verandering in bedryfskapitaal	
Cash generated from operations/ Kontant uit bedrywighede voortgebring	

Marks/
Punte

16

4.4.1 CASH FLOW FROM INVESTING ACTIVITIES/ KONTANTVLOEI UIT BELEGGINGSAKTIVITEITE	

Marks/
Punte

10

4.4.2 CASH FLOW FROM FINANCING ACTIVITIES/ KONTANTVLOEI UIT FINANSIERINGSAKTIVITEITE	

Marks/
Punte

5

4.5 INTEREST ON LOAN ON FACE OF CASH FLOW STATEMENT/ RENTE OP LENING OP DIE GESIG VAN DIE KONTANTVLOEISTAAT									
Dr		GENERAL LEDGER OF ACE LIMITED/ ALGEMENE GROOTBOEK VAN ACE BEPERK						Cr	
Dt								Kt	
4.5.1		INTEREST ON LOAN/ RENTE OP LENING							

4.5.2 AMOUNT TO BE SHOWN ON FACE OF CASH FLOW STATEMENT/ BEDRAG WAT OP DIE GESIG VAN DIE KONTANTVLOEISTAAT GETOON WORD									

*Marks/
Punte*

8

4.6.1	CALCULATE THE NET ASSET VALUE PER SHARE. BEREKEN DIE NETTO BATEWAARDE PER AANDEEL.
4.6.2	In your opinion, were the directors correct in issuing the shares at 650c on 1 March 2004? Bear in mind that the net asset value for the current year was 615c. Provide TWO reasons for your answer./ Was die direkteure, na jou mening, reg om aandele teen 650c uit te reik? Neem in aanmerking dat die netto batewaarde vir die huidige jaar 615c was. Gee TWEE redes vir jou antwoord.
Opinion	
Reason	•
	•

*Marks/
Punte*

12

4.7	RETURN ON SHAREHOLDERS' EQUITY/ OPBRENGS OP AANDEELHOERSBELANG
4.7.1	Give ONE reason why this ratio is important to the shareholder./ Gee EEN rede waarom hierdie verhouding vir die aandeelhouders belangrik is.
4.7.2	Calculate the Return on Shareholders' Equity./ Bereken die Opbrengs op Aandeelhoudersbelang.
4.7.3	Briefly comment on Return on Shareholders' Equity./ Lewer kortliks kommentaar oor die Opbrengs op Aandeelhoudersbelang.

Marks/
Punte

9

4.8	DEBT/EQUITY RATIO SKULD/EIENAARSBELANGVERHOUDING
4.8.1	Calculate the Debt/Equity ratio./ Bereken die Skuld/Eienaarsbelangverhouding.
4.8.2	Briefly comment on the Debt/Equity ratio./ Lewer kortliks kommentaar oor die Skuld/Eienaarsbelangverhouding.

Marks/
Punte

10

TOTAL/ TOTAAL
94

QUESTION 5/VRAAG 5

5.1

5.1

Dr	GENERAL LEDGER OF DIPHALA SOCCER CLUB										Cr
Dt	ALGEMENE GROOTBOEK VAN DIPHALA SOKKERKLUB										Kt
MEMBERSHIP FEES ACCOUNT/ LEDEGELDREKENING											

Marks/
Punte

15

SOCGER SOUVENIRS/ SOKKERAANDENKINGS											

Marks/
Punte

12

5.2 DIPHERAL SOCKER CLUB/DIPHERAL SOKKERKLUB STATEMENT OF RECEIPTS AND PAYMENTS FOR THE YEAR ENDED 31 DECEMBER 2004/ STAAT VAN ONTVANGSTE EN BETALINGS VIR DIE JAAR GEËINDIG 31 DESEMBER 2004		
RECEIPTS/ONTVANGSTE		
SURPLUS (DEFICIT) FOR THE YEAR/ SURPLUS (TEKORT) VIR DIE JAAR		

TOTAL/ TOTAAL
74

Marks/
 Punte

47

QUESTION 6/VRAAG 6

6.1 CALCULATION OF CORRECT NET INCOME AFTER TAX/ BEREKEN DIE KORREKTE NETTO INKOMSTE NA BELASTING			
Net income before adjustments/ Netto inkomste voor aansuiwerings			333 000

Marks/
Punte

23

MP TRADERS CC/MP HANDELAARS BK
NOTES TO THE FINANCIAL STATEMENTS – 30 JUNE 2005/
NOTAS TOT DIE FINANSIËLE STATE – 30 JUNIE 2005

6.2.1 Accumulated profit/Retained income/ Opgehoopte wins/Behoue inkomste	

Marks/
Punte

9

6.2.2 Trade and other payables/ Handels- en ander krediteure	

Marks/
Punte

19

6.3

MP TRADERS CC/MP HANDELAARS BK BALANCE SHEET AT 30 JUNE 2005/ BALANSSTAAT OP 30 JUNIE 2005			
EQUITY AND LIABILITIES/ EKWITEIT EN LASTE			
MEMBERS EQUITY/ LEDEBELANG			
NON-CURRENT LIABILITIES/ NIEBEDRYFSLASTE			
CURRENT LIABILITIES/ BEDRYFSLASTE			

Marks/
Punte

16

TOTAL/ TOTAAL
67

QUESTION 7/VRAAG 7

7.1

7.1.1	Plans for advertising/ Planne aangaande advertensies

<i>Marks/ Punte</i>
4

7.1.2	Comment on drawings/ Kommentaar aangaande onttrekkings

<i>Marks/ Punte</i>
4

7.1.3	Calculate percentage sales on credit. Bereken persentasie kredietverkope.

<i>Marks/ Punte</i>
5

7.1.4	Calculate the percentage cash discount on creditors payment./Bereken die persentasie kontantkorting op die krediteurebetaling.

<i>Marks/ Punte</i>
5

7.1.5	Calculate percentage debtors to settle after one month./ Bereken persentasie van debiteure wat hulle rekeninge na een maand sal vereffen.
	Briefly comment/Lewer kortliks kommentaar

<i>Marks/ Punte</i>
6

7.2	Identify and explain TWO potential problems and suggest a possible solution to each./ Identifiseer en verduidelik TWEE potensiele probleme en maak voorstelle vir 'n moontlike oplossing van elk.
	Identify problem/Identifiseer probleem
	•
	•
	Solution/Oplissing
	•
	•

<i>Marks/ Punte</i>
8

TOTAL
32