

EŻAMIJIET ANNWALI TAL-JUNIOR LYCEUM 2008
 DIRETTORAT GĦAL KWALITA' U STANDARDS FL-EDUKAZZJONI
 Taqsima ta' l-Assessjar Edukattiv

L-EWWEL SENA

STORJA

HIN: Siegħa u Nofs

Isem: _____

Klassi: _____

1. **Ma' liema ċiviltà tal-qedem għandhom x'jaqsmu dawn. Wieġeb billi tittikkja (✓) fil-kolonna t-tajba. L-ewwel waħda hi mogħtija bħala eżempju.**

		Żmien it-Tempji	Żmien il-Bronż	Eġizzjani	Feniċi	Griegi	Rumani	Għarab
1.1	Il-villaġġ fil-Baħrija		✓					
1.2	Il-mummja tal-Farawni Tutankamun							
1.3	Il-villaġġ ta' Borg in-Nadur							
1.4	Il-ġlied bejn il-gladjaturi							
1.5	Il-belt ta' Mekka							
1.6	Il- <i>Valley of the Kings</i>							
1.7	Xwieni mis-siġar taċ-ċedru							
1.8	Is-Siġra tal-Hajja							
1.9	Il-Villa f' San Pawl Milqi							
1.10	Sokrate							
1.11	L-Imnajdra							

(10 x 1 = 10 marki)

2. **Qabbel Kolonna A ma' Kolonna B. L-ewwel waħda hi mogħtija bħala eżempju.**

	Kolonna A		Kolonna B
1	Ġesù Kristu		Ġeneral Ruman li nqatel mis-Senaturi
2	Aristotli		sultan tal-Griegi li rebaħ il-Persja
3	San Luqa		wiehed mill-allat tar-Rumani
4	Alessandru l-Kbir		Ġeneral Kartaginiż fit-Tieni Gwerra Punika
5	Ġupiter		mexxej tal-Lhud
6	Mosé		kiteb il-ġrajja tal-miġja ta' San Pawl f' Malta
7	Annibale Barka		iddefenda lill-Maltin kontra Kajju Verres
8	Ġulju Ċesri	1	waqqaf il-Kristjaneżmu fil-Palestina
9	Ċicerun		filosofu tal-Griegi tal-Qedem

(8 x 1 = 8 marki)

3. Ghid x'qed tara f'dawn is-sorsi u ma' liema ċiviltajiet antiki ghandhom x'jaqsmu.




3.1 _____



3.2 _____




3.3 _____



3.4 _____



3.5 _____



3.6 _____

(6 x 2 = 12-il marka)

4. Ikteb sentenza biex taghti t-tifsira ta' dawn il-kliem dwar temi li studjat fil-lezzjonijiet ta' l-Istorja.

4.1 Katakombi _____

4.2 il-Heġira _____

4.3 Gladjaturi _____

4.4 Megalitiċi _____

4.5 *Murex tunculus* _____

4.6 Senaturi _____

(6 x 2 = 12 marki)

5. Aghti l-isem tal-ġens jew taċ-ċiviltà tal-qedem li kellhom dawn il-bliet ewlenin:

- 5.1 Kostantinopli _____
- 5.2 Tiru _____
- 5.3 Ateni _____
- 5.4 Mekka _____
- 5.5 Ġerusalemm _____
- 5.6 Kartagni _____

(6 x 1 = 6 marki)

6. Wieġeb dawn il-mistoqsijiet.

- 6.1 Fl-Ipoġew ta' Hal Saflieni hemm kamra speċjali. Kif inhi magħrufa din il-kamra u għaliex għandha dan l-isem?

_____ (2)

- 6.2 X'kienu jagħmlulu lill-Farawni l-Egizzjani tal-Qedem meta dan kien imut?

_____ (2)

- 6.3 Semmi **ŻEWĠ** xogħlijiet li baqgħu magħrufa għalihom il-Feniċi fl-Istorja.

_____ (2)

- 6.4 Semmi **ŻEWĠ** oqsma ta' l-għerf li għamlu isem fihom il-Griegi tal-Qedem.

_____ (2)

- 6.5 X'nafu dwar il-Maltin taht il-hakma tar-Rumani? Semmi sa **erba'** punti.

_____ (4)

- 6.6 Irrakkonta f' madwar 30 kelma l-ġrajja ta' meta Muhammed waqqaf it-twemmin fl-Islam.

_____ (4)

(Total: 16-il marka)

7. Hares lejn dawn is-sorsi u wieġeb il-mistoqsijiet dwarhom.



Sors A

Sors A juri skultura ta' suldati Rumani. Armata suldati Rumani kienet tisseejjah **leġjun**.

7.1 X'kien jissejjah wieħed mill-kmandanti ta' leġjun Ruman? Aqta' sing taħt it-tajba.

Pretur, Ċenturjun, Dekurjun, Senatur (1)

7.2 Liema ġnus kienu jgħixu barra l-Imperu Ruman fit-tramuntana u l-lvant ta' l-Ewropa?

_____ (1)

7.3 Għaliex ir-Rumani kienu jiddefendu ruħhom minn dawn il-ġnus?

_____ (2)

7.4 **Sors B** juri statwa ta' _____ (1)

7.5 X'tip ta' sagrafiċċju kienu joffrulha u fejn?

_____ (2)

7.6 F'liema **tlieta** minn dawn il-postijiet fil-Gżejjer Maltin instabu fdalijiet ta' statwi bħal din?

(a) fil-Katakombi tal-Mintna

(b) fil-Ġgantija

(c) f'Boġ in-Nadur

(d) fi Skorba

(e) fl-Ipoġew ta' Hal Saflieni

(f) f'Haġar Qim

(3)

Sors Ċ juri fejn instabu fossili ta' annimali preistoriċi.

7.7 Fejn instabu fdalijiet bħal dawn f'Malta?

_____ (1)

7.8 Semmi **żewġ** annimali li nstabu fdalijiet tagħhom f'dan il-post?

_____ (2)


7.9 Kif setgħu spiċċaw dawn l-annimali minn Malta?

_____ (1)


7.10 X'jurina dan il-post dwar kif setgħu kienu l-gżejjer Maltin f'dak iż-żmien?

_____ (2)

(Total: 16-il marka)



Sors B



Sors Ċ

