

**JUNIOR LYCEUM & SECONDARY SCHOOL
ANNUAL EXAMINATIONS 2003**

Educational Assessment Unit - Education Division

Form 5

STORJA (ĠENERALI)

Fin: 1 h 45 min

Isem: _____

Klassi: _____

1. (a) Semmi t-tip ta' fdal.

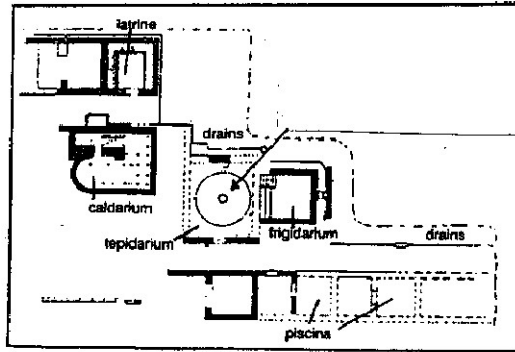
(b) Ikteb sentenza dwaru.

L-ewwel wahda hi moghtija bhala eżempju.


	Fdal preistoriku	Sentenza li tiddekrivih
1.1	Skorba	<i>Eżempju:</i> (a) Fdal ta' tempju u ta' rahal ta' zmien bikri tal haġar. (b) Instab ukoll fuħhar ta' lewn griz u ahmar.
1.2	il-Ġgantija	(a) _____ (b) _____ _____
1.3	I-Imnajdra	(a) _____ (b) _____ _____
1.4	ix-Xemxija	(a) _____ (b) _____ _____
1.5	Tarxien	(a) _____ (b) _____ _____
1.6	Borg in-Nadur	(a) _____ (b) _____ _____

(5 x 3 = 15-il marka)

2. Banjijiet f'Ghajn Tuffieha



Sors A



Sors B

2.1 Il-pjanta turi fdal ta' żmien _____ f'Malta. (1)

2.2 Id-disinn immarkat b'ittra B juri paviment bil- _____
li kien iffurmat minn bosta bċeġġe ta' _____ ikkulurit. (2)

2.3 Semmi żewġ taqsimiet li hemm immarkati fuq il-pjanta. Ghid kull taqsima li għażilt għal xhiex kienet tintuża f'dak iż-żmien.

(a) _____

(b) _____

(2 x 2 = 4 marki)

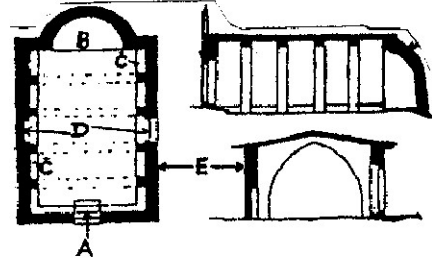
2.4 Iddeskrivi l-istat li jinsab fih dan il-post illum u x'jista' jsir biex jinżamm fi stat ahjar.

(3 marki)

(Total = 10 marki)

2. Hawn taht tidher pjanta ta' kappella medjevali li bhalha ghandna xi ftit eżemplari fil-gzejjer Maltin. Qabbel littri minn A sa E fuq din il-pjanta mal-partijiet kif deskritti fil-gemb..

- 3.1 - il-hajt ohxon fuq barra tal-kappella
- 3.2 - il-bieb ewlieni tal-kappella
- 3.3 - il-post fejn kien hemm l-artal
- 3.4 - il-bankijiet tal-gebel ghan-nies.
- 3.5 - l- affreski ta' diversi qaddisin



(5 x 1 = 5 marki)

3.6 Liema l-kappella tahseb li hi ndikata fil-pjanta? _____ (2)

(Total = 7 marki)

4. Fil-gzejjer Maltin, ghalkemm zghar fid-daqs, ghandna bosta fdalijiet ta' tempji, kappelli, djar, palazzi, fortizzi u torrijiet ta' zminijiet differenti.

4.1 Aghti tliet ragunijiet validi ghala fdalijiet bhal dawn ghandna dmir niehdu hsiebhom.

- _____
- _____
- _____

(3 x 2 = 6 marki)

4.2 Liema tliet postijiet storiċi kienu restawrati f'dawn l-ahhar snin. Ghamel sing taht it-tajbin.

Sant'Jiermu
Forti Rikażli

Il-Kavallier ta' San Ġakbu
it-Torri ta' De Redin

Sta Katerina ta' l-Italja
it-Torri ta' Qalet Marku

(3 marki)

4.3 Semmi tliet ghaqdiet jew organizazzjonijiet tal-Gvern li jieħdu hsieb jirrestawraw fdalijiet mibni ta' l-imghoddi.

- _____
- _____
- _____

(3 x 2 = 6 marki)

(Total = 15-il marka)

(Total = 15-il marka)

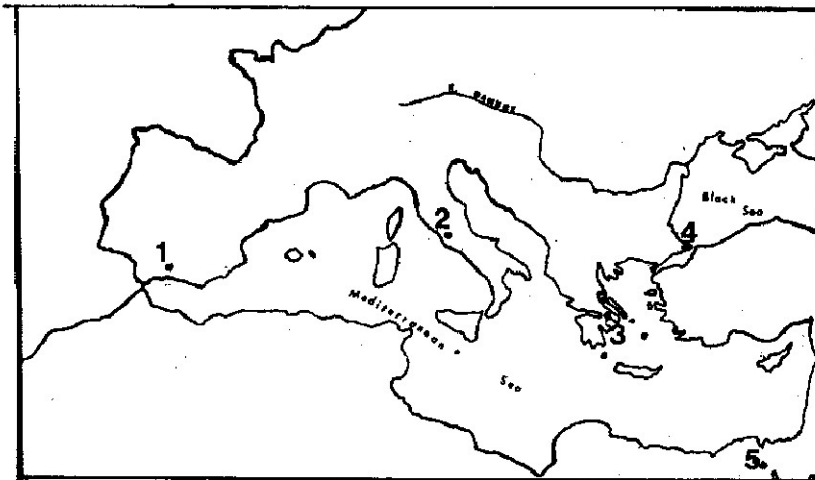
5. Kompli din it-tabella dwar ic-Ċiviltajiet antiki madwar il-Mediterran.skond l-ewwel eżempju.

	Fdal	Ċivilta	Post jew pajjiż fejn jinsabu
5.1	<i>Id-Dome of the Rock</i>	Għarbija	Ġerusalem
5.2	<i>L-Isphinx</i>		
5.3	Il-Piramidi		
5.4	Il-Kolossew		
5.5	Il-Parthenon		

(8 x 1 = 8 marki)

5.6 Immarka fuq il-mappa l-isem ta' l-ibliet li kienu ċentri ewlenin għal dawn ic-ċiviltajiet antiki madwar il-Mediterran.

Kostantinopli [] Grenada [] Ateni [] Ruma [] Giza []



(5 x 1 = 5 marki)

(Total = 13-il marka)

6. Ikteb sentenzi biex turi l-użu ta' HAMSA minn dan il-fdal mibni li nsibu fil-kampanja, fl-irhula u fl-ibliet antiki tal-gzejjer Maltin.

6.1 dura _____

6.2 kappella troglodita _____

6.3 ghorfa _____

6.4 barumbara _____

6.5 niceċ tal-qaddisin _____

6.6 mithna _____

6.7 hitan tas-sejjeġh _____

6.8 girna _____

(5 x 2 = 10 marki)

7. Kompli dawn is-sentenzi dwar il-Gwerra Bierda.

7.1 Il-Gwerra Bierda bdiet _____

7.2 Din il-Gwerra kienet bejn _____

7.3 Minhabba t-tensjoni internazzjonali kien hemm il-biza' li _____

7.4 Kagun tal-Gwerra Bierda l-Ewropa nqasmet f'zewg _____

7.5 Il-Gwerra Bierda spiċċat bil-waqgħa _____

(5 x 2 = 10 marki)

8. Ikteb fit-tul dwar wiehed minn dawn it-temi.

8.1 Wara t-Tieni Gwerra kien hawn diversi konflitti fil-Mediterran. Ghid dak li taf dwar tnejn minn dawn: (a) l-ex-Jugoslavja (b) il-Palestina (c) Ċipru

8.2 Ghid x'kien il-kontribut għall-progress tal-ġnus ta' madwar il-Mediterran ta' tnejn minn dawn iċ-ċiviltajiet antiki:
(a) l-Eġizzjani tal-Qedem, (b) il-Griegi, (c) ir-Rumani, (d) l-Gharab.

8.3 Semmi erba' tipi differenti ta' bini tradizzjonali li nsibu fil-kampanja Maltija. Iddeskrivi l-ghamla tal-bini, l-użu li kellhom fl-imghoddi u x'importanza għandhom illum.

8.4 Ghid x'jista' jikkawża l-qerda ta' fdalijiet u bini ta' importanza storika. X'jista' jsir biex wirt bħal dan ma jinqeridx biż-żmien.

(20 marka)