



Scrúdú na hArdteistiméireachta

Teicneolaíocht
Gnáthleibhéal

Dé hAoine, 19 Meitheamh
Tráthnóna, 2:00 – 4:00

Roinn B – Croíchúrsa (48 marc)

Freagair an dá cheist.
Tá 24 marc ag gabháil le gach ceist i Roinn B.

Roinn C – Roghanna (80 marc)

Freagair dhá cheann de na cúig rogha atá ann.
Tá 40 marc ag gabháil le gach ceist i Roinn C.

Treoracha:

- (a) *Freagair na ceisteanna seo sa fhreagarleabhar atá curtha ar fáil.*
- (b) *Scríobh do scrúduimhir ar an bhfreagarleabhar.*
- (c) *Tarraing na sceitsí go léir le peann luaidhe.*
- (d) *Tabhair ar ais an freagarleabhar i ndeireadh an scrúdaithe.*

Roinn B – Croíchúrsa *Freagair Ceist 2 agus Ceist 3.*

Ceist 2 – Freagair 2(a) agus 2(b)

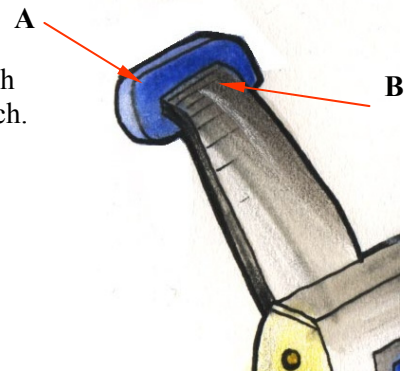


2(a) Cumhachtaíonn gineadóir inmheánach lámhoibrithe an tóirse féinchumhachtaithe a thaispeántar sa sceitse. Úsáidtear gearshraith iolrach i gcomhar leis an ngineadóir.

- (i) Luaigh an fheidhm atá ag an ngiarshraith iolrach.
- (ii) Rinneadh cinneadh 3 LED a úsáid sa tóirse in ionad bolgán filiméad tungstain. Tabhair **dhá** chúis leis an gcinneadh seo.

2(b)

- (i) Ainmnigh próiseas oiriúnach déantúsaíochta do chabhail an tóirse fhéinchumhachtaithe. Ainmnigh plaisteach oiriúnach do chabhail an tóirse. Tabhair **dhá** chúis le do rogha plaisteach.
- (ii) Sainaithin **dhá** thiontú fuinnimh a tharlaíonn sa tóirse.
- (iii) Déan cur síos orthu seo agus tú ag úsáid nótaí agus sceitsí anótáilte:
 1. Cruth oiriúnach don greamán **A**.
 2. Modh cúí chun an greamán **A** a cheangal den hanla **B** chun a chinntiú go mbeidh sé éasca a úsáid.



Freagair (2c) nó 2(d)

2(c)

- (i) Féadfaidh cairteacha Gantt ról ríthábhachtach a imirt i mbainistíocht fhoriomlán tionscadail. Liostaigh **dhá** fheidhm atá ag cairt Gantt.
- (ii) Nuair a bhíonn táirgí mar an tóirse féinchumhachtaithe á ndéanamh, is minic a bhíonn gaol díreach idir caighdeán an táirge chríochnaithe agus a chostas. Déan an ráiteas seo a phlé agus luaigh **dhá** bhuntáiste a bhaineann le táirge níos costasaí a cheannach.

NÓ

2(d)

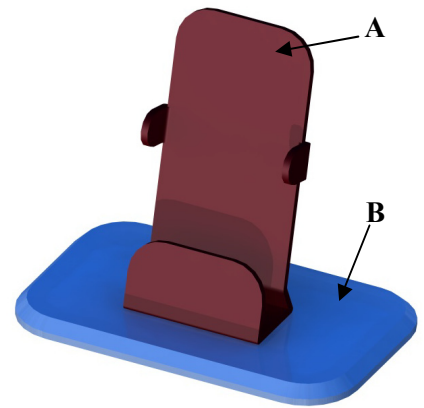
- (i) Tabhair **dhá** shampla de tháirgí atá éifeachtach ó thaobh fuinnimh de a chuidigh le húsáid fhreagrach inbhuanaithe fuinnimh.
- (ii) Míinigh conas is féidir feistí leictreacha féinchumhachtaithe an t-éileamh ar fhuinneamh ó fhoinsí neamh-inathnuaite a laghdú. Luaigh **dhá** theorainn a bhaineann le feistí leictreacha féinchumhachtaithe.

Ceist 3 – Freagair 3(a) agus 3(b)

3(a)

Taispeánann an ghrafaic dearadh do choinneálaí fón póca. Tá páirt **A** déanta as aon phíosa amháin d'aicrileach agus tá páirt **B** le déanamh as ábhar oiriúnach eile.

- (i) Mol ábhar oiriúnach don bhonn **B** agus tabhair **dhá** chúis le do rogha.
- (ii) Déan cur síos ar mhodh oiriúnach chun páirt **A** a nascadh le páirt **B** gan greamachán a úsáid. Bain úsáid as nótaí agus sceitsí.




3(b)

- (i) Tarraing sceitse dea-chomhréireach saorlámhe d'fhorbairt Pháirt A agus taispeáin na línte fillte **go léir**.
- (ii) Is gá dé-óid astaithe solais (LED) lena chur in iúl go bhfuil an fón póca ina luí ar a choinneálaí. Tarraing léaráid de chiorcad oiriúnach chun é sin a dhéanamh. Cuir lipéid ar na comhbhaill go léir.
- (iii) Baintear úsáid as sádráil chun na hailt a dhéanamh nuair a bhíonn comhbhaill leictreacha á gceangal le chéile. Luaigh feidhm an **fhlosca** nuair a bhítear ag sádráil agus tabhair breac-chuntas ar **dhá** réamhchúram sábháilteachta atá le comhlíonadh nuair a bhíonn iarann sádrála á úsáid.

Freagair (3c) nó 3(d)

3(c)

- (i) Féadfaidh tógáil crann tarchurtha fón póca in áiteanna feiceálacha a bheith ina cúis inní do chuid mhaith daoine. Déan plé ar bhuntáiste **amháin** agus ar mhíbhuntáiste **amháin** a bhaineann le crainn tarchurtha dá leithéid a thógáil.



- (ii) Baintear úsáid as *triantánacht* i ndéanamh an chrainn tarchurtha a thaispeántar. Déan cur síos ar phrionsabal na triantánachta agus tú ag úsáid nótaí agus sceitsí anótáilte.



NÓ

3(d)

- (i) Luaigh **dhá** thionchar dhearfacha agus **dhá** thionchar dhiúltacha is féidir le teicneolaíocht an fhóin phóca a imirt ar shochaí (shaol) an lae inniu.
- (ii) Baineann dearthóirí úsáid as sceitsí saorlámhe chun na chéad líníoictaí dearaidh a dhéanamh dá gcuid táirgí. Luaigh **dhá** bhuntáiste a bhaineann le sceitsí saorlámhe ag céim an dearaidh.




Roinn C – Roghanna - Freagair dhá cheann ar bith de na Roghanna

Rogha 1 – Córais Rialaithe Fheidhmeacha – Freagair 1(a) agus 1(b)

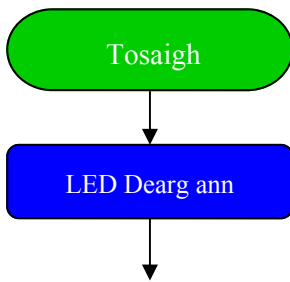
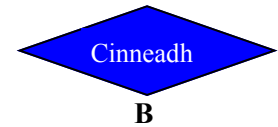
1(a)

- (i) Féadfar cur síos ar Rialaitheoir Chomhéadan na bhForimeallach (PIC) mar *shlis in-riomhchláraithe*. Luaigh buntáiste **amháin** a bhaineann le *shlis in-riomhchláraithe* i gcomparáid le ciorcad comhtháite.
- (ii) Luaigh **dhá** shampla ina n-úsáidtear PIC sa ghnáthshaol.



1(b)

- (i) Tabhair breac-chuntas ar chúis **amháin** a n-úsáidtear sreabhchairteacha nuair a bhíonn ríomhchlár á scríobh do PIC.
- (ii) Taispeántar ag **A** agus **B** dhá ordú a úsáidtear i sreabhchairt do chóras rialaithe PIC. Tabhair breac-chuntas ar fheidhm **gach** ordú díobh.
- (iii) Tá sé i gceist úsáid a bhaint as dhá LED (ceann dearg agus ceann glas) mar chuid de thaispeántas i bhfuinneog siopa. Tá PIC le húsáid chun seicheamh soilsiithe na LEDanna a rialú. Críochnaigh an tsreabhchairt a thaispeántar thíos, agus úsáid á baint agat as cealla lipéadaithe, chun na LEDanna a lascadh ann agus as sa seicheamh seo a leanas:



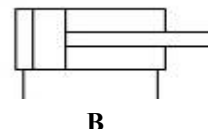
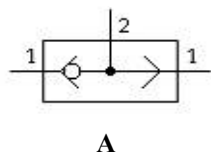
- Lasc ann an LED dearg ar feadh 3 shoicind agus ansin lasc as é
- Fan ar feadh 2 shoicind
- Lasc ann an LED glas ar feadh 2 shoicind agus ansin lasc as é
- Fan ar feadh 2 shoicind
- Athdhéan an próiseas seo go leanúnach.

Freagair 1(c) nó 1(d)

1(c)

Úsáidtear aer combhruíte sa neomataic chun tascanna éagsúla a dhéanamh.

- (i) Luaigh **dhá** bhuntáiste a bhaineann le húsáid na neomataice i gcúinsí tionsclaíochta.
- (ii) Ainmnigh na combhail neomatacha **A** agus **B** thíos agus déan cur síos ar conas a oibríonn gach ceann díobh.



NÓ

1(d)

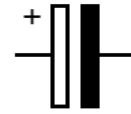
- (i) Tá córais róbatacha tar éis tionchar mór a imirt ar ár ngnáthshaol. Tabhair breac-chuntas ar **ionchur dearfach amháin** agus ar **ionchur diúltach amháin** a bhí ag róbait i dtionscal na déantúsaíochta.
- (ii) Mínigh na téarmaí seo a leanas a bhfuil baint acu leis an róbaitic:
 - Céimeanna saoirse
 - Éifeachtóirí foircinn



Rogha 2 – An Leictreonaic agus an Rialú – Freagair 2(a) agus 2(b)

2(a)

Taispeánann na grafaicí toilleoir agus a shiombail leictreonaice.

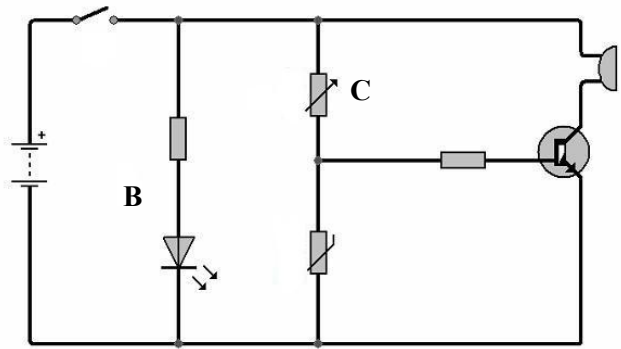


- (i) Luaigh aonad tomhais an toillis.
- (ii) Míneigh go hachomair conas a oibríonn toilleoir leictreolaíoch.

2(b)

Baintear úsáid as an gciorcad trasraitheora chun aláram a fhuaimniú nuair a bhraitear teochtaí ísle.

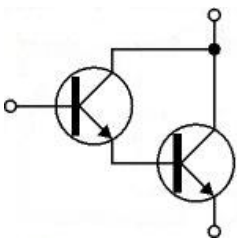
- (i) Cad iad feidhmeanna an fhriotóra agus an LED ag **B** sa chiorcad?
- (ii) Ainmnigh comhbhall **C** agus mínigh a fheidhm sa chiorcad.
- (iii) Atarraing an chiorcad le taispeáint conas a d'fhéadfaí teocht ard a bhrath.



Freagair 2(c) nó 2(d)

2(c)

Taispeánann an ghrafaic dhá chomhbhall leictreonacha nasctha le chéile in eagar ar leith.




- (i) Ainmnigh an t-eagar seo.
- (ii) Luaigh an fheidhm atá ag an eagar seo agus atarraing an chiorcad ag **2(b)** le taispeáint conas a chuimseofaí an t-eagar seo ann.
- (iii) Cén tionchar a bheadh aige ar oibriú an chiorcaid ag **2(b)** dá gcuirfí an t-eagar breise seo leis?

NÓ

2(d)

- (i) Luaigh **dhá** bhuntáiste a bhaineann le ciorcad a thógáil ar chláir ciorcad priontáilte (PCB).

- (ii) Déan cur síos ar mhodh **amháin** chun PCB a dhéanamh sa Seomra Teicneolaíochta agus aird chuí á tabhairt ar rialacháin reatha sláinte agus sábháilteachta.



Rogha 3 – Teicneolaíocht Faisnéise agus Cumarsáide – Freagair 3(a) agus 3(b)


3(a)

- (i) Liostaigh **trí** thoise a d'imreodh tionchar ar an rogha a dhéanfá agus ríomhaire baile á cheannach agat.
- (ii) I dtéarmaí cuimhne, mínigh an difríocht idir ROM agus RAM.



3(b)

Tá a lán tosca ann nach mór cuimhneamh orthu nuair a bhíonn líonra á shuiteáil i bhfoirgneamh ar nós scoile.



- (i) Ainmnigh an cineál cónascaire a thaispeántar ag **A**.
- (ii) Tabhair breac-chuntas ar **thrí** thoise a théann i bhfeidhm ar roghnú cábla do shuiteáil líonra áirithe.
- (iii) Is dhá chineál tarchuir gan sreang iad infridearg (IR) agus Minicíocht Raidió (RF) a úsáidtear i líonraí. Tabhair breac-chuntas ar na difríochtaí idir na bealaí ina n-oibríonn siad agus tabhair sampla **amháin** den úsáid is féidir a bhaint as **gach** cineál díobh.
- (iv) Liostaigh **dhá** riosca slándála nuair a bhíonn comhaid á n-aistriú thar líonra gan sreang.


Freagair (3c) nó 3(d)

3(c)

Rinneadh íomhá **X** a ionramháil agus bogearraí eagarthóireachta grianghraf á n-úsáid chun íomhá **Y** a dhéanamh. Bainfeadh úsáid as íomhá **Y** i dtuarascáil phriontáilte.



X



Y

- (i) Luaigh **3** ordú a úsáidtear chun an íomhá a ionramháil.
- (ii) Mol formáid oiriúnach chomhad chun an íomhá ionramháilte a shábháil inti. Tabhair breac-chuntas ar **dhá** chúis a thacaíonn le do rogha.

NÓ

3(d)



- (i) Luaigh ciall an téarma *comhbhrú* maidir le comhaid MP3.
- (ii) “Tá íoslódáil mhídhleathach an cheoil ag cur le meath i bhforbairt thionscal an cheoil.”

Déan an ráiteas seo a phlé. Tabhair **dhá** phointe a thacaíonn leis an tuairim sin agus **dhá** phointe ina haghaidh.

Rogha 4 – Córais Déantúsaíochta – Freagair 4(a) agus 4(b)

4(a)

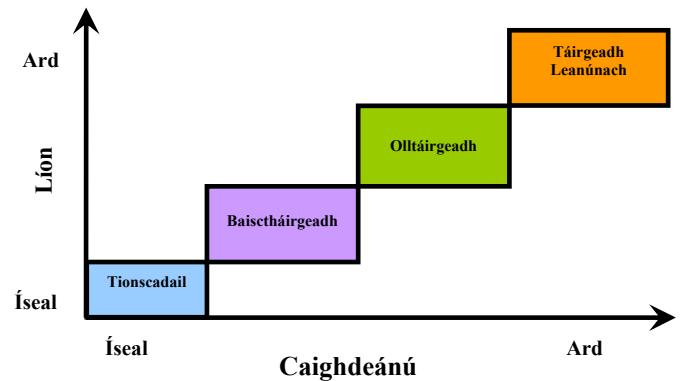
- (i) Is minic a dhéantar bróga reatha i dtíortha atá i mbéal forbartha ar nós na Síne. Tabhair cúis **amháin** leis sin.
- (ii) Luaigh **dhá** chaoi a mbíonn tionchar diúltach aige ar an timpeallacht (imshaol) earraí a bheith á n-iompar ar feadh achair fhada go dtí na margaí.



4(b)

Samhlaigh go bhfuil córas déantúsaíochta á chur ar bun agat chun bróga reatha a dhéanamh. Tá coinne agat le héileamh mór ar na bróga.

- (i) Agus an léaráid a thaispeántar á húsáid agat, roghnaigh cineál oiriúnach próisis táirgthe. Tabhair cúis **amháin** le do fhreagra.
- (ii) Is cuid de chuideachta mhór í do roinn déantúsaíochta. Ainmnigh **dhá** roinn eile sa chuideachta. I ngach cás, déan cur síos ar thasc tábhachtach **amháin** a dhéanann siad maidir le táirgeadh na bróige reatha.
- (iii) Ní dhíolfaidh siopa spóirtna bróga mura bhfuil siad cinnte go bhfuil siad ar ardchaighdeán. Déan cur síos ar **thrí** phríomhghné de chóras a chuirfeá ar bun lena chinntiú go bhfuil na bróga ar ardchaighdeán.

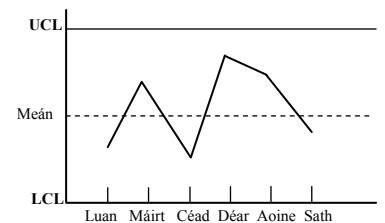


Freagair (4c) nó 4(d)

4(c)

Baineann tábhacht le caighdeán na fuála ar an mbróg. Léiríonn an chart rialaithe a thaispeántar líon na lochtanna a aimsíodh le linn seachtaine.

- (i) Cad dó a seasann na téarmaí UCL agus LCL?
- (ii) Cad a insíonn an chart duit maidir le caighdeán an phróisis fuála?

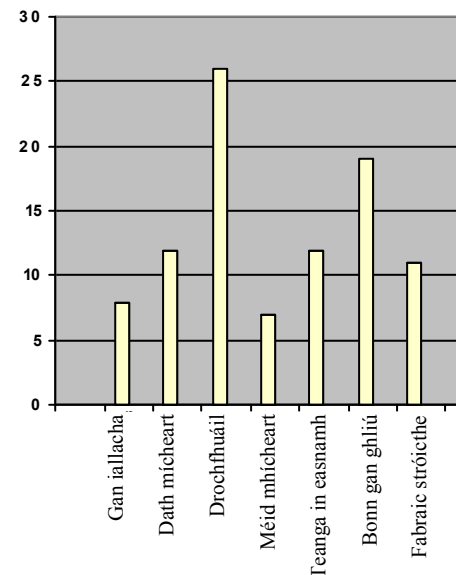


NÓ

4(d)

Taispeánann an bharrchart na fadhbanna caighdeáin i ndéantús na bróige reatha a tharla le linn seachtain amháin.


- (i) Cén **dá** réimse is mó a chuir leis na fadhbanna caighdeáin?
- (ii) Déan cur síos ar mhodh a d'úsáidfeá chun fadhbanna caighdeáin a réiteach chun **ceann** de na réimsí faidhbe seo a imscrúdú.



Rogha 5 – Teicneolaíocht Ábhair – Freagair 5(a) agus 5(b)

5(a)

Taispeánann na grafaicí bonn agus buidéal uisce.




- (i) Ainmnigh ábhar oiriúnach le **gach** earra a dhéanamh as.
- (ii) Sa **dá** chás, tabhair breac-chuntas ar **dhá** airí de chuid an ábhair a dhéanann oiriúnach don táirge é.

5(b)

Taispeánann na grafaicí thíos suíochán gairdín agus mionsonra den fhráma foircinn **A**.

- (i) Roghnaigh adhmaid oiriúnach chun an suíochán gairdín seo a dhéanamh agus mínigh do rogha.
- (ii) Sainaithin modh ceangail buan **amháin** agus modh ceangail leathbhuan **amháin** a úsáidtear sa suíochán gairdín.
I **ngach** cás, tabhair breac-chuntas ar cén fáth a bhfuil an modh ceangail oiriúnach.
- (iii) Tá an taca **A** déanta as bogcruach fheadánach. Cén fáth ar ábhar oiriúnach í bogcruach fheadánach don taca?



Freagair (5c) nó 5(d)

5(c)

- (i) Tá corr mhúnlaith curtha le ráillí an tsuíocháin agus cuasphlána á úsáid chuige sin. Sceitseáil próifil oiriúnach don chorr múnlaith agus mínigh do rogha.
Liostaigh **dhá** réamhchúram sábháilteachta nach mór a chur san áireamh nuair a bhíonn cuasphlána leictreach á úsáid.
- (ii) Ainmnigh miotal seachas bogcruach fheadánach a bheadh oiriúnach chun taca **A** a dhéanamh. Luaigh buntáiste **amháin** agus míbhuntáiste **amháin** a bhaineann leis an miotal seo.

NÓ

5(d)

- (i) Ainmnigh cóireáil chuí dromchla agus déan cur síos ar conas a chuirfí le tacaí binse de chruach fheadánach í.
- (ii) Déan cur síos ar conas a d'fhéadfadh mac léinn maolú ar an drochthionchar a bheadh ag tionscadal ar an timpeallacht tríd an ábhar a roghnaíonn siad.

**Leathanach
Bán**

**Leathanach
Bán**

**Leathanach
Bán**

**Leathanach
Bán**