



Scrúdú na hArdteistiméireachta, 2007

Líníocht Theicniúil
Páipéar II(B) – Ardleibhéal
(Feidhmiúcháin Tógála)

(200 Marc)

Dé hAoine 15 Meitheamh
Tráthnóna, 2.00 - 5.00

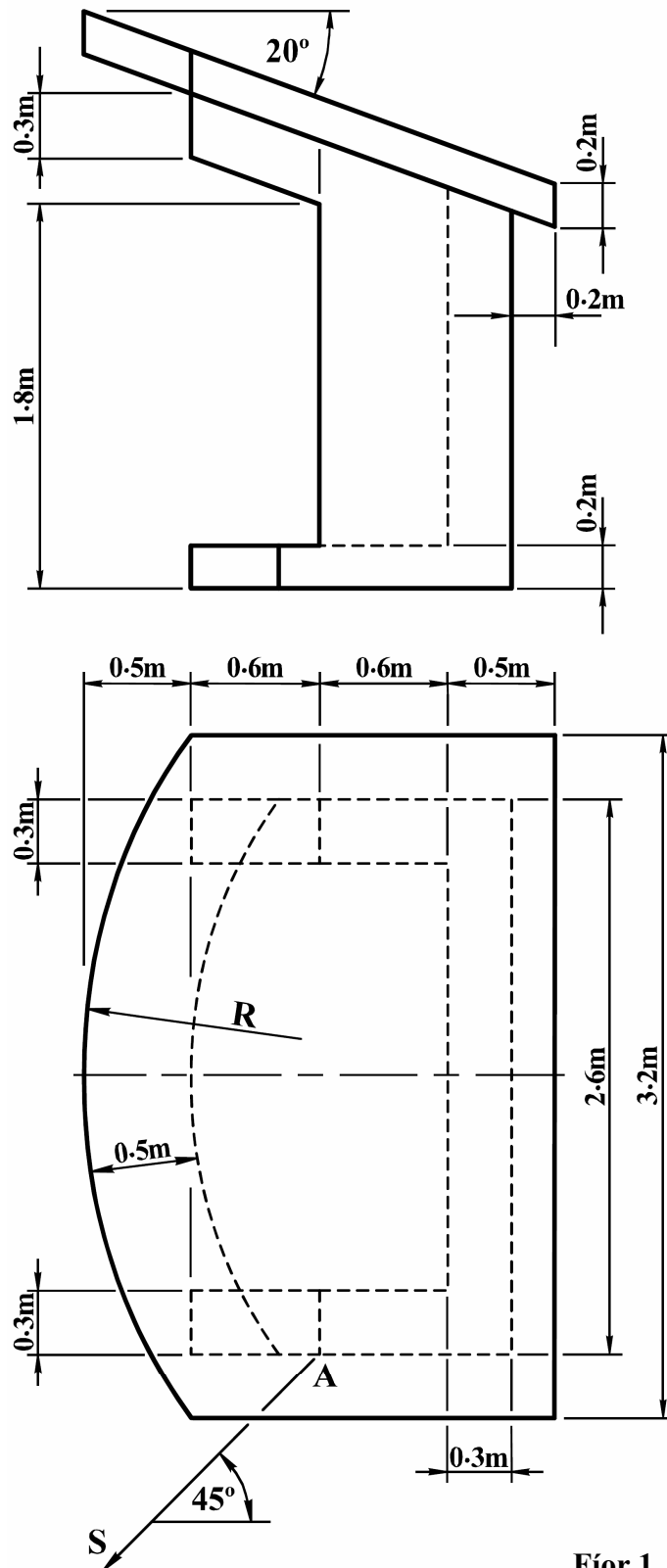
Treoracha

- (a) Ceithre cheist a fhreagairt.*
- (b) Tá na ceisteanna go léir ar aon mharc.*
- (c) Ní mór na línte tógála a thaispeáint ar gach réiteach.*
- (d) Scriobh uimhir na ceiste go soiléir ar pháipéar na bhfreagraí.*
- (e) Ná bain úsáid ach as taobh amháin den pháipéar.*
- (f) Tugtar na toisí go léir ina méadair nó ina milliméadair ar an scrúdpháipéar.*
- (g) Is ceadmhach teilgean den chéad uillinn nó den triú huillinn a úsáid.*

- Tarraing cló peirspictíoch den fhoscadán a thaispeántar i bhFíor 1. Téann plána an phictiúir tríd an gcoirnéal A, tá an breathnóir S suite 2.2m ón gcoirnéal A agus tá an léaslíne 1.6m os cionn líne na talún.

Bain feidhm as pointí téaltaithe cúnta mar is cuí.

Scála 1 : 20



Fíor 1

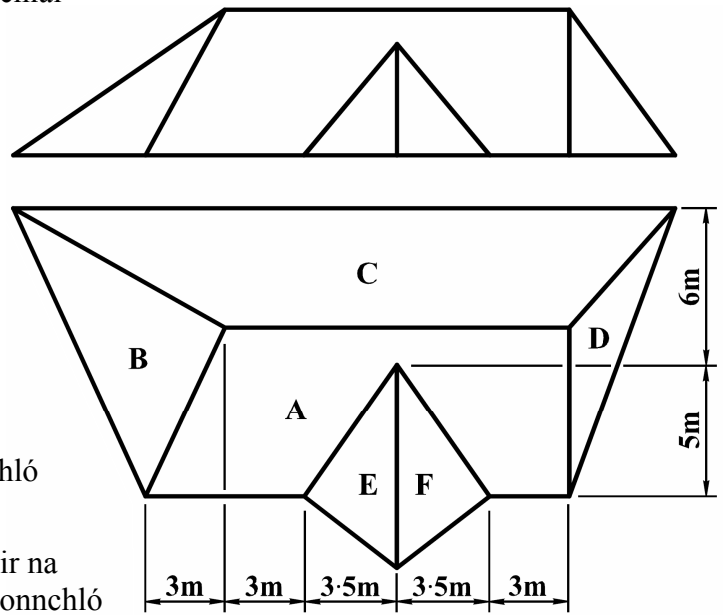
2. I bhFíor 2 taispeántar bonnchló agus ingearchló imlíneach de dhromchlaí dín.

(a) Tá claonadh 40° agus 50° sna dromchlaí A agus C, faoi seach. Tarraing bonnchló agus ingearchló an dromchla dín A.

(b) Tá claonadh 45° sa dromchla B. Tarraing bonnchló agus ingearchló an dromchla dín B agus aimsigh an uillinn dhéhéidreach idir na dromchlaí A agus B.

(c) Tá 120° san uillinn dhéhéidreach idir na dromchlaí A agus D. Críochnaigh bonnchló agus ingearchló na ndromchlaí C agus D.

(d) Tá 140° san uillinn dhéhéidreach idir na dromchlaí E agus F. Críochnaigh bonnchló agus ingearchló an dín.



Fíor 2

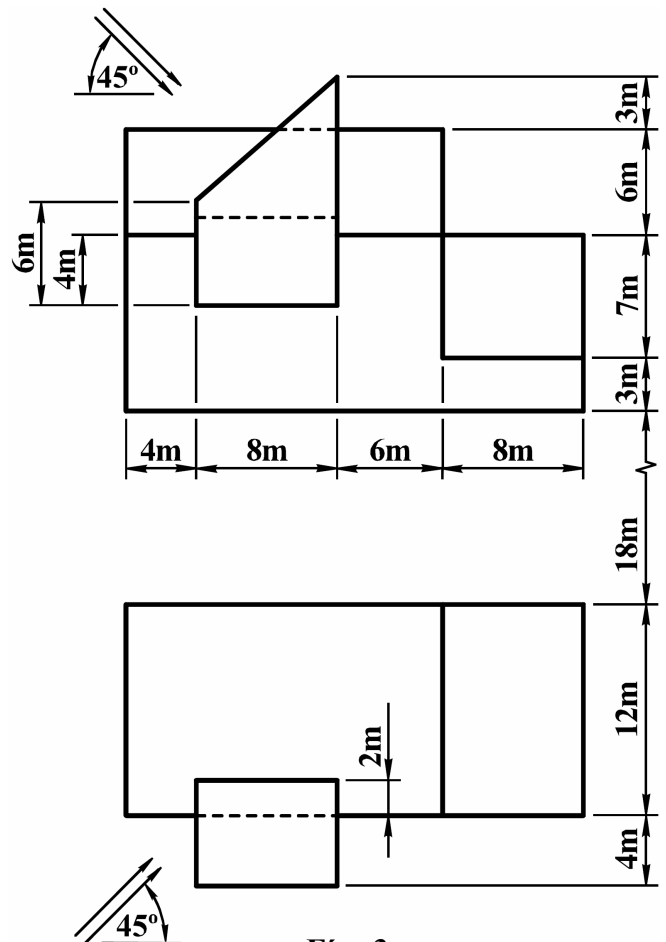
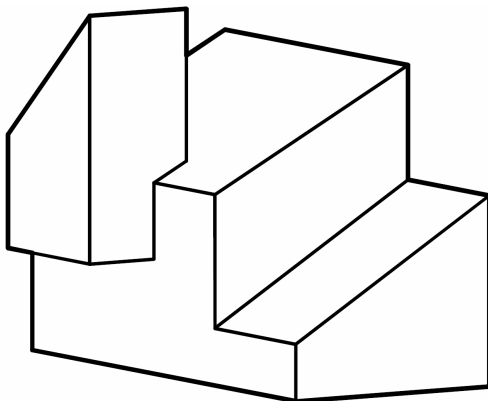
Scála 1 : 100

3. I bhFíor 3 taispeántar bonnchló agus ingearchló foirgnimh áirithe. Taispeántar cló pictiúrtha den fhoirgneamh freisin.

Tarraing an bonnchló agus an t-ingearchló a thugtar agus déan amach na scáileanna agus an scáth sa bhonnchló agus san ingearchló nuair a bhíonn treo an tsolais mar a thaispeántar.

Nóta: Fág 18m idir an bonnchló agus an t-ingearchló mar a thaispeántar.

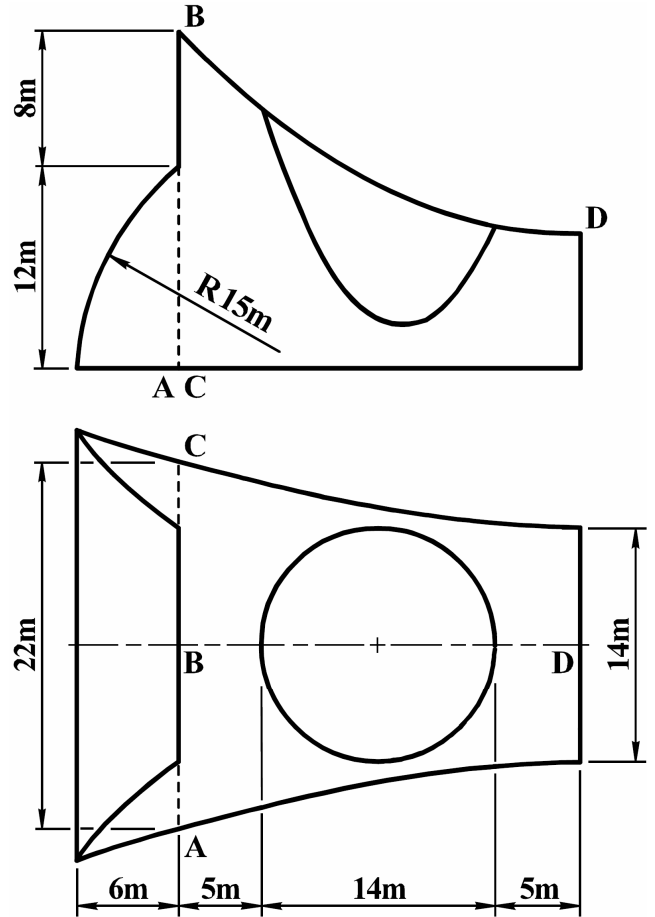
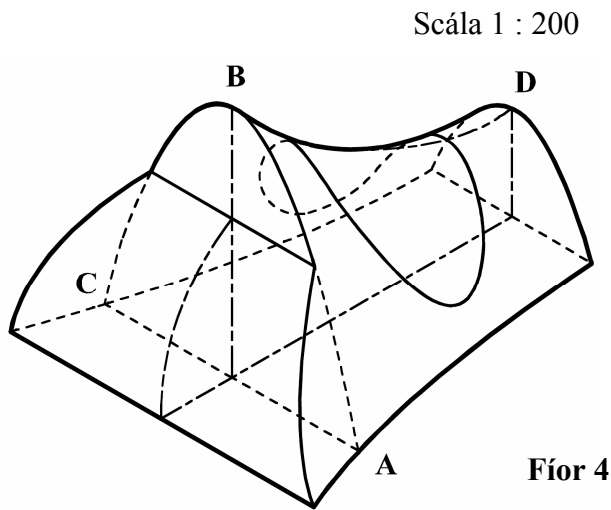
Scála 1 : 200



Fíor 3

4. I bhFíor 4 taispeántar cló pictiúrtha d'airéine. Taispeántar bonnchló agus ingearchló imlíneach na hairéine freisin. Déantar príomhdhromchla an struchtúir a ghiniúint tríd an bparabóil ABC a aistriú go ceartingearach feadh na parabóile BD. Is é D rinn na parabóile BD. Cuimsítear san airéine achar glónraithe atá ciorclach sa bhonnchló.

Tarraing an bonnchló agus an t-ingearchló a thugtar den airéine.



5. (a) Is dhá phointe iad A agus B ar léarscáil chomhrianach a bhfuil airde 105m agus 95m iontu, faoi seach. Tá A suite 65m ó thuaidh ó B ar an léarscáil. Druileáiltear tollpholl sceabhach ag A sa treo siar ó dheas sa bhonnchló agus tá fíorchlaonadh 40° aige leis an bplána cothrománach. Nochtann sé barrdhromchla agus bundromchla strataim áirithe ag airde 85m agus 15m, faoi seach.

Druileáiltear tollpholl sceabhach ag B sa treo soir ó dheas sa bhonnchló agus tá fíorchlaonadh 60° aige leis an bplána cothrománach. Nochtann sé barrdhromchla agus bundromchla an strataim ag airde 65m agus 35m, faoi seach.

Faigh claonas, treoíocht agus tiús an strataim.

- (b) Ar léarscáil ar leith is dhá phointe iad R agus S ar dhromchla uachtarach strataim agus iad ceangailte le dronlíne. Tá airde 60m in R. Tá S suite 90m soir ó thuaidh ó R ar an léarscáil. Tá treoíocht ó thuaidh 70° soir ag an stratam agus tá claonas 40° aige sa treo soir ó dheas go ginearálta.

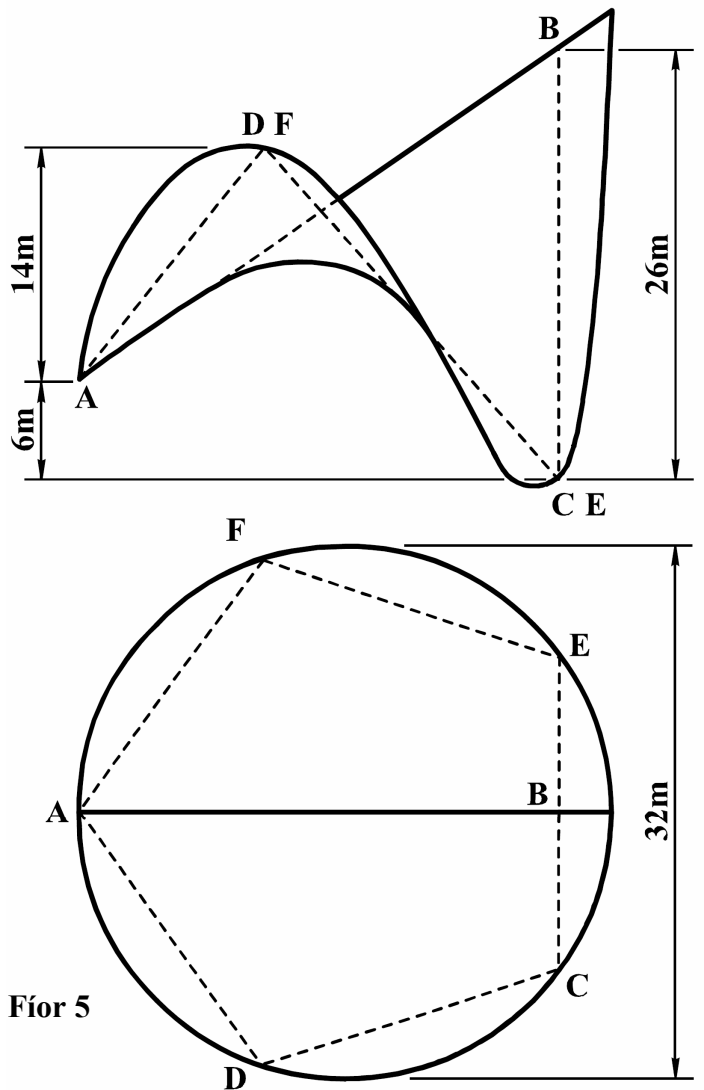
Faigh airde an phointe S agus aimsigh an fhíoruillinn idir an líne RS agus líne na treoíochta.

Scála 1 : 1000

6. I bhFíor 5 taispeántar bonnchló agus ingearchló imlíneach de dhíon parabólóideach hipearbólóideach. Tá imlíne an dín mar chiorcal sa bhonnchló agus is peinteagán rialta é ADCEF sa bhonnchló. Déantar an díon trí leathnú ar na dromchlaí parabólóideacha hipearbólóideacha ABCD agus ABEF atá buailte le chéile.

- (a) Tarraing bonnchló agus ingearchló an dín.
- (b) Taispeáin cuaire an dín feadh líne a cheanglaíonn C le F.
- (c) Tá treophlána do na heilimintí AD agus BC suite sa chaoi go bhfuil pointe A sa treophlána. Tarraing na rianta don treophlána seo, aimsigh an fhíoruillinn idir an treophlána agus an plána ceartingearach agus faigh an fad is giorra ón bpointe F go dtí an treophlána.

Scála 1 : 200



Fíor 5

7. Taispeánann an líníocht a ghabhann leis seo comhrianta talún agus eatramh ceartingearach cúig méadar eatarthu. Is é ABCD líne an bhóthair atá á bheartú. Is é O lárphointe an stua chiorclaigh.

Gabhann an tsonraíocht a leanas leis an mbóthar:

- (i) leithead foirmíochta mar a thaispeántar;
 - (ii) leibhéal foirmíochta ag B 40m;
 - (iii) A go B leibhéalta;
 - (iv) grádán B go C ag ardú go haonfhoirmeach go dtí leibhéal 55m ag C;
 - (v) grádán C go D, 1 in 15 agus ag titim;
 - (vi) taobhfhánaí na ngearrthacha 1 in 1.5;
 - (vii) taobhfhánaí na gcláifort 1 in 2.
- (a) Taispeáin, ar an líníocht, na hoibreacha talún atá riachtanach chun réiteach a dhéanamh don bhóthar.
- (b) Baint úsáid as modh grafach agus aimsigh grádán an bhóthair idir B agus C.

Leathanach
Bán