

**AN ROINN OIDEACHAIS AGUS EOLAÍOCHTA**

---

**SCRÚDÚ ARDTEISTIMÉIREACHTA, 2000**

---

**MATAMAITIC — ARDLEIBHÉAL — PÁIPÉAR 1 (300 marc)**

---

**DÉARDAOIN, 8 MEITHEAMH — MAIDIN, 9.30 go dtí 12.00**

---

**SÉ CHEIST** a fhreagairt (50 marc an ceann).

**Is féidir go gcaillfí marcanna mura dtaispeántar obair riachtanach go soiléir.**

---

1. (a) Taispeáin go bhfuil an slonn thíos tairiseach nuair  $x \neq 2$

$$\frac{3x-5}{x-2} + \frac{1}{2-x}.$$

- (b) Tá  $f(x) = ax^3 + bx^2 + cx + d$ , áit a bhfuil  $a, b, c, d \in \mathbf{R}$ .

Más réaduimhir í  $k$  gur fíor ina leith  $f(k) = 0$ , cruthaigh gur fachtóir é  $x - k$  de  $f(x)$ .

- (c) Is fachtóir é  $(x-t)^2$  de  $x^3 + 3px + c$ .

Taispeáin

(i)  $p = -t^2$

(ii)  $c = 2t^3$ .

2. (a) Réitigh le haghaidh  $x, y, z$

$$3x - y + 3z = 1$$

$$x + 2y - 2z = -1$$

$$4x - y + 5z = 4.$$

- (b) Réitigh  $x^2 - 2x - 24 = 0$ .

Uaidh sin, faigh na luachanna ar  $x$  gur fíor ina leith

$$\left(x + \frac{4}{x}\right)^2 - 2\left(x + \frac{4}{x}\right) - 24 = 0, \quad x \in \mathbf{R}, x \neq 0.$$

- (c) (i) Réalaigh  $a^4 - b^4$  mar thoradh de thrí fhachtóir.

(ii) Fachtóirigh  $a^5 - a^4b - ab^4 + b^5$ .

Bain feidhm as do chuid freagraí ar (i) agus (ii) chun a thaispeáint go bhfuil

$$a^5 + b^5 > a^4b + ab^4$$

áit ar réaduimhreacha neamhchothroma deimhneacha iad  $a$  agus  $b$ .

3. (a) Ag glacadh leis go bhfuil  $A = \begin{pmatrix} 1 & -2 \\ 2 & 3 \end{pmatrix}$  agus  $B = \begin{pmatrix} 3 & 1 \\ -5 & -2 \end{pmatrix}$ , faigh  $B^{-1}A$ .

(b) (i) Simpligh  $\left(\frac{-2+3i}{3+2i}\right)$  agus uaidh sin, faigh an luach ar  $\left(\frac{-2+3i}{3+2i}\right)^9$ , áit a bhfuil  $i^2 = -1$ .

(ii) Faigh an dá uimhir choimpléascacha  $a + ib$  gur fíor ina leith

$$(a + ib)^2 = 15 - 8i.$$

(c) Bain feidhm as teoirim De Moivre

(i) chun a chruthú go bhfuil  $\cos 3q = 4\cos^3 q - 3\cos q$

(ii) chun  $(-\sqrt{3} - i)^{10}$  a réalú sa bhfoirm  $2^n(1 - i\sqrt{k})$ , áit a bhfuil  $n, k \in \mathbf{N}$ .

4. (a) Is iad

$$2x - 4, \quad x + 1, \quad x - 3$$

an chéad trí théarma de sheicheamh iolraíoch.

Faigh an dá luach fhéideartha ar  $x$ .

(b) Ag glacadh leis go bhfuil

$$u_n = \frac{1}{2}(4^n - 2^n)$$

le haghaidh gach slánuimhreach  $n$ , taispeáin

$$u_{n+1} = 2u_n + 4^n.$$

(c) (i) Ag glacadh leis go bhfuil

$g(x) = 1 + 2x + 3x^2 + 4x^3 \dots$ , áit a bhfuil  $-1 < x < 1$ , taispeáin go bhfuil

$$g(x) = \frac{1}{(1-x)^2}.$$

(ii) Tá  $P(n) = u_1 u_2 u_3 u_4 \dots u_n$  áit a bhfuil

$u_k = ar^{k-1}$  le haghaidh  $k = 1, 2, 3, \dots, n$  agus  $a, r \in \mathbf{R}$ .

Scríobh  $P(n)$  sa bhfoirm  $a^n r^{f(n)}$ , áit ar shlonn cearnógach, in  $n$ , é  $f(n)$ .

5. (a) Réalaigh an deachúil athfillteach 1.2 sa bhfoirm  $\frac{a}{b}$ , áit a bhfuil  $a, b \in \mathbf{N}$ .

(b) Bain feidhm as ionduchtú chun a chruthú go bhfuil  $n! > 2^n$ ,  $n \in \mathbf{N}$ ,  $n \geq 4$ .

(c) (i) Réitigh le haghaidh  $x$

$$2\log_9 x = \frac{1}{2} + \log_9(5x + 18), \quad x > 0.$$

(ii) Réitigh le haghaidh  $x$

$$3e^x - 7 + 2e^{-x} = 0.$$

6. (a) Dífreáil i leith  $x$

(i)  $(1 + 5x)^3$

(ii)  $\frac{7x}{x-3}$ ,  $x \neq 3$ .

(b) (i) Cruthaigh riail an toraidh

$$\frac{d}{dx}(uv) = u \frac{dv}{dx} + v \frac{du}{dx}$$

ó bhunphrionsabail, áit a bhfuil  $u = u(x)$  agus  $v = v(x)$ .

(ii) Ag glacadh leis go bhfuil  $y = \sin^{-1}(2x-1)$ , faigh  $\frac{dy}{dx}$  agus ríomh a

luach nuair  $x = \frac{1}{2}$ .

(c) Tá  $f(x) = \frac{1}{x+1}$ , áit a bhfuil  $x \in \mathbf{R}$ ,  $x \neq -1$ .

(i) Faigh cothromóidí na n-asamtóití den ghraf de  $f(x)$ .

(ii) Cruthaigh nach bhfuil pointe casta ná pointe athchasta ar bith ar an ngraf de  $f(x)$ .

(iii) Má tá na tadhlaithé don chuar ag  $x = x_1$  agus  $x = x_2$  comhthreomhar lena chéile agus más fíor  $x_1 \neq x_2$ , taispeáin

$$x_1 + x_2 + 2 = 0.$$

7. (a) Faigh fána an tadhlaí don chuar

$$x^2 - xy + y^2 = 1 \text{ ag an bpointe } (1,0).$$

- (b) Is iad

$$x = \cos^3 t \text{ agus } y = \sin^3 t, \quad 0 \leq t \leq \frac{p}{2},$$

na cothromóidí paraiméadracha de chuar.

- (i) Faigh  $\frac{dx}{dt}$  agus  $\frac{dy}{dt}$  i dtéarmaí  $t$ .

- (ii) Uaidh sin, faigh slánuimhreacha  $a$  agus  $b$  gur fíor ina leith

$$\left(\frac{dx}{dt}\right)^2 + \left(\frac{dy}{dt}\right)^2 = \frac{a}{b}(\sin 2t)^2.$$

- (c) Tá  $f(x) = \frac{\ln x}{x}$ , áit a bhfuil  $x > 0$ .

- (i) Taispeáin go dtarlaíonn uasluach  $f(x)$  ag an bpointe  $\left(e, \frac{1}{e}\right)$ .

- (ii) Uaidh sin, taispeáin  $x^e \leq e^x$  le haghaidh gach  $x > 0$ .

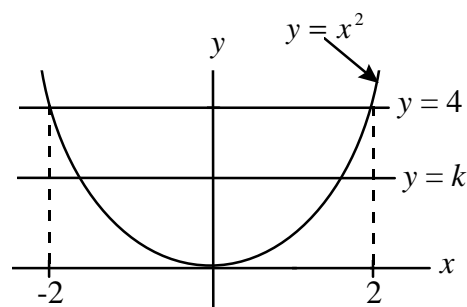
8. (a) Faigh (i)  $\int (x^2 + 2) dx$  (ii)  $\int e^{3x} dx$ .

- (b) Luacháil (i)  $\int_0^{\frac{p}{2}} \sin^2 3q \, dq$  (ii)  $\int_0^1 \frac{x}{x^2 + 4} dx$ .

- (c) (i) Faigh an luach ar an réaduimhir  $p$  gur fíor ina leith

$$\int_2^p \frac{dx}{x^2 - 4x + 5} = \frac{p}{4}.$$

- (ii) An réigiún atá iata ag an gcuar  $y = x^2$  agus an líne  $y = 4$ , tá sé roinnte i ndá réigiún atá ar chomhachar ag an líne  $y = k$ . Taispeáin  $k^3 = 16$ .



---

**AN ROINN OIDEACHAIS AGUS EOLAÍOCHTA**

---

**SCRÚDÚ NA hARDTEISTIMÉIREACHTA, 2000**

---

**MATAMAITIC—ARDLEIBHÉAL**

**PÁIPÉAR 2 (300 marc)**

---

**DÉ hAOINE, 9 MEITHEAMH — MAIDIN, 9.30 go dtí 12.00**

---

Freagair **cúig** ceist as Roinn **A** agus ceist **amháin** as Roinn **B**.  
Tá 50 marc ag dul do gach ceist.

**Is féidir go gcaillfí marcanna mura dtaispeántar gach obair riachtanach go soiléir.**

---

## ROINN A

### Freagair CÚIG cheist as an roinn seo.

---

1. (a) Cothromóid chiorcail is ea  $x^2 + y^2 = 130$ .

Faigh fána an tadhlaí don chiorcal ag an bpointe  $(-7, 9)$ .

- (b) Cothromóid chiorcail is ea  $x^2 + y^2 - 6x + 4y - 12 = 0$ .

Comhordanáidí a láir agus fad a gha a scríobh síos.

Cothromóid chiorcail eile is ea  $x^2 + y^2 + 12x - 20y + k = 0$ ,  $k \in \mathbf{R}$ .

Tadhlan an dá chiorcal a chéile go seachtrach. Faigh an luach ar  $k$ .

- (c) Déantar ciorcal a thrasnú ag líne ag na pointí  $a(-3, 0)$  agus  $b(5, -4)$ .

Lárphointe  $[ab]$  is ea  $m$ . Faigh comhordanáidí  $m$ .

Is é  $\sqrt{5}$  an fad slí idir lár an chiorcail agus  $m$ .

Faigh cothromóidí an dá chiorcal a chomhlíonann na coinníollach sin.

2. (a) Tá  $\vec{v} = t\vec{i} - 8\vec{j}$ , áit a bhfuil  $t \in \mathbf{R}$ .

Faigh an dá luach fhéideartha ar  $t$  gur fíor ina leith  $|\vec{v}| = 17$ .

- (b) Tá  $\vec{a} = 2\vec{i} + (2k + 3)\vec{j}$  agus  $\vec{b} = k^2\vec{i} + 6\vec{j}$ , áit a bhfuil  $k \in \mathbf{Z}$ .

Tá  $\vec{a}$  ingearach le  $\vec{b}$ .

- (i) Faigh an luach ar  $k$ .

- (ii) Ag baint feidhme duit as do luach ar  $k$ , scríobh  $\vec{a} + \vec{b}$  i dtéarmaí  $\vec{i}$  agus  $\vec{j}$ .

- (iii) Uaidh sin, faigh tomhas na huillinne idir  $\vec{a}$  agus  $\vec{a} + \vec{b}$  ceart go dtí an cheim is gaire.

- (c) (i) Tá  $\vec{p} + \vec{q} = 5\vec{i} - 5\vec{j}$  agus  $\vec{p}\vec{q} = 3\vec{i} + \vec{j}$ .

Réalaigh  $\vec{p}$  agus  $\vec{q}$  i dtéarmaí  $\vec{i}$  agus  $\vec{j}$ .

- (ii) Ag glacadh leis go bhfuil  $\vec{r} = \frac{\vec{p} \cdot \vec{q}}{\vec{q} \cdot \vec{q}} \vec{q}$ , réalaigh  $\vec{r}$  i dtéarmaí  $\vec{i}$  agus  $\vec{j}$ .

- (iii) Ag glacadh leis go bhfuil  $\vec{s} = \frac{7}{2}\vec{i} + m\vec{j}$ ,  $m \in \mathbf{Q}$ , faigh an luach ar  $m$  gur fíor ina leith an bunphointe,  $r$  agus  $s$  a bheith comhlíneach.

3. (a) Cothromóid líne  $L$  is ea  $14x + 6y + 1 = 0$ .

Faigh cothromóid na líne atá ingearach le  $L$  agus a ghabhann an pointe  $(3, -2)$ .

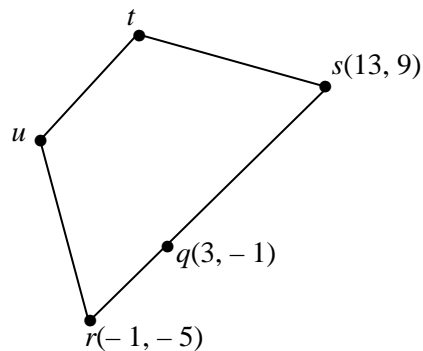
- (b) Dhá phointe iad  $a(1, -2)$  agus  $c(-4, 8)$ .

Is é  $f$  an t-inmhapa  $(x, y) \rightarrow (x', y')$  áit a bhfuil  $x' = 2x - 3y$  agus  $y' = 6x + y$ .

- (i) Tá  $[ac]$  roinnte ag  $b$  sa chóimheas  $3 : 2$ . Faigh comhordanáidí  $b$ .
- (ii) Faigh  $f(a), f(b)$  agus  $f(c)$ .
- (iii) Fíoraigh  $|f(a)f(b)| : |f(b)f(c)| = |ab| : |bc|$ .

- (c) Is ceathairshleasán é  $rstu$ , áit arb  $r$  is  $(-1, -5)$  agus  $s$  is  $(13, 9)$ .

Luíonn  $q(3, -1)$  idir  $r$  agus  $s$ .



- (i) Comhordanáidí  $u$  is ea  $(-2k, 3k)$  áit a bhfuil  $k \in \mathbf{R}$  agus  $k > 0$ .

Achar an triantáin  $rqv$  is ea 28 aonad cearnach.

Faigh an luach ar  $k$ .

- (ii) Is é  $-\frac{3}{11}$  fána  $ts$ .

Tá  $sr$  comhthreomhar le  $tu$ .

Faigh comhordanáidí  $t$ .

4. (a) Is é  $27 \text{ cm}^2$  an t-achar atá ag teascóg chiorcail agus is é  $6 \text{ cm}$  an fad atá i nga an chiorcail.

Faigh, i raidiain, tomhas na huillinne sa teascóg.

- (b) Faigh na réitigh uile den chothromóid

$$15\sin^2x - 4\cosx - 11 = 0$$

sa bhfearrann  $0^\circ \leq x \leq 360^\circ$ . Bíodh do fhreagra ceart go dtí an chéim is gaire.

- (c) (i) Bunaigh an fhoirmle  $\cos(A+B) = \cosA\cosB - \sinA\sinB$ .
- (ii) Taispeáin go bhfuil  $\cos(A+B)\cosB + \sin(A+B)\sinB = \cosA$ .



5. (a) Luacháil (i) teor  $\lim_{x \rightarrow 0} \frac{\sin 5x}{x}$  (ii) teor  $\lim_{x \rightarrow 0} \frac{\sin 2x}{\sin x}$ .

(b) (i) Taispeáin  $\frac{1 - \tan^2 A}{1 + \tan^2 A} = \cos 2A$ .

(ii) Uaidh sin, nó as slí eile, faigh na luachanna ar na slánuimhreacha  $l$  agus  $k$  gur fíor ina leith

$$\frac{1 - \tan^2(135^\circ - A)}{1 + \tan^2(135^\circ - A)} = l \sin kA$$

le haghaidh na luachanna uile ar  $A$  ag a bhfuil  $\tan(135^\circ - A)$  sainithe.

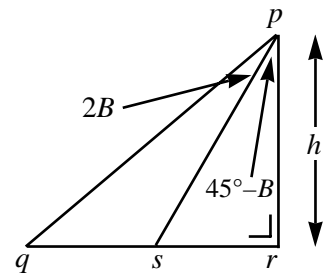
(c) Sa triantán  $pqr$ , tá  $|\angle qrp| = 90^\circ$  agus tá  $|rp| = h$ .

Pointe ar  $[qr]$  is ea  $s$  gur fíor ina leith  $|\angle spq| = 2B$  agus

$$|\angle rps| = 45^\circ - B, \quad 0^\circ < B < 45^\circ.$$

(i) Taispeáin  $|sr| = h \tan(45^\circ - B)$ .

(ii) Uaidh sin, nó as slí eile, taispeáin  $|qs| = 2h \tan 2B$ .



6. (a) Baineann banc feidhm as na luibhne 0 go dtí 9, iad araon san áireamh, chun uimhir aitheantais phearsanta ina bhfuil ceithre luibhean a thabhairt do gach duine de a chuid custaiméirí. Eiseamláirí iad 2475, 0865 agus 3422.

(i) Cad é an líon d'uimhreacha aitheantais pearsanta éagsúla is féidir leis an mbanc a úsáid?

(ii) Má chinneann an banc gan uimhreacha aitheantais pearsanta a thosaíonn ar 0 a úsáid, cad é an líon d'uimhreacha is féidir leis an mbanc a úsáid ansan?

(b) (i) Réitigh an difearchothromóid  $12u_{n+2} - 8u_{n+1} + u_n = 0$ ,

$$\text{áit a bhfuil } n \geq 0 \text{ agus ag glacadh leis go bhfuil } u_0 = \frac{1}{15} \text{ agus } u_1 = \frac{7}{30}.$$

(ii) Uaidh sin, réalaiigh  $u_3$  sa bhfoirm  $\frac{p}{q}$  áit a bhfuil  $p, q \in \mathbf{N}$ .

(c) Lonnaítear sé dhiosca dhearga, uimhrithe ó 1 go dtí 6, mar aon le ceithre dhiosca ghlasa, uimhrithe ó 7 go dtí 10, i mbosca A.

Lonnaítear deich ndiosca ghorma, uimhrithe ó 1 go dtí 10, i mbosca B.

Déantar dhá dhiosca a thoghadh as bosca A agus dhá dhiosca a thoghadh as bosca B. Déantar na ceithre dhiosca a thoghadh go fánach agus gan iad a athshuíomh.

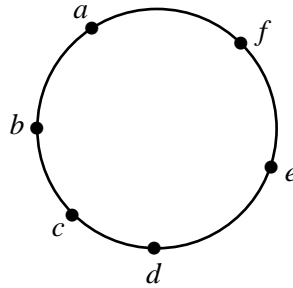
Faigh an dóchúlacht

(i) gur dhá dhiosca dhearga, iad mar aon le dhá dhiosca ghorma atá ré-uimhrithe, iad na dioscaí a toghadh

(ii) gur diosca dearg amháin, gur diosca glas amháin mar aon le dhá dhiosca ghorma, iad uile corruimhreach, na dioscaí a toghadh

(iii) gur diosca dearg amháin, gur diosca glas amháin mar aon le dhá dhiosca ghorma sa chaoi go bhfuil suim na n-uimhreacha ar an diosca dearg agus an diosca glas le chéile cothrom le 10 agus suim na n-uimhreacha ar na dioscaí ghorma cothrom le 10, freisin, na dioscaí a toghadh.

7. (a) Tá na pointí  $a, b, c, d, e$  agus  $f$  ar chiorcal.



- (i) Má bhaintear feidhm as na pointí sin mar stuaiceanna, cé mhéad ceathairshleasán eágsúil is féidir a chumadh?
- (ii) Cé mhéad de na ceathairshleasáin sin ina mbeidh  $[ab]$  mar shlios amháin díobh?

(b) Déantar trí chárta a thoghadh, go fánach agus gan iad a athshuíomh, as pacá de 52 cárta imeartha.

Faigh an dóchúlacht

- (i) gurb iad an Cuireata triuf, an Bhanríon triuf agus an Rí triuf na trí chárta a toghadh
- (ii) gurb é an t-aon gach cárta a toghadh
- (iii) gur dubh é dhá chárta agus gur muileata é cárta amháin
- (iv) gur den dath céanna (dubh nó dearg) gach ceann de na trí chárta.

(c) Is é  $\bar{x}$  an meán atá ag na réaduimhreacha  $q, r, s$  agus  $t$  agus is é  $\sigma$  an diall caighdeánach.

Dearc ar na huimhreacha

$$\beta q + \alpha, \beta r + \alpha, \beta s + \alpha \text{ agus } \beta t + \alpha$$

áit a bhfuil  $\beta, \alpha \in \mathbf{R}$  agus  $\beta > 0$ .

- (i) Taispeáin gurb é  $\beta \bar{x} + \alpha$  an meán de na huimhreacha sin.
- (ii) Taispeáin gurb é  $\beta \sigma$  an diall caighdeánach de na huimhreacha sin.

ROINN B

Freagair ceist AMHÁIN as an roinn seo.

8. (a) Bain feidhm as tástáil an chóimheasa chun a thaispeáint go bhfuil  $\sum_{n=1}^{\infty} \frac{(n+2)!}{2^{n+2}}$  eisréimneach.

- (b) (i) Bain feidhm as mírshuimeáil chun  $\int e^{2x} \cos x dx$  a fháil.

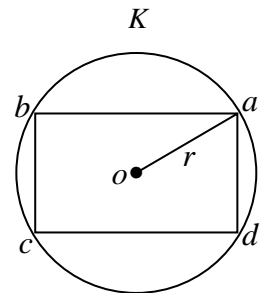
- (ii) Ag glacadh leis go bhfuil  $\int_0^{\frac{\pi}{2}} e^{2x} \cos x dx = \frac{1}{n} (e^{\pi} - 2)$ , faigh an luach ar  $n$  áit a bhfuil  $n \in \mathbf{N}$ .

- (c) Is é  $o$  lár an chiorcail  $K$ .

Cumtar dronuilleog  $abcd$  leis na pointí  $a, b, c$  agus  $d$  atá ar  $K$ .

$|oa| = r$  cm;  $|ab| = 2x$  cm agus  $|ad| = 2y$  cm.

- (i) Réalaigh  $y$  i dtéarmaí  $x$  agus  $r$ .  
 (ii) Uaidh sin, nó as slí eile, taispeáin gurb é  $2r^2$  cm<sup>2</sup> uasachar  $abcd$ .



9. (a) Tá trí thicéad déag i gcrannchur. Is gorm iad sé cinn de na ticéid, is dearg iad ceithre cinn díobh agus is glas iad trí cinn.

Déantar trí thicéad a thoghadh go fánach agus gan iad a athshuíomh, ceann amháin ina dhiaidh an chinn eile.

Faigh an dóchúlacht gur gorm é an chéad ticéad a thoghtar, gur dearg é an dara ceann agus gur dearg nó glas é an tríú ceann.

- (b) Tá an dáileadh normalach ar meán 165 cm agus ar diall caighdeánach 10 cm, ar airdeanna na mac léinn i gcoláiste ar leith. Má dhéantar mac léinn a thoghadh go fánach, faigh an dóchúlacht go bhfuil airde an mhic léinn

- (i) níos lú ná 170 cm  
 (ii) idir 160 cm agus 180 cm.

- (c) Rinneadh taifid ar luasanna de 150 carr a thoghadh go fánach agus iad ag gabháil thar phointe seiceála ar mhórbhóthar. Ba é 115 km/u meánluas na gcarranna agus ba é 24 km/u an diall caighdeánach. Is é 112 km/u an luasteorainn ar an mhórbhóthar.

- (i) An léiríonn a leithéid, ag an leibhéal suntasachta de 5%, go bhfuil meánluas na gcarranna a ghabhann thar an phointe seiceála níos mó ná an luasteorainn?  
 (ii) Faigh an t-eatramh muiníne 95% i gcás mheánluas na gcarranna a ghabhann thar an phointe seiceála, ceart go dtí ionad amháin de dheachúlacha.

10. (a) Is é  $G = \{R_{0^\circ}, R_{120^\circ}, R_{240^\circ}\}$  an tacar de shiméadrachtaí rothlacha de thriantán comhshleasach.

Taispeáin gur ghrúpa é  $G$  faoi chomhshuíomh. Is féidir leat glacadh leis go bhfuil comhshuíomh comhthiomsaitheach.

- (b) Tá  $H = \{e, f, g, h, m, p, s, t\}$  áit a bhfuil

$$e = \begin{pmatrix} 1 & 2 & 3 & 4 \\ 1 & 2 & 3 & 4 \end{pmatrix}, f = \begin{pmatrix} 1 & 2 & 3 & 4 \\ 2 & 3 & 4 & 1 \end{pmatrix}, g = \begin{pmatrix} 1 & 2 & 3 & 4 \\ 3 & 4 & 1 & 2 \end{pmatrix}, h = \begin{pmatrix} 1 & 2 & 3 & 4 \\ 4 & 1 & 2 & 3 \end{pmatrix},$$

$$m = \begin{pmatrix} 1 & 2 & 3 & 4 \\ 3 & 2 & 1 & 4 \end{pmatrix}, p = \begin{pmatrix} 1 & 2 & 3 & 4 \\ 1 & 4 & 3 & 2 \end{pmatrix}, s = \begin{pmatrix} 1 & 2 & 3 & 4 \\ 4 & 3 & 2 & 1 \end{pmatrix}, t = \begin{pmatrix} 1 & 2 & 3 & 4 \\ 2 & 1 & 4 & 3 \end{pmatrix}.$$

Is grúpa é  $H, \circ$ , áit a chomharthaíonn  $\circ$  comhshuíomh na n-eagar.

- (i) Iniúch an bhfuil  $f \circ m = m \circ f$ .
- (ii) Tá an t-ord céanna ag na baill  $g, m, p, s$  agus  $t$ . Cad é an t-ord sin?
- (iii) Tá an t-ord céanna ag na baill  $f$  agus  $h$ . Cad é an t-ord sin?
- (iv) Faigh an foghrúpa de  $H$  a ghintear ag an mball  $f$ .
- (v) Taispeáin go bhfuil an foghrúpa sin iseamorfach leis an ngrúpa  $\{1, -1, i, -i\}, \times$  áit a bhfuil  $i^2 = -1$  agus áit a chomharthaíonn  $\times$  méadú.

11. (a) Lár d'éilips is ea  $(0,0)$  agus tá ceann amháin dá chuid fócais ag  $(\sqrt{57}, 0)$ . Tá fad 16 sa mhion-ais aige. Faigh cothromóid an éilips.

- (b) Is pointe é  $p(x, y)$  sa chaoi go bhfuil a fhad ón bpointe  $(-ae, 0)$  ionann le  $e$  uair a fhaid ón líne  $ex + a = 0$  áit a bhfuil  $0 < e < 1$  agus  $a \in \mathbf{R}$ .

Taispeáin go sásaíonn  $p$  an chothromóid

$$\frac{x^2}{a^2} + \frac{y^2}{a^2(1-e^2)} = 1.$$

- (c) Is inmhapá cosúlachta é  $f$ . Is í an mhírlíne  $[p'q']$  íomhá na mírlíne  $[pq]$  faoi  $f$ .

Más  $M$  an déroinnteoir ingearach de  $[pq]$ , cruthaigh gurb é  $f(M)$  an déroinnteoir ingearach de  $[p'q']$ .

Uaidh sin, cruthaigh go ndéantar imlár an triantáin  $pqr$  a mhapáil ar an imlár den triantán  $p'q'r'$  faoi  $f$ .