



Coimisiún na Scrúduithe Stáit

SCRÚDÚ NA hARDTEISTIMÉIREACHTA 2003

TÍREOLAÍOCHT – GNÁTHLEIBHÉAL

DÉ LUAIN, 9 MEITHEAMH – TRÁTHNÓNA, 1.30 – 4.50

TREORACHA D'IARRTHÓIRÍ

Baineann Ceist 1 leis an Léarscáil Shuirbhéireacht Ordanáis agus tá sí éigeantach.

Tá na ceisteanna eile, ó 2 go dtí 18, leagtha amach i **gCEITHRE** roinn. Is iad seo, Tíreolaíocht Fhisiceach, Tíreolaíocht Shóisialta, Tíreolaíocht Eacnamaíoch, Tíreolaíocht Réigiúnach agus Dhomhanda.

Caithfear **cúig cheist** a fhreagairt ach **gan níos mó ná dhá cheist** a fhreagairt as an aon roinn amháin. Ní mór d'iarrthóirí tabhairt faoi:

- Ceist 1;
- Ceist amháin sa Tíreolaíocht Réigiúnach agus Dhomhanda [as Ceisteanna 14-18];
- Trí cheist eile as 2-18;

Tá rogha na gceisteanna as 2 –18 faoi réir ag an gcoinníoll atá luaite thuas, nach bhfuil sé ceadaithe **níos mó ná dhá cheist** a fhreagairt as an aon roinn amháin.

**DEIMHNIGH LE DO THOIL GO BHFUIL LÉARSCÁIL SHUIRBHÉIREACTH ORDANÁIS
AGUS AERFHÓTAGRAF AGAT SULA dTUGANN TÚ FAOIN bPÁIPÉAR SEO.**

NÍ MÓR AN CHEIST SEO A FHREAGAIRT

CEIST 1. SUIRBHÉIREACTH ORDANÁIS

Scrúdaigh an Léarscáil Shuirbhéireacht Ordanáis 1:50,000 agus an Eochair Eolais a tugadh duit leis an bpáipéar seo.

- (i) Tarraing sracléarscáil den limistéar atá clúdaithe ag an Léarscáil Shuirbhéireacht Ordanáis a tugadh duit leis an bpáipéar seo.

Marcáil agus sainaithean:

- | | |
|----------------------------|--|
| • Abhainn na Bearú | • Príomhbhóthar nó Bóthar Tánaisteach Náisiúnta <u>Molta</u> |
| • Limistéar de Thalamh Ard | • An tIarnród |
| • Galfchúrsa | • Stáisiún Gharda Síochána |

[Nóta: Níor chóir an tsracléarscáil a rianú. **(30 marc)**

- (ii) Déan cur síos agus mínigh TRÍ chúis le fás baile Cheatharlach ag an láthair seo.

Bain úsáid as fianaise ón léarscáil amháin. **(30 marc)**

- (iii) Tá Monarcha Chóireáil Chamrais ar an léarscáil ó Dheas ó Cheatharlach agus Soir ón N9 ag Tagairt Eangaí S7174.

Luaigh buntáiste AMHÁIN agus míbhuntáiste AMHÁIN a bhaineann leis an láthair seo don mhonarcha.

Bain úsáid as fianaise ón léarscáil amháin. **(20 marc)**

TÍREOLAÍOCHT FHSICEACH

Ceisteanna 2 – 5

CEIST 2. AIBHNEACHA



- (i) Eas, Coirín, Lúb, Lúbloch agus Tuilemhá
Roghnaigh **TRÍ** ghné díobh sin thuas agus i gcás **GACH** ceann díobh
- Déan cur síos agus mínigh, le cúnaimh léaráide, an chaoi ar cruthaíodh é. (60 marc)
- (ii) Mínigh bealach **AMHÁIN** ar féidir le daoine tuitte ar bhruacha aibhneacha a chosc. (20 marc)

CEIST 3. OIGHRIÚ

- (i) Ainmnigh **DHÁ** ghné atá cruthaithe ag creimeadh oighreach agus **DHÁ** ghné atá cruthaithe ag sil-leagan oighreach. (20 marc)
- (ii) Mínigh, le cúnaimh léaráide, an chaoi ar cruthaíodh **TRÍ** ghné ar bith a ainmníodh i gcuid (i). (60 marc)

CEIST 4. AN DOMHAN FISICEACH

Tabhair míniú réasúnta mion ar **DHÁ** cheann de na ráitis seo a leanas:

- (i) Bíonn éifeacht mhór ag an Atlantach Thuaidh ar aeráid na hÉireann. (40 marc)
- (ii) Fadhb mhór in Éirinn inniu is ea diúscairt dramhaíola. (40 marc)
- (iii) Tá a rian fágtha ar thírdhreach na hÉireann ag creimeadh na farraige. (40 marc)
- (iv) Ábhar mór imní is ea farsingiú fásaigh in áiteanna ar domhan inniu (40 marc)

CEIST 5. TEICTEONAIC PLÁTAÍ

- (i) Mínigh cén fáth a dtarlaíonn **CREATHANNA TALÚN** in áiteanna ar leith amháin ar domhan. **(40 marc)**
- (ii) Mínigh cén fáth a dtugann **BOLCÁIN** buntáistí **AGUS** míbhuntáistí do dhaoine i mórán áiteanna ar domhan **(40 marc)**

TÍREOLAÍOCHT SHÓISIALTA

Ceisteanna 6 – 9

CEIST 6. AN tAERFHÓTAGRAF DE CHEATHARLACH

Scrúdaigh an t-aerfhótagraf a tugadh duit leis an bpáipéar seo.

- (i) Tarraing sracléarscáil den limistéar de Cheatharlach atá clúdaithe ag an aerfhótagraf.

Taispeáin agus ainmnigh iad seo a leanas:

- Séipéal
- Droichead
- Fothrach caisleáin
- Cora ar an abhainn
- Dhá shráid chónasctha
- Oileán san abhainn

[Nóta: **Níor chóir an tsracléarscáil a rianú.** **(30 marc)**

- (ii) Déan cur síos agus mínigh **DHÁ** bhealach a raibh tionchar ag an abhainn ar an limistéar de Cheatharlach atá léirithe san fhótagraf.


Bain úsáid as fianaise ón bhfótagraf i do fhreagra. **(30 marc)**

- (iii) Dá mbeadh sé mar mholadh tithe a thógáil ar an limistéar glas **in aice na habhann** sa chúlra ar dheis den fhótagraf:-

Mínigh sochar **AMHÁIN** a dhéanfaidh sé seo don cheantar áitiúil agus mínigh údar gearáin **AMHÁIN** a d'fhéadfadh a bheith ag muintir na háite mar gheall ar na tithe. Bain úsáid as fianaise ón bhfótagraf i do fhreagra. **(20 marc)**

CEIST 7. OCRAS DOMHANDA

(i)



Is mó cúis a chuireann leis an ocras ar domhan. Orthu sin tá:

- Fás Daonra
- Cogadh
- Cleachtais Thrádála Éagóracha
- Easpa Oideachais
- Droch-choinníollacha Aimsire
- Cúnamh Mí-chuí (mí-oiriúnach)

Roghnaigh **TRÍ** chúis ar bith díobh sin thuas agus mínigh cén chaoi a gcuireann **GACH CEANN** díobh le hocras ar domhan. **(60 marc)**

(ii) Mínigh **DHÁ** bheartas a d'fhéadfadh rialtais a chur i bhfeidhm chun an t-ocras a chloí nó a mhaolú i dTíortha atá i mbéal Forbartha. **(20 marc)**

CEIST 8. STAIDÉAR DAONRA

(i) Cuidíonn Fás Tapa ar Dhaonra le fadhbanna i gcathracha. Ar na fadhbanna sin tá:

- Easpa tithtíochta
- Trácht
- Truailliú
- Coiriúlacht agus Drugaí
- Galar

Roghnaigh **TRÍ** cinn ar bith de na fadhbanna seo agus mínigh gach ceann díobh trí thagairt a dhéanamh do chathair **NÓ** do chathracha a ndearna tú staidéar orthu. **(60 marc)**

(ii) “Tá an daonra ag titim go tapa in áiteanna in Iarthar na hÉireann”.

Mínigh **DHÁ** bheartas **AR BITH** a d'fhéadfaí a chur i bhfeidhm chun é seo a chur ar gcúl.

(20 marc)

CEIST 9. SAINCHEISTEANNA SA TÍREOLAÍOCHT SHÓISIALTA

Tabhair míniú réasúnta mion ar **DHÁ** cheann de na ráitis seo a leanas:

- (i) Tá athrú ag teacht go tapa ar ról na mban in Éirinn. (40 marc)
- (ii) Bíonn coimhlint mar thoradh ar chreideamh reiligiúnach i roinnt áiteanna ar domhan. (40 marc)
- (iii) Tá an Daonáireamh tábhachtach don phleanáil sa todhchaí in Éirinn. (40 marc)
- (iv) Is gá go mbeadh comhthuiscint níos fearr idir daoine ó thíortha difriúla. (40 marc)

TÍREOLAÍOCHT EACNAMÁÍOCH

Ceisteanna 10 – 13

CEIST 10. TALMHAÍOCHT

- (i) Is mó toisc thábhachtach a mbíonn tionchar aici ar chúrsaí talmhaíochta. Ar na tosca sin tá:

- Aeráid
- Cineál Ithreach
- Rilíf
- Beartais Rialtas
- Oideachas
- Margáí

Roghnaigh **TRÍ** thoise díobh sin thuas agus mínigh cén chaoi a raibh tionchar ag gach ceann díobh ar chúrsaí talmhaíochta **i réimse ar bith a ndearna tú staidéar air.** (60 marc)

- (ii) Mínigh **DHÁ** éifeacht dhiúltacha a bhíonn ag an talmhaíocht ar an timpeallacht. (20 marc)

CEIST 11. FUINNEAMH

- (i) Cumhacht Gréine, Cumhacht Tonn, Cumhacht Gaoithe, Bithmhais agus Cumhacht Hidrileictreach.

Roghnaigh **DHÁ** cheann de na foinsí fuinnimh in-athnuaite thuas agus mínigh na **BUNTÁISTÍ** AGUS na **MÍBHUNTÁISTÍ** atá ag gach ceann díobh. (60 marc)

- (ii) “Beidh buntáistí móra ag geilleagar Iarthar na hÉireann de thoradh Achar Ghás Nádúrtha na Coiribe”.

An aontaíonn tú leis an ráiteas seo? Mínigh do fhreagra. (20 marc)

CEIST 12. SAINCHEISTEANNA SA TÍREOLAÍOCHT EACNAMAÍOCH

Tabhair míniú réasúnta mion ar **DHÁ** cheann de na ráitis seo a leanas:

- (i) Ábhar mór inní is ea truailliú na timpeallachta ar domhan inniu. (40 marc)
- (ii) Déanann an fhorbairt bagairt leanúnach ar na Foraoiseacha Teochriosacha Báistí. (40 marc)
- (iii) Dúshlán a bheidh in athnuachan chóras bóithre na hÉireann amach anseo. (40 marc)
- (iv) Córas a bhfuil ionchuir, próisis agus aschuir é Tionsclaíocht Déantúsaíochta. (40 marc)

CEIST 13. OBAIR ALLAMUIGH

Maidir le cleachtadh **AR BITH** a rinne tú ar obair allamuigh sa Tíreolaíocht:

- (i) Luaigh **teideal** agus **aidhmeanna** an chleachtaidh. (8 marc)
- (ii) Tabhair cuntas ar an **ullmhúchán a rinne tú** don chleachtadh. (16 marc)
- (iii) Tabhair cuntas ar **na modhanna a d'úsáid tú chun an t-eolas a bhailiú**. (24 marc)
- (iv) Tabhair cuntas ar **thorthaí** an chleachtaidh allamuigh. (12 marc)
- (v) Mínigh **na modhanna a d'úsáid tú chun do thorthaí a chur i láthair**. (12 marc)
- (vi) Mínigh **fadhb amháin a bhí agat** agus an cleachtadh allamuigh ar bun agat. (8 marc)

TÍREOLAÍOCHT RÉIGIÚNACH AGUS DHOMHANDA

Ceisteanna 14 – 18

- **Ní mór duit Ceist Amháin ar a laghad sa Tíreolaíocht Réigiúnach agus Dhomhanda a fhreagairt ach ní thig leat níos mó ná Dhá Cheist a fhreagairt.**

CEIST 14. TÍORTHA AGUS A gCUID RÉIGIÚN

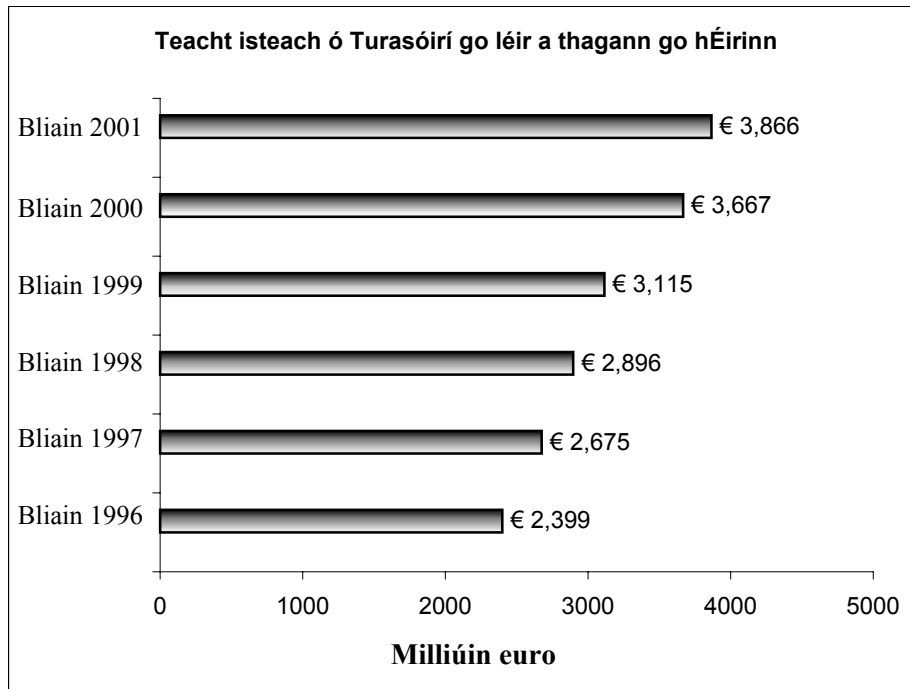
Éire, An Iorua, An Ghearmáin, An Bheilg, An Danmhairg agus An Fhrainc.

I gcás **AON CHEANN AMHÁIN** de na tíortha thuas a ndearna tú staidéar orthu:

- (i) Tarraing sracléarscáil a thaispeánann an chaoi a roinnfeá an tír iomlán ina **DHÁ RÉIGIÚN NÓ BREIS**. (20 marc)
- (ii) Roghnaigh **DHÁ** réigiún díobh seo agus i gcás gach ceann díobh, déan cur síos ar fhorbairt an réigiúin faoi na ceanteidil seo a leanas:
 - Tíreolaíocht Fhisiceach
 - Talmhaíocht
 - Déantúsaíocht **nó** Seirbhísí

(60 marc)

CEIST 15. TURASÓIREACHT



Príomhoifig Staidrimh

- (i) Maidir leis an gCairt thuas, mínigh an chaoi a ndéanann turasóireacht sochar do gheilleagar na hÉireann. **(20 marc)**
- (ii) Mínigh **TRÍ** chúis a dtugann Éireannaigh ina sluaite cuairt ar réigiún na Meánmhara san Eoraip gach bliain. **(60 marc)**

CEIST 16. RÁITIS AR AN EORAIP

Roghnaigh **DHÁ** cheann ar bith de na ráitis seo a leanas agus pléigh go mion iad:

- (i) Tá an Réin-Ruhr mar réigiún ar cheann de na réigiúin thionsclaíocha is mó san Eoraip. **(40 marc)**
- (ii) Tionscal mór in Éirinn is ea an iascaireacht. **(40 marc)**
- (iii) Tá meath tagtha ar thionscal na ríomhaireachta san Eoraip le blianta beaga. **(40 marc)**
- (iv) Tá an-rath ar an euro ó tugadh isteach é san Eoraip. **(40 marc)**

CEIST 17. RÉIGIÚIN SAN EORAIP

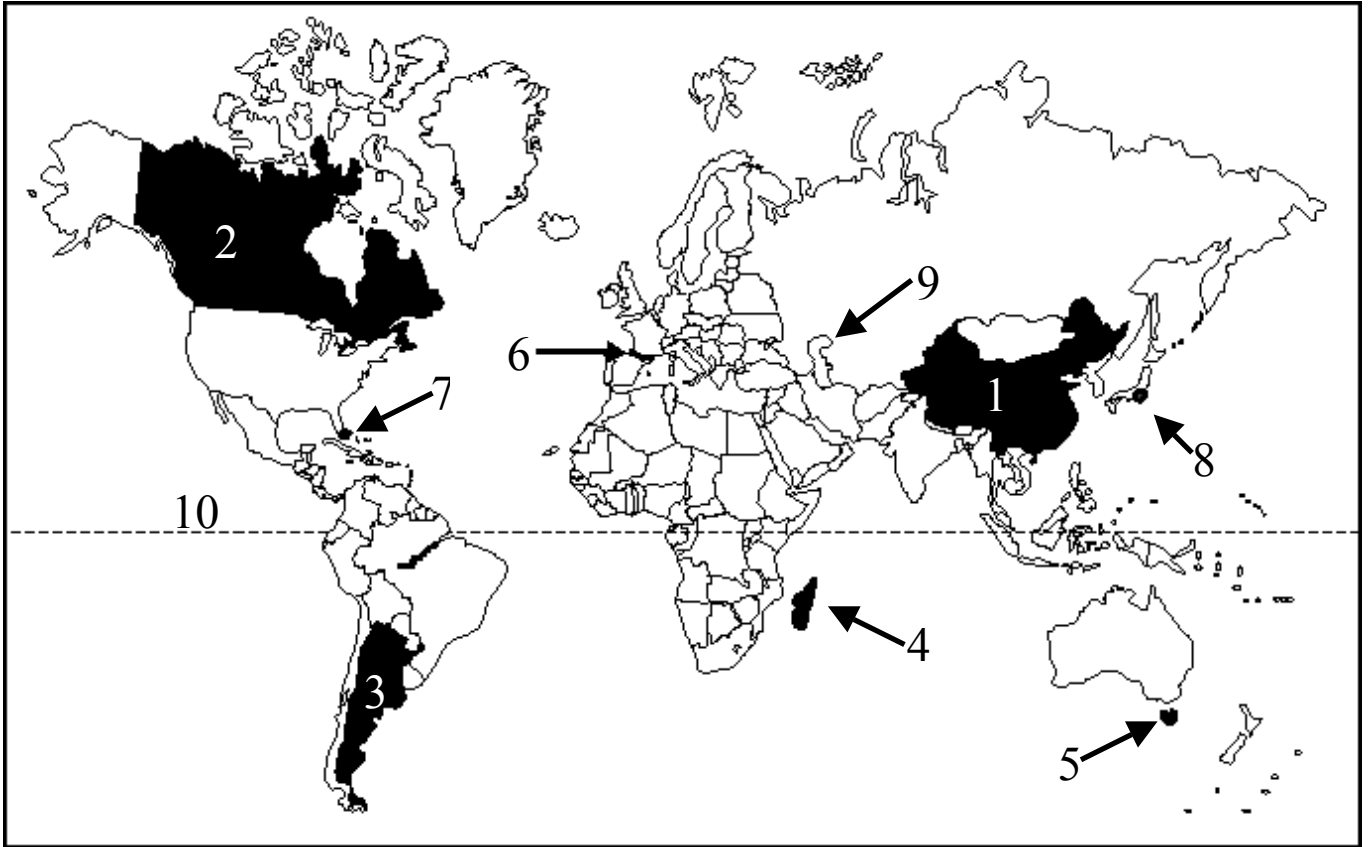
Iarthar na hÉireann, Abhantrach Pháras, Machaire Thuaisceart na hIodáile, Massif Central, Sasana Thoir-Theas agus Nordkalotten (Tuaisceart na hIorua agus na Sualainne).

Roghnaigh réigiún croiláir **AMHÁIN** agus réigiún imeallach **AMHÁIN** as liosta na réigiún thuas, agus déan cur síos ar na réigiúin faoi na ceannteidil seo a leanas:

- Aeráid
- Talmhaíocht
- Tionscail Deantúsaíochta

(80 marc)

CEIST 18. TÍREOLAÍOCHT DHOMHANDA



Scrúdaigh an learscail thuas den domhan.

(i) Ainmnigh na nithe 1 – 10 i do leabhar freagraí.

Tíortha 1, 2 agus 3; Oileáin 4 agus 5; Sliabhraon 6; Cathracha 7 agus 8; Ceantar Farraise 9; Aigéan 10.
(20 marc)

(ii) Tá na háiteanna seo a leanas ar nuacht an domhain mhóir le blianta beaga.

* An Phacastáin agus/nó an India *An Meán Oirthear *Tuaisceart Éireann

Roghnaigh ceann **AMHÁIN** de na háiteanna thuas agus tabhair cuntas ar na ceisteanna a bhaineann leis.
(40 marc)

(iii) “Fadhb ollmhór is ea an sceimhlitheoireacht ar domhan inniu.”

An aontaíonn tú leis an tuairim seo? Mínigh do fhreagra trí thagairt a dhéanamh do shamplaí.
(20 marc)