

**AN ROINN OIDEACHAIS AGUS EOLAÍOCHTA
SCRÚDÚ NA hARDTEISTIMÉIREACHTA, 2001**

TÍREOLAÍOCHT - GNÁTHLEIBHÉAL

DÉ LUAIN, 11 MEITHEAMH - TRÁTHNÓNA, 1.30 go dtí 4.50

TREORACHA DO NA hIARRTHÓIRÍ

Baineann Ceist 1 leis an léarscáil Suirbhéireachta Ordanáis agus tá sí éigeantach.

Tá na ceisteanna eile ó 2 go 18 leagtha amach i **gCEITHRE** roinn mar atá Tíreolaíocht Fhisiceach, Tíreolaíocht Shóisialta, Tíreolaíocht Eacnamaíoch, Tíreolaíocht Réigiúnach agus Dhomhanda.

Ní mór **Cúig cheist** a fhreagairt **ach ní cheadaítear níos mó ná dhá cheist** a fhreagairt as aon roinn ar bith. Ní mór d'iarrthóirí tabhairt faoi:

- Ceist 1;
- Ceist amháin as Tíreolaíocht Réigiúnach agus Dhomhanda [Ceisteanna 14 - 18];
- Trí cheist eile as ceisteanna 2 – 18;

Maidir le roghnú na gceisteanna 2 - 18, ní mór an treoir thuas a chomhlíonadh agus **gan níos mó ná dhá cheist a fhreagairt as roinn ar bith.**

**DEIMHNIGH, LE DO THOIL, GO BHFUIL LÉARSCÁIL SUIRBHÉIREACHTA ORDANÁIS
AGUS AERFHÓTAGRAF AGAT SULA dtUGANN TÚ FAOIN bPÁIPÉAR SEO.**

TÁ AN CHEIST SEO ÉIGEANTACH

CEIST 1. SUIRBHÉIREACHT ORDANÁIS

Déan scrúdú ar an Léarscáil Suirbhéireachta Ordanáis 1:50,000 mar aon leis an eochair eolais a ghabhann leis an bpáipéar seo.

(i) Déan sracléarscáil den cheantar léirithe sa Léarscáil Suirbhéireachta Ordanáis. Taispeáin agus ainmnigh iad seo a leanas ar an sracléarscáil:

- Abhainn ainmnithe • Galfchúrsa • Líne tharchuir leictreachais
- Teorainn chontae • An ceantar dlúthchónaithe i mBaile Átha Fhirdhia
- Bealach náisiúnta den dara grád. **(30 marc)**

[Nóta: Ná bíodh rianchóip den léarscáil mar shracléarscáil agat].

(ii) Agus an Léarscáil Suirbhéireachta Ordanáis amháin agat mar fhianaise, luaigh **TRÍ** chúis gur tharla forás Bhaile Átha Fhirdhia ag an ionad seo. **(30 marc)**

(iii) “Tá stair fhada lonnaíochta ag an gceantar a léirítear ar an léarscáil.” Roghnaigh **TRÍ** chineál eolais ar an léarscáil a thacaíonn leis an ráiteas sin. **(20 marc)**

TÍREOLAÍOCHT FHSICEACH

Ceisteanna 2 - 5

CEIST 2. TÍRGHNEÍTHE OIGHREACHA

Gleann crochta, Coire (Cirque), Gleann oighrithe, Droimnín, Eiscir agus Sprémhá.

(i) Roghnaigh **TRÍ** cinn de na gnéithe oighreacha thuas, agus mínigh le cúnamh léaráidí, conas mar a cruthaíodh gach ceann acu. **(60 marc)**

(ii) Luaigh **DHÁ** chúis go dtaitníonn tírdhreacha oighrithe go mór le turasóirí. **(20 marc)**

CEIST 3. AIBHNEACHA

(i) Ainmnigh **DHÁ** ghné a chruthaítear de thoradh chreimeadh abhann, agus **DHÁ** ghné a chruthaítear de thoradh shil-leagan abhann. **(20 marc)**

(ii) Le cúnamh léaráide nó léaráidí, mínigh cén chaoi ar cruthaíodh **TRÍ** cinn ar bith de na gnéithe a d’ainmnigh tú i gcuid (i). **(60 marc)**

CEIST 4.

AN FHARRAIGE

(i) Staic mhara, Stua mara, Pluais mhara, Poll séideáin agus Trá.

Roghnaigh **TRÍ** cinn ar bith de na gnéithe thuas agus maidir le gach ceann **AR LEITH** díobh:

- Le cúnamh léaráide, déan cur síos agus tabhair míniú ar an gcaoi ar cruthaíodh é. (60 marc)

(ii) Tá an fharraige ag creimeadh an chósta i mórán áiteanna.

Mínigh **DHÁ** bhealach ar bith chun maolú ar an gcreimeadh seo. (20 marc)

CEIST 5.

AN DOMHAN FISICEACH

Tabhair míniú beacht ar **DHÁ** cheann ar bith de na ráitis seo:

(i) Tá cuid mhór úsáidí eacnamaíocha ag carraigeacha. (40 marc)

(ii) Bíonn cuid mhór gairmeacha beatha ag brath ar réamhaisnéis chruinn ar an aimsir. (40 marc)

(iii) Is fadhb mhór leanúnach í an creimeadh ithreach i gcuid mhór áiteanna ar domhan. (40 marc)

(iv) Ainmnigh agus déan cur síos achomair ar chúis **AMHÁIN** go dtarlaíonn creathanna talún agus ar **DHÁ** thoradh a bhíonn orthu. (40 marc)

TÍREOLAÍOCHT SHÓISIALTA

Ceisteanna 6 - 9

CEIST 6.

AERFHÓTAGRAF

Tarraing sracléarscáil (ní rianchóip) den cheantar de Bhaile Átha Fhirdhia atá léirithe san fhótagraf a ghabhann leis an bpáipéar seo.

(i) Ainmnigh agus taispeáin ar an sracléarscáil:

- Séipéal agus reilig
 - Forbairt tithíochta nua-aimseartha
 - Clós stórála adhmaid
 - Ceantar úsáid talún don talmhaíocht
 - An príomhcheantar siopadóireachta
- (30 marc)

(ii) Sainaithin agus ainmnigh **TRÍ** fheidhm bhaile i mBaile Átha Fhirdhia. Tabhair fianaise ón léarscáil agus ón bhfótagraf mar thaca le do fhreagra.


(30 marc)

(iii) Mol ionad oiriúnach d'ollmhargadh sa cheantar atá léirithe san fhótagraf. Luaigh an t-ionad, ag tagairt do réamhionad, do chúlionad etc. agus mínigh buntáiste **AMHÁIN** agus míbhuntáiste **AMHÁIN** a bhaineann leis, agus fianaise agat ón bhfótagraf amháin.

(20 marc)

CEIST 7.

FIACHAS EACHTRACH



Foinse - Trócaire: “Ag Gníomhú ar Fhiachas”.

(i) “Gach aon bhliain íocann na Tíortha i mBéal Forbartha níos mó leis an Domhan Forbartha in aisíocaíochtaí fiachas ná mar a fhaigheann siad i bhfoirm deontas”.

Mínigh **DHÁ** éifeacht a bhíonn ag an bhfiachas seo ar thíortha sa Domhan i mBéal Forbartha.

(40 marc)

(ii) Cad iad na beartais is féidir leis an Domhan Forbartha a thionscnamh chun na haisíocaíochtaí fiachas ón Domhan i mBéal Forbartha a ísliú?

(40 marc)

CEIST 8.**STAIÉAR AR DHAONRA**

(i) In olcas a théann fadhbanna áirithe de thoradh dhlús ard daonra i gcathracha agus i mbailte móra; seo thíos cuid díobh ar liosta:

- Róphlódú
- Plódú tráchta
- Droch-chúinsí sláinte
- Truailiú
- Dífhostaíocht

Roghnaigh **TRÍ** cinn ar bith de na fadhbanna thuas agus tabhair míniú orthu agus tú ag tagairt do chathair nó do bhaile mór **AMHÁIN** a ndearna tú staidéar air.

(60 marc)

(ii) Tá sé ar intinn ag Rialtas na hÉireann cuid de na Ranna Rialtais a bhogadh amach as Baile Átha Cliath go dtí áiteanna eile faoin tír. Mínigh **DHÁ** éifeacht a bheidh aige sin

- Ar Bhaile Átha Cliath
- Ar chodanna eile den tír

(20 marc)**CEIST 9.****SAINCHEISTEANNA SA TÍREOLAÍOCHT SHÓISIALTA**

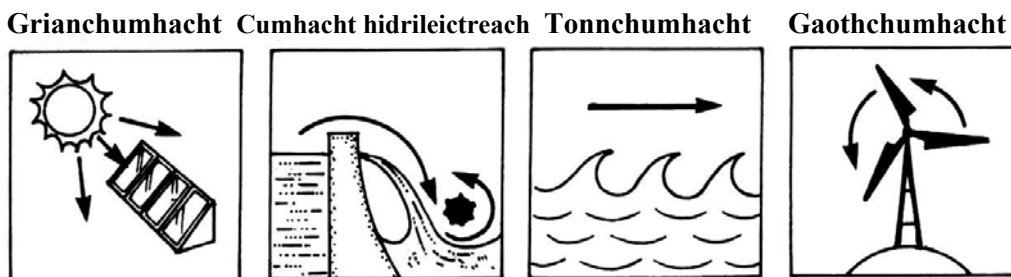
Mínigh **DHÁ** cheann de na ráitis seo a leanas go beacht:

(i) Bíonn na teaghlaigh níos mó sa Domhan atá i mBéal Forbartha de ghnáth. **(40 marc)**

(ii) Fadhb an-mhór ag tíortha na hAfraice is ea cogáí cathartha. **(40 marc)**

(iii) Fadhb atá ag éirí tromchúiseach de réir a chéile i gcathracha áirithe is ea easpa talún don fhorbairt tithíochta. **(40 marc)**

(iv) Ceist mhór i móran áiteanna in Éirinn faoi láthair is ea ganntanas oibrithe. **(40 marc)**

TÍREOLAÍOCHT EACNAMAÍOCH**Ceisteanna 10 - 13****CEIST 10.****FUINNEAMH**

(i) Tabhair míniú agus déan cur síos ar **THRÍ** chineál cumhachta in-athnuaite ar bith a luaitear thuas. **(60 marc)**

(ii) Mínigh **DHÁ** mhodh ina bhféadfadh daoine fuinneamh a chaomhnú sa bhaile. **(20 marc)**

CEIST 11.**TALMHAÍOCHT**

- (i) Córas is ea an talmhaíocht le **hIONCHUIR, PRÓISIS** agus **ASCHUIR**.
Mínigh an córas seo maidir leis an talmhaíocht i dtír ar bith a ndearna tú staidéar uirthi. (60 marc)
- (ii) Cén fáth go bhfuil oiread feirmeoirí sa **Domhan Forbartha** ag tréigean na talmhaíochta? (20 marc)

CEIST 12.**SAINCHEISTEANNA SA TÍREOLAÍOCHT EACNAMAÍOCH**

Mínigh **DHÁ** cheann de na ráitis seo a leanas go beacht:

- (i) Leanann iarmhairtí eacnamaíocha srianadh an truaillithe. (40 marc)
- (ii) Ceanródaí domhanda is ea Éire i ndéantúsaíocht ríomhairí. (40 marc)
- (iii) Ábhar mór inní i gceantair cathrach faoi láthair is ea an soláthar don chóras iompair poiblí. (40 marc)
- (iv) Ábhar inní atá ag méadú ar fud na cruinne faoi láthair is ea na hardaithe ar phraghas na hola. (40 marc)

CEIST 13.**OBAIR ALLAMUIGH**

Ag tagairt duit do thionscamh **AR BITH** a rinne tú san obair allamuigh don Tíreolaíocht:

- (i) Luaigh an **teideal** agus na **haidhmeanna** a bhí ag an tionscnamh. (8 marc)
- (ii) Tabhair cuntas ar an **réamh-ullmhúchán** a rinne tú don tionscnamh. (16 marc)
- (iii) Déan cur síos ar **gcur chuige a bhí agat chun na sonraí a bhailiú**. (24 marc)
- (iv) Déan cur síos ar na **torthaí** a bhí ar an obair allamuigh. (12 marc)
- (v) Mínigh na **slite inar léirigh tú** na torthaí. (12 marc)
- (vi) Ar chuidigh do thionscamh d'obair allamuigh leat chun fiúntas praiticiúil na Tíreolaíochta a thuiscint? (8 marc)

TÍREOLAÍOCHT RÉIGIÚNACH AGUS DHOMHANDA**Ceisteanna 14 – 18**

- Ní mór duit tabhairt faoi Cheist Amháin sa **TÍREOLAÍOCHT RÉIGIÚNACH** agus **DHOMHANDA** ach ní féidir tabhairt faoi níos mó ná Dhá Cheist.

CEIST 14.**CINEÁLACHA RÉIGIÚN**

- Réigiúin Lárnacha/Fhorbartha,
- Réigiúin/Fhorimeallacha/Thearcfhorbartha,
- Réigiúin Bhualte/Réigiúin Acmhainní Ídithe,

Roghnaigh **DHÁ** chineál ar bith as na trí chineál réigiún, agus i gcás **GACH ceann faoi leith**:

- (i) Ainmnigh sampla **AMHÁIN** den dá chineál san Eoraip. (10 marc)
- (ii) Tabhair míniú agus déan cur síos ar chuid de phríomhthréithe an **DÁ** réigiún a roghnaigh tú. (70 marc)

CEIST 15.**TÍRORTHA AGUS RÉIGIÚN**

Éire, an Eilvéis, an Ghearmáin, an Spáinn, an Bheilg agus an Fhrainc.

Maidir le **CEANN AMHÁIN** de na tíortha thuas a bhfuil staidéar déanta agat air:

- (i) Déan sracléarscáil den tír agus mínigh conas a dhéanfa **DHÁ RÉIGIÚN NÓ NÍOS MÓ NÁ DHÁ REIGIÚN** den tír iomlán. (20 marc)
- (ii) Roghnaigh **DHÁ** réigiún díobh seo agus sa da chás, déan cur síos ar fhorbairt an réigiúin de réir na gceannteideal seo a leanas:
- Tíreolaíocht fhisiciúil
 - Talmhaíocht
 - Déantúsaíocht **nó** Seirbhísí
- (60 marc)

CEIST 16.**TIONSCLAÍOCHT IN ÉIRINN**

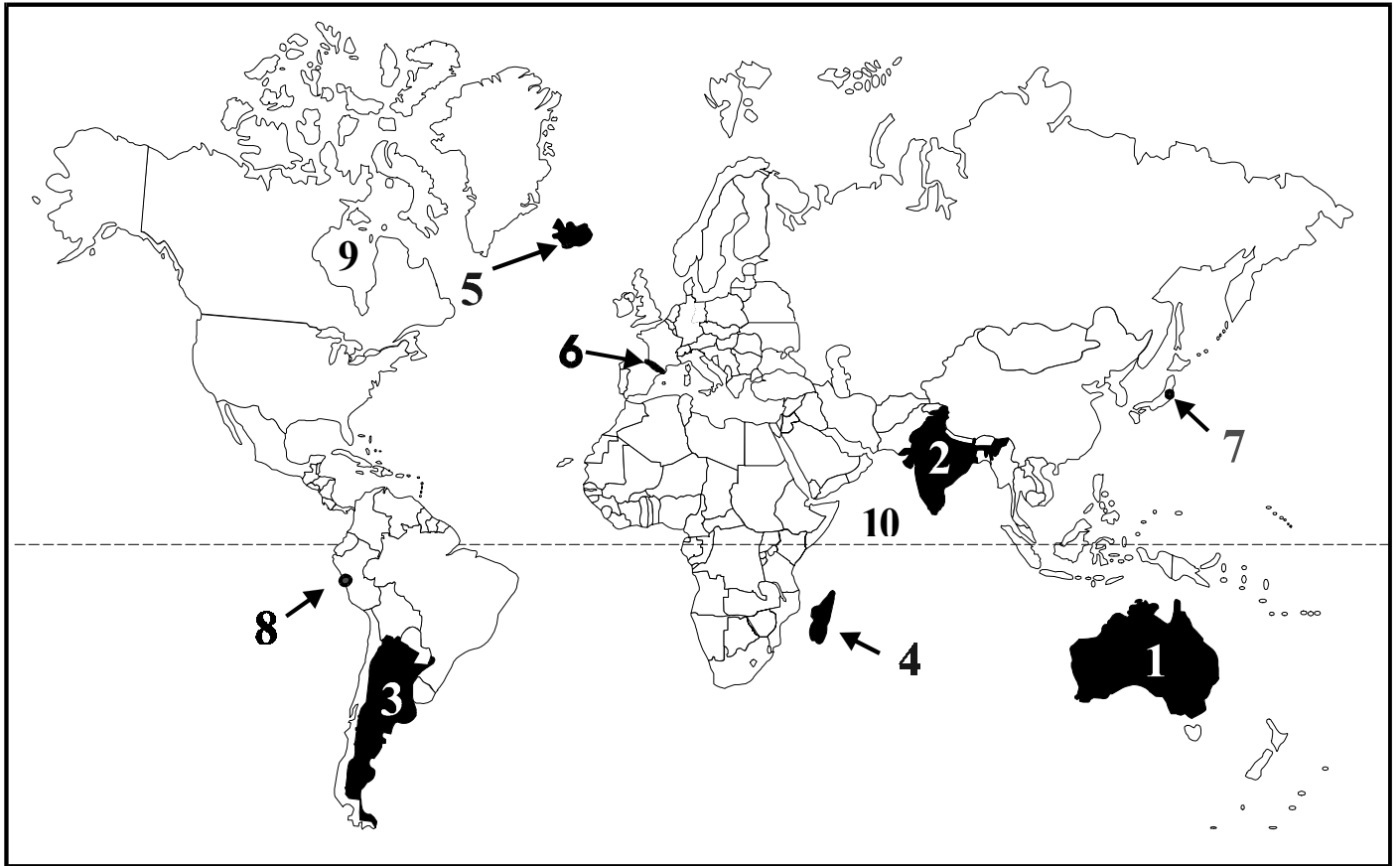
Líon na n-oibríthe fostaithe i dTionsclaíocht na hÉireann ó 1987 go 1997

- (i) Mínigh **TRÍ** chúis gur mhéadaigh líon na n-oibríthe tionsclaíocha in Éirinn an-tapa. Déan tagairt don ghraf thuas i do fhreagra. (50 marc)
- (ii) Tá bunús na dtionscal Éireannach lonnaithe i mBaile Átha Cliath agus i gcathracha eile. Luaigh **DHÁ** bhealach le tionscail a mhealladh chuig ceantair eile in Éirinn. (30 marc)

CEIST 17.**RÁITIS MAIDIR LEIS AN EORAIP**

Roghnaigh **DHÁ** ráiteas ar bith díobh seo a leanas agus pléigh go mion iad:

- (i) Tá dúshlán mhóra roimh thalmhaíocht na hÉireann san am atá le teacht. (40 marc)
- (ii) Tá an Iorua ar náisiúin mhóra iascaigh na hEorpa. (40 marc)
- (iii) Tá cuid mhór gnéithe san Iodáil a mheallann turasóirí. (40 marc)
- (iv) Tá an Ruhr sa Ghearmáin ar phríomhréigiúin tionsclaíocha na hEorpa. (40 marc)



Féach ar léarscáil an domhain thuas.

- (i) Sa leabhar freagraí agat, ainmnigh na nithe a bhfuil na huimhreacha 1 – 10 orthu.

Tíortha 1, 2 agus 3; Oileáin 4 agus 5; Sliabhraon 6; Príomhchathracha 7 agus 8; Ceantair farraige 9 agus 10.

(20 marc)

*Tabhair faoi deara go bhfuil léarscáil an domhain ar an bpáipéar scrúdaithe, seachas ar bhileog scoite.

- (ii) Bhí na ceantair seo sna ceannlínte nuachta domhanda le blianta beaga anuas.

- An Iúgslaiv agus a comharsana
- An Meánoirthear
- Tuaisceart Éireann

Roghnaigh ceann AMHÁIN de na ceantair thuas agus pléigh na saincheisteanna a bhaineann leis.

(40 marc)

- (iii) “Mórcheist dhomhanda faoi láthair is ea aistriú na ndéanach agus na n-iarrthoirí tearmainn thar teorainneacha”.

Pléigh an ráiteas seo i gcomhthéacs réigiúin AMHÁIN a bhfuil staidéar déanta agat air.

(20 marc)