

**AN ROINN OIDEACHAIS AGUS EOLAÍOCHTA**

**SCRÚDÚ ARDTEISTIMÉIREACHTA, 2000**

**TÍREOLAÍOCHT - GNÁTHLEIBHÉAL**

**DÉ LUAIN, 12 MEITHEAMH, IARNÓIN, 2.00 go dtí 5.20**

**TREORACHA DOS NA hIARRTHÓIRÍ**

Baineann Ceist 1 leis an léarscáil Suirbhéireachta Ordanáis agus tá sí éigeantach.

Tá na ceisteanna eile ó 2 go 18 leagtha amach i **gCEITHRE** roinn mar atá Tíreolaíocht Fhisiceach, Tíreolaíocht Shóisialta, Tíreolaíocht Eacnamaíoch, Tíreolaíocht Réigiúnach agus Dhomhanda.

Ní mór **Cúig cheist** a fhreagairt **ach ní cheadaítear níos mó ná dhá cheist** a fhreagairt as aon roinn ar bith. Ní mór d'iarrthóirí tabhairt faoi:

- Ceist 1;
- Ceist amháin as Thíreolaíocht Réigiúnach agus Dhomhanda [Ceisteanna 14 - 18];
- Trí cheist eile as ceisteanna 2 – 18;

Maidir leis an rogha de ceisteanna 2 - 18, ní miste an treoir thuas a chomhlíonadh agus **gan níos mó ná dhá cheist a fhreagairt as roinn ar bith.**

**DÉAN DEIMHIN DE LE DO THOIL, SULA dTOSÓIDH TÚ AN PÁIPÉAR SEO, GO BHFUIL  
LÉARSCÁIL SUIRBHÉIREACHTA ORDANÁIS AGUS AERFÓTAGRAF AGAT.**

**IS GÁ AN CHEIST SEO A FHREAGAIRT**

**CEIST 1. SUIRBHÉIREACHT ORDANÁIS**

- (i) Déan sracléarscáil den cheantar léirithe sa Léarscáil ón tSuirbhéireacht Ordanáis, curtha ar fáil leis an scrúdpháipéar.

Cuir marc agus sainaitin:

- Líne an chósta
  - Galfchúrsa
  - Iarnród
  - Iarsma ársa **ainmnithe**
  - Ceantar fhoraois bhuaircéineach
  - Abhainn **ainmnithe**
- (30 marc)**

[Nóta: Ná bíodh rianchóip den léarscáil mar sracléarscáil.]

- (ii) Is áiteacha tarraingteacha dos na turasóirí iad Droim Chliabh agus An Ros.

Luaigh **DHÁ** mhír atá ina bhfianaise gur áiteacha tarraingteacha do thurasóirí na sráidbhailte úd. Is gá tagairtí don **dá** shráidbhaile a bheith agat i do fhreagra. **(30 marc)**

- (iii) Le fianaise léarscáile amháin, tabhair cúntas ar shlí **AMHÁIN** ina léirítear duit go bhfuil sil-leagan chósta i gceist. **(20 marc)**

**TÍREOLAÍOCHT FHSICEACH**

**Ceisteanna 2 - 5**

**CEIST 2. AIBHNEACHA**



Deilt, Lúb, Lúb-loch, Má tuile, V-Ghleann

- (i) Tóg do rogha **TRÍ** Ghné Abhann agus le cabhair léaráide, mínigh conas mar a cruthaíodh gach ceann acu. **(60 marc)**
- (ii) “ Bíonn idir buntáistí don duine agus míbhuntáistí ag aibhneacha.”

Mínigh buntáiste amháin **AGUS** míbhuntáiste amháin atá acu don duine. **(20 marc)**

**CEIST 3.****AN FARRAIGE**

- (i) Luaigh **TRÍ** tírghné cruthaithe de bharr chreimeadh an chósta **nó** de bharr shil-leagain. (60 marc)  
Mínigh le cabhair léaráide, conas mar a cruthaíodh **an uile** gné acu.
- (ii) Tóg do rogha tírghné **AMHÁIN** as cuid (i), agus léirigh caidé mar a bheadh sé ina bhuntáiste eacnamaíoch ag daoine. (20 marc)

**CEIST 4.****TÍRDHREACH CAIRST**

Aolchuisní, Pábháil Aolchloiche, Poill slogaide, colúin.

- (i) Abhair cé hiad **na gnéithe ós-talaimh**, agus cé hiad **na gnéithe fo-thalaimh**. (20 marc)
- (ii) Tóg do rogha **TRÍ** ghné as cuid (i) agus **INGACH CEANN** díobh:-  
tabhair cur síos agus mínigh, le cabhair léaráide, conas mar a cruthaíodh é. (60 marc)

**CEIST 5.****AN DOMHAN FISICEACH**

Mínigh do rogha **DHÁ** ráiteas díobh seo, go mion:

- (i) Tá tionchar ag go leor toscanna ar an aimsir in Éirinn. (40 marc)
- (ii) Tá tír-dhreachanna suntasacha in Éirinn de bharr oibriú an oighir-ré. (40 marc)
- (iii) Tá baint ag réigiúin áirithe ar domhan le mór-chritheanna talún. (40 marc)
- (iv) Beidh tionchar mór ar an timpeallacht sa todhcaí ag an Iarmairt Cheaptha Teasa. (40 marc)

**TÍREOLAÍOCHT SHÓISIALTA****Ceisteanna 6 - 9****CEIST 6.****AERFÓTAGRAF**

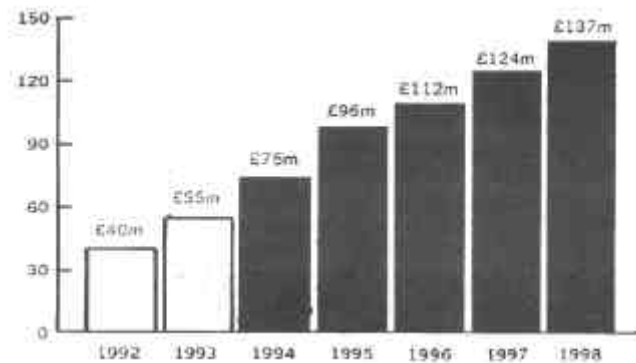
**NÓTA:** Is fiar-ghriangraf é seo, (tógadh é go huilleach)

Bíodh tagairtí agat do “réamhionad ar chlé”, “cúlionad ar dheis”, srl, agus airí á luadh agat.

- (i) Déan sracléarscáil (nach rianchóip í) den cheantar atá á léiriú san aerfótagraf de Shligeach, curtha ar fáil leis an scrúdpháipéar.  
Cuir marc orthu seo agus sainaithin iad:
- Dhá shráid cheangailteach
  - Foirgneamh suntasach ón stair
  - droichead
  - Ceantar tithíochta
  - Carr-chlós seach-shráide
- (30 marc)
- (ii) Is mac-léinn thíreolaíochta tusa; abair gur iarradh ort ionad feiliúnach a roghnú don Oifig Fháilte sa cheantar atá á léiriú sa ghriangraf.  
Roghnaigh ionad dá short don Oifig Fháilte agus bíodh **TRÍ** chúis le do rogha. (30 marc)
- (iii) Luaigh **DHÁ** láthair san Aerfótagraf a bhféadfadh fadhbanna tráchta a bheith iontu, dar leat, ag tréimhsí mhórbhrú-thráchta.  
Mínigh do rogha sa dá chás. (20 marc)

**CEIST 7.****CÚNAMH FORBARTHA**

- (i) “Tá méadú le blianta beaga anuas ar chaitheachas Rialtas na hÉireann ar an Chúnammh.”



Scrúdaigh sonraí na cairte lastuas, a léiríonn Caiteachas Chúnammh Forbartha na hÉireann, agus mínigh conas mar a d’fhás an Caiteachas Chúnaimh.

(20 marc)

- (ii) Seo samplaí den tsort chúnaimh a tugadh don Domhan i mBéal Forbartha:

- Cúnammh Dépháirteach
- Cúnammh Iol-pháirteach
- Cúnammh Éigeandála
- Cúnammh Deonach.

Tabhair cuntas ar **DHÁ** cheann díobh agus mínigh an dá chineál chúnaimh sin.

(60 marc)

**CEIST 8.****STAIDEAR AR DHAONRA**

- (i) “Toscanna Bhrúite agus Tarraingthe atá ciontach as an mhór-chuid de dhaonra an domhain a bheith plódaithe isteach ins na mór-chathracha.”

Mínigh céard is brí le Toscanna Bhrúite agus Tarraingthe. Luaigh samplaí ar a bhfuil staidéar déanta agat

(60 marc)

- (ii) “Fadhb isea an Imirce Éigeantach san Eoraip le déanaí.”

Mínigh **DHÁ** fhadhb atá ann de bharr imirce den chineál úd.

(20 marc)

**CEIST 9.****SAINCHEISTEANNA SA TÍREOLAÍOCHT SHÓISIALTA**

Mínigh **DHÁ** ráiteas díobh seo go mion:

- (i) Tá tionchar de bharr Ráta Bhreithe agus de bharr Ráta Bháis ar athrú sa daonra. (40 marc)
- (ii) Bíonn fadhbanna de bharr chailliúint dhaonra ag go leor áiteanna tuaithe in Éirinn. (40 marc)
- (iii) Tá an trácht bhóthair ar na mór-fhadhbanna dá bhfuil ag Bailte agus Cathracha na hÉireann. (40 marc)
- (iv) Tá ról na mban sa tsochaí ag athrú go tapaidh. (40 marc)

## TÍREOLAÍOCHT EACNAMAÍOCH

### Ceisteanna 10 - 13

#### **CEIST 10. FORAOISEACHT**

- (i) “An Fhoraois Bháistí a chaomhnú-sin ceann de mhór-dhushláin na Mílaoise Nua.”

Pléigh fáth **AMHÁIN** go bhfuil ídiú ar an Fhoraois Bháistí agus fáth **AMHÁIN** le Foraoiseacha Báistí a chaomhnú. (40 marc)

- (ii) Míneigh **DHÁ** bhuntáiste ag an fhoraoiseacht don gheilleagar in Éirinn. (40 marc)

#### **CEIST 11. FUINNEAMH**

- (i) Tabhair cuntas agus míniú ar **DHÁ** acmhainn in-athnuaite fuinnimh. (40 marc)

- (ii) Míneigh buntáiste **AMHÁIN** agus míbhuntáiste **AMHÁIN** dá bhfuil ag an ghual mar acmhainn fuinnimh. (40 marc)

#### **CEIST 12. SAINCHEISTEANNA SA TÍREOLAÍOCHT EACNAMAÍOCH**

Míneigh **DHÁ** ráiteas anseo, go mion:

- (i) Féadann idir dea-thionchar agus droch-thionchar a bheith ag an fheirmeoireacht ar an timpeallacht. (40 marc)

- (ii) Tá tionchar mór ag na margáí ar cá háit a bheidh na tionscail dhéantúsaíochta lonnaithe. (40 marc)

- (iii) Bíonn buntáistí agus míbhuntáistí dos na pobail chois fharraige ag ferimeoireacht éisc. (40 marc)

- (iv) Is cúis mhór inní sa domhan anois an truailliú ar an timpeallacht. (40 marc)

#### **CEIST 13. OBAIR ALLAMUIGH**

Ag tagairt duit do thionscnamh **AR BITH** san obair allamuigh atá déanta agat sa Tíreolaíocht:

- (i) Luaigh an **teideal** agus **na haidhmeanna** a bhí ag an tionscnamh. (8 marc)

- (ii) Tabhair cuntas ar **an réamh-ullmhúchán** don tionscnamh. (16 mharc)

- (iii) Cuir síos ar na **modhanna chur chuige** a bhí agat d’fhonn eolas a bhailiú. (24 mharc)

- (iv) Luaigh **na torthaí** ar an obair allamuigh úd. (12 mharc)

- (v) Míneigh **na slite inar léirigh tú** na torthaí sin. (12 mharc)

- (vi) Míneigh fadhb **AMHÁIN** a tháinig i do choinne nuair a bhí an obair allamuigh ar siúl. (8 marc)

## TÍREOLAÍOCHT RÉIGIÚNACH AGUS DOMHANDA

Ceisteanna 14 - 18

### CEIST 14. TURASÓIREACHT



- (i) Mínigh agus tabhair cuntas maidir le **DHÁ** chúis go bhfuil fás tapaidh tagtha ar an turasóireacht i bPoblact na hÉireann le blianta beaga anuas. (40 marc)
- (ii) “Féadann líon mór turasóirí iliomad fadhbanna a bhreith leo go ceantracha turasóireachta.”

Mínigh **DHÁ** fhadhb díobh. I do fhreagra bíodh tagairt do cheantar turasóireachta **AMHÁIN** san Eoraip go bhfuil staidéar agat air. (40 marc)

### CEIST 15. TÍORTHA AGUS RÉIGIÚN

An Spáinn, an Ghearmáin, an Eilvéis, an Iodáil, an Bheilg, an Danmharg

I gcás **AON CHEANN** des na tíortha úd go bhfuil staidéar agat uirthi:

- (i) Breac síos sracléarscáil den tír agus mínigh conas a d’fhéadfaí an tír uilig a roinnt ina **DÁ RÉIGIÚN NÓ NÍOS MÓ NÁ SIN**. (20 marc)
- (ii) Tóg do rogha **DHÁ** réigiún agus sa dá chás tabhair cuntas ar an fhorbairt sa réigiún, faoi na cinnteidil seo:
- Tíreolaíocht Fhisiceach
  - Talmhaíocht
  - Déantúsaíocht **nó** Seirbhísí.
- (60 marc)

### CEIST 16. RÉIGIÚN SAN EORAIP

Imchuach Pháras, Iarthar na hÉireann, Oir-dheisceart na Sasana, Má Thuaisceart na hIodáile, na Garbhchríocha in Albain.

Ón liosta úd tóg do rogha croí-réigiún **AMHÁIN** agus do rogha imeall-réigiún **AMHÁIN** agus tabhair cur síos orthu faoi na cinn-teidil seo:

\*Tíreolaíocht Fhisiceach      \* Aeráid      \*Talmhaíocht      \*Tionscal Déantúsaíochta  
(80 marc)

## CEIST 17. RÁITIS MAIDIR LEIS AN EORAIP

Tóg do rogha **DHÁ** ráiteas díobh seo agus déan iad a phlé go mion:

- (i) Ba mhór iad na buntáistí a bhí ag an talmhaíocht in Éirinn an tír a dhul isteach san Aontas Eorpach. (40 marc)
- (ii) Beidh idir buntáistí agus fadhbanna ag ball-stáit an Aontais Eorpaigh de bharr a mhéadaithe. (40 marc)
- (iii) Tá ceantar na Réine-Ruhr ar phríomh-cheantracha tionsclaíocha na hEorpa. (40 marc)
- (iv) Tá deacrachtaí oll-mhóra ag tionscal na hiascaireachta in Éirinn. (40 marc)
- (v) Tá dlús daonra an-mhór san Ísiltír. (40 marc)

## CEIST 18. TÍREOLAÍOCHT DHOMHANDA

Dearc ar léarscáil an domhain laistíos.

- (i) **I do fhreagarleabhar** ainmnigh na nithe ar a bhfuil na huimhreacha 1 - 8.



Tíortha 1 agus 2; Cathracha 3 agus 4; Tír 5 agus Oileán 6; Sliabhraon 7; Cuan 8. (16 mharc)

\*Nóta: Is ar an scrúdpháipéar atá an léarscáil, seachas ar leathán scoite.

- (ii) Bhí na ceantracha seo ins na cinnlínte nuachta le roinnt blianta anuas:

\*Kosovo

\*Tíomór Thoir

\*Tuaisceart na hÉireann

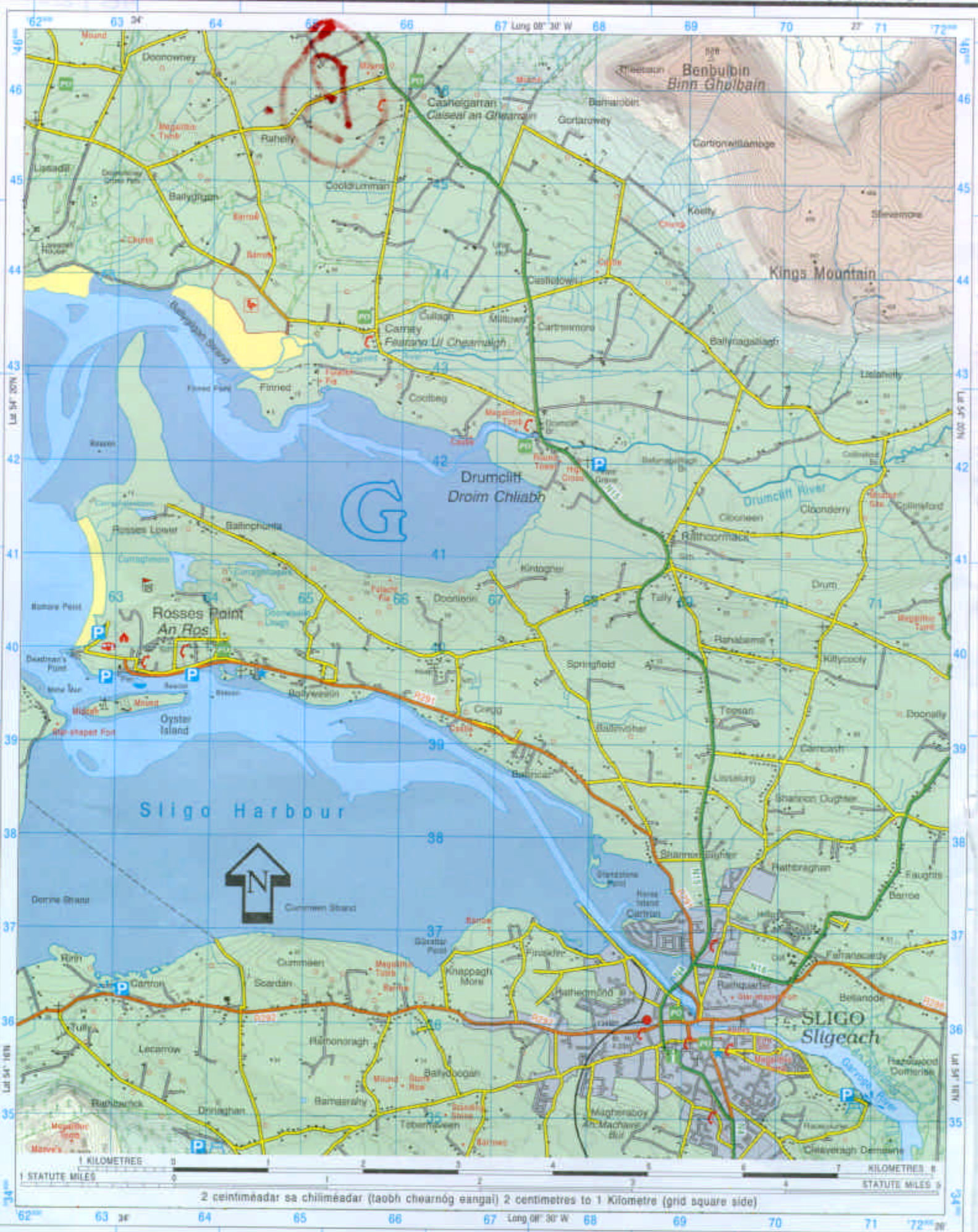
Tóg do rogha ceann **AMHÁIN** agus tabhair cuntas ar na saincheisteanna a bhaineann leis. (40 marc)

- (iii) "Fadhb isea an ciníochas in alán tíortha ar domhan."

Mínigh **DHÁ** chúis leis seo. (24 mharc)

NOTE: UNAUTHORISED REPRODUCTION INFRINGES STATE COPYRIGHT.  
 TAHAIR FAOI DEARA: IS SÁRÚ CHÓIPCHEART AN STÁIT  
 MACASAMHLU GAN CHEAD.

Compiled, Printed & Produced by the Director at the Ordnance Survey Office,  
 Phoenix Park, Dublin.  
 An Stiúrthóir, Oifig na Sárthreáraithe Ordánais, Páirc an Fhionnruisce,  
 Baile Átha Cliath, a thionsaigh, a chloíodh agus a d'fhólaigh.



2 centiméadar sa chiliméadar (taobh chearnóg éingai) 2 centimetres to 1 Kilometre (grid square side)



### Eolas Turasóireachta Tourist Information

Láithreán carbhán (dirthurais) Caravan site (transit)	Ionad eolais turasóireachta (ar oscailt ar feadh na bliana) Tourist information centre (regular opening)
Brú An Óige / Neamhspleách Hostel An Óige / Independent	Ionad eolais turasóireachta (ar oscailt le linn an tséasúir) Tourist information centre (restricted opening)
Ionad páirceála Parking	Ionad dearctha Viewpoint
Láithreán picnic Picnic site	An Taisce National Trust
Teilefón Poiblí Public Telephone	Tearmann Dúra Nature Reserve
Láithreán campála Camping site	Galfchúrsa, machaire gailf Golf Course or Links

### Bóithre Roads

M1	Mótarbhealach Motorway (Junction number)	R 574	Bóthar Réigiúnach Regional Road
N 11	Bóthar príomha náisiúnta National Primary Road		Bóthar den tríú grád Third Class Road
N 71	Bóthar tánaisteach náisiúnta National Secondary Road		Boithre de chineál eile Other Roads
	Carbhealach dubailte Dual Carriageway		Bealach Track
	Bóthar príomha / tánaisteach náisiúnta beartaithe Proposed Nat. Primary / Secondary Road		

### Gnéithe ginearálta General features

Foirgnimh le tais a chéile Built up Area	Garda Síochána Police	Crann Mast	Trasnú cliathráin Graticule Intersection
Aerfort Airport	Stáisiún cumhachta (uisce) Power Station (Hydro)	Eaglais nó séipéal Church or Chapel	Siúbhealach le comharthaí; gan comharthaí Waymarked Walks; Unmarked
Aerpháirc Airfield	Stáisiún cumhachta (breosla iontaiseach) Power Station (Fossil)	Ardeaglais Cathedral	Bád fartha (feithiclí) Ferry (Vehicle)
Oifig phoist Post office	Líne tarchurtha leictreachais Electricity Transmission Line	Cuaille triantánachta Triangulation Pillar	Bád fartha (paisinéirí) Ferry (Passenger)

### Teorainneacha Boundaries

Teorainn idirnáisiúnta International Boundary	Seilbh de chuid an Aire Chosanta Dept. of Defence Property
Teorainn chontae County Boundary	Foraois bhuaircineach Coniferous Plantation
Páirc Náisiúnta National Park	Coill nádúrtha Natural Woodland
Páirc Foraoise Forest Park	Foraois mheasctha Mixed Woodland

### Séadchomhartha Antiquities

- Séadchomhartha Ainmnithe  
Named Antiquities
- Clós, m.sh. Ráth nó Lios  
Enclosure, e.g. Ringfort
- Láthair Chatha (le dáta)  
Battlefield (with date)

### Relief Relief

- Céim imlíne comhairde 10m  
10m Contour Interval
- Céim imlíne comhairde 50m  
50m Contour Interval
- 122 • Spota airde  
Spot Height


### Gnéithe uisce Water features

Loch Lake	Bádóireacht Boating activities
Canáil, canáil (thirim) Canal, Canal (dry)	Líne bharr ísín High Water Mark
Abhainn nó sruthán River or Stream	Líne lag trá Low Water Mark
Teach Soisín in úsáid / as úsáid Lighthouse in use / disuse	Trá Beach

### Iarnróid Railways

Iarnróid Railways	Crosaire comhréidh Level Crossing
Iarnród tionscalalach Industrial Line	Stáisiún traenach Railway Station
Tollán Tunnel	

IRISH NATIONAL GRID



SAMPLE GRID REFERENCE ONLY

NOTE: THESE GRID REFERENCES ARE SAMPLE REFERENCES ONLY! AND THE PLACES NAMED ARE NOT FOUND ON THIS MAP EXTRACT.

FROM -  
DISCOVERY SERIES SHEET 2  
RATHMULLAN C 295 275

DISCOVERY SERIES SHEET 2  
JACOBS BRIDGE C 347 323

