



Coimisiún na Scrúduithe Stáit

SCRÚDÚ NA hARDTEISTIMÉIREACHTA, 2009

TÍREOLAÍOCHT – ARDLEIBHÉAL

DÉ hAOINE 5 MEITHEAMH – TRÁTHNÓNA 2.00 go 4.50

Scrúduimhir

Don Scrúdaitheoir

Cuid a hAon Ceisteanna Gearrfhreagra	Marc Iomlán	Scr. Comh.	Scr. Ach.	Comh. Ach.
Ceist 1				
Ceist 2				
Ceist 3				
Ceist 4				
Ceist 5				
Ceist 6				
Ceist 7				
Ceist 8				
Ceist 9				
Ceist 10				
Ceist 11				
Ceist 12				
Marc Carnach				
Marcanna Dícheadaithe				
Marc Glan				

N.B. Ná déan dearmad an páipéar seo a thabhairt ar ais i dteannta do fhreagarleabhair nó caillfear marcanna.

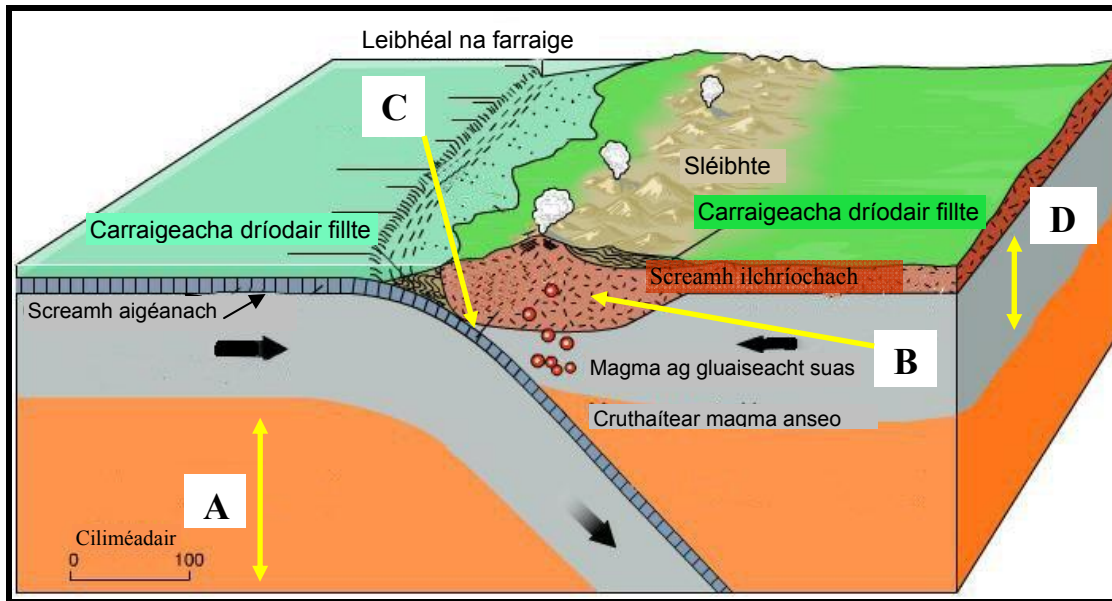
CUID A hAON – CEISTEANNA GEARRFHREAGRA – 80 MARC

Freagair **DEICH** gceist

Tá na ceisteanna go léir ar aon mharc

FREAGAIR NA CEISTEANNA SEO SNA SPÁSANNA ATÁ ANN DÓIBH

1. Crios Fodhuchtaithe



www.school-portal.co.uk

Scrúdaigh an léaráid seo a léiríonn crios fodhuchtaithe.

Meitseáil gach ceann de na litreacha **A** go **D** leis an ngné cheart sa tábla thíos:

Gné	Litir
Astanaisféar	
Litiséar	
Crios Fodhuchtaithe	
Ionsánna Bolcánacha	

[8m]

2. Sliochtléarscáil na Suirbhéireachta Ordanáis

Scrúdaigh an léarscáil 1:50,000 de chuid na Suirbhéireachta Ordanáis de Chill Mhantáin agus an eochair eolais atá in éineacht leis an bpáipéar seo.

Scríobh sa spás atá ann dó an freagra ceart ar **gach ceann** seo a leanas:

- (i) Is é atá sa seaniarsma atá le fáil ag **T 274 914** ná _____
- (ii) Is é an cineál fáschoille atá le fáil ag **T 265 965** ná _____
- (iii) Cén tagairt eangaí sé fhigiúr atá ag an **bpointe is airde**? _____
- (iv) Is é **achar iomlán** na sliochtléarscáile ná _____ km cearnach.

[8m]

3. Aerfótagraf & Suirbhéireacht Ordanáis

Scrúdaigh an tAerfótagraf **agus** an Léarscáil de chuid na Suirbhéireachta Ordanáis atá in éineacht leis an bpáipéar seo.

Scríobh sa spás atá ann dó an freagra ceart ar **gach ceann** seo a leanas:

- (i) Agus úsáid á baint agat as an Aerfótagraf & as Léarscáil na Suirbhéireachta Ordanáis araon sainaithin an treo ina raibh an ceamara dírithe nuair a glacadh an tAerfótagraf:

- (ii) Cén cineál aerfótagraif é seo? [Cuir tic sa bhosca ceart]:

Ceartingearach

Sceabhach

- (iii) Cén séasúr den bhliain inar glacadh an fótagraf seo? _____
- (iv) Cuir píosa fianaise amháin ar fáil mar thaca leis an séasúr a roghnaigh tú. _____

[8m]

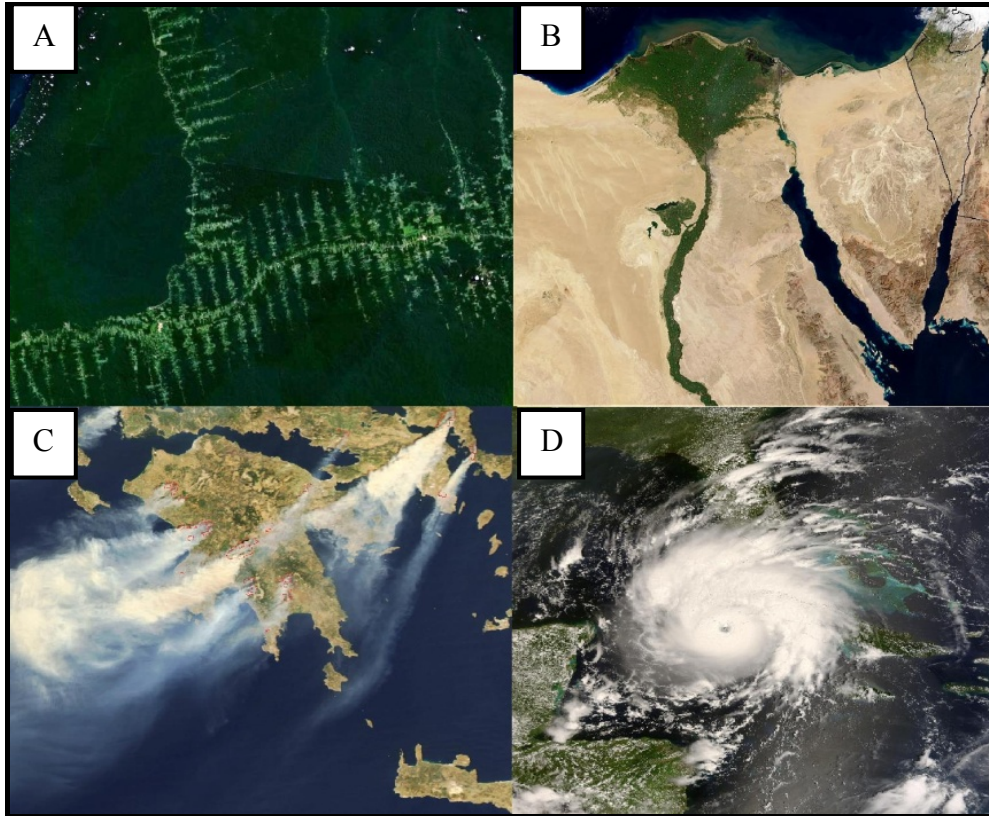
4. Aerfótagraf

Scrúdaigh an tAerfótagraf de chuid de Chill Mhantáin atá in éineacht leis an bpáipéar seo. Ag baint úsáide duit as nodaireacht chomhghnásach (Cúlra ar dheis etc.), luaigh, sa bhosca cuí, suíomh gach ceann de na sleachta seo thíos as an bhfótagraf:



[8m]

5. Léirléamh Satailíte



www.upload.wikimedia.com

Cuir isteach an litir cheart **A** go **D** sna spásanna thíos, chun gach ceann de na híomhánna éagsúla satailíte a shainnithint:

Íomhá	Litir
Hairicín (Gustav)	
Dífhoraaisiú (An Bhrasaíl)	
Tinte Mongaigh (An Ghréig)	
Deilt (An Níl)	

[8m]

6. Gnéithe tíre

Meaitseáil **gach ceann** de na próisis dromchla i gColún A leis an sampla ceart i gColún B.

Colún A	
<i>Creimtheach</i>	A
<i>Struchtúrach</i>	B
<i>Ollghluaiseacht</i>	C
<i>Sil-leaganach</i>	D

Colún B	
<i>Ithirthéaltú</i>	1
<i>Fillsléibhte</i>	2
<i>Coirín</i>	3
<i>Eiscir</i>	4

Litir	Uimhir
A	
B	
C	
D	

[8m]


7. Cineálacha Réigiún in Éirinn

Ón staidéar atá déanta agat ar thíreolaíocht réigiúnach, meaitseáil **gach ceann** de na samplaí i gColún A leis an gcineál ceart réigiúin i gColún B.

Colún A		Colún B		Litir	Uimhir
<i>Cathair Chorcaí</i>	A	<i>Comhaeráideach</i>	1	A	
<i>Carst</i>	B	<i>Riarachán</i>	2	B	
<i>Fionnuar Measartha Aigéanach</i>	C	<i>Geomorfach</i>	3	C	
<i>Contae Chill Mhantáin</i>	D	<i>Uirbeach</i>	4	D	

[8m]

8. Gnéithe Cósta





Féach ar an bhfótagraf thuas. Meaitseáil gach ceann de na litreacha **A** go **D** leis an ngné cheart sa tábla thíos:

Gné	Litir
Clár Tonnghearrtha	
Bá	
Poll Séideáin	
Stacán/Stumpa Farraiqe	

[8m]

9. Cineálacha Carraigeacha



www.geology.about.com/www.beg.utexas.edu

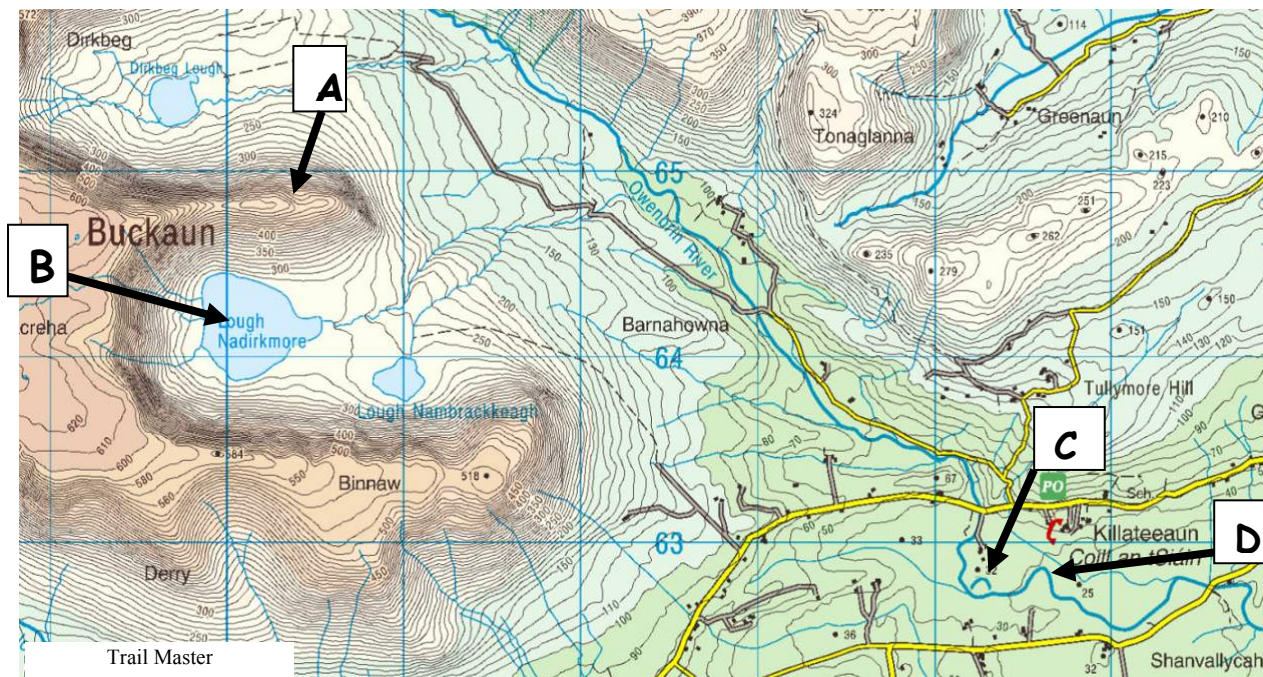
Scrúdaigh na híomhánna thuas agus cuir an litir chuí i ngach ceann de na boscaí thíos chun gach cineál carraige a shainaithint:

Cineál Carraige	Litir
Slinn	
Basalt	
Sean-Ghaineamhchloch Rua	
Aolchloch	

[8m]

10. Gnéithe Tíre

Féach ar an tSliochléarscáil de chuid na Suirbhéireachta Ordanáis thíos agus freagair na ceistean:



Ceist	Freagra
Sainaithin an droim oighreach atá ag A .	
Sainaithin an tírghné oighreach atá ag B .	
Sainaithin an tírghné abhann atá ag C .	
Sainaithin an tírghné abhann atá ag D .	

[8m]

11. Éire – Daonra de réir Aoise, 2006

Aoisghrúpa (blianta)	Fireannaigh	%	Baineannaigh	%	Daoine
0-14	443,044	10%	421,405	10%	864,449
15-24	321,007	8%	311,725	7%	632,732
25-44	681,988	16%	663,885	16%	1,345,873
45-64	468,037	11%	460,831	11%	928,868
65 +	207,095	5%	260,831	6%	467,926
Iomlán	2,121,171	50%	2,118,677	50%	4,239,848

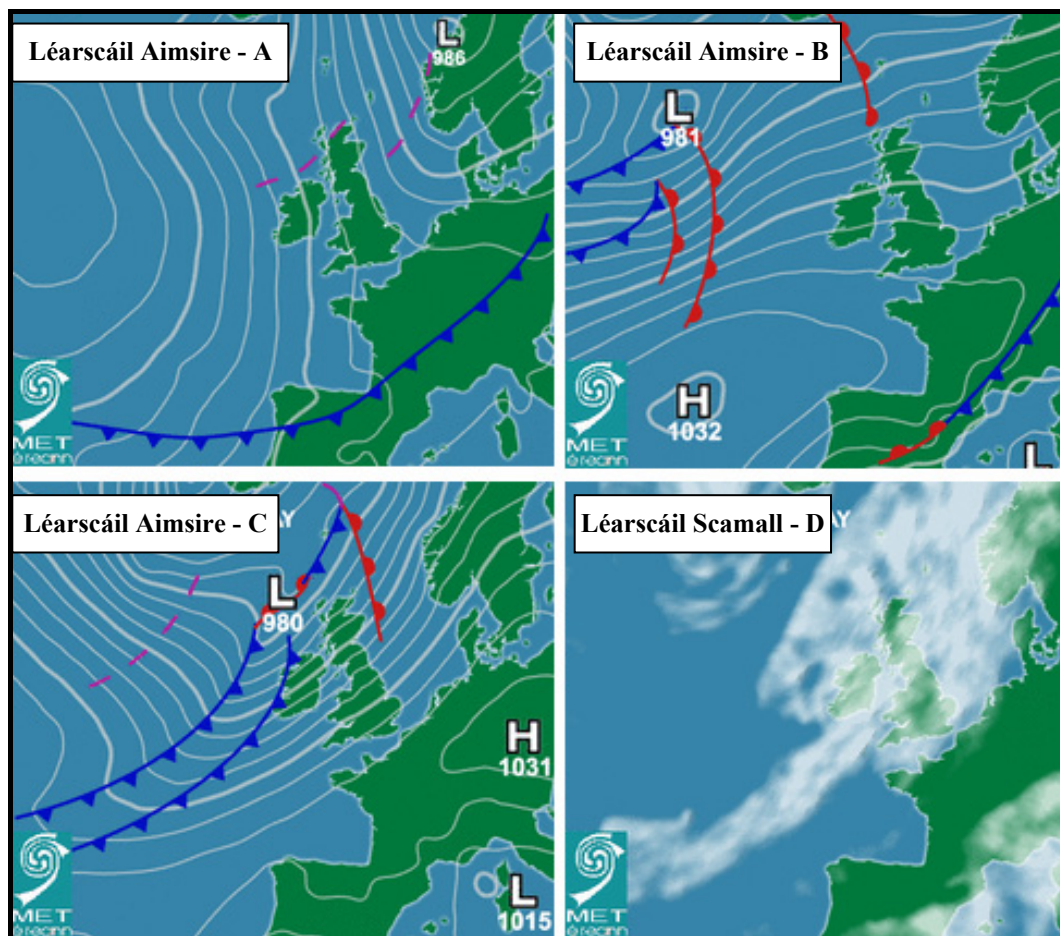
www.cso.ie

Bain úsáid as na sonraí sa tábla thuas chun na ráitis seo a leanas a chríochnú:

- Sa bhliain 2006 bhí 632,732 duine san aoisghrúpa _____.
- Bhí _____ % de na baineannaigh san aoisghrúpa 25 – 44.
- Bhí céatadán na bhfireannach san aoisghrúpa 65+ _____ % níos lú ná céatadán na mbaineannach.
- Ba é líon iomlán na ndaoine in Éirinn sa bhliain 2006 ná _____ . [8m]

12. Cairteacha Aimsire den Atlantach

Scrúdaigh na Léarscáileanna Aimsire agus Scamall thíos agus freagair na ceisteanna ina ndiaidh:



www.met.ie

Cén aicme lena mbaineann an cineál fronta aimsire atá os cionn Lár na hEorpa i Léarscáil Aimsire A ?	
Luaigh brú baraiméadrach an fhrithchloíin i Léarscáil Aimsire B ?	
An bhfuil an ghaoth láidir nó lag in Éirinn i Léarscáil Aimsire C ?	
Cé acu ceann de na Léarscáileanna Aimsire A, B nó C a seasann Léarscáil Scamall D di?	

[8m]

CUID A DÓ – CEISTEANNA STRUCHTÚRTHA agus AISTE – 320 MARC

Ní mór duit tabhairt faoi **CHEITHRE** cheist, mar seo a leanas:

- **Dhá** cheist as **Roinn 1**
- Ceist **amháin** as **Roinn 2**
- Ceist **amháin** as **Roinn 3**

FREAGAIR NA CEISTEANNA SEO SA FHREAGARLEABHAR

ROINN 1 – CROÍ-AONAD

NÍ MÓR duit tabhairt faoi **DHÁ** cheist:

CEIST AMHÁIN as **Patrúin agus Próisis sa Chomhshaol Fisiceach**

AGUS

CEIST AMHÁIN as **Tíreolaíocht Réigiúnach**

**PATRÚIN AGUS PRÓISIS SA CHOMHSHAOL
FISICEACH**

Freagair ceist AMHÁIN

Ceist 1

A. SLIOCHTLÉARSCÁIL NA SUIRBHÉIREACHTA ORDANÁIS

Scrúdaigh an sliochtléarscáil de chuid na Suirbhéireachta Ordanáis atá in éineacht leis an bpáipéar seo. **I do fhreagarleabhar**, tarraing sracléarscáil ar **leathscála** den limistéar a léirítear. Ar an léarscáil sin, marcáil agus sainaithin **gach ceann** díobh seo a leanas:

- Cúrsa iomlán Abhainn Fheartraí
- Talamh os cionn 100 méadar taobh ó dheas den Tuaidhlíne 95
- Gné tíre amháin a cruthaíodh de thoradh próisis chreimthe chósta
- Gné tíre amháin a cruthaíodh de thoradh próisis sil-leagain chósta.

[20m]

B. IMILL PHLÁTAÍ

Mínigh, agus tagairt agat do shamplaí a bhfuil staidéar déanta agat orthu, conas a chuidíonn teicteonaic phlátaí linn tuiscint a fháil ar na fórsaí a bhíonn ag oibriú ar feadh imill phlátaí screimhe.

[30m]

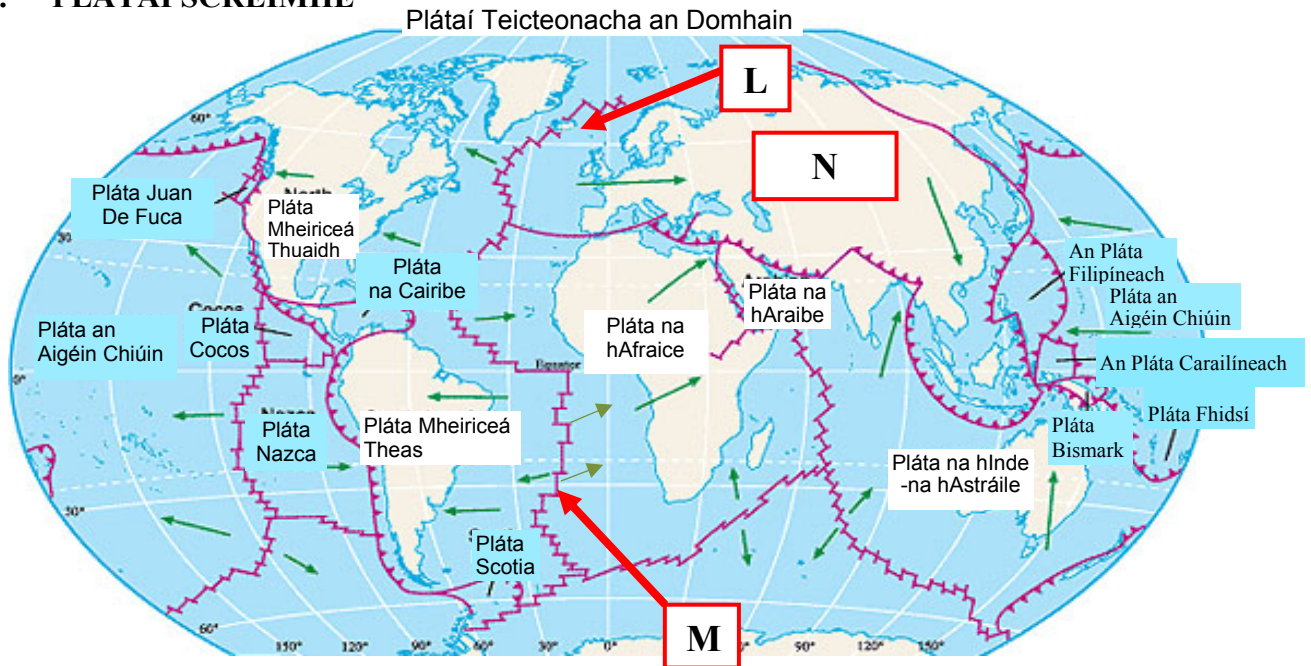
C. FORBAIRT TÍRGHNÉ

Scrúdaigh, le cabhair léaráid/léaráidí lipéadaithe, na próisis a mhúnlaigh tírghné **amháin** de do rogha féin in Éirinn.

[30m]

Ceist 2

A. PLÁTAÍ SCREIMHE



www.media maps.com

Scrúdaigh an léarscáil thuas, a léiríonn mórfhlátaí screimhe an Domhain. Freagair iad seo a leanas **i do fhreagarleabhar**:

- Ainmnigh an t-oileán bolcánach atá ag **L**.
- Cén téarma, tógalach nó scriosach, is fearr a chuireann síos ar an teorainn plátaí **M**?
- Ainmnigh an pláta atá ag **N**.
- Cé acu ceann de na ráitis seo a leanas atá **Bréagach**?

O. De réir mar a ghluaiseann na plátaí amach óna chéile (go han-mhall) éiríonn magma as an maintlín.

P. Feachtanna comhiompair laistigh den Domhan a thugann ar phlátaí an domhain gluaiseacht amach óna chéile.

Q. Gluaiseann Pláta Mheiriceá Thuaidh soir.

R. Is minic a dhéantar bolcáin ag teorainneacha plátaí.

[20m]

B. CARRAIGEACHA

Agus tagairt agat do shamplaí in Éirinn, scrúdaigh múnú carraigeacha dríodair.

[30m]

C. IDIRGHNÍOMHAÍOCHT AN DUINE

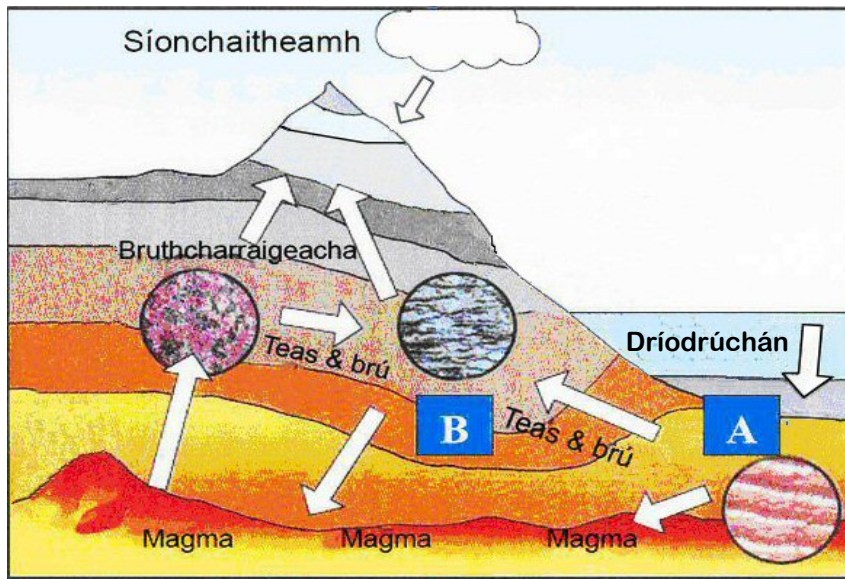
Agus tagairt agat do **cheann amháin** díobh seo a leanas, pléigh conas a idirghníomhaíonn daoine le timthriall na carraige:

- Mianadóireacht
- Eastóscadh ábhar foirgníochta
- Saothrú ola/gáis
- Táirgeadh fuinnimh gheoiteirmigh.

[30m]

Ceist 3

A. TIMTHRIALL NA CARRAIGE



www.pullouttheplug.co.uk

Scrúdaigh an léaráid thuas agus freagair iad seo **i do fhreagarleabhar**:

- (i) Sainithin an grúpa carraigeacha atá le fáil ag **A**.
- (ii) Ainmnigh sampla **amháin** de charraig laistigh den ghrúpa carraigeacha atá ainmnithe i gcuid (i).
- (iii) Sainithin an grúpa carraigeacha atá le fáil ag **B**.
- (iv) Ainmnigh bruthcharraig **amháin** a fhoirmítear taobh **thíos** de dhromchla an domhain.

[20m]

B. FORBAIRT TÍRGHNÉITHE

Tagann coigeartú ar an gcothromaíocht idir talamh agus farráige i gceist le próisis iseastatacha. Phléigh an chaoi a ndearna na próisis seo tírdhreach na hÉireann a mhúnlú le himeacht ama.

[30m]

C. IDIRGHNÍOMHAÍOCHT AN DUINE

Agus tagairt agat do cheann **amháin** díobh seo a leanas, scrúdaigh conas a imríonn gníomhaíochtaí daonna tionchar ar phróisis dromchla:

- Próisis ollghluaiseachta
- Próisis abhann
- Próisis chósta.

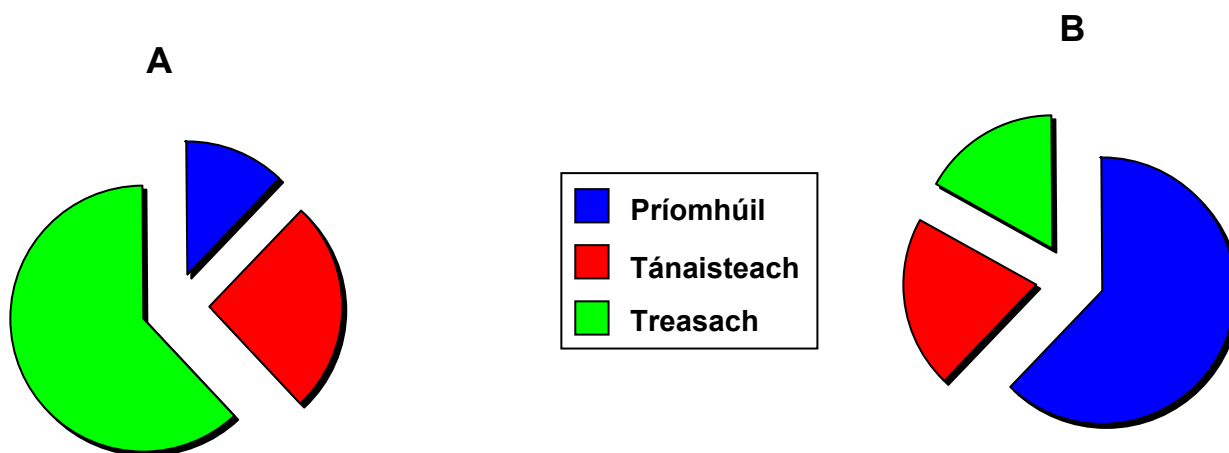
[30m]

TÍREOLAÍOCHT RÉIGIÚNACH

Freagair ceist AMHÁIN

Ceist 4

A. COINCHEAP AN RÉIGIÚIN



Scrúdaigh na píchairteacha thuas a sheasann do Chroí-Réigiún agus do Réigiún Forimeallach. Freagair na ceistean seo a leanas **i do fhreagarleabhar**:

- Sainaithin cé acu cairt **A** nó cairt **B** a sheasann do Chroí-Réigiún.
- Luaigh sampla **amháin** de Réigiún Forimeallach laistigh den Eoraip.
- Sonraigh tréith **amháin** a chinntíonn réigiún mar Chroí-Réigiún.
- Sonraigh tréith **amháin** a chinntíonn réigiún mar Réigiún Forimeallach.

[20m]

B. GNÍOMHAÍOCHTAÍ EACNAMAÍOCHTA PRÍOMHÚLA

Déan cur síos ar, agus mínigh, **dhá** thoise fhisiceacha a chuaigh i bhfeidhm ar fhorbairt na talmhaíochta i **Réigiún Éireannach** amháin a bhfuil staidéar déanta agat air.

[30m]

C. PRÓISIS DHAONNA

Scrúdaigh conas a chuaigh leibhéal forbartha na heacnamaíochta i **Réigiún Eorpach [taobh amuigh d'Éirinn]**, a bhfuil staidéar déanta agat air, i bhfeidhm ar dháileadh an phobail sa réigiún.

[30m]

Ceist 5

A. RÉIGIÚIN IN ÉIRINN

Tarraing léarscáil imchrutha **d'Éirinn** i do fhreagarleabhar. Taispeáin agus ainmnigh iad seo a leanas ar an léarscáil sin:

- (i) **Dhá** réigiún chodarsnacha.
- (ii) **Dhá** ghné fhisiceacha dhifriúla den tírdhreach – ceann i **ngach réigiún**.
- (iii) **Dhá** ionad uirbeacha – ceann i **ngach réigiún**.

[20m]

B. AN tAONTAS EORPACH

Déan cur síos ar **dhá** shlí a raibh tionchar ag méadú an Aontais Eorpaigh ar Éirinn, agus tabhair míniú orthu.

[30m]

C. GNÍOMHAÍOCHT EACNAMAÍOCHTA THREASACH

Mínigh forbairt gníomhaíocht eacnamaíochta threasach **amháin** i **Réigiún Ilchríche / Fo-Ilchríche amháin** ar bith a bhfuil staidéar déanta agat air.

[30m]

Ceist 6

A. RÉIGIÚN ILCHRÍCHE / FO-ILCHRÍCHE

Tarraing léarscáil imchrutha de **Réigiún Ilchríche/Fo-ilchríche** i do fhreagarleabhar. Taispeáin agus ainmnigh iad seo a leanas ar an léarscáil sin:

- (i) **Dhá** ghné fhisiceacha den tírdhreach.
- (ii) **Dhá** ionad uirbeacha.

[20m]

B. FÁS UIRBEACH

Scrúdaigh forbairt limistéar uirbeach **amháin** i réigiún **Eorpach** [taobh amuigh d'Éirinn] a bhfuil staidéar déanta agat air.

[30m]

C. GNÍOMHAÍOCHT EACNAMAÍOCHTA THÁNAISTEACH

Déan cur síos, agus tabhair míniú, ar fhorbairt gníomhaíochtaí eacnamaíochta tánaisteacha i **réigiún Éireannach** a bhfuil staidéar déanta agat air.

[30m]

ROINN 2 – TOGHAONAIÐ

NÍ MÓR duit tabhairt faoi aon cheist **AMHÁIN**

as

• **Patrúin agus Próisis i nGníomhaíochtaí Geilleagracha**

NÓ

• **Patrúin agus Próisis i gComhshaol an Duine**

PATRÚIN AGUS PRÓISIS I nGNÍOMHAÍOCHTAÍ GEILLEAGRACHA

Freagair ceist AMHÁIN

Ceist 7

A. FUINNEAMH IN ÉIRINN

An Céatadán de Riachtanais Fuinnimh na hÉireann de réir Earnálacha Áirithe in 1990 & 2006.

Earnáil	1990	2006
Tionsclaíocht	27%	23%
Iompar	22%	34%
Seirbhísí	15%	16%
Talmhaíocht	4%	2%

Scrúdaigh na sonraí sa tábla thuas a léiríonn an Céatadán de Riachtanais Fuinnimh na hÉireann de réir Earnála Áirithe sna blianta 1990 & 2006.

Agus úsáid á baint agat as **grafpháipéar**, tarraing graf oiriúnach chun na sonraí sin a léiriú.

[20m]

B. AN tSUIRBHÉIREACHT ORDANÁIS

Scrúdaigh an tsliochtléarscáil de chuid na Suirbhéireachta Ordanáis atá in éineacht leis an bpáipéar seo. Agus tú ag úsáid fianaise ón léarscáil seo mar thaca le do fhreagra, luaigh agus mínigh **trí** chúis a bhfuil an t-eastát tionsclaíochta suite ag an tagairt eangaí **T 285 955**.

[30m]

C. GEILEAGAIR ATÁ AG FORBAIRT

Scrúdaigh tionchar an choilíneachais ar gheilleagar atá ag forbairt a bhfuil staidéar déanta agat air.

[30m]

Ceist 8**A. TREOIRUIMHIR FORBARTHA DAONNA**

Tír	Ionchas Saoil ina bhlianta in 2005	Ráta Litearthachta Aosaigh 1995 - 2005	OTI per capita (PPP \$SAM) 2005	Treoiruimhir Forbartha Daonna (TFD)			
				1975	1985	1995	2005
An Íoslainn	81.5	..	36,510	0.87	0.90	0.92	0.97
Éire	78.4	..	38,505	0.82	0.85	0.90	0.96
An Fhrainc	80.2	..	30,386	0.86	0.88	0.93	0.95
SAM	77.9	..	41,890	0.87	0.90	0.93	0.95
An Iodáil	80.3	98.4	28,529	0.85	0.87	0.91	0.94
An Bhrasaíl	71.7	88.6	8,402	0.65	0.70	0.75	0.80
An tSín	72.5	90.9	6,757	0.53	0.60	0.69	0.78
An India	63.7	61	3,452	0.42	0.49	0.55	0.62
An Nigéir	46.5	69.1	1,128	0.32	0.39	0.43	0.47
Mailí	53.1	24.0	1,033	0.25	0.27	0.32	0.38

Agus tú ag tagairt don an tábla thuas, freagair na ceisteanna seo a leanas **i do fhreagarleabhar**:

- (i) Cén tír a raibh an TFD ab ísle aici sa bhliain 2005?
- (ii) Cén tír inar tharla an t-athrú ba mhó sa TFD ón mbliain 1975 i leith?
- (iii) Is dhá tháscaire iad an Ráta Litearthachta Aosaigh agus an OTI a úsáidtear chun an TFD a mheas. Cad é an tríú táscaire?
- (iv) Cad dó a seasann an téarma OTI?

[20m]

B. CUIDEACHTAÍ ILNÁISIÚNTA

Scrúdaigh soghluaisteacht gníomhaíochtaí eacnamaíochta nua-aimseartha, agus tú ag tagairt do Chuideachta Ilnáisiúnta (CIN) **amháin** a bhfuil staidéar déanta agat uirthi.

[30m]

C. TIONCHAR TIMPEALLACHTA

Déan cur síos, agus tabhair míniú, ar an tionchar a imríonn dó breoslaí iontaise ar an timpeallacht.

[30m]

Ceist 9

A. AERFÓTAGRAF

Scrúdaigh an t-aerfótagraf de Chill Mhantáin atá in éineacht leis an bpáipéar seo. Tarraing sracléarscáil a mbeidh **leath an fhaid agus leath an leithid** inti. Ar an léarscáil sin, taispeáin agus ainmnigh samplaí de na nithe seo a leanas a tharraingeodh tionscail go dtí an ceantar:

- Dhá mhodh **taistil** dhifriúla
- **Suíomh** oiriúnach do thionscal longthógála
- **Forbairt Tithíochta** nua.

[20m]

B. LEASANNA EACNAMAÍOCHTA AGUS TIMPEALLACHTA

D'fhéadfadh coimhlint a bheith ann idir leasanna eacnamaíochta agus leasanna timpeallachta. Scrúdaigh an choimhlint sin agus tagairt agat do shampla **amháin** a bhfuil staidéar déanta agat air.

[30m]

C. AN tAONTAS EORPACH

Scrúdaigh an tábhacht a bhaineann le ceann **amháin** díobh seo a leanas d'fhorbairt gheilleagar na hÉireann:

- An Comhbheartas Talmhaíochta
- An Comhbheartas Iascaireachta
- Cistí Forbraíochta Réigiúnaí
- Cistiú Sóisialta.

[30m]

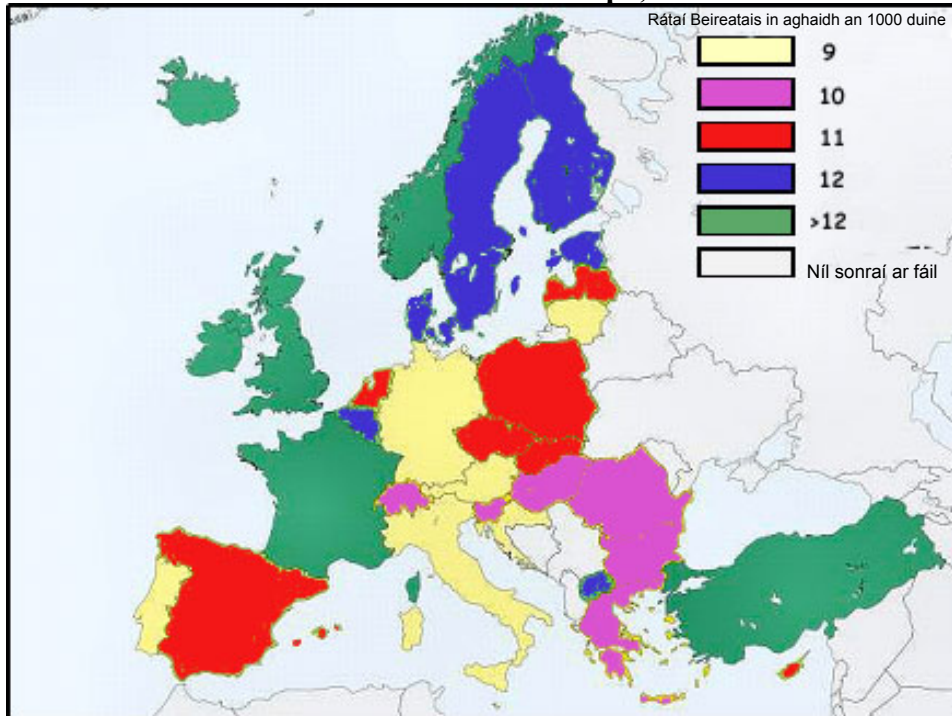
PATRÚIN AGUS PRÓISIS i gCOMHSHAOL AN DUINE

Freagair ceist AMHÁIN

Ceist 10

A. Rátaí Beireatais

Rátaí Beireatais na hEorpa, 2007



Agus an léarscáil thuas mar fhoinsé thagartha agat, freagair na ceisteanna seo a leanas i do fhreagarleabhar:

- (i) Cad é ráta beireatais na hÍsiltíre sa bhliain 2007?
- (ii) Cad é ráta beireatais na hEilvéise sa bhliain 2007?
- (iii) Sainaithean toisc shóisialta amháin a imríonn tionchar ar an ráta beireatais.
- (iv) Sainmhínigh an téarma *Ráta Básmhaireachta*.

[20m]

B. PATRÚIN LONNAÍOCHTA

Scrúdaigh an tsliochtléarscáil de chuid na Suirbhéireachta Ordanáis atá in éineacht leis an bpáipéar seo. Agus tú ag úsáid fianaise ón léarscáil mar thaca le do fhreagra, sainaithean agus mínigh trí phatrún lonnaíochta **tuaithe**.

[30m]

C. DINIMIC LONNAÍOCHTA

Agus tagairt agat d'ionad uirbeach **amháin** in Éirinn a bhfuil staidéar déanta agat air, mínigh conas a athraíonn a chuid feidhmeanna le himeacht ama.

[30m]

Ceist 11**A. UIRBIÚ**

Réigiún Domhanda	Uirbeach 1975	Uirbeach 2015
An Afraic	26 %	47 %
An Áise	24 %	51 %
An Eoraip	66 %	76 %
Meiriceá Thuaidh	74 %	86 %

Léiríonn an tábla thuas céatadán an phobail uirbigh i réigiúin roghnaithe sna blianta 1975 agus an céatadán tuartha do phobail uirbigh i réigiúin roghnaithe sna blianta 2015. Bain úsáid as **grafpháipéar** agus tarraing graf oiriúnach chun na sonraí sin a léiriú.

[20m]

B. FADHBANNA I gCATHRACHA

Agus tagairt agat do shampla **amháin** a bhfuil staidéar déanta agat air, scrúdaigh éifeachtacht straitéisí pleanála uirbí chun déileáil le fadhbanna uirbeacha.

[30m]

C. RÓDHAONRA

- (i) Mínigh an téarma *ródhaonra*.
- (ii) Scrúdaigh dhá chúis le ródhaonra i limistéar **amháin** a bhfuil staidéar déanta agat air.

[30m]

Ceist 12

A. AERFÓTAGRAF

Scrúdaigh an t-aerfótagraf de Chill Mhantáin atá in éineacht leis an bpáipéar seo. Tarraing sracléarscáil a mbeidh **leath an fhaid agus leath an leithid** inti. Ar an léarscáil sin taispeáin agus ainmnigh iad seo a leanas:

- **Forbairt tithíochta nua**
- **Limistéar caitheamh aimsire ar uisce**
- **Droichead**
- **Séipéal.**

[20m]

B. IMIRCE

Agus tagairt agat do shamplaí a bhfuil staidéar déanta agat orthu, scrúdaigh **dhá** thionchar a bhaineann leis an imirce ón tuath go dtí ionaid uirbeacha.

[30m]

C. TALAMHÚSÁID UIRBEACH

Agus tagairt agat do shampla **amháin** a bhfuil staidéar déanta agat air, déan cur síos ar, agus mínigh, conas a athraíonn talamhúsáide i limistéir uirbeacha.

[30m]

ROINN 3 - ROGHAONÁID

Freagair ceist AMHÁIN

N.B. Is fearr trí ghné nó ceithre ghné den téama a phlé go mion, in ionad plé ginearálta a dhéanamh ar líon mór pointí.

Idirspleáchas Domhanda

13. Pléigh an ról a imríonn Eagraíochtaí Neamhrialtasacha (NGO) sa ‘díospóireacht faoin gcúnamh’.
- [80m]
14. Táimid ag maireachtáil i ngeilleagar domhanda idirspleách. Bíonn tionchar ag gníomhaíochtaí nó cinntí a dhéantar i limistéar amháin ar limistéir eile. Déan an tuairim sin a phlé.
- [80m]
15. Cothaíonn an trádáil chóir forbairt inbhuanaithe. Déan an tuairim sin a phlé.
- [80m]

Geo-éiceolaíocht

16. Agus tagairt agat do chineál ithreach **amháin** a bhfuil staidéar déanta agat uirthi, scrúdaigh conas a mbíonn tionchar ag an ábhar bunaidh, ag an aeráid agus ag ábhar orgánach ar an hithreach.
- [80m]
17. Pléigh conas is féidir le gníomhaíochtaí daonna dlús a chur le creimeadh ithreach.
- [80m]
18. Déan measúnú ar conas a d’athraigh gníomhaíocht dhaonna bithóim.
- [80m]

Cultúr agus Ionannasdel

19. Tá a lán tosca éagsúla ann a shainíonn féiniúlacht chultúrtha. Déan an ráiteas sin a phlé agus tagairt agat do chás-staidéar **amháin** ar réigiún Eorpach a bhfuil staidéar déanta agat air.

[80m]

20. Bíonn coimhlintí ann idir struchtúir pholaitíochta agus grúpaí cultúir. Déan an ráiteas sin a phlé agus tagairt agat do shamplaí a bhfuil staidéar déanta agat orthu.

[80m]

21. Déan plé ar conas a chuireann daoine a gcultúr agus a bhféiniúlacht in iúl sa ghnáthshaol.

[80m]

An t-Atmaisféir/Comhshaol na n-Aigéan

22. Tabhair cuntas míniúcháin ar aeráid dhomhanda **amháin** a bhfuil staidéar déanta agat uirthi.

[80m]

23. Mínigh cén fáth a bhfuil an-éagsúlacht teochta ar dhromchla an domhain.

[80m]

24. Imríonn an aeráid tionchar ar fhorbairt eacnamaíochta. Déan an ráiteas sin a phlé agus tagairt agat do shamplaí a bhfuil staidéar déanta agat orthu.

[80m]

Leathanach Bán