



Coimisiún na Scrúduithe Stáit

SCRÚDÚ NA hARDTEISTIMÉIREACHTA 2003

TÍREOLAÍOCHT – ARDLEIBHÉAL

DÉ LUAIN, 9 MEITHEAMH, – TRÁTHNÓNA 1.30 GO DTÍ 4.50

Freagair **ceithre** cheist, is é sin, Ceist 1, Ceist 5 agus dhá cheist eile as Roinn B (ceisteanna 2, 3 agus 4).

I gcás freagraí a mbíonn plé iontu, is fearr go mór trácht go mion ar thrí nó ar cheithre ghné den phríomhthéama, seachas trácht go ginearálta ar mhórán pointí.

**DEIMHNIGH LE DO THOIL GO BHFUIL LÉARSCÁIL SHUIRBHÉIREACHT
ORDANÁIS AGUS AERFHÓTAGRAF AGAT SULA dTUGANN TÚ FAOIN
bPÁIPÉAR SEO.**

**ROINN A – OBAIR LÉARSCÁILE
Freagair Ceist 1 ina hiomláine**

1. Féach ar an Léarscáil Shuirbhéireacht Ordanáis 1:50,000 agus ar an Eochair Eolais a tugadh duit agus freagair na ceisteanna seo a leanas:
- (a) Ba mhór an tionchar a bhí ag Abhainn na Bearú ar fhorbairt lonnaithe dhaonna sa limistéar atá clúdaithe ag an Léarscáil Shuirbhéireacht Ordanáis.
- Trí thagairt a dhéanamh d'fhianaise ón léarscáil **amháin**, pléigh **trí** bhealach a raibh a leithéid de thionchar ag an abhainn. **(30 marc)**
- (b) “Pointe nódach tábhachtach is ea baile Cheatharlach”.
- Pléigh an ráiteas seo, trí thagairt a dhéanamh d'fhianaise ón léarscáil **amháin**. **(30 marc)**
- (c) Maidir le limistéar na léarscáile ó dheas ó baile Cheatharlach **amháin**, luaigh **trí** chontrárthacht fhollasacha idir an talamh ard ag síneadh siar agus an talamh íseal ag síneadh soir. **(40 marc)**

**ROINN B- TÍREOLAÍOCHT FHSICEACH, SHÓISIALTA AGUS EACNAMAÍOCH
Freagair DHÁ cheist**

2. **TÍREOLAÍOCHT FHSICEACH: freagair 2 (a) nó 2 (b) nó 2 (c) nó 2 (d)**
- (a) **Síonchaitheamh**
- (i) Tabhair cuntas agus mínigh **trí** shampla de síonchaitheamh. Ní mór sampla **amháin** a thabhairt de síonchaitheamh CEIMICEACH AGUS sampla **amháin** a thabhairt de síonchaitheamh MEICNIÚIL. **(75 marc)**
- (ii) Is féidir go mbíonn tionchar ag gníomhaíochtaí daonna ar rátaí síonchaitimh. Mínigh an ráiteas seo maidir le sampla **amháin** a ndearna tú staidéar air. **(25 marc)**
- (b) **Obair Aibhneacha**
- (i) Maidir le CREIMEADH AGUS SIL-LEAGAN mar phróisis,scrúdaigh **trí** bhealach ar mhúnlaigh aibhneacha tírdhreach na hÉireann. **(75 marc)**
- (ii) Is féidir go mbíonn tionchar ag gníomhaíochtaí daonna ar thuilte i ngleannta aibhneacha. Mínigh an ráiteas seo, trí úsáid a bhaint as sampla **amháin** a ndearna tú staidéar air. **(25 marc)**

(c) **Obair na Farraige**

- (i) Scrúdaigh na próisis a mhúnlaíonn **trí** thírghné ar bith atá le fáil ar chósta na hÉireann. (75 marc)
- (ii) Déan trácht ar an tuairim gur féidir le bainistíocht chósta ag daoine in áit amháin fadhbanna a chruthú in áit eile. (25 marc)

(d) **Aeráid agus Athrú Aeráide**

- (i) Mínigh an chaoi a mbíonn tionchar ag an aeráid ar **thrí cinn ar bith** díobh seo a leanas: foirmiú ithreach, fásra, talmhaíocht, turasóireacht. (60 marc)
- (ii) Athrú aeráide atá mar thoradh ar ghníomhaíochtaí daonna níos mó ná riamh. Trí úsáid a bhaint as **dhá** shampla, mínigh an méid atá ar siúl agus mol bealaí a bhféadfaí an t-athrú seo a smachtú nó a chur ar gcúl. (40 marc)

3. **TÍREOLAÍOCHT SHÓISIALTA: Freagair 3(a) nó 3(b) nó 3(c) nó 3(d).**

(a) **Scrúdaigh an t-aerfhótagraf daite de Cheatharlach a tugadh duit.**

- (i) Ar shracléarscáil de cheantar Cheatharlach atá san fhótagraf, marcáil agus lipéadaigh iad seo a leanas:
- Abhainn na Bearú
 - Caisleán
 - Droichead
 - Séipéal Mór agus Reilig
 - Cora
- (20 marc)
- (ii) I gcúlra an aerfhótagraif ar dheis, tá athzónáil le haghaidh forbartha déanta ar an spás fairsing oscailte cois na habhann. Mol úsáid oiriúnach thógála don láthair agus luaigh **trí** chúis le do rogha. I do fhreagra, bain úsáid as fianaise ón aerfhótagraf **amháin**. (40 marc)
- (iii) “Is ionad mór seirbhísí é baile Cheatharlach don réigiún seo.”
- Trí úsáid a bhaint as an aerfhótagraf **agus** as an Léarscáil Shuirbhéireacht Ordanáis **araon**, déan comparáid agus contrárthacht idir na cineálacha fianaise air seo, atá tugtha le fios sa léarscáil agus san fhótagraf. (40 marc)

(b) **Neamhionannas**

I ndomhan an lae inniu tá neamhionannais mhóra maidir le rochtain ar acmhainní agus ar sheirbhísí.

- (i) Trí thagairt a dhéanamh do shamplaí a ndearna tú staidéar orthu, scrúdaigh **trí** cinn de na fáthanna móra neamhionannas a dtagraítear dóibh sa ráiteas thuas. **(75 marc)**
- (ii) Mol bealach arbh fhéidir maolú a dhéanamh ar an éifeacht atá ag ceann **amháin** de na fáthanna a bhfuil plé déanta air i gcuid (i) thuas. **(25 marc)**

(c) **Athrú Daonra**

	Daonra mar atá 2001 (milliúin)	Tuartha 2025 (milliúin)	Tuartha 2050 (milliúin)
An Domhan	6, 137	7,818	9,036
Forbartha	1,193	1,248	1,242
I mBéal Forbartha	4,944	6,570	7,794

Foinse: Oifig Tuairisce Daonra, 2002.

- (i) Scrúdaigh **dhá** chúis atá leis an difríocht maidir le fás tuartha an daonra idir an domhan forbartha agus an domhan i mbéal forbartha. **(60 marc)**
- (ii) Pléigh roinnt de na hiarmhairtí móra atá ag na rátaí fáis tuartha seo don domhan forbartha agus don domhan i mbéal forbartha **araon**. **(40 marc)**

(d) **Tíreolaíocht Uirbeach**

- (i) Bíonn patrúin úsáide talún go minic ag bailte agus ag cathracha i dtíortha forbartha a léiríonn limistéir a dhéanann speisialtóireacht i bhfeidhmeanna áirithe.

Scrúdaigh an ráiteas seo féachaint an bhfuil sé iomchuí i gcás bailte agus cathracha a ndearna tú staidéar orthu faoi **thrí** cheannteideal díobh seo a leanas:

- (a) Cónaitheach
(b) Tionsclaíoch
(c) Tráchtáil
(d) Fóillíocht **(60 marc)**

- (ii) Bíonn fadhbanna móra go minic ag cathracha i dtíortha atá **i mbéal forbartha**. Roghnaigh **ceann amháin** de na fadhbanna seo agus mínigh na fáthanna agus an réiteach araon a d'fhéadfadh a bheith ar an bhfadhb i gcathair **ainmnithe** a ndearna tú staidéar uirthi. **(40 marc)**

4. TÍREOLAÍOCHT EACNAMAÍOCH: Freagair 4(a) nó 4(b) nó 4(c) nó 4(d)

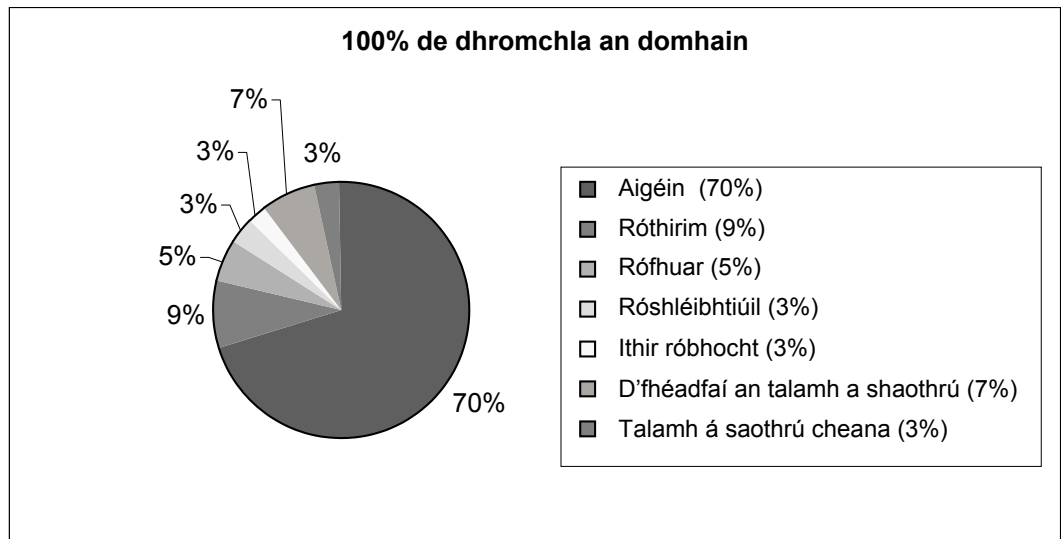
(a) Talmhaíocht

(i) Bíonn tionchar ag na tosca seo a leanas ar fhorbairt na talmhaíochta nua-aimseartha:

- Fad ó na margáí
- Teicneolaíocht agus costais ag méadú
- Beartas poiblí
- Éileamh agus soláthar i dtáirgí feirme
- Costais agus riachtanais an fhórsa oibre

Roghnaigh **dhá** cheann ar bith díobh sin thuas agus scrúdaigh an tionchar atá ag **gach ceann** díobh ar thalmhaíocht nua-aimseartha. (60 marc)

(ii) Scrúdaigh an phíchart thíos a léiríonn oiriúnacht achar iomlán dromchlach an domhain d'úsáid thalmhaíochta.

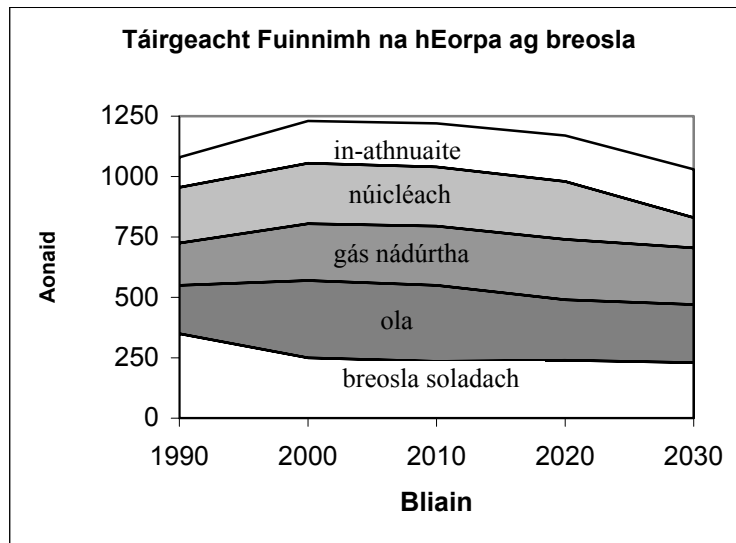


(i) Roghnaigh ceann **amháin** de na catagóirí a thagraíonn do limistéir **nach bhfuil** oiriúnach d'úsáid thalmhaíochta. Agus tagairt á dhéanamh agat do réigiúin ar leith, déan cur síos agus mínigh na tosca a chuireann bac ar fhorbairt thalmhaíochta sna limistéir seo. (20 marc)

(ii) Léiríonn an bharra-chairt *go bhféadfaí* 7% de dhromchla an domhain a thabhairt chun saothraithe, mar aon leis an talamh atá in úsáid cheana. Dá leathnófaí an talmhaíocht, áfach, d'fhéadfaí damáiste a dhéanamh don timpeallacht. Mínigh cúis **amháin** a d'fhéadfadh a bheith leis seo. (20 marc)

(b) Fuinneamh

Scrúdaigh an graf thíos a léiríonn táirgeacht fuinnimh na hEorpa



- (i) Trí thagairt a dhéanamh do na figiúir thuas déan cur síos agus mínigh an t-athrú coibhneasta ina dtábhacht a tháinig ar **thrí** cinn ar bith de na foinsí fuinnimh a úsáideadh i gcaitheamh na tréimhse 1990-2030.

(60 marc)

- (ii) Mínigh na cúiseanna timpeallachta agus eacnamaíocha chun caomhnú fuinnimh mar pholasaí a chur chun cinn.

(40 marc)

(c) Suíomh Tionsclaíoch

- (i) Tá athrú tagtha ar dháileadh thionscal déantúsaíochta le himeacht aimsire. Tá na seantionscail le fáil go dlúth i réigiúin áirithe, agus tá na tionscail nua níos scaipthe.

Scrúdaigh an ráiteas seo, agus tagairt á dhéanamh do shamplaí oiriúnacha.

(60 marc)

- (ii) Mínigh **dhá** bhealach a bhféadfaidh tionchar a bheith ag tionsclaíocht déantúsaíochta ar cháilíocht na beatha ag daoine a chónaíonn in aice láithreach.

(40 marc)

(d) Obair Allamuigh

Trí thagairt a dhéanamh do chleachtadh **AR BITH** in obair allamuigh sa tíreolaíocht atá críochnaithe agat:

- (i) Tabhair teideal agus aidhmeanna na hoibre allamuigh.

(10 marc)

- (ii) Mínigh an chaoi ar réitigh tú don obair allamuigh.

(20 marc)

- (iii) Déan cur síos ar an gcaoi ar bhailigh tú agus a ndearna tú taifeadadh ar shonraí.

(30 marc)

- (iv) Luaigh na príomhthorthaí agus rianaigh na conclúidí ar do chuid oibre

(30 marc)

- (v) Déan cur síos achomair ar ghné **amháin** de do chuid torthaí ba chóir a fhiosrú tuilleadh, dar leat.

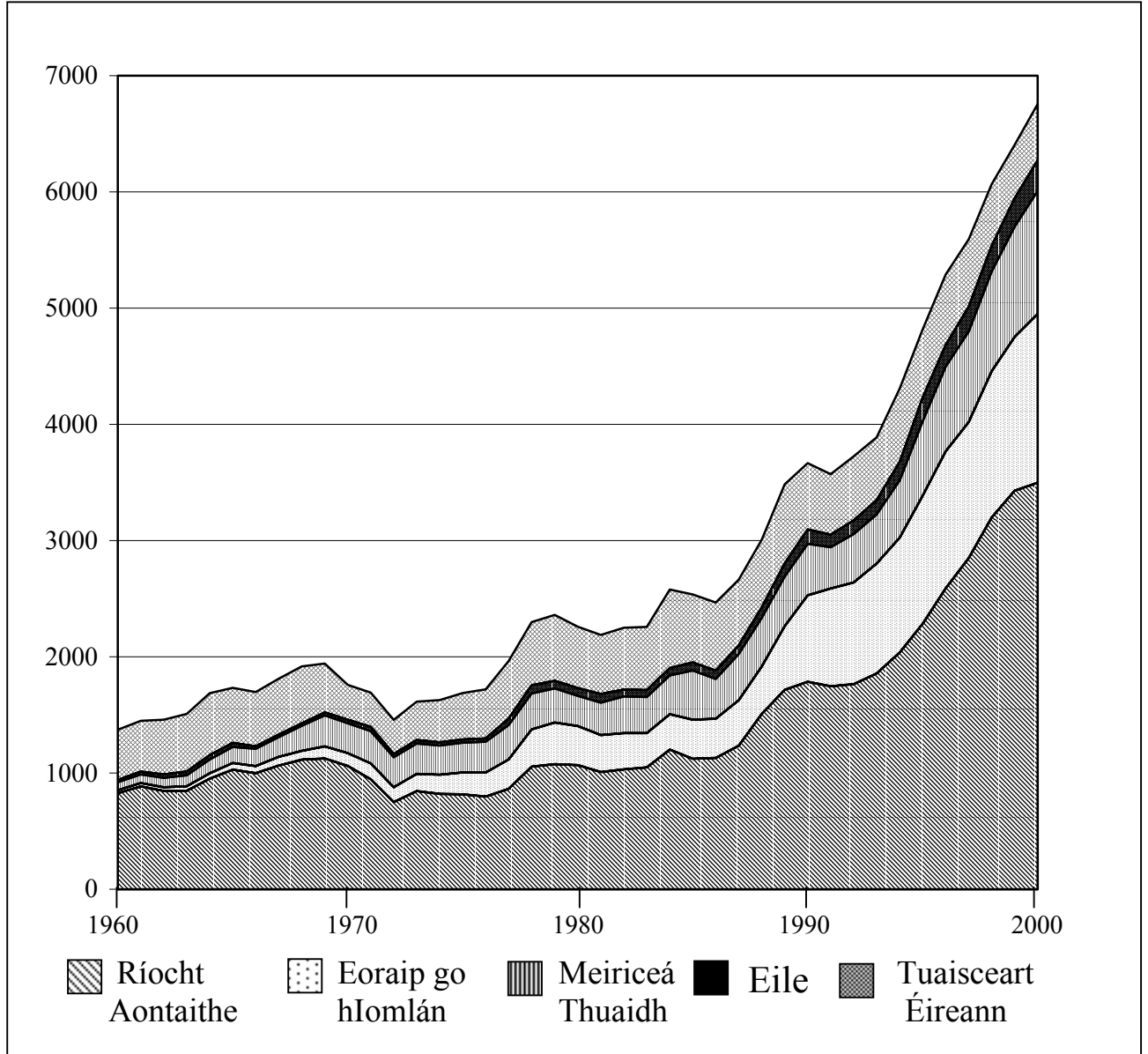
(10 marc)

ROINN C
Freagair Ceist 5

5. TÍREOLAÍOCHT RÉIGIÚNACH: Freagair 5(a) nó 5(b) nó 5(c) nó 5(d).

(a) Tionscal Turasóireachta na hÉireann

Cuairteanna ar Phoblacht na hÉireann (1960-2000)



- (i) Trí úsáid a bhaint as an eolas ar an ngraf thuas, chomh maith le samplaí a ndearna tú staidéar orthu, mínigh na fáthanna ar tháinig fás tapa ar thionscal turasóireachta na hÉireann sa tréimhse 1960-2000. (60 marc)
- (ii) Is gníomhaíocht shéasúrtha an turasóireacht i gcónaí in Éirinn. Mol bealaí a bhféadfaí an turasóireacht a shíneadh níos cothroime i gcaitheamh na bliana ar fad. (20 marc)
- (iii) Bhí fadhbanna móra ag an turasóireacht in Éirinn le blianta beaga. Mínigh an fáth agus na héifeachtaí araon ag ceann amháin de na fadhbanna seo. (20 marc)

(b) Talmhaíocht

- (i) Trí thagairt a dhéanamh do **DHÁ** thír Eorpacha a ndearna tú staidéar orthu, déan comparáid agus contrárthacht idir na tosca a raibh tionchar acu ar fhorbairt na talmhaíochta. **(75 marc)**
- (ii) Tá éifeachtaí dearfacha **agus** diúltacha araon ag an talmhaíocht nua-aimseartha ar an timpeallacht. Pléigh an ráiteas seo agus tagairt á dhéanamh agat do shamplaí in Éirinn agus/nó i dtíortha Eorpacha eile a ndearna tú staidéar orthu. **(25 marc)**

(c) Ról na Mara

Pléigh tionchar na mara ar fhorbairt na hÉireann **nó** ar thír **amháin i gCríoch Lochlann.** **(100 marc)**

(d) Cineálacha Réigiún

Léiríonn mórán tíortha in Iarthar na hEorpa éagsúlachtaí suntasacha réigiúnacha. Ina measc sin tá:

- réigiúin chroíláir
- réigiúin imeallacha, tearcfhorbartha go heacnamaíoch.

- (i) Trí thagairt a dhéanamh do thír **amháin** a ndearna tú staidéar uirthi, déan cur síos ar **dhá** thréith shuntasacha de **gach cineál** réigiúin díobh seo. **(75 marc)**
- (ii) Roghnaigh seanréigiún tionsclaíoch **nó** réigiún imeallach, tearcfhorbartha go heacnamaíoch agus mínigh an chaoi ar sáraíodh a chuid fadhbanna **nó** a bhféadfaí iad a shárú. **(25 marc)**