



Coimisiún na Scrúduithe Stáit

SCRÚDÚ NA hARDTEISTIMÉIREACHTA, 2014

INNEALTÓIREACTH – ÁBHAIR AGUS TEICNEOLAÍOCHT

(Gnáthleibhéal – 200 marc)

DÉARDAOIN, 5 MEITHEAMH

MAIDIN 9:30 – 12:00

Freagair **Cheist 1**, **Roinn A** agus **Roinn B**, agus trí cheist eile.

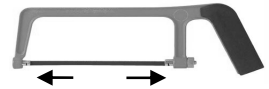
ROINN A – 30 marc

Freagair sé cinn ar bith acu seo a leanas go hachomair:

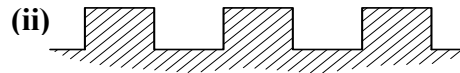
- (a) Luaigh **dhá** réamhchúram sábháilteachta ba chóir a chomhlíonadh nuair a bhítear ag baint úsáide as scrollsábh chun aicrileach a ghearradh.
- (b) Mínigh an téarma *alt buan*.
- (c) Ainmnigh **dhá** fheiste ionchuir ríomhaireachta **ar bith**.
- (d) Ainmnigh an chomhpháirt leictreonach dá seasann an tsiombail a thaispeántar agus mol feidhm **amháin** oiriúnach di.



- (e) Luaigh táirge deiridh **amháin** den phróiseas *múnlaíl shéidte*.
- (f) Ainmnigh an cineál fórsa atá á chur i bhfeidhm ar lann an tsáibh mhiotail a thaispeántar.



- (g) Ainmnigh an **dá** shnáithchruth a thaispeántar.



- (h) Ainmnigh an gléas tomhais a thaispeántar agus mol feidhm **amháin** oiriúnach dó.



ROINN B – 35 marc

Freagair trí cinn ar bith acu seo a leanas:

- (i) Déan cur síos ar na príomhghnéithe oibríochta a bhaineann le **ceann amháin ar bith** acu seo a leanas:



Gunna preabsheama



Meicníocht raicín agus ceapachóra



Teallach prásála.

- (j) Mínigh **dhá cheann ar bith** acu seo a leanas:
Ríomhaire táibléid, Scanóir, Meáin sruthaithe, Printéir 3T.

- (k) Tabhair sainmhíniú ar an téarma *intuargainteacht* agus ainmnigh ábhar atá intuargainte.

- (l) Mínigh **dhá cheann ar bith** acu seo a leanas:

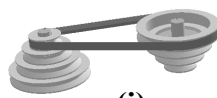
Friotóir solas-spleách (LDR),

Comhbhrúiteoir,

Greanadh,

Cnó féinghlasála.

- (m) Ainmnigh an **dá** chóras tiomána a thaispeántar ag (i) agus (ii).



(i)



(ii)

Ceist 2.

(45 marc)

(a) Ainmnigh ábhar oiriúnach as a bhféadfaí **gach** comhpháirt liostaithe thíos a mhonarú:

(i) Casdruilire,

(ii) Dóire breosla,

(iii) Fráma rothair.



(b) Déan cur síos ar **thrí cinn ar bith** acu seo a leanas:

(i) Amhiarann, (ii) Cruach ghalbhánaithe, (iii) Tuyere, (iv) Stánphláta.

(c) (i) Roghnaigh **dhá cheann ar bith** de na miotail liostaithe thíos agus, i **ngach** cás, ainmnigh foirnéis oiriúnach a úsáidtear i dtáirgeadh an mhiotail:

Iarann teilgte,

Cruach ardcharbóin,

Muciarann.

(ii) Déan cur síos, le cúnamh ó léaráid oiriúnach, ar **cheann amháin** de na foirnéisí a ainmníodh in 2(c)(i) thuas.

(d) Ainmnigh **dhá chóimhiotal ar bith** agus luaigh úsáid oiriúnach do **gach ceann** díobh.

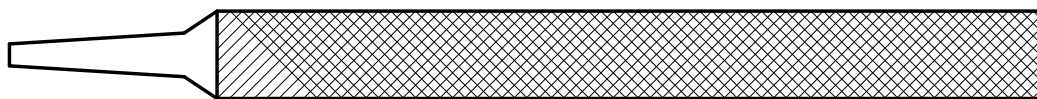
Ceist 3.

(45 marc)

(a) (i) Tabhair breac-chuntas ar **dhá chúis ar bith** a ndéantar teaschóireáil ar mhiotail.

(ii) Ainmnigh **trí** phróiseas teaschóireála is féidir a chur i bhfeidhm ar chruacha.

(b) Déan cur síos ar **dhá** phróiseas teaschóireála a chuirtear i bhfeidhm ar an líomhán a thaispeántar.



(c) Luaigh **dhá** chúis a bhfuil sé riachtanach spéaclaí cosanta a chaitheamh nuair a bhíonn teaschóireáil á déanamh ar mhiotail.



(d) Mínigh **dhá cheann ar bith** de na hairíonna seo a leanas a bhaineann le miotail:

(i) Leaisteachas,

(ii) Righneas,

(iii) Seoltacht.

NÓ

(d) Luaigh **dhá** bhuntáiste a bhaineann le húsáid a bhaint as an róbataic i dtionscal na déantúsaíochta.



Ceist 4.**(45 marc)**

- (a) Déan cur síos, le cúnaimh ó léaráidí oiriúnacha, ar chomhdhéanamh na lasracha ocsaicéitiléine seo a leanas:
- (i) Lasair ocsaídiúcháin, (ii) Lasair neodrach, (iii) Lasair charbraithe.
- (b) Mínigh **trí cinn ar bith** acu seo a leanas de réir mar a bhaineann le táthú:
- (i) Teanntán talmhaithe, (ii) Masc táthúcháin,
(iii) Brúthomhsaire, (iv) Coscaire cúlspaince.
- (c) Freagair **trí cinn ar bith** acu seo a leanas:
- (i) Luaigh **dhá** chúis a bhfuil gá le floc nuair a bhítear ag sádráil.
- (ii) Ainmnigh an scriú meaisín speisialta a thaispeántar agus mol feidhm oiriúnach dó.
- (iii) Liostaigh **dhá** réamhchúram sábháilteachta ba chóir a chomhlíonadh nuair a bhítear ag spot-táthú.
- (iv) Ainmnigh an cineál leicneáin a thaispeántar agus mol feidhm oiriúnach dó.

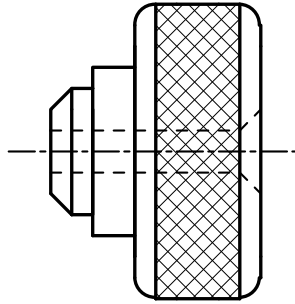
**Ceist 5.****(45 marc)**

- (a)
- A**

B

C
- (i) Ainmnigh na **trí** phróiseas déantúsaíochta earraí plaisteacha a thaispeántar ag **A**, **B** agus **C** thuas.
- (ii) Déan cur síos ar **cheann amháin ar bith** de na próisis déantúsaíochta **A**, **B** nó **C** a thaispeántar thuas agus ainmnigh comhpháirt **amháin** a tháirgtear de thoradh an phróisis seo.
- (b) Déan cur síos, agus léaráid mar chúnaimh agat, ar oibríocht **ceann amháin** acu seo a leanas agus ainmnigh feidhm oiriúnach dó:
- (i) Stialltéitheoir;
(ii) Umar plaisteach tumbhrataithe.
- (c) Luaigh **dhá** réamhchúram sábháilteachta ba cheart a chomhlíonadh nuair a úsáidtear greamacháin chun bileog aicrileach a nascáil.
- (d) Ainmnigh plaisteach a úsáidtear i monarú **gach ceann** acu seo a leanas:
- (i) Inslíú cuasbhalla, (ii) Roth gair.

- (a) Tá an roth a thaispeántar le casadh ar dheil as barra alúmanaim dar trastomhas 30 mm. Déan cur síos ar **thrí cinn ar bith** de na hoibríochtaí deile a úsáidtear chun an roth a dhéanamh.



- (b) Mínigh **thrí cinn ar bith** acu seo a leanas:

(i) Lár dhruilire, (ii) Uillinn sciota, (iii) Foirbeadh, (iv) Uillinn scóipe.

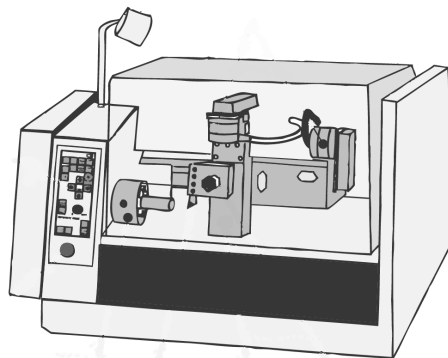
- (c) Taispeántar páirt de dheil láir thall.

- (i) Ainmnigh an pháirt seo den deil.
 (ii) Déan cur síos ar **dhá** oibríocht is féidir a dhéanamh ar dheil láir ag baint úsáide as an bpáirt a thaispeántar.
 (iii) Luaigh réamhchúram sábháilteachta **amháin** ba chóir a chomhlíonadh agus an pháirt seo den deil in úsáid.



NÓ

- (c) Taispeántar deil CNC thíos.

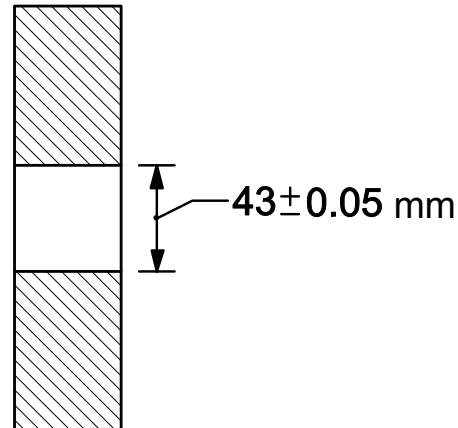


- (i) Cad dó a sheasann na litreacha CNC?
 (ii) Déan cur síos ar bhuntáiste **amháin** atá ag deil CNC ar dheil láimhe.
 (iii) Luaigh réamhchúram sábháilteachta **amháin** ba chóir a chomhlíonadh agus deil CNC á húsáid.

- (a) Déan cur síos, agus sceitsí á n-úsáid agat, ar an difríocht idir glanoiriúint agus bacoiriúint i gcóimeáil seafta agus poill.

- (b) Cuirtear poll i bpláta práis de réir na dtoisí a thaispeántar.


- Luaigh: (i) Trastomhas ainmniúil an poill;
 (ii) Íos-trastomhas an poill;
 (iii) Uas-trastomhas an poill;
 (iv) Lamháltas an poill.



- (c) Ainmnigh **trí cinn ar bith** de na huirlisí í a thaispeántar agus luaigh feidhm **amháin** do **gach** uirlis a ainmnítear.



(i)



(ii)



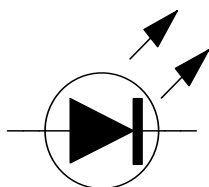
(iii)



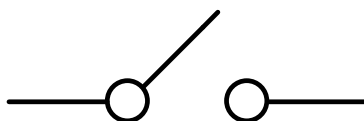
(iv)

NÓ

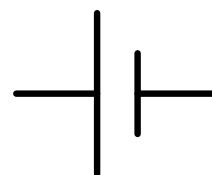
- (c) Ainmnigh **gach ceann** de na chomhpháirteanna leictreonacha dá seasann na siombailí ciorcaid a thaispeántar agus tabhair breac-chuntas ar fheidhm **gach** comhpháirte a ainmnítear.



(i)



(ii)



(iii)

Leathanach Bán

Leathanach Bán