



Coimisiún na Scrúduithe Stáit

SCRÚDÚ NA hARDTEISTIMÉIREACHTA, 2011

INNEALTÓIREACHT – ÁBHAIR AGUS TEICNEOLAÍOCHT

(Gnáthleibhéal – 200 marc)

DÉARDAOIN, 9 MEITHEAMH, MAIDIN 9:30 – 12:00

Freagair **Roinn A agus B de Cheist 1** agus trí cheist eile.

ROINN A – 30 marc

Freagair **sé cinn ar bith** díobh seo a leanas **go hachomair**:

(a) Luaigh **dhá** chúis gur chóir an comhartha sábháilteachta thall a bheith ar taispeáint i seomra Innealtóireachta.



(b) Ainmnigh an cóimhiotal a dhéantar le *copar* agus *sinc*.

(c) Luaigh cúis **amháin** a n-úsáidtear druilire leacaithe.

(d) Ainmnigh snáthchruth scriú **amháin** agus mol feidhm dó.

(e) Mol feidhm oiriúnach don lasc *scoráin* a thaispeántar.



(f) Cad is *iarann galbhánaithe* ann?

(g) Sainaithin **dhá** bhuntáiste a bhaineann le Monarú Ríomhchuidithe (CAM) i ndearadh táirge.

(h) Ainmnigh an mheicníocht ghiair a thaispeántar agus luaigh cúis **amháin** lena húsáid.



ROINN B – 35 marc

Freagair **trí cinn ar bith** díobh seo a leanas:

(i) Déan cur síos ar phríomhghnéithe oibriúcháin **ceann ar bith** díobh seo a leanas:

Raicín agus ceapachóir,

Micriméadar,

Cúlstoc deile.

(j) Mínigh **dhá cheann ar bith** díobh seo a leanas maidir le ríomhairí:

Nasc gan sreang,

Eochair USB,

Cárta grafaice,

Físchomhdháil.

(k) Sainmhíneigh *leaisteachas* maidir le hairíonna miotal agus luaigh sampla **amháin** ina bhfuil gá le hairí an leaisteachais.

(l) Mínigh **dhá cheann ar bith** díobh seo a leanas:


Greanadh,

Clár Ciorcad Priontáilte (PCB),

Uirlis dípháirtiúcháin,

Laicearú.

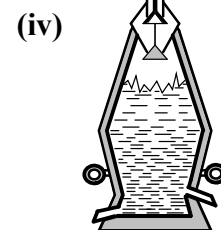
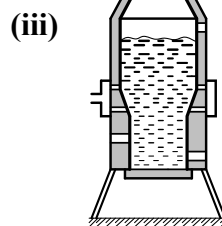
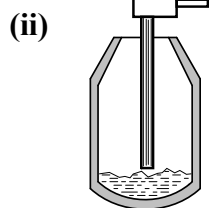
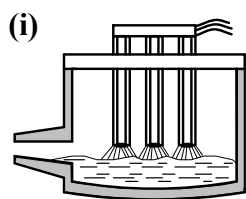
(m) Ainmnigh an uirlis ghearrtha a thaispeántar agus mínigh an fheidhm atá aici.



Ceist 2.

(45 marc)

- (a) Ainmnigh agus luaigh feidhmeanna **trí cinn ar bith** de na foirnéisí seo a leanas.



- (b) Déan cur síos ar **thrí cinn ar bith** díobh seo a leanas:

(i) Cruach ardcharbóin (ii) Amh-mhiotal, (iii) Stánphláta, (iv) Tuyere.

- (c) Ainmnigh comhbhaill oiriúnacha a dhéantar as **trí cinn ar bith** de na miotail seo a leanas:

(i) Alúmanam, (ii) Iarann teilgte, (iii) Luaidhe, (iv) Cruach ardluais.

- (d) Luaigh **dhá** bhuntáiste a ghabhann le cóimhiotal a úsáid.

Ceist 3.

(45 marc)

- (a) Déan cur síos ar **dhá cheann ar bith** de na próisis chóireála teasa seo a leanas:

(i) Cruachan, (ii) Ainéalú, (iii) Faghairt.

- (b) (i) Tabhair cúis **amháin** atá leis an damáiste do bhior na lárphritile a thaispeántar ag A.



- (ii) Mínigh modh **amháin** chun damáiste do bhior lárphritile a chosc.

- (c) Luaigh **dhá** réamhchúram sábháilteachta is cóir a chomhlíonadh agus uisce á úsáid le miotal a fhuarú le linn cóireáil teasa.


- (d) Déan cur síos ar **dhá cheann ar bith** de na hairíonna ábhair seo a leanas:

(i) Brisce, (ii) Intuargainteacht, (iii) Seoltacht.

NÓ

- (d) (i) Mínigh an téarma teicneolaíochta san innealtóireacht *neomataic*.

(ii) Luaigh feidhm **amháin** atá ag ciorcad neomataice.



Ceist 4.

(45 marc)



(a) Maidir leis an lasair ocsaicéitiléine:

(i) Ainmnigh na **trí** chineál lasrach is féidir a dhéanamh.

(ii) Luaigh na comhréireanna den ocsaigin agus den aicéitiléin is gá do **gach** lasair díobh.

(b) Freagair **trí cinn ar bith** díobh seo a leanas:



(i) Luaigh **dhá** bhuntáiste **ar bith** a bhaineann le preabsheam a úsáid agus miotal leatháin á cheangal.

(ii) Cén fáth nach bhfuil an stuatháthú láimhe miotail oiriúnach chun miotal leatháin tanaí a cheangal?

(iii) Luaigh **dhá** réamhchúram sábháilteachta **ar bith** is gá a chomhlíonadh nuair a úsáidtear greamacháin chun aicrileach a nascáil.

(iv) Tabhair breac-chuntas ar na difríochtaí idir a dá chnó **A** agus **B** a thaispeántar thíos.



A



B

(c) Déan cur síos ar **thrí cinn ar bith** de na téarmaí seo a leanas maidir le bogshádráil:

(i) Ocsaídí, (ii) Flosc neamhghníomhach, (iii) Stánú, (iv) Glan go ceimiceach.

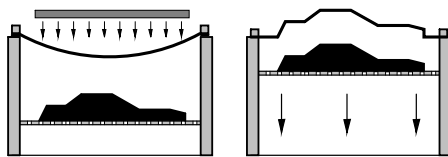
(d) Ní mór spéaclaí cosanta dorcha a chaitheamh nuair a bhítear ag prásáil. Luaigh **dhá** chúis leis sin.



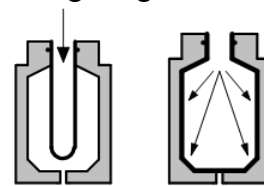
Ceist 5.

(45 marc)

(a) Maidir leis na próisis mhonaraithe plaistigh a thaispeántar ag **A** agus **B**:



A



B

(i) Ainmnigh **gach** próiseas díobh;

(ii) Déan cur síos ar na príomhdhifríochtaí atá idir próiseas **A** agus próiseas **B**;

(iii) Luaigh táirge oiriúnach do **gach** próiseas díobh.

(b) Luaigh **dhá** réamhchúram sábháilteachta is cóir a chomhlíonadh agus ábhair phlaisteacha á ndiúscairt.

(c) Mínigh, maidir le monarú plaistigh, **trí cinn ar bith** díobh seo a leanas:

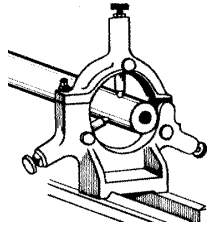
(i) Lannú, (ii) Greamacháin, (iii) Stialltéamh, (iv) Tumbhratú.

(d) Ainmnigh **dhá** chineál **ar bith** d'ábhair theirmeaplaisteacha.

- (a) Ainmnigh **trí cinn ar bith** de na modhanna coinneála don obair dheile a thaispeántar.



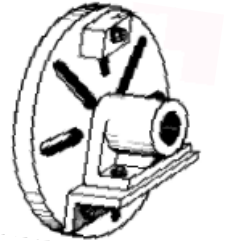
(i)



(ii)

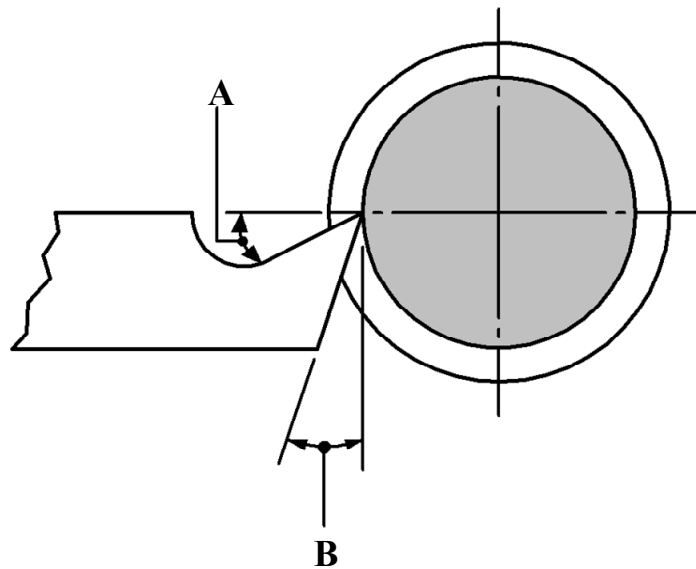


(iii)



(iv)

- (b) (i) Luaigh **dhá** chúis le sreabháin ghearrtha a úsáid agus meaisíniú ar siúl.
- (ii) Luaigh réamhchúram sábháilteachta **amháin** is cóir a chomhlíonadh agus sreabháin ghearrtha á n-úsáid ar an deil láir.
- (c) (i) Ainmnigh na huillinneacha ar an uirlis ghearrtha a bhfuil na lipéid **A** agus **B** orthu.
- (ii) Luaigh feidhm ceann **amháin ar bith** de na huillinneacha **A** agus **B** ar an uirlis ghearrtha.



NÓ

- (c) Míneigh **trí cinn ar bith** de na téarmaí seo a leanas a bhaineann le meaisíniú faoi Ríomhrialú Uimhriúil (CNC):

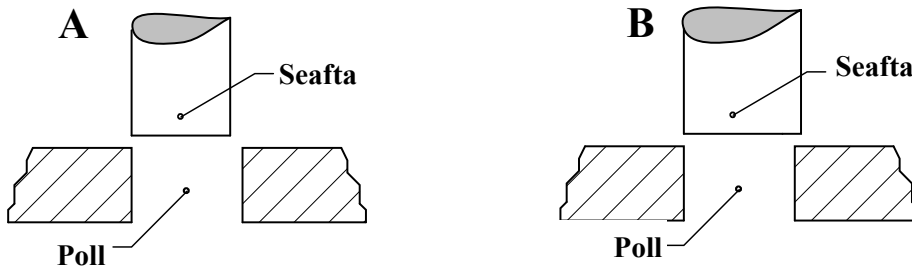
(i) CAD

(ii) Ionsamhlú,

(iii) G-chóid,

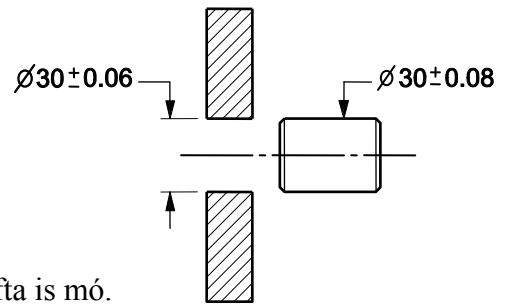
(iv) Ríomhchlár CNC.

- (a) Ainmnigh na cineálacha oiriúintí a thaispeántar ag **A** agus **B** agus déan cur síos orthu.



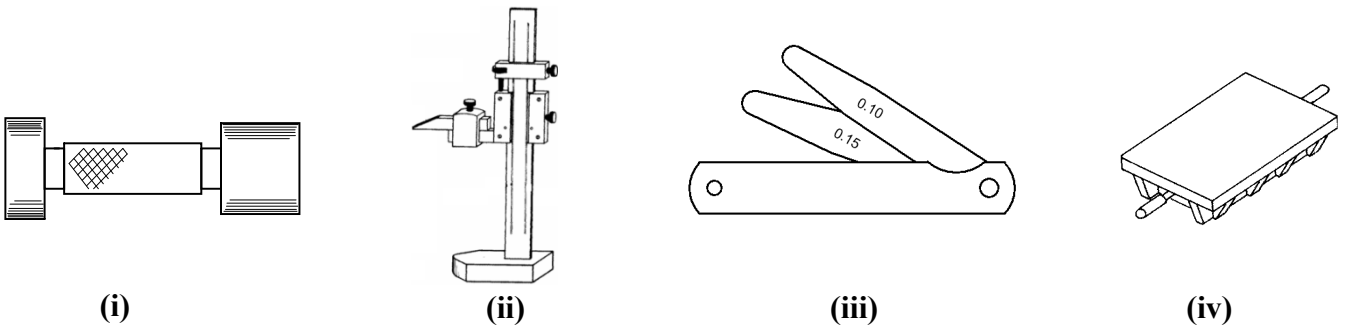
- (b) Maidir le **Fíor 1** a thaispeántar thall, luaigh:

- (i) Trastomhas ainmniúil an phoill;
- (ii) Íos-trastomhas an phoill;
- (iii) Uas-trastomhas an tseafta;
- (iv) An cineál oiriúna a bheidh mar thoradh ar chóimeáil an phoill is lú agus an tseafta is mó.



Fíor 1

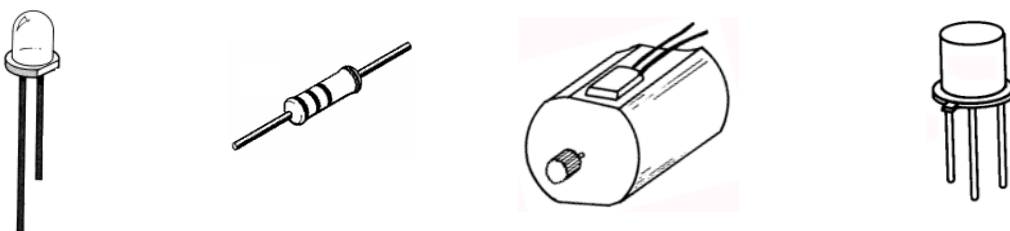
- (c) Ainmnigh **trí cinn ar bith** de na huirlisí a thaispeántar thíos agus luaigh feidhm **amháin** atá ag gach ceann díobh.



NÓ

- (c) Tarraing na siombailí ciorcaid do **thrí cinn ar bith** de na comhbhaill leictreonacha seo a leanas:

- (i) LED, (ii) Friotóir fosaithe, (iii) Mótar, (iv) Trasraitheoir.



Leathanach Bán

Leathanach Bán