



2009. M72T

Coimisiún na Scrúduithe Stáit

SCRÚDÚ NA hARDTEISTIMÉIREACHTA, 2009

INNEALTÓIREACTH – ÁBHAIR AGUS TEICNEOLAÍOCHT

(Gnáthleibhéal – 200 marc)

DÉARDAOÍN 4 MEITHEAMH, TRÁTHNÓNA 2:00 – 4:30

Freagair **Roinn A** agus **Roinn B** de **Cheist 1** agus trí cheist eile.

THALL→

ROINN A – 30 marc

Freagair **sé cinn ar bith** díobh seo a leanas **go hachomair**:

(a) Luaigh **dhá** réamhchúram sábháilteachta is cóir a chomhlíonadh agus greamacháin á n-úsáid chun ábhair a cheangal.

(b) Ainmnigh an chomhpháirt leictreonach a seasann an tsiombail a thaispeántar dó.



(c) Luaigh cúis **amháin** le treoirpholl a druileáil.

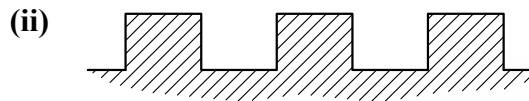
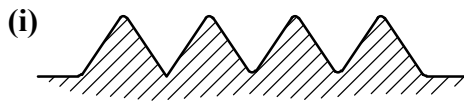


(d) Sainaithin an uirlis ghearrtha a thaispeántar.


(e) Luaigh sampla **amháin** den úsáid a bhaintear as tomhsaire plocóide.

(f) Luaigh **dhá** bhuntáiste a bhaineann le húsáid Dearadh Ríomhchuidithe (CAD).

(g) Sainaithin **gach** ceann de na foirmeacha snáithe a thaispeántar:



(h) Luaigh feidhm **amháin** atá ag an meicníocht raicín agus cheapachóra a thaispeántar.



ROINN B – 35 marc

Freagair **trí cinn ar bith** díobh seo a leanas:

(i) Déan cur síos ar fheidhm agus ar oibriúchán **ceann amháin ar bith** díobh seo a leanas:

Iarann sádrála leictreach, Raca agus pinniún, Umar tumbhrataithe plaistigh.

(j) Mínigh **dhá cheann ar bith** de na téarmaí ríomhaireachta seo:

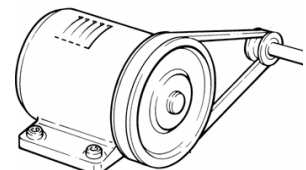
Crua-earraí, Brabhsálaí, Víreas, LAP (CPU).

(k) Déan cur síos, le cabhair léaráide, ar an difríocht idir *fórsa comhbhrúiteach* agus *fórsa inteannta*.

(l) Mínigh **dhá cheann ar bith** de na téarmaí seo a leanas:

Cnó féinghlasála, Inslitheoir leictreach, Beibhealghiar, Cearm agus leantóir.

(m) Ainmnigh an córas tiomána a thaispeántar agus luaigh feidhm oiriúnach dó.

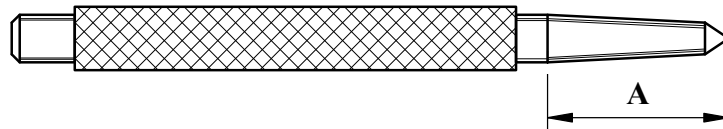


Ceist 2.**(45 marc)**

- (a) (i) Ainmnigh na foirnéisí a úsáidtear chun **dhá cheann ar bith** de na hábhair seo a leanas a tháirgeadh:
Muciarann, Cruach ardcharbóin, Iarann teilgte.
- (ii) Bain úsáid as léaráid oiriúnach agus déan cur síos ar cheann **amháin** de na foirnéisí atá sainaitheanta ag **2(a)(i)** thuas.
- (b) (i) Mínigh an téarma *cóimhiotal*.
- (ii) Sainithin **dhá** chóimhiotal ón liosta seo a leanas:
Sádar, Copar, Prás, Sinc.
- (c) Roghnaigh **trí** mhiotal **ar bith** ón liosta thíos agus luaigh feidhm oiriúnach **amháin** do **gach** ceann díobh:
Tungstan, Alúmanam, Luaidhe, Cruach dhosmálta.
- (d) Cén difríocht atá idir miotal *feiriúil* agus miotal *neamhfheiriúil*?

Ceist 3.**(45 marc)**

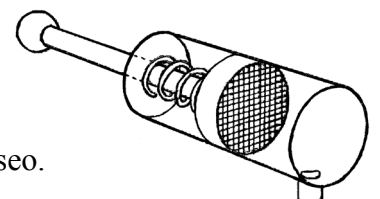
- (a) Mínigh **dhá cheann ar bith** de na próisis seo a leanas:
(i) Ainéaladh, (ii) Screamhchruachan, (iii) Saotharchruachan.
- (b) Déan cur síos ar conas a dhéantar cuid **A** den lárphritil a thaispeántar, a chruachan agus a fhaghairt.



- (c) Tabhair breac-chuntas ar **dhá** réamhchúram sábháilteachta is cóir a chomhlíonadh agus pointe lárphritile á chruachan agus á fhaghairt.
- (d) Déan cur síos ar **dhá cheann ar bith** de na hairíonna miotail seo a leanas:
(i) Intuargainteach, (ii) Leaisteachas, (iii) Brisce.

NÓ

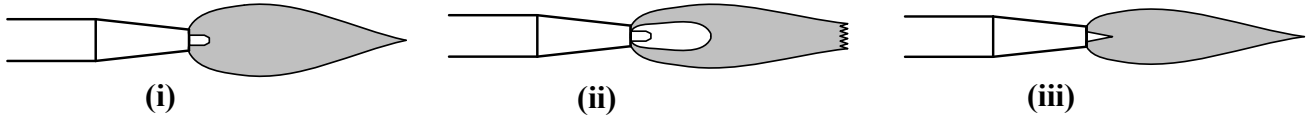
- (d) (i) Sainithin an chomhpháirt neomatach a thaispeántar.
- (ii) Déan cur síos ar fheidhm oiriúnach don chomhpháirt neomatach seo.



Ceist 4.

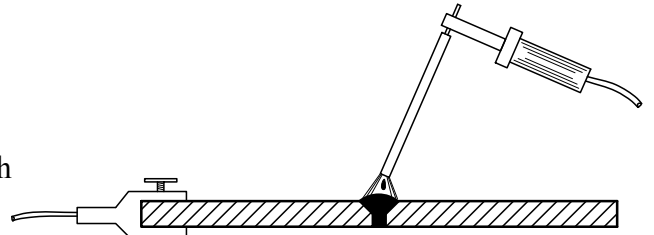
(45 marc)

- (a) Ainmnigh na **trí** chineál lasair ocsaicéitiléine a thaispeántar:



- (b) Freagair **trí cinn ar bith** díobh seo a leanas maidir le **stuatháthú miotail de láimh**:

- (i) Conas a dhéantar an teas don táthú?
(ii) Cén fáth a mbíonn gá le flosc ag an siúnta?
(iii) Cén fheidhm atá ag an teanntán talmhaithe?
(iv) Luaigh réamhchúram sábháilteachta oiriúnach **amháin** ba chóir a chomhlíonadh.



- (c) Roghnaigh **trí cinn ar bith** de na hábhair seo a leanas agus sainaithean an próiseas atá le húsáid chun siúnta buan a dhéanamh i **ngach** cás.

- (i) Stánphláta, (ii) Pláta bogchruach, (iii) Aicrileach, (iv) Alúmanam tanaí.

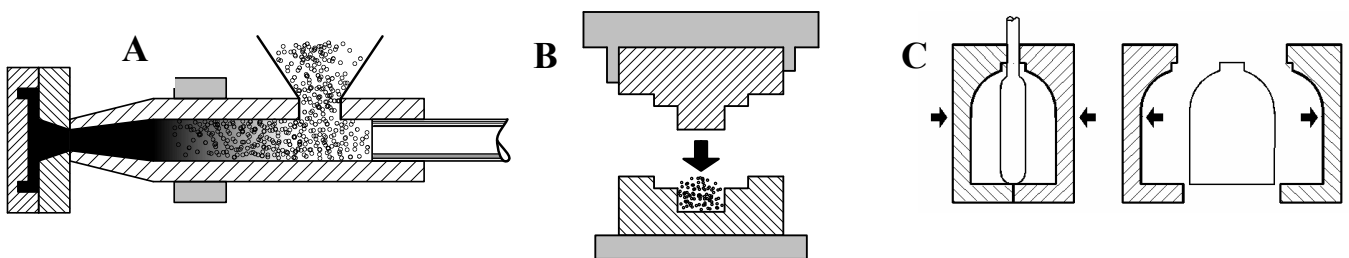
- (d) Tabhair **dhá** chúis nach mór spéaclaí cosanta a chaitheamh nuair a bhítear ag táthú le gás.



Ceist 5.

(45 marc)

- (a) (i) Ainmnigh **dhá cheann ar bith** de na próisis mhonaraithe plaisteach a thaispeántar.



- (ii) Déan cur síos ar **cheann amháin ar bith** de na próisis mhonaraithe plaisteach atá ainmnithe in **5(a)(i)** agus luaigh táirge oiriúnach a dhéanfaí ar an gcaoi sin.

- (b) Sainaithean **dhá** réamhchúram sábháilteachta is cóir a chomhlíonadh agus bileog the phlaisteach á foirmiú.

- (c) Mínigh an bhundifríocht idir *teirmeaplaisteach* agus *plaisteach teirmithéachtach*.

- (d) Ainmnigh feidhm thionsclaíoch do **gach ceann** díobh seo a leanas:

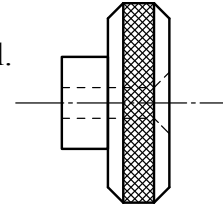
- (i) Níolón, (ii) Polaistirín.

Ceist 6.

(45 marc)

- (a) Tá an roth i gcomhair mionsamhail de charr le deileadh ar lárdehil.

Ainmnigh **trí cinn** de na hoibriúcháin deilte a úsáidtear chun roth an chairr a dhéanamh.



- (b) (i) Déan cur síos ar **cheann amháin** de na modhanna coinnithe oibre seo a leanas a úsáidtear ar an deil:

Crágán neamhspleách ceithre ghiall, Daingnitheoir fosaithe, Pláta fásála.

- (ii) Luaigh réamhchúram sábháilteachta oiriúnach ba chóir a chomhlíonadh sa mhodh coinnithe oibre a roghnaíodh in **6(b)(i)**.

- (c) Maidir le meaisíníú, déan cur síos ar **dhá cheann ar bith** de na téarmaí seo a leanas:

(i) Uillinn sciota, (ii) Fuarthán, (iii) Cúlstoc.

NÓ

- (c) Mínigh **dhá cheann ar bith** de na téarmaí deile CNC seo a leanas:

(i) Lasc shábháilteachta, (ii) G-chód, (iii) CAD/CAM.

Ceist 7.

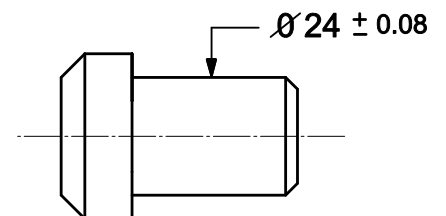
(45 marc)

- (a) Déan cur síos, le cabhair sceitsí, ar **dhá cheann ar bith** de na cineálacha oiriúna i gcóimeáil seafta agus poill:

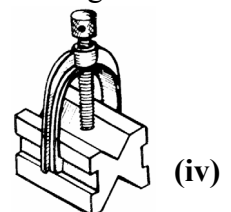
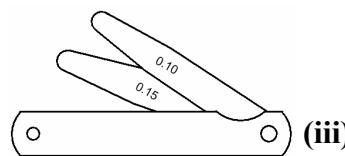
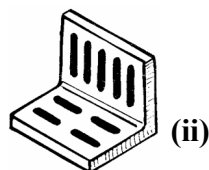
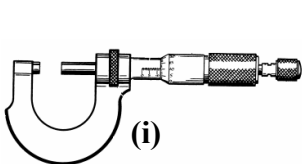
(i) Glanoiriúint, (ii) Leathoiriúint, (iii) Bacoiriúint.

- (b) Déantar seafta práis a mheaisíníú de réir na dtoisí a thaispeántar.

Luaigh: (i) trastomhas ainmniúil an tseafta; (ii) uas-trastomhas an tseafta; (iii) íos-trastomhas an tseafta; (iv) lamháltas an tseafta.

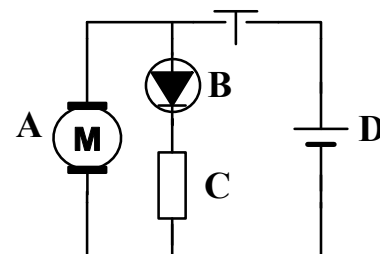


- (c) Ainmnigh **trí cinn ar bith** de na huirlisí a thaispeántar agus luaigh feidhm **amháin** do gach ceann:



NÓ

- (c) Sainaithin **trí cinn ar bith** de na siombailí leictreonacha a thaispeántar sa léaráid chiorcaid.



Leathanach Bán

Leathanach Bán

Leathanach Bán