



2007. M72T

Coimisiún na Scrúduithe Stáit

SCRÚDÚ NA hARDTEISTIMÉIREACHTA, 2007

INNEALTÓIREACHT – ÁBHAIR AGUS TEICNEOLAÍOCHT

(Gnáthleibhéal – 200 marc)

Dé hAoine, 22 Meitheamh, MAIDIN 9.30 – 12.00

Freagair **ROINN A** agus **ROINN B** de **Cheist 1** agus trí cheist eile.

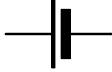

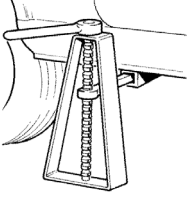

THALL→

1.

(65 marc)

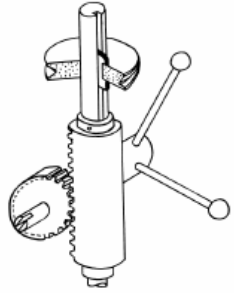
ROINN A - 30 marc

Freagair sé cinn ar bith díobh seo a leanas go hachomair:

- (a) Luaigh **dhá** réamhchúram sábháilteachta is cóir a ghlacadh agus meaisín druileála piléir á úsáid.
- (b) Ainmnigh an chompháirt leictreonach a seasann an tsiombail a thaispeántar di. 
- (c) Mínigh an téarma *cnó féinghlasála*. 
- (d) Luaigh an cuspóir atá ag *cóimhiotal*. 
- (e) Mínigh an téarma *siúnta sealadach*.
- (f) Ainmnigh snáithchruth oiriúnach don seac cairr a thaispeántar.
- (g) Ainmnigh gléas crua-earraí ríomhaireachta **amháin** agus luaigh cé acu gléas ionchuir nó gléas aschuir atá ann.
- (h) Sainaithe an córas gearanna a thaispeántar agus luaigh úsáid oiriúnach dó. 

ROINN B - 35 marc

Freagair trí cinn ar bith díobh seo a leanas:

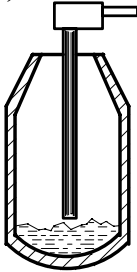
- (i) Déan cur síos ar fheidhm agus ar oibriúchán **ceann amháin** díobh seo a leanas:
Pláta dromchla, Cúlstoc, Stialléitheoir.
- (j) Mínigh **dhá cheann ar bith** de na téarmaí ríomhaireachta seo:
Bog-earraí, Maide cuimhne, CDRW, Insamhladh ar ríomhaire.
- (k) Sainmhínigh seoltacht maidir le hairíonna miotal agus luaigh sampla **amháin** de dhea-sheoltóir.
- (l) Mínigh **dhá cheann ar bith** de na téarmaí:
Garda crágáin, Greanadh, Tomhsaire doimhneachta, Bís Láimhe.
- (m) Sainaithe an mheicníocht a thaispeántar agus déan cur síos ar an gcaoi a n-oibríonn sí. 

2.


(45 marc)

- (a) Ainmnigh **dhá cheann ar bith** de na foirnéisí a thaispeántar agus sonraigh an miotal a tháirgtear iontu.


(i)



(ii)



(iii)



- (b) Luaigh na hábhair a úsáidtear chun **trí cinn ar bith** díobh seo a leanas a mhonarú:

(i) Cannaí do dheochanna boga, (ii) Líomháin láimhe, (iii) Sreang leictreach, (iv) Fleascadh dín.

- (c) Ainmnigh na miotail a úsáidtear chun **dhá cheann ar bith** de na cóimhiotail seo a leanas a tháirgeadh:

(i) Prás,

(ii) Sádar bog,

(iii) Cré-umha.

- (d) Mínigh an téarma *miotail neamhfheiriúil*.

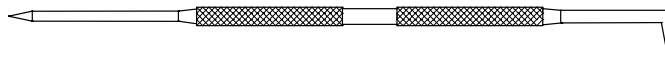
3.

(45 marc)

- (a) Mínigh **ceann amháin** de na próisis chóireála teasa seo a leanas:

(i) Ainéaladh, (ii) Screamhchruachan.

- (b) Déan cur síos ar an gcaoi a ndéantar bior an scríobaire thíos a chruachan agus a fhaghairt.



- (c) Mínigh **dhá cheann ar bith** de na hairíonna miotail seo a leanas:

(i) Brisce,

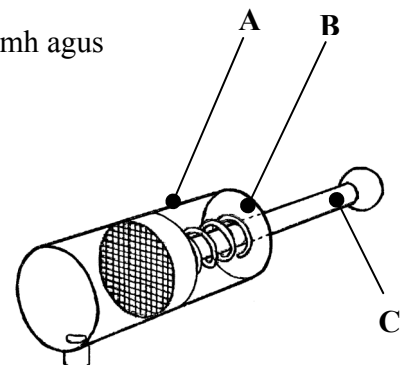
(ii) Insínteacht,

(iii) Intuargainteacht.

- (d) Luaigh **dhá cheann ar bith** de na héadaí cosanta is cóir a chaitheamh agus miotail á gcóireáil le teas.

NÓ

- (d) Ainmnigh **dhá cheann ar bith** de na páirteanna A, B agus C a thaispeántar ar an sorcóir neomatach.



4.

(45 marc)

(a) (i) Ainmnigh an **dá** ghás is mó a úsáidtear agus gástáthú á dhéanamh.

(ii) Déan cur síos, le cúnamh ó léaráid oiriúnach, ar **cheann amháin** de na lasracha a tháirgtear agus gástáthú ar siúl.

(b) Míniú **trí cinn ar bith** díobh seo a leanas maidir le táthú:

(i) Ocsaídí, (ii) Coscaire cúlspaince, (iii) Brúthomhsaire, (iv) Tóirse táthúcháin.

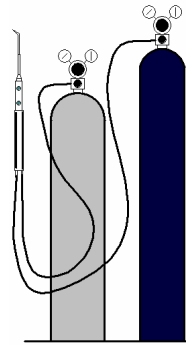
(c) Luaigh modh oiriúnach chun siúnta buan a dhéanamh, i **ngach ceann** de na hábhair seo a leanas:

(i) Pláta bogchruach tiubh;

(ii) Bileog aicrileach;

(iii) Bileog chopair thanaí.

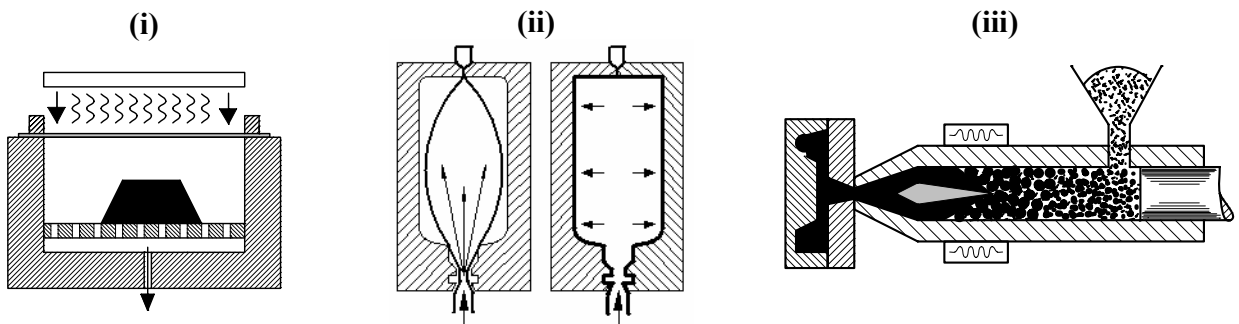
(d) Luaigh **dhá** réamhchúram sábháilteachta is cóir a ghlacadh agus comhpháirteanna leictreonacha á sádráil.



5.

(45 marc)

(a) Ainmnigh na **trí** phróiseas i monarú plaisteach a thaispeántar thíos:



(b) Déan cur síos ar **cheann amháin** de na próisis i monarú plaisteach a thaispeántar in (a) agus ainmnigh comhpháirt **amháin** a tháirgtear.

(c) Míniú **dhá cheann ar bith** de na téarmaí seo a leanas a úsáidtear i dteicneolaíocht phlaisteach:

(i) Plaisteach teirmithéachtach,

(ii) Lannú,

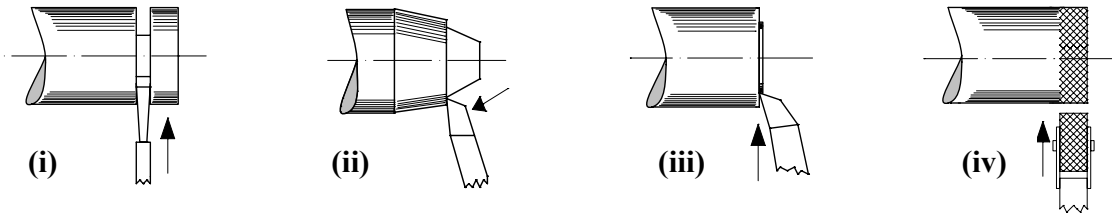
(iii) Teirmeaplaisteach.

(d) Ainmnigh **dhá** réamhchúram sábháilteachta is cóir a ghlacadh agus umar dipeála brataithe plaisteach á úsáid.

6.

(45 marc)

(a) Ainmnigh **trí cinn ar bith** de na hoibríochtaí casta deile a thaispeántar thíos.



(b) Déan cur síos ar **thrí cinn ar bith** de na téarmaí seo a leanas a bhaineann le druileáil:

(i) Poll píolótach, (ii) Poll leacaire, (iii) Poll scóipe, (iv) Poll caoch.

(c) Sceitseáil uirlis ghearrtha deile agus taispeáin **dhá cheann ar bith** de na huillinneacha seo a leanas:

(i) Barrsciotadh, (ii) Scóip thosaigh, (iii) Taobhscóip.

NÓ

(c) Mínigh **dhá cheann ar bith** de na téarmaí teicneolaíocht innealtóireachta seo a leanas:

(i) CAM, (ii) CNC, (iii) CAD.

7.

(45 marc)

(a) I dtaca le teorainneacha agus oiriúintí de, mínigh **dhá cheann ar bith** díobh seo a leanas:

(i) Bacoiriúint, (ii) Glanoiúint, (iii) Lamháltas.

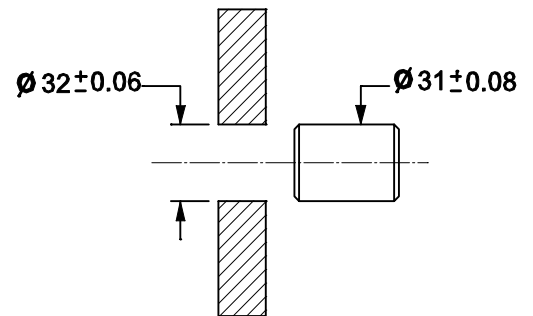
(b) Déantar poll agus seafta de réir na dtoisí a thaispeántar.

Luaigh (i) trastomhas ainmniúil an phoill;

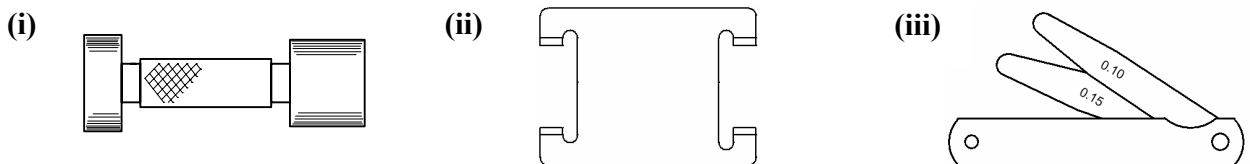
(ii) trastomhas ainmniúil an tseafta;

(iii) íos-trastomhas an phoill;

(iv) uas-trastomhas an tseafta.

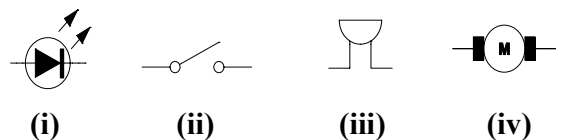


(c) Ainmnigh **dhá cheann ar bith** de na tomhsairí a thaispeántar agus luaigh feidhm a bhaintear astu.



NÓ

(c) Ainmnigh **trí cinn ar bith** de na siombailí leictreonacha a thaispeántar.



LEATHANACH BÁN