



Coimisiún na Scrúduithe Stáit

SCRÚDÚ NA hARDTEISTIMÉIREACHTA, 2005

INNEALTÓIREACTH – ÁBHAIR AGUS TEICNEOLAÍOCHT

(Gnáthleibhéal – 200 marc)

DÉ hAOINE, 24 MEITHEAMH – MAIDIN 9.30 – 12.00

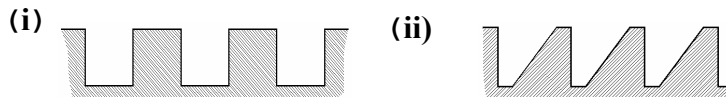
Freagair Ranna A agus B de Cheist 1 agus trí cheist ar bith eile

THALL →

ROINN A – 30 marc

Freagair **go hachomair sé cinn ar bith** díobh seo a leanas:

- (a) Liostaigh **dhá** réamhchúram sábháilteachta ba chóir a ghlacadh agus deil láir á húsáid.
- (b) Ainmnigh an chomhpháirt leictreach a léirítear thall.
- (c) Mínigh an difríocht idir miotal feiriúil agus miotal neamhfheiriúil.
- (d) Ainmnigh ábhar plaisteach atá oiriúnach d’insliú ballachuas.
- (e) Sainaithin an **dá** shnáithchruth a thaispeántar.

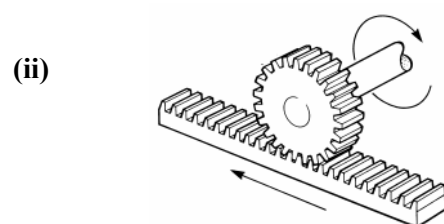
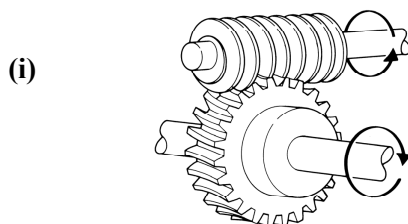


- (f) Ainmnigh **dhá** fheiste aschur ríomhaireachta.
- (g) Mínigh na téarmaí seo a leanas: (i) Poll tapáilmhéide (ii) Poll scóipmhéide.
- (h) Cad is brí leis an téarma Déantúsaíocht Ríomhchuidithe (CAM)?

ROINN B – 35 mharc

Freagair **trí cinn ar bith** díobh seo a leanas:

- (i) Maidir le **ceann ar bith** díobh seo a leanas, déan cur síos ar a fheidhm agus ar a oibriú:
Friotóir inathraithe, Stialltéitheoir, Teirmeastat.
- (j) Mínigh **dhá cheann ar bith** de na téarmaí ríomhaireachta seo:
Diosca digiteach ilúsáide, Aonard deisce, Leathanbanda (=Broadband), Láraonad próiseála.
- (k) Déan cur síos ar na príomhchúiseanna atá le cóimhíotalú agus luaigh sampla **amháin** de chóimhíotal.
- (l) Mínigh **dhá cheann ar bith** de na téarmaí seo a leanas:
Cnó féinghlasála, Friotóir solas-spleách (LDR), Giarbhosca, Druilire leacaithe.
- (m) Ainmnigh an **dá** ghiarchóras a thaispeántar:



2.

(45 mharc)

- (a) Ainmnigh na foirnéisí a úsáidtear chun **trí cinn ar bith** de na miotail seo a leanas a tháirgeadh:
- (i) Cruach Bhog;
 - (ii) Cruach Ardcharbóin;
 - (iii) Muciarann;
 - (iv) Iarann Teilgthe.
- (b) Le cúnaimh léaráide simplí, déan cur síos ar **cheann amháin** de na foirnéisí in (a).
- (c) Luaigh feidhmiúchán oiriúnach do **dhá cheann ar bith** de na miotail seo a leanas:
- (i) Prás;
 - (ii) Luaidhe;
 - (iii) Cré-umha.
- (d) Luaigh **dhá** mhodh chun cruach a chosaint ar chreimeadh.

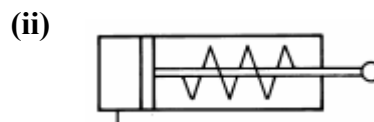
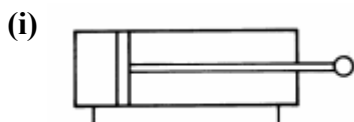
3.

(45 mharc)

- (a) Mínigh an bhrí atá le **ceann amháin ar bith** díobh seo a leanas:
- (i) Saotharchruachan, (ii) Screamhchruachan, (iii) Ainéaladh.
- (b) Ainmnigh na hábhair as a ndéantar **dhá cheann ar bith** díobh seo a leanas:
- (i) Líomhán láimhe, (ii) Casdruilire, (iii) Bior scríúire.
- (c) Déan cur síos ar an gcaoi a ndéantar faobhar gearrtha fuarshiséil:
- (i) a chruachan;
 - (ii) a fhaghairt.
- (d) Mínigh **gach** ceann díobh seo a leanas maidir le hairíonna miotal:
- (i) Intuargainteacht, (ii) Insínteacht.

NÓ

- (d) Ainmnigh **gach** ceann de na sorcóirí neomatacha thíos:



THALL→

4.

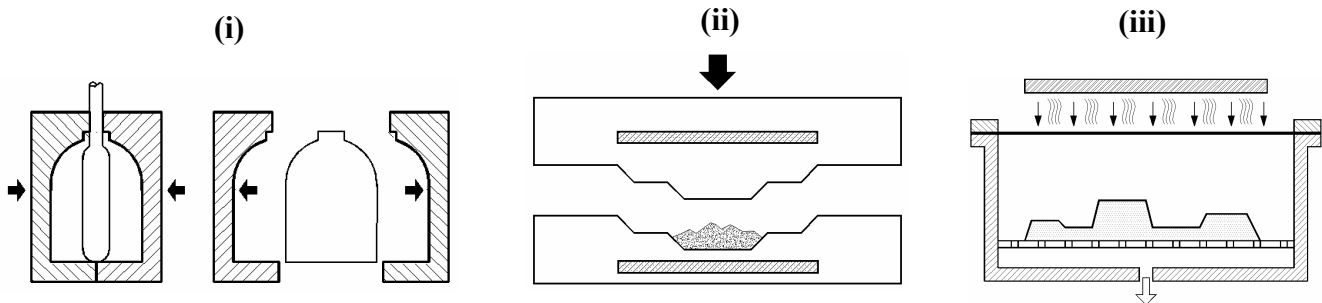
(45 mharc)

- (a) Ainmnigh an cineál lasrach a tháirgtear de thoradh **gach** socrú gáis díobh seo a leanas :
- (i) Cóimheá chothrom idir ocsaigin agus aicéitiléin;
 - (ii) An iomarca aicéitiléine;
 - (iii) An iomarca ocsaigine.
- (b) Luaigh an fhadhm atá ag **trí cinn ar bith** de na téarmaí táthúcháin seo a leanas:
- (i) Flosc, (ii) Slat líonaigh, (iii) Brúthomhsaire, (iv) Gineadóir.
- (c) Déan cur síos ar **trí** chéim atá riachtanach chun a dheimhniú go ndéanfar alt bog-ghuailleadh go cruinn ceart.
- (d) Ní mór aghaidhsciath a chaitheamh agus stuatháthú ar siúl. Míniú **dhá** chúis atá leis seo.

5.

(45 mharc)

- (a) Taispeántar trí phróiseas monaraithe chun comhpháirteanna plaisteacha a tháirgeadh. Ainmnigh **gach** próiseas díobh.



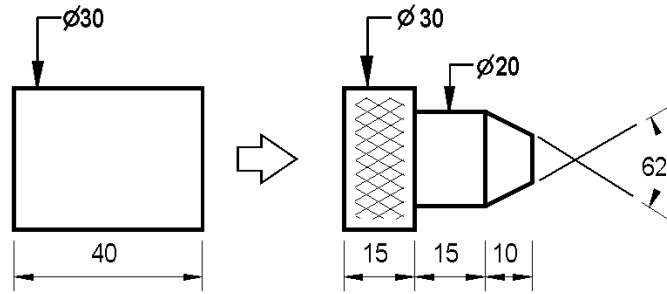
- (b) Maidir le ceann **amháin** de na próisis in (a):

- (i) Déan cur síos ar an gcaoi a ndéantar an chomhpháirt;
 - (i) Sainaithin comhpháirt oiriúnach a tháirgítear.
- (c) Déan cur síos ar **dhá cheann ar bith** de na téarmaí seo a leanas a bhfuil baint acu le plaistigh:
- (i) Teirmeaplaisteach, (ii) Cuimhne leaisteach, (iii) Plaisteach theirmithéachtach.
- (d) Ainmnigh **dhá** réamhchúram sábháilteachta is gá a ghlacadh agus greamacháin á n-úsáid.

6.

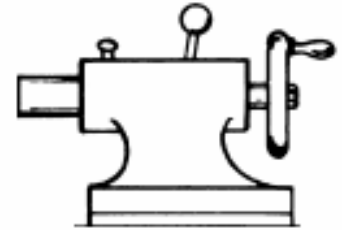
(45 mharc)

- (a) Tá sé i gceist an pháirt a thaispeántar a dheileadh ar dheil láir as barra alúmanaim dar trastomhas 30mm. Ainmnigh **trí** cinn de na hoibríochtaí deile a mbaintear úsáid astu le linn a tháirgthe.



- (b) (i) Ainmnigh an chomhpháirt deile a thaispeántar ar dheis.

- (ii) Déan cur síos ar **dhá mhodh** a bhféadfaí é a úsáid ar an deil.



- (c) Mínigh **dhá cheann ar bith** de na téarmaí seo a leanas:

- (i) Uillinn sciota, (ii) Druilire lair, (iii) Uillinn scóipe.

NÓ

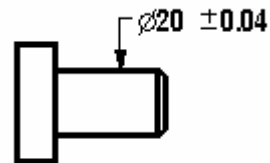
- (c) Déan cur síos ar **dhá** bhuntáiste a bhaineann le deil CNC a úsáid seachas deil láimhe.

7.

(45 mharc)

- (a) Tá seafta cruach déanta de réir na dtoisí a thaispeántar.

- Luaigh: (i) Trastomhas ainmniúil an tseafta;
(ii) Trastomhas uasta an tseafta;
(iii) Trastomhas íosta an tseafta;
(iv) An lamháltas ar an seafta.



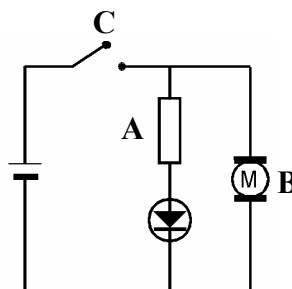
- (b) Agus sceitsí á n-úsáid agat, mínigh an difríocht idir an bhacoiriúint agus an ghlanoiriúint ar chóimeáil seafta agus poill.

- (c) Déan cur síos ar **thrí cinn ar bith** díobh seo a leanas:

- (i) Tomhsaire plocóide, (ii) Tomhsaire airde Vernier, (iii) Tomhsaire bearna, (iv) Tomhsaire braite.

NÓ

- (c) Ainmnigh na comhpháirteanna **A** agus **B** agus mínigh oibríocht an chiorcaid nuair atá an lasc **C** dúnta.



Leathnach Bán