



# Coimisiún na Scrúduithe Stáit

SCRÚDÚ ARDTEISTIMÉIREACHTA, 2004

**INNEALTÓIREACTH – ÁBHAIR AGUS TEICNEOLAÍOCHT**

**(Gnáthleibhéal - 200 marc)**

---

DÉARDAOIN 24 MEITHEAMH - TRÁTHNÓNA 2.00 - 4.30

---

Freagair **Ceist 1, Ranna A agus B**, agus **trí** cheist ar bith eile.

1.

(65 mharc)

**ROINN A - 30 marc**

Freagair go hachomair **sé cinn ar bith** díobh seo a leanas:

(a) Liostaigh **dhá** réamhchúram sábháilteachta ba chóir a ghlacadh agus obair tháthúcháin ar siúl.

(b) Ainmnigh an chomhpháirt leictreonach a léirítear leis an tsiombail seo.



(c) Mínigh an téarma ‘Seoltacht’ maidir le hairíonna miotal.

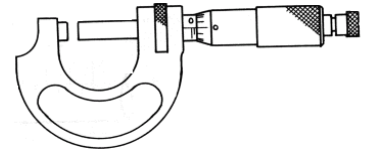
(d) Ainmnigh na miotail as a gcomhdhéantar sádar.

(e) Ainmnigh an ionstraim tomhais a thaispeántar agus luaigh feidhmiúchán lena úsáid.


(f) Sainaithin na snáithchruthanna a oireann do:

(i) ríscriú deile;

(ii) bís bhinse den chineál luathoscailte



(g) Ainmnigh an mheicníocht ghiair a thaispeántar agus luaigh feidhmiúchán amháin lena úsáid.



(h) Sainaithin **dhá** fheidhmiúchán do róbataic san innealtóireacht.

**ROINN B - 35 mharc**

Freagair **trí cinn ar bith** díobh seo a leanas:

(i) Maidir le **ceann ar bith** díobh seo a leanas, déan cur síos ar a fheidhm agus ar a oibriú:

Scanóir; Réamaire; Fiarbhacart.

(j) Mínigh **dhá cheann ar bith** de na téarmaí ríomhaireachta seo:



Feiste aschuir; Íoslódáil; Rialú ríomhaireachta; Balla dóiteáin.

(k) Sainmhíneigh intuargainteacht maidir le hairíonna miotal agus luaigh sampla **amháin** de mhíotal intuargainte.

(l) Mínigh **dhá cheann ar bith** de na téarmaí seo a leanas:

Greanadh; Mótar céimnithigh; Tumbhratú; Stiall dhémhíotalach.

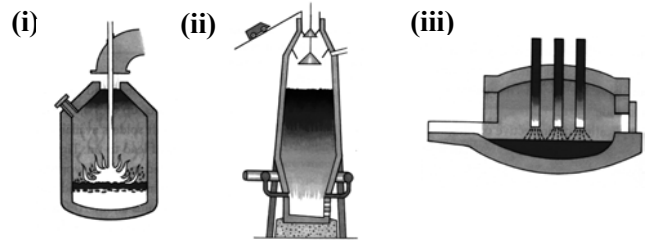
(m) Ainmnigh **an dá** chóras tiomána a thaispeántar:



2.

(45 mharc)

(a) Ainmnigh na foirnéisí a thaispeántar.



(b) Maidir le ceann amháin de na foirnéisí thuas:

- (i) Déan **liníocht shimplí** agus sainaithean a cuid páirteanna;
- (ii) Déan cur síos ar an gcaoi a ndéantar an teas a tháirgeadh;
- (iii) Ainmnigh an miotal a tháirgtear.

(c) Luaigh feidhmiúchán oiriúnach do **dhá cheann ar bith** díobh seo a leanas:

- (i) Alúmanam;      (ii) Cruach Bhog;      (iii) Copar.

(d) Mínigh an téarma *Cóimhiotal*.

3.

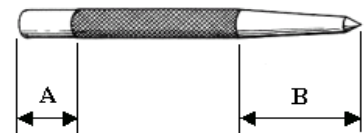
(45 mharc)

(a) Mínigh an difríocht atá idir cruachan agus ainealadh miotal.

(b) Ainmnigh an teaschoireáil a úsáidtear chun dromchla crua a chur ar chomhpháirteanna cruach bhog.

(c) (i) Déan cur síos ar na teaschoireálacha éagsúla a chuirtear ar Pháirt A agus na lárphritile ar Pháirt B na lárphritile.

(ii) Cén fáth a bhfuil gá leis na cóireálacha difriúla?

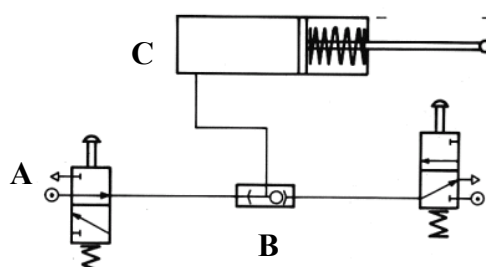


(d) Mínigh an difríocht idir na meáin fuaraithe seo a leanas a úsáid i dteaschoireáil:

- (i) Ola;      (ii) Uisce

**NÓ**

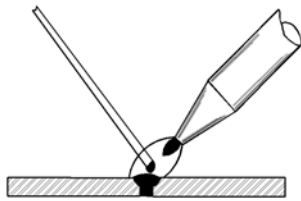
(e) Ainmnigh **dhá cheann ar bith** de na comhpháirteanna A, B agus C a thaispeántar sa chiorcad neomatach.



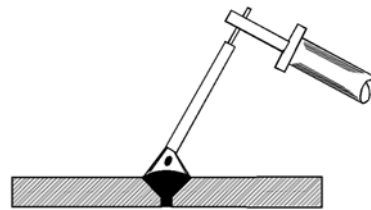
4.

(45 mharc)

- (a) Sainaithin na **trí** chineál lasrach, a úsáidtear i dtáthú ocsaigine aicétiléine.
- (b) (i) Mínigh an fheidhm atá ag flosc le linn sádrála.  
(ii) Déan cur síos ar na téarmaí (a) Flosc neamhghníomhach agus (b) Flosc gníomhach.
- (c) Sainaithin na próisis táthúcháin a thaispeántar agus déan cur síos ar na bundifríochoitaí atá eatarthu.



(i)



(ii)

- (d) Ainmnigh **dhá** réamhchúram sábháilteachta is gá a ghlacadh le linn prásála.

5.

(45 mharc)

- (a) Modhanna chun comhphárteanna plaisteacha a mhonarú is ea Folúsfhoirmiú, Múnláil Chomhbhrú agus Séidmhúnláil.

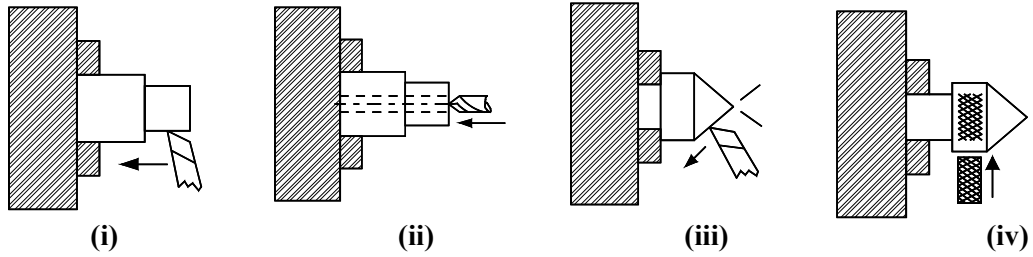
Agus léaráid líneach shimplí mar chúnamh agat, déan cur síos ar mhodh **amháin** díobh agus ar an gcineál comhpháirte a tháirgtear.

- (b) Sainaithin na príomhdhifríochoitaí idir teirmeaplaistigh agus plaistigh theirmithéachtacha.
- (c) Déan cur síos ar fheidhmiúchán do cheann **amháin** díobh seo a leanas:
- (i) Umar Tumbhrataithe Plaisteach;  
(ii) Stiallthéitheoir.
- (d) Mol feidhmiúchán oiriúnach do *Pholaistéirín*.

6.

(45 mharc)

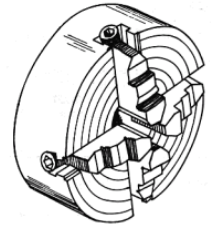
(a) Ainmnigh **tri cinn ar bith** de na hoibríochtaí deile a thaispeántar chun an pluma a tháirgeadh.



(b) Déan cur síos ar **dhá cheann ar bith** díobh seo a leanas maidir le meaisíníú:

(h) Fuarthán; (ii) Uillinn scóipe; (iii) Doimhneacht ghearrtha; (iv) Luas gearrtha.

(c) Ainmnigh an cineál crágáin a thaispeántar agus sainnithin **dhá** mhodh obairchoinneála eile atá á n-úsáid ar an deil.



NÓ

(c) Cad a brí le **tri cinn ar bith** de na téarmaí CNC seo a leanas:

(i) Ionsamhladh (ii) Lasc sábháilteachta. (iii) Cóid G. (iv) CAD/CAM

7.

(45 mharc)

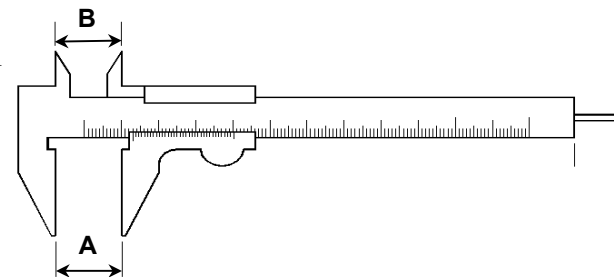
(a) Mínigh **dhá cheann ar bith** díobh seo a leanas:

(i) Bacoiriúint (ii) Glanoiúint (iii) Leathoiriúint

(b) Déantar poll a mhonarú de réir na dtoisí seo a leanas  $50\text{mm} \pm 0.05$ . Maidir leis an bpoll seo luaigh:

(i) Trastomhas Ainmniúil (ii) Teorainn Uachtarach (iii) Teorainn Íochtarach  
(iv) Lamháltas

(c) Ainmnigh an tomhsaire a thaispeántar agus sainnithin an cineál toise a tógadh ag A agus ag B.



NÓ

(c) Mínigh feidhm don chiorcad a thaispeántar agus ainmnigh **dhá cheann ar bith** de na compháirteanna A, B agus C.

