

M.72T

**AN ROINN OIDEACHAIS AGUS EOLAÍOCHTA**  
**SCRÚDÚ NA hARDTEISTIMÉIREACHTA, 2002**

INNEALTÓIREACTH – ÁBHAIR AGUS TEICNEOLAÍOCHT  
(Gnáthleibhéal - 200 marc)

DÉARDAOIN 20 MEITHEAMH - TRÁTHNÓNA 2.00 - 4.30

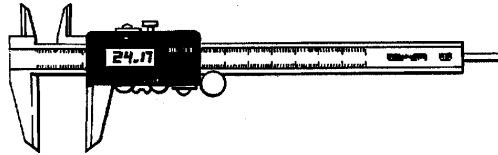
Freagair **Ceist 1, Ranna A agus B**, agus **trí** cheist ar bith eile.

THALL →

**ROINN A - 30 marc**

Freagair go hachomair **sé cinn ar bith** díobh seo a leanas:

- (a) Cad is brí le gníomhú ribeach?
- (b) Ainmnigh an chomhpháirt leictreach a thaispeántar.
- (c) Luaigh ócáid ar a bhfuil gá le miotail a ainéladh.
- (d) Ainmnigh **dhá chineál** scriúshnáithe.
- (e) Ainmnigh an tomhsaire a thaispeántar agus luaigh feidhmiúchán lena úsáid.

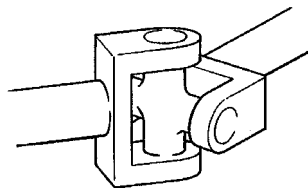


- (f) Ainmnigh **dhá chineál** cruashádrála.
- (g) Ainmnigh **dhá** mhodh chun obair a choinneáil agus meaisíníú ar siúl.
- (h) Ainmnigh **dhá** réamhchúram sábháilteachta a thagann i gceist agus meaisín druilleála seastáin á úsáid.

**ROINN B - 35 mharc**

Freagair **trí cinn ar bith** díobh seo a leanas:

- (i) Maidir le ceann ar bith díobh seo a leanas, déan cur síos ar a fheidhmiú agus ar a oibriú:  
Ilmhéadar; Scanóir; Friotóir solas-spleách (LDR).
- (j) Mínigh **dhá cheann ar bith** de na téarmaí ríomhaireachta seo:  
WWW, Rialú ríomhaire, ROM, Foilsitheoireacht Deisce.
- (k) Mínigh feidhmiú agus oibriú na feiste a thaispeántar.



- (l) Ainmnigh próiseas monaraithe ina n-úsáidtear na téarmaí *clogad luchtú feadán teallaigh* (= charging bell).
- (m) Luaigh sampla d'fheidhmiúchán mheicníocht raca agus pinniún.

2.

(45 mharc)

- (a) Déan idirdhealú idir ainéaladh agus cruachan miotal.
- (b) (i) Mínigh cén chaoi a ndéantar faghairt ar lárphritil chruach ardcharbóin tar éis a cruachana.  
(ii) Cén fáth a bhfuil gá leis an bpróiseas seo?
- (c) Luaigh an cineál cóireála teasa a mbaintear úsáid as i ngach ceann de na cásanna seo a leanas:  
(i) Pointe scríúire déanta de chruach bhog;  
(ii) Coimeádán coinnle copair agus cruth á bhualadh air le casúr.
- (d) Mínigh na téarmaí seo a leanas maidir le hairíonna miotal:  
(i) Seoltacht;  
(ii) Leaisteachas.

3.

(45 mharc)

- (a) Ainmnigh an próiseas a mbaintear úsáid as chun gach ceann de na hábhair seo a tháirgeadh:  
(i) Muciarann; (ii) Cruach; (iii) Iarann teilgte.
- (b) Agus léaráid mar chúnamh agat, mínigh **ceann amháin** de na próisis in (a).
- (c) Cad iad na miotail atá sa chomhshuíomh i sádar bog?
- (d) Ainmnigh **dhá** mhíotal neamhfheiriúla.
- NÓ**
- (d) Ainmnigh **dhá** chineál ciorcaid leictrigh.

4.

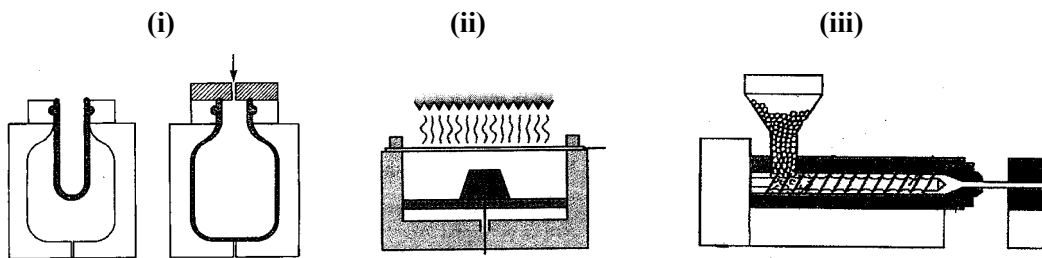
(45 mharc)

- (a) Freagair iad seo a leanas go hachomair, maidir le sádráil na gcomhpháirteanna ar chiorcaidlosaid:
- (i) An fhoinsé teasa a mbaintear úsáid aisti;
  - (ii) Cén tábhacht a bhaineann le roghnú an fhlosca?
  - (iii) Cén chaoi a gcuirtear an flosc ag obair?
  - (iv) Cén leáphointe atá ag sádar?
- (b) Maidir le táthú ocsaicéitiléine, mínigh an difríocht atá idir:
- (i) Lasair neodrach;    (ii) Lasair ocsaídiúcháin;    (iii) Lasair charbraithe.
- (c) Ainmnigh **trí** réamhchúram sábháilteachta is gá a ghlacadh agus trealamh leictreach stuatháthúcháin á úsáid.

5.

(45 mharc)

- (a) Mínigh **trí** mhodh a mbaintear úsáid astu chun plaistigh a shiúntú.
- (b) Ainmnigh na próisis múnála seo a leanas a mbaintear úsáid astu agus comhpháirteanna plaisteacha á dtáirgeadh.



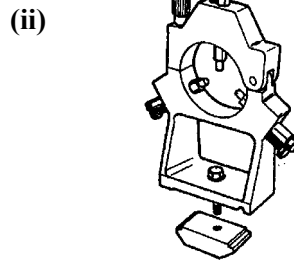
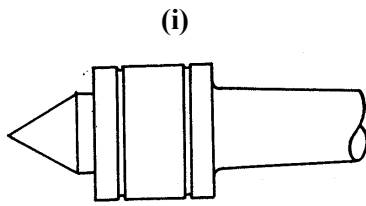
- (c) Déan cur síos ar phróiseas **ambáin** i (b), agus sainnigh na comhpháirteanna a tháirgeann sé.
- (d) Ainmnigh **dhá** réamhchúram sábháilteachta is gá a ghlacadh agus Umar Tumbhratithe Plaisteach á úsáid.

THALL →

6.

(45 mharc)

- (a) Ainmnigh na huirlisí deile a thaispeántar agus mínigh an fheidhm atá le **ceann amháin** díobh.



- (b) Luaigh **dhá** úsáid ag cúlstoc deile.

- (c) Cén aidhm atá ag réamú?

- (d) Luaigh **dhá** chúis go ndéantar leaba deile as iarann teilgthe.

**NÓ**

- (d) Ainmnigh **dhá** bhuntáiste a bhaineann le deil CNC a úsáid seachas deil thraidisiúnta.

7.

(45 mharc)

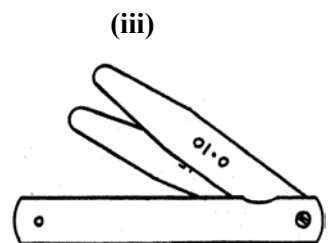
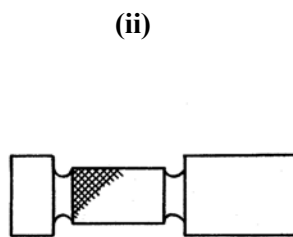
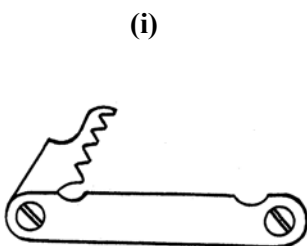
- (a) Maidir le teorainneacha agus oiriúintí, mínigh iad seo a leanas:

- (i) Bacoiriúint;                      (ii) Glanoiúint.

- (b) Tá seafta le déanamh de réir trastomhas  $80 \pm 0.05$  mm. Oibrigh amach:

- (i) Trastomhas uasta an tseafta;  
(ii) Trastomhas íosta an tseafta;  
(iii) An lamháltas ar an seafta.

- (c) Ainmnigh na **trí** thomhsaire a thaispeántar agus luaigh feidhmiúchán le **ceann amháin ar bith** díobh.



**NÓ**

- (c) Mínigh an chaoi a n-oibríonn **ceann ar bith** díobh seo a leanas:

- (i) Sorcóir neomatach aonghníomhach;  
(ii) Trasraitheoir