

**AN ROINN OIDEACHAIS AGUS EOLAÍOCHTA
SCRÚDÚ ARDTEISTIMÉIREACHTA, 2001**

**INNEALTÓIREACHT - ÁBHAIR AGUS TEICNEOLAÍOCHT
(Gnáthleibhéal - 200 marc)**

DÉARDAOIN, 21 MEITHEAMH - TRÁTHNÓNA 2.00 - 4.30

Freagair **Ceist 1, Ranna A agus B**, agus trí cheist ar bith eile.

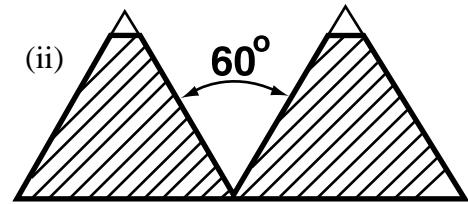
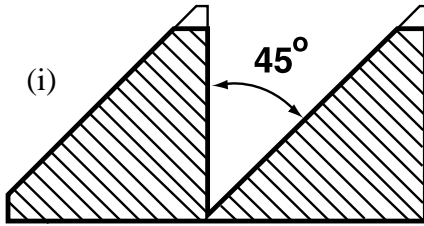
1.

(65 marc)

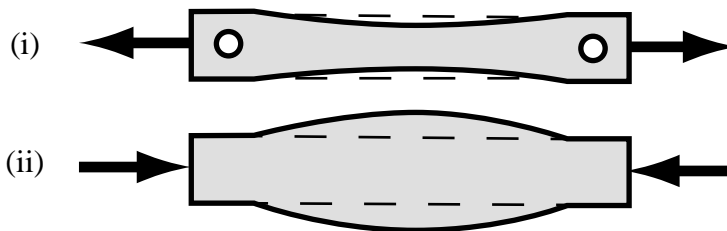
Roinn A - 30 marc

Freagair go hachomair **sé cinn ar bith** díobh seo a leanas:

- (a) Ainmnigh plaisteach atá oiriúnach d'insliú balla.
- (b) Maidir le foinse cumhachta leictrí, mínigh na giorrúcháin Bhéarla A.C agus D.C.
- (c) Ainmnigh dhá mhíotal neamhfheiriúla.
- (d) Ainmnigh an dá scríúshnáithe a thaispeántar.



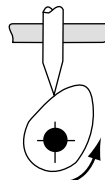
- (e) Ainmnigh dhá réamhchúram sábhailteachta is gá a ghlacadh agus stuatháthaire leictreach á úsáid.
- (f) Cad é haemaitít?
- (g) Ainmnigh na mianta as a ndéantar copar agus alúmanam a tháirgeadh.
- (h) Sainnigh an dá chineál fórsa a thaispeántar.



Roinn B - 35 marc

Freagair **trí cinn ar bith** díobh seo a leanas:

- (i) Maidir le **ceann ar bith** díobh seo a leanas, déan cur síos ar a fheidhmiú agus ar a oibriú: Dineamó Rothair; Iarann sádrála leictreach; Breacaire.
- (j) Mínigh **dhá cheann ar bith** de na téarmaí ríomhaireachta seo: beart; íoschóipeáil; deilbhín; feiste ionchuir.
- (k) Sainmhínigh leaisteachas chomh fada is a bhaineann le hairíonna míotal.
- (l) Mínigh **dhá cheann ar bith** de na téarmaí seo: Polaiméir; Insliitheoir; Rialú Uimhriúil Ríomhaireachta (CNC i mBéarla).
- (m) Ainmnigh an mheicníocht a thaispeántar agus mínigh an cineál gluaisne a chruthaíonn sí.



2.

(45 marc)

- (a) Míneigh an bhrí atá leis an téarma “saotharchruachan”. Cén chóireáil atá ann don aicíd seo?
- (b) Míneigh cén fáth ar féidir cruach ísealcharbóin a cháschruachan in ionad í a chruachan.
- (c) Cad is brí le normalú?
- (d) Déan comparáid idir teorolladh agus fuar-rolladh a dhéanamh ar mhiotail, agus luaigh na buntástí agus na míbhuntástí a bhaineann leo faoi seach.

3.

(45 marc)

- (a) Ainmnigh **trí** mhodh nua-aimseartha chun cruach a tháirgeadh, agus déan cur síos ar mhodh amháin díobh agus leas á bhaint agat as léaráid le lipéid.
- (b) Cad is cóimhiotal ann?
- (c) Maidir le déantús na n-earraí seo a leanas, ainmnigh na hábhair ar baineadh úsáid astu, agus na fáthanna ar roghnaíodh na hábhair sin:
(i) Leaba Dheile; (ii) Lárphritil; (iii) Gaothscáth Gluaisrothair.
- (d) Ainmnigh na mianta as a ndéantar stán agus luaidhe.


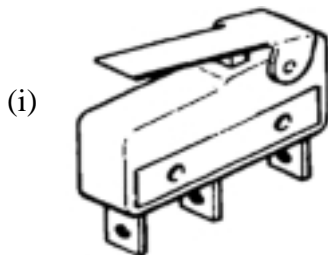
4.

(45 marc)

- (a) Cén dá ghás is coitianta a mheasctar chun lasair sách te a chruthú don táthú?
- (b) Míneigh na difríochtaí idir floc gníomhach agus floc neamhghníomhach sa phróiseas táthúcháin?
- (c) Míneigh na bundifríochtaí atá idir gástáthú agus stuatháthú láimhe.
- (d) Míneigh an fheidhm atá ag leictreoidí flocbhrataithe sa stuatháthú láimhe.

NÓ

- (d) Ainmnigh an dá pháirt leictreacha a thaispeántar.



5.

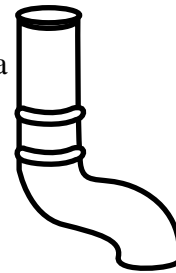
(45 marc)

- (a) Cad iad na príomhdhifríoachtaí idir plaistigh theirmeaplaisteacha agus plaistigh theirmithéachtacha.
- (b) Déan cur síos ar phróiseas **amháin** díobh seo a mbaintear feidhm as chun plaistigh a fhoirmiú:
(i) Folúsfhoirmiú; (ii) Séidmhúnláil; (iii) Múnláil chomhbhrú.
- (c) Ainmnigh **trí** réamhchúram sábhailteachta is gá a ghlacadh, agus Umar Tumbhrataithe Plaisteach á úsáid.
- (d) Ainmnigh an plaisteach a mbaintear úsáid as i ndéantús an dá pháirt a thaispeántar.

Spéaclaí cosanta



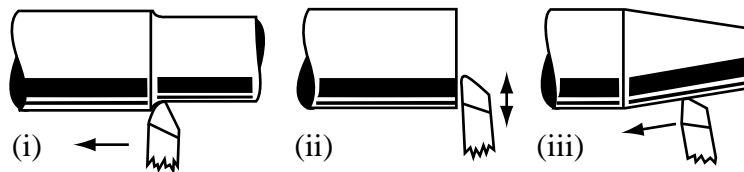
Píobán draenála



6.

(45 marc)

- (a) Ainmnigh na feidhmiúcháin deile a thaispeántar.



- (b) Déan cur síos ar na modhanna obairchoinneála **amháin** díobh seo a leanas a úsáidtear sa mheaisíníú agus luaigh an cineál oibre a meaisíníodh.
(i) Idir na láir; (ii) Mandrail; (iii) Crágán saorghiall.
- (c) Tarraing sceitse d'úirlis ghearrtha deile, agus taispeáin na gnéithe seo a leanas air:
(i) Barrsciotadh; (ii) Scóip thosaigh; (iii) Taobhscóip.

NÓ

- (c) Ainmnigh **trí** bhuntáiste atá ag baint le deil CNC seachas mar atá ag deil thraidisiúnta.

7.

(45 marc)

- (a) Míneigh (i) Bacoiriúint; (ii) Glanoiúint agus (iii) Leathoiúint.
- (b) Tá seافتa le déanamh de réir na dtoisí 80 ± 0.05 . Oibrigh amach:
 - (i) Trastomhas uasta an tseافتa;
 - (ii) Trastomhas íosta an tseافتa;
 - (iii) An lamháلتas ar an seافتa.
- (c) Míneigh le cabhair sceitsí na téarmaí snáithe seo a leanas: (i) Céim; (ii) Cíor; (iii) Fréamh.

NÓ

- (c) Míneigh go soiléir cad chuige **trí cinn ar bith** díobh seo a leanas:
 - (i) Dé-óid; (ii) Grianchill; (iii) Réamaire; (iv) Druilire Láir.

LEATHANACH BÁN