

AN ROINN OIDEACHAIS AGUS EOLAÍOCHTA
SCRÚDÚ ARDTEISTIMÉIREACHTA, 2000

INNEALTÓIREACTH - ÁBHAIR AGUS TEICNEOLAÍOCHT
(Gnáthleibhéal - 200 marc)

DÉARDAOIN, 22 MEITHEAMH - TRÁTHNÓNA 2.00 - 4.30

Freagair **Ceist 1, Ranna A agus B**, agus **trí** cheist ar bith eile.

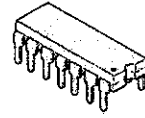
Freagair **Ceist 1**, Ranna A agus B, agus **trí** cheist ar bith eile.

1.

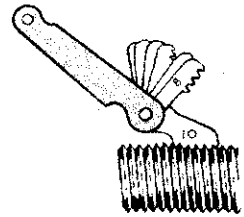
(65 marc)

ROINN A - 30 marc

Freagair **go hachomair sé cinn ar bith** díobh seo a leanas:



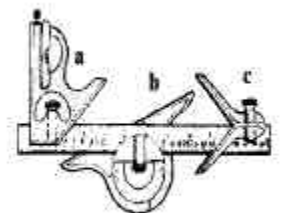
- (a) Ainmnigh an pháirt leictreonach a thaispeántar.
- (b) Luaigh sampla de shaotharchruachan miotail.
- (c) Cad is cóimhiotal ann?
- (d) Ainmnigh an tomhsaire agus luaigh feidhmiúchán lena úsáid.
- (e) Cén phríomhdifríocht atá idir miotail fheiriúla agus miotail neamhfheiriúla?
- (f) Ainmnigh flosca atá oiriúnach chun sádráil á dhéanamh ar:-
 - (i) sreanga i gciorcad leictreach
 - (ii) dhá pháisa práis (cruashádráil).
- (g) Conas a dhéantar voltas agus sruth a thomhas i gciorcad leictreach?
- (h) Ainmnigh **dhá** fheiste aschur ríomhaireachta.



ROINN B - 35 mharc

Freagair **trí** cinn ar bith díobh seo a leanas:

- (i) Déan cur síos ar fheidhm agus ar oibriú **anon** cheann ar bith díobh seo a leanas:-
 - (i) Iarann sádrála leictreach;
 - (ii) Umar tumbhrataithe plaisteach;
 - (iii) Teirmeastar.
- (j) Mínnigh **dhá** cheann ar bith de na téarmaí ríomhaireachta seo:
Brabhsálaí, Dealbh, Grafaicí, Bogearraí, As líne.
- (k) Cad is brí leis an téarma Rialú Uimhriúil Ríomhaireachta (CNC)?
- (l) Mínnigh **dhá** théarma ar bith díobh seo:
Insínteacht, Inslitheoir, Friotóir, Claonadh.
- (m) Ainmnigh an tomhsaire a thaispeántar agus luaigh feidhmiúcháin le (a), (b) agus (c).



2.

(45 mharc)

- (a) Míneigh na cóireálacha teasa seo a leanas agus luaigh sampla de na hócáidí ar a n-úsáidtear gach ceann faoi leith díobh.
- (i) Ainéaladh; (ii) Normalú; (iii) Cruachan; (iv) Faghairt.
- (b) Ní mór na gialla ar chastaire cruach boige a chosaint ar chaitheamh le linn úsáide. Déan cur síos ar an gcóireáil teasa a usáidtear chuige sin.
- (c) Míneigh an téarma *lasairchruachan* agus luaigh feidhmiúcháin lena úsáid.

3.

(45 mharc)

- (a) Luaigh an cineál foirnéise a mbaintear úsáid as chun gach ábhar díobh seo a leanas a tháirgeadh:
- (i) Muciarann; (ii) Cruach bhog; (iii) Iarann Teilgthe.
- (b) Míneigh na téarmaí seo a leanas agus ainmnigh na hábhair a bhfuil na hairíonna sin acu:
- (i) Brisce; (ii) Insínteacht
- (c) Luaigh na hábhair a mholfá chun iad seo a leanas a dhéanamh. Tabhair fáth le do rogha sa dá chás:
- (i) Béalmhír iarainn sádrála; (ii) Leaba lár-dheile.

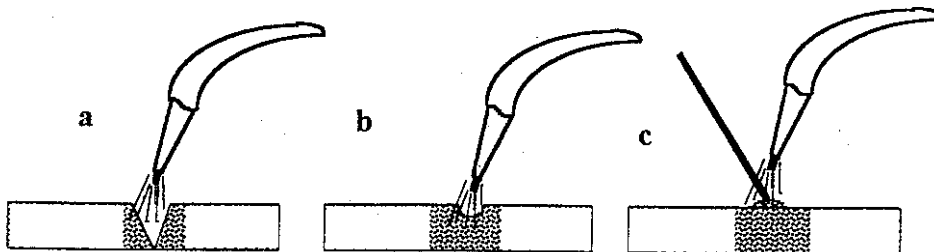
NÓ

- (c)
- (i) seach-chora uirlise; (ii) céim-mhotar;
(iii) timthriall cannaithe; (iv) clár páirte;
(v) piocdhruileáil.

4.

(45 mharc)

- (a) Ainmnigh na céimeanna táthaithe in a, b agus c.



- (b) Ainmnigh an próiseas táthaithe atá á dhéanamh.
- (c) Ainmnigh **dhá** phróiseas táthaithe eile agus déan cur síos ar **cheann amháin** díobh le cúnamh léaráide líne.
- (d) Cén fáth go n-úsáidtear flosc roisín agus cónaisc leictreacha á sádráil?

THALL ®

5.

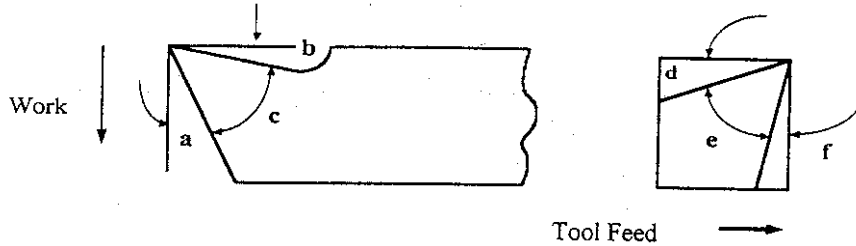
(45 mharc)

- (a) Déan cur síos ar easbhrú **nó** ar shéidmhúnláil comhábhar plaisteach agus luaigh cad iad na táirgí a chuirtear ar fáil.
- (b) Roinn an liosta plaisteach seo a leanas de réir ‘teirmeaplaistigh’ agus plaistigh ‘teirmithéachtacha’ agus mínigh cén fáth a ndéantar an rangú seo orthu.
(i) Aicrileach (Peirspéacs); (ii) Roisín poileistir; (iii) Polaistiréin; (iv) Polúireatán.
- (c) Ainmnigh na plaistigh a luaitear de ghnáth leis na feidhmiúcháin seo a leanas:
(i) Imthacaí; (ii) Inslíú pacáistithe (iii) Cótaí báistí.

6.

(45 mharc)

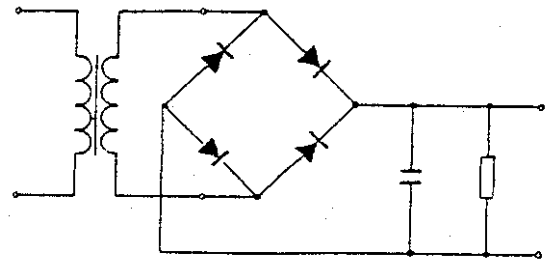
- (a) Sainaithin na huillinneacha uirlisí a, b, c, d, e, f.



- (b) Mínigh an fheidhm atá leis na comhphárteanna deile seo a leanas:
(i) Comhshleamhnán; (ii) Comhdhruilire; (iii) Uirlis foirbeacháin.
- (c) Ainmnigh **dhá** réamhchúram sábháilteachta is gá a ghlacadh agus an deil láir á húsáid.

- (c) Mínigh conas a oibríonn an ciorcad soláthair cumhachta a thaispeántar sa léaráid.

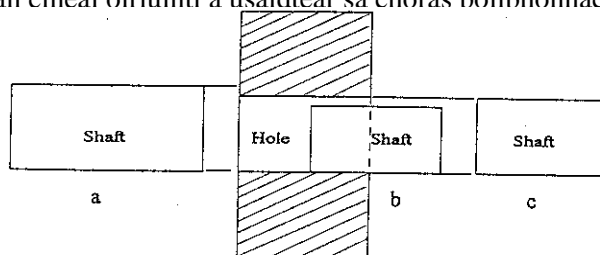
OR



7.

(45 mharc)

- (a) Ainmnigh an cineál oiriúintí a úsáidtear sa chóras nollbhonnach do a, b, agus c.



- (b) Tá seafta le déanamh de réir na dtoisí $50\text{mm} \pm 0.06$. Luaigh:
(i) An toise ainmniúil; (ii) An teorainn uasta; (iii) An lamháltas.
- (c) Mínigh na téarmaí: (i) lamháltas déthaobhach agus (ii) lamháltas aontaobhach.

NÓ

- (c) Mínigh **dhá** cheann ar bith de na téarmaí seo a leanas:
(i) Trasraitheoir; (ii) Tomhsaire Bearna; (iii) Saotharchruachan.