

RABHADH

CAITHFEAR an Ceistpháipéar seo a chur ar ais le do fhreagarleabha(i)r ag deireadh an Scrúdaithe, nó caillfear marcanna.

Scríobh do Scrúduithe anseo ⇒

**Coimisiún na Scrúduithe Stáit**

SCRÚDÚ NA hARDTEISTIMÉIREACHTA, 2008

DÉ CÉADAOIN, 18 MEITHEAMH 2008, MAIDIN 9.30-12.00

EACNAMAÍOCHT – GNÁTHLEIBHÉAL
(400 marc)

Freagair **sé** cheist as Roinn A agus **ceithre** cheist as Roinn B. Tabharfar creidiúint ar fhreagairt shoiléir ghonta agus ar ord slachtmhar an ábhair.

ROINN A (100 marc)

Freagair **sé** cinn de na **naoi** gceist le freagraí gearra sna spásanna atá ann dóibh.

ROINN B (300 marc)

Freagair **ceithre** cheist.

Scríobh na freagraí i do fhreagarleabha(i)r.

Ná scríobh freagraí Roinn B ar an gceistpháipéar seo.

Tá na ceisteanna ar fad ar aon mharc (75 marc).

Tabhair faoi deara go bhfuil fo-ranna sna ceisteanna.

**NÁ DEARMAD AN CEISTPHÁIPÉAR SEO A THABHAIRT AR AIS
LEIS AN/NA (bh)FREAGARLEABHA(I)R A ÚSÁIDEADH CHUN NA CEISTEANNA
I ROINN B A FHREAGAIRT.**

ROINN A (100 marc)

Freagair **sé** cinn de na **naoi** gceist le freagraí gearra sna spásanna atá ann dóibh.

1. Cuir isteach na tosca táirgeachta agus / nó an íocaíocht ar an toisc sna spásanna cuí thíos:

TOISC			CAIPITEAL
ÍOCAÍOCHT	CÍOS	PÁ	BRABÚS / CAILLTEANAS

(16 mharc)

2. Líon isteach na focail atá in easnamh sna spásanna thíos agus comhlánaigh ainmneacha na n-institiúidí airgeadais idirnáisiúnta:

(i) **BCE** _____ Eorpach

(ii) **ETD** _____ Trádála

(iii) **CAI** _____ Airgeadaíochta (16 mharc)

3. Luaigh **dhá** shampla d'ioncam reatha an rialtais agus **dhá** shampla de chaiteachas reatha an rialtais.

Ioncam Reatha an Rialtais	Caiteachas Reatha an Rialtais
1.	1.
2.	2.

(16 mharc)

4. Is í seo a leanas an fhoirmle chun Praghasleasteachas an Éilimh a thomhas:

$$\frac{\Delta Q}{\Delta P} \times \frac{P_1 + P_2}{Q_1 + Q_2}$$

Comhlánaigh an tábla seo a leanas agus taispeáin cad dó a seasann gach ceann de na siombailí thuas:

ΔQ	
ΔP	
P₁	Praghas tosaigh an earra.
P₂	
Q₁	
Q₂	

(16 mharc)

5. Is bonn tuisceana amháin é den **iomáíocht neamhghoirfe** ná gur gar-ionadaithe iad na hearraí a tháirgtear. Mínigh an téarma a bhfuil líne faoi agus luaigh **dhá** bhonn tuisceana eile.

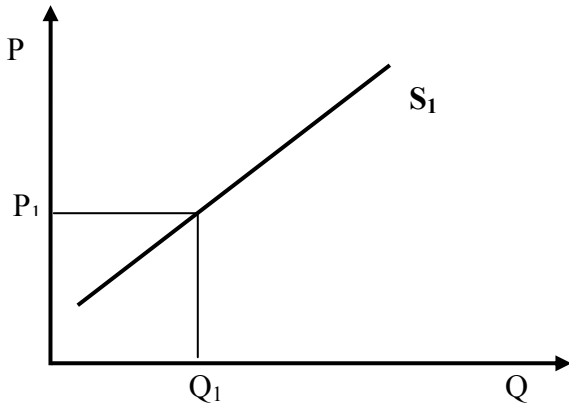
Míniú: _____

Bonn tuisceana 1: _____

Bonn tuisceana 2: _____

(16 mharc)

6. Baineann an léaráid thíos le **soláthar uisce bhuidéalaithe** in Éirinn.



(i) Ar an léaráid, taispeáin an iarmhairt a bheidh ag méadú praghais ar an gcainníocht a sholáthrófar. Bain úsáid as na lipéid P_2 agus Q_2 .

(ii) Ar an léaráid, taispeáin an iarmhairt a bheidh ag laghdú sna costais táirgeachta ar chuar an tsoláthair. Bain úsáid as an lipéad S_2 .

(17 marc)

7. Luaigh buntáiste eacnamaíoch **amháin** agus míbhuntáiste eacnamaíoch **amháin** a bhaineann le tógáil leanúnach na mbóithre dola nua ar fud na hÉireann.

Buntáiste eacnamaíoch amháin: _____

Míbhuntáiste eacnamaíoch amháin: _____

(17 marc)

8. Tugtar an t-eolas seo a leanas duit faoi thrádáil tíre.

Onnmhairí Sofheicthe € milliún	Allmhairí Sofheicthe € milliún	Comhardú na Trádála € milliún	Barrachas nó Easnamh
18,000	17,800	200	Barrachas

Dá laghdófaí leibhéal na n-onnmhairí sofheicthe de €500 milliún, mínigh an iarmhairt a bheadh aige sin ar Chomhardú Trádála na tíre. **Taispeáin do chuid oibre.**

<p>Obair</p>	<p>Míniú: _____</p> <p>_____</p> <p>_____</p> <p>_____</p>
---------------------	---

(17 marc)

9. Cé acu ceann de na foirmlí thíos a sheasann don iolraitheoir i **ngeilleagar oscailte**? (Roghnaigh Rogha A nó Rogha B agus scríobh do fhreagra sa spás atá ann dó.) Mínigh do rogha.

Rogha A
$\frac{1}{1 - (MPC - MPM)}$

Rogha B
$\frac{1}{1 - MPC}$

Freagra
Rogha _____

Míniú: _____

(17 marc)

Ná dearmad an ceistpháipéar seo a thabhairt ar ais leis an/na (bh)freagarleabha(i)r a úsáideadh chun na ceistanna i Roinn B a fhreagairt.

ROINN B (300 marc)

Freagair **ceithre** cheist.

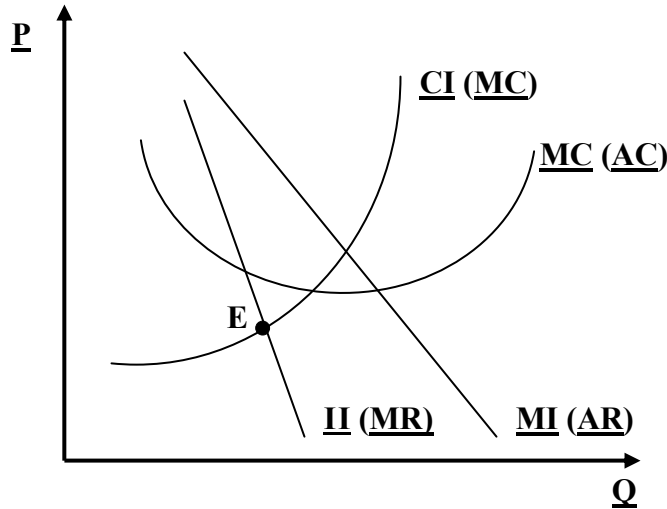
Scríobh na freagraí i do fhreagarleabha(i)r.

Ná scríobh freagraí Roinn B ar an gceistpháipéar seo.

Tá na ceisteanna ar fad ar aon mharc (75 marc).

Tabhair faoi deara go bhfuil fo-ranna sna ceisteanna.

1. Sa léaráid thíos taispeántar gnólacht **Monaplachta** i gcothromaíocht.



- (a) (i) Cóipeáil an léaráid thuas i do fhreagarleabhar.
Comhlánaigh / scríobh ina n-iomláine gach ceann de na sé lipéad a bhfuil líne fúthu.
- (ii) Tarlaíonn cothromaíocht ag an **bpointe E** ar an léaráid.
Taispeáin ar do léaráid:
- an t-aschur a tháirgfídh an gnólacht i gcothromaíocht. (úsáid lipéad Q_1)
 - an praghas a ghearrfar ar an aschur seo. (úsáid lipéad P_1)
 - meánchostas táirgeachta an aschuir. (úsáid lipéad C_1)
- (iii) Deirtear de ghnáth go mbíonn margadh monaplachta ina mhargadh neamhéifeachtach.
Mínigh an bhrí atá leis an ráiteas seo. Déan tagairt do do léaráid i do fhreagra.
- (30 marc)
- (b) D'fhéadfadh fonn a bheith ar ghnólachtaí nua dul isteach i margadh monaplachta ach bíonn bacainní ar iontráil rompu.
- (i) Luaigh **trí** cinn de na bacainní seo.
- (ii) Scríobh nótaí gearra ar **gach** ceann díobh seo.
- (21 marc)
- (c) (i) Luaigh sampla **amháin** de mhargadh in Éirinn atá ina mhonaplacht, dar leat.
- (ii) Má thagann athrú ar chúrsaí agus má ligtear do ghnólachtaí nua dul isteach sa mhargadh seo, luaigh agus mínigh buntáiste eacnamaíoch **amháin** agus míbhuntáiste eacnamaíoch **amháin** a bhaineann leis an bhforbairt seo do **gach ceann** díobh seo a leanas:
- Tomhaltóirí;
 - Fostaithe an ghnólachta monaplachta.

(24 marc)
[75 marc]

2. (a) Féachtar ar an ola mar ‘earra eacnamaíoch’ mar tá sé gann, inaistrithe agus soláthraíonn sé áirgiúlacht.

- (i) Mínigh gach ceann de na téarmaí a bhfuil líne fúthu.
- (ii) Luaigh sampla **amháin** de ‘shaorearra’. Mínigh do fhreagra.

(20 marc)

(b) D’fhéadfadh na tosca seo a leanas a bheith ina gcúiseanna le cuar an éilimh ar an ola **nó le** cuar an tsoláthair don ola a aistriú ar dheis nó ar clé:

- faightear **soláthar nua ola** amach ó chósta na hÉireann;
- **laghdaítear** leibhéal na gcánacha indíreacha ar an ola;
- tá méadú sa díghostaíocht agus dá bhrí sin tá **titim** i leibhéal ioncaim laistigh den gheilleagar.

Maidir le gach ceann de na tosca thuas:

- (i) luaigh an cuar an éilimh **nó** cuar an tsoláthair a aistrefar;
- (ii) luaigh cé acu ar dheis nó ar clé a aistrefar an cuar a luann tú;
- (iii) mínigh **cén fáth** ar aistríodh an cuar sa treo a luann tú.

(30 marc)

(c) Tá ag méadú i rith an ama ar thomhaltas na hola timpeall an domhain.

- (i) Luaigh agus mínigh **dhá** chúis eacnamaíocha leis an bhforbairt seo.
- (ii) Luaigh agus mínigh conas a d’fhéadfadh **gach** ceann díobh seo cabhrú le tomhaltas na hola a laghdú:
 - Tomhaltóirí;
 - Gnólachtaí;
 - Rialtas na hÉireann.

(25 marc)

[75 marc]

3. (a) Tá talamh ag teastáil ó chomhlacht tógála le haghaidh tithe a thógáil. Freisin caithfidh an comhlacht amhábhair a cheannach, pá a íoc leis na fostaithe agus aisíocaíochtaí iasachta a dhéanamh ar airgeadas a fuarthas chun innealra a cheannach.
- Mínigh talamh mar thoisce tháirgeachta.
 - Sainmhínigh na téarmaí: **costais sheasta** agus **costais athraitheacha**.
 - Luaigh cé acu an sampla de chostais sheasta nó de chostais athraitheacha gach ceann de na trí íocaíocht a **bhfuil líne fúthu thuas**.
- (25 marc)
- (b) Tháinig laghdú ar an éileamh ar thithíocht in Éirinn in 2008.
- Luaigh agus mínigh cúis eacnamaíoch **amháin** a d'fhéadfadh a bheith taobh thiar den laghdú seo.
 - Luaigh agus mínigh conas a d'fhéadfadh an laghdú seo tionchar a oibriú ar **gach** ceann díobh seo a leanas:
 - fostaíocht laistigh den tír;
 - ioncam cánach;
 - brabús laistigh de thionscal na tógála.
- (20 marc)
- (c) Tá an inimirce níos mó ná an eisimirce in Éirinn faoi láthair.
- Mínigh an dá théarma a bhfuil líne fúthu.
 - Luaigh agus mínigh **dhá** chúis leis an bhforbairt a luaitear thuas.
 - Luaigh agus mínigh na hiarmhairtí eacnamaíocha a d'fhéadfadh a bheith ag an inimirce bhreise ar **gach** ceann díobh seo a leanas:
 - Margadh saothair na hÉireann;
 - An t-éileamh ar sheirbhísí Stáit;
 - Gnólachtaí sa tionscal miondíola / seirbhíse (e.g. bainc, ollmhargaí).
- (30 marc)
[75 marc]
4. (a) Ceann amháin d'fheidhmeanna an airgid is ea a bheith ina mheán malairte.
- Mínigh an téarma a bhfuil líne faoi.
 - Luaigh **dhá** fheidhm eile atá ag an airgead.
 - Seachas nótaí agus boinn airgid, luaigh rud **amháin** eile a úsáidtear go ginearálta mar airgead.
- (20 marc)
- (b) Ní mór do na bainc thráchtála in Éirinn aghaidh a thabhairt anois ar bhreis iomaíochta.
- Ainmnigh **dhá** bhanc tráchtála atá ag feidhmiú in Éirinn.
 - Luaigh agus mínigh **dhá** chúis leis an méadú san iomaíocht.
 - Luaigh agus mínigh conas a d'fhéadfadh an iomaíocht bhreise seo dul i bhfeidhm ar **gach** ceann díobh seo a leanas:
 - custaiméirí na mbanc;
 - scairshealbhóirí sna bainc.
- (25 marc)
- (c) Pléigh na hiarmhairtí a d'fhéadfadh a bheith aige ar **gach** ceann díobh seo a leanas dá ndéanfadh an Banc Ceannais Eorpach na rátaí úis a laghdú:
- leibhéal an éilimh ar earraí agus ar sheirbhísí in Éirinn;
 - morgáisteoirí;
 - gnólachtaí;
 - lucht coigiltis.
- (30 marc)
[75 marc]

5. (a) Is féidir na cánacha seo a leanas in Éirinn a rangú mar chánacha díreacha nó mar chánacha indíreacha:

CBL ÍMAT CÁIN BHRABÚIS CHORPARÁIDE

- (i) Mínigh an dá théarma a bhfuil líne fúthu.
(ii) Déan gach ceann de na cánacha thuas a rangú mar cháin dhíreach *nó* mar cháin indíreach.
(iii) Luaigh an **rud** ar a ngearrtar gach ceann faoi seach de na cánacha thuas.

(25 marc)

- (b) Dá laghdódh rialtas na hÉireann rátaí na cánach ioncaim:

- (i) Luaigh agus mínigh **dhá** shochar eacnamaíocha do Gheilleagar na hÉireann a bhaineann le rátaí níos ísle sa cháin ioncaim;
(ii) Luaigh agus mínigh **dhá** mhíbhuntáiste eacnamaíocha do Gheilleagar na hÉireann a bhaineann le rátaí níos ísle sa cháin ioncaim.

(20 marc)

- (c) D'fhorbair an t-eacnamaí Adam Smith prionsabail an chánachais seo a leanas:

COTHROMAS BARAINNEACHT CINNTEACHT ÁIS

- (i) Mínigh **gach** ceann de phrionsabail an chánachais thuas;
(ii) Déanann na Coimisinéirí Ioncaim iarracht an leibhéal den imghabháil cánach in Éirinn a laghdú. Mínigh an téarma a bhfuil líne faoi agus bain úsáid as sampla.

(30 marc)

[75 marc]

6. (a) Le cabhair ó Ghníomhaireacht Bhainistíochta na Cistíochta Náisiúnta tá ag éirí go maith leis an rialtas fiachas náisiúnta na hÉireann a laghdú agus ag an am céanna leanúint ag infheistiú i mbonneagar na tíre.

- (i) Mínigh an dá théarma a bhfuil líne fúthu.
(ii) Luaigh **trí** aidhm eacnamaíocha eile atá ag an rialtas.
(iii) Scríobh nótaí gearra ar gach ceann de na haidhmeanna seo.

(25 marc)

- (b) Tá a lán fadhbanna le sárú ag na tíortha beagfhorbartha (LDC *i mBéarla*). Fadhb amháin díobh sin ná méadú san fhiachas náisiúnta.

- (i) Luaigh agus mínigh **trí** fhadhb eacnamaíocha eile atá ag na tíortha seo.
(ii) Luaigh agus mínigh **dhá** bheart a d'fhéadfadh rialtais na dtíortha beagfhorbartha a dhéanamh chun na fadhbanna seo a réiteach.

(25 marc)

- (c) Tá sé mar aidhm ag an Rialtas, ag an nGarda Síochána agus ag an Údarás um Shábháilteacht ar Bhóithre, líon na dtimpistí agus na mbásanna ar bhóithre na hÉireann a laghdú.

- (i) Luaigh agus mínigh **dhá** bheart a d'fhéadfadh an rialtas a dhéanamh chun an aidhm seo a bhaint amach.
(ii) Má éiríonn leis agus má laghdaítear líon na mbásanna, pléigh na hiarmhairtí eacnamaíocha a d'fhéadfadh a bheith ag an bhforbairt seo ar **gach** ceann díobh seo a leanas:
- líon na ndaoine a thagann go seomraí timpistí agus éigeandála na n-ospidéal;
 - costais árachas gluaisteán.

(25 marc)

[75 marc]

7. (a) Sa tábla thíos taispeántar Dlí an Bhuntáiste Chomparáidigh.

	ASCHUR	
	UACHTAR REOITE	SEACLÁID
AN IODÁIL	800 kg an t-oibrí	600 kg an t-oibrí
AN BHEILG	400 kg an t-oibrí	200 kg an t-oibrí
ASCHUR IOMLÁN	1200 kg do 2 oibrí	800 kg do 2 oibrí

Cé go bhfuil an Iodáil níos éifeachtaí i dtáirgeadh an dá earra, ba chóir don dá thír speisialú i dtáirgeadh earra amháin.

- (i) Cé acu earra díobh ba chóir don Iodáil a tháirgeadh? Mínigh do fhreagra go hachomair.
- (ii) Cé acu earra díobh ba chóir don Bheilg a tháirgeadh? Mínigh do fhreagra go hachomair.
- (iii) Má déanann an dá thír speisialú san earra atá roghnaithe agat, ríomh an t-aschur iomlán iarmhartach. **Taispeáin do chuid oibre.**

(20 marc)

- (b) Uaireanta socraíonn rialtais srian a chur ar an tsaorthrádail idirnáisiúnta nuair a chuireann siad bacainní i bhfeidhm, e.g. tarraifí.

- (i) Mínigh an téarma a bhfuil líne faoi.
- (ii) Luaigh **dhá** mhodh eile a d'fhéadfadh rialtais a úsáid chun srian a chur ar an tsaorthrádail.
- (iii) Cén fáth a dteastódh ó rialtais srian a chur ar an tsaorthrádail? Luaigh agus mínigh **dhá** chúis.

(25 marc)

- (c) Is gnách go mbíonn an ráta boilsciú praghsanna in Éirinn níos airde ná tíortha eile san AE.

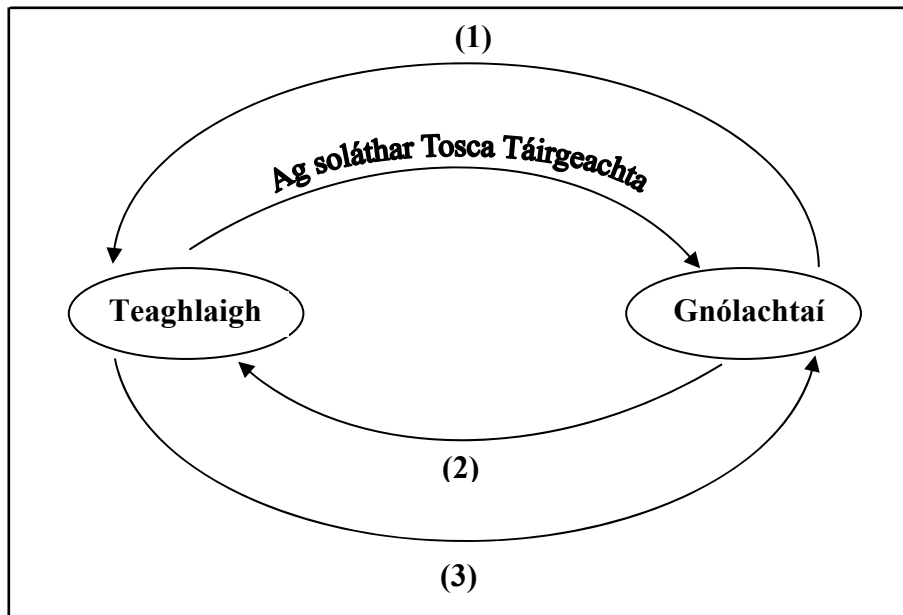
- (i) Mínigh an téarma a bhfuil líne faoi.
- (ii) Luaigh agus mínigh **dhá** chúis a mbíonn boilsciú praghsanna níos airde in Éirinn de ghnáth ná i dtíortha eile an AE.
- (iii) Luaigh agus mínigh na hiarmhairtí a d'fhéadfadh a bheith ag boilsciú níos airde praghsanna in Éirinn orthu seo:

- **onnmhairí** na hÉireann go dtí an AE;
- **allmhairí** na hÉireann ón AE.

(30 marc)

[75 marc]

8. (a) Sa léaráid thíos taispeántar sreabhadh ciorclach an ioncaim i ngeilleagar iata gan Rialtas.



- (i) Míniú an bhrí atá leis an téarma ‘geilleagar iata’.
- (ii) Cóipeáil an léaráid i do fhreagarleabhar. Lipéadaigh go soiléir gach ceann de na línte (1) go (3).
- (iii) Déan tagairt don léaráid thuas agus míniú go hachomair na cineálacha beart / gníomhaíochtaí a tharlaíonn idir na teaghlaigh agus na gnólachtaí.

(25 marc)

- (b) Tugtar duit: Ioncam Náisiúnta mar $Y = C + I + G + X - M$.
 $C = €1,200m$ $I = €500m$ $G = €300m$ $X = €40m$ $M = €80m$.

- (i) Luaigh cad a seasann gach ceann de na litreacha / siombailí thuas dó.
- (ii) Bain úsáid as na figiúirí a thugtar agus ríomh leibhéal an Ioncaim Náisiúnta.
Taispeáin do chuid oibre.

(20 marc)

- (c) Tugtar an t-eolas seo a leanas duit maidir le tír áirithe.

	1998	2008
OTN ag praghsanna an mhargaidh	€2,500 milliún	€2,700 milliún
Daonra	5 mhilliún	6 mhilliún

- (i) Cad a seasann na ceannlitreacha OTN (GNP *i mBéarla*) dó?
- (ii) Ríomh an OTN in aghaidh an duine don dá bhliain. **Taispeáin do chuid oibre go léir.**
- (iii) Luaigh agus míniú **dhá** mhíbhuntáiste eacnamaíochacha do thír a d’fhéadfadh teacht as **laghdú** san OTN in aghaidh an duine.

(30 marc)

[75 marc]

Ná dearmad an ceistpháipéar seo a thabhairt ar ais leis an/na (bh)freagarleabha(i)r a úsáideadh chun na ceistanna i Roinn B a fhreagairt.

Leathanach Bán

Leathanach Bán

Leathanach Bán