

RABHADH

CAITHFEAR an Ceistpháipéar seo a chur ar ais le do fhreagarleabha(i)r ag deireadh an scrúdaithe, nó caillfear marcanna.

Scríobh do Scrúduimhir anseo ⇒

**Coimisiún na Scrúduithe Stáit**

SCRÚDÚ NA hARDTEISTIMÉIREACHTA, 2006

DÉ CÉADAOIN, 21 MEITHEAMH 2006, MAIDIN 9.30 – 12.00

EACNAMAÍOCHT – GNÁTHLEIBHÉAL
(400 Marc)

Freagair **sé** cheist i Roinn A agus **ceithre** cheist i Roinn B. Tabharfar creidiúint ar fhreagairt shoiléir ghonta agus ar ord slachtmhar a bheith ar an ábhar.

ROINN A (100 marc)

Freagair **sé** cinn de na **naoi** gceist le freagraí gearra sna spásanna atá ann dóibh.

ROINN B (300 marc)

Freagair **Ceithre** cheist.

Scríobh na freagraí i do fhreagarleabha(i)r.

Ná scríobh na freagraí do Roinn B ar an gceistpháipéar seo.

Tá na ceisteanna ar fad ar aon mharc (75 marc).

Tabhair faoi deara go bhfuil fo-ranna sna ceisteanna.

NÁ DEARMAD AN CEISTPHÁIPÉAR SEO A THABHAIRT AR AIS LEIS AN/NA F(H)REAGARLEABHA(I)R A ÚSÁIDEADH CHUN NA CEISTEANNA I ROINN B A FHREAGAIRT

ROINN A (100 Marc)

Freagair **sé** cinn de na **naoi** gceist le freagraí gearra seo a leanas sna spásanna atá ann dóibh.

1. Táirgeann gnólacht 4 aonad de tháirge áirithe gach seachtain. Faigheann siad €2,000 san iomlán as na ceithre aonad sin a dhíol. Íocann an gnólacht na costais seo a leanas agus iad ag táirgeadh na gceithre aonad seo:

Amhábhair €500; Cíos ar Fhoirgnimh €400; Pá €400; Árachas ar Fhoirgnimh €200.

- (a) Scríobh, sna spásanna thíos, cé acu dhá cheann ar costais sheasta iad agus cé acu dhá cheann ar costais athraitheacha iad.

Costais Sheasta		Costais Athraitheacha	
1.	2.	1.	2.

- (b) Ríomh na nithe seo a leanas agus taispeáin do chuid oibre:

(i) an **COSTAS IOMLÁN** ar na 4 aonad uile a tháirgeadh; _____

(ii) an **BRABÚS** a dhéantar ar na díolacháin; _____

(16 mharc)

2. Cad iad na heagraíochtaí a seasann na ceannlitreacha seo a leanas dóibh? (Glacfar le freagraí i nGaeilge nó i mBéarla.)

(i) POS (CSO *i mBéarla*) _____

(ii) BCE (ECB *i mBéarla*) _____

(16 mharc)

3. Sainmhíneadh **cáin indíreach**.

(i) Sainmhíniú: _____

(ii) Cuir ciorcal thart ar an **DÁ** shampla de cháin indíreach ón liosta thíos. (Ná cuir ciorcal thart ar níos mó ná **DHÁ CHEANN** díobh seo.)

ÍMAT (PAYE *i mBéarla*) Dleacht Mháil Cáin Chorporáide CBL (VAT *i mBéarla*)

(16 mharc)

4. Ainmnigh an t-eacnamaí a luaitear go príomha le gach ceann, faoi seach, de na tuairimí eacnamaíochta sa liosta thíos:

Prionsabail an Chánachais _____

Teoiric um Fhabhar Leachtachta _____

Teoiric um Dhaonra agus Sholáthar Bia _____

(16 mharc)

5. (i) Críochnaigh an abairt seo a leanas:

Tomhaiseann **Leaisteachas Ioncaim an Éilimh** (YED *i mBéarla*) an t-athrú céatadán ar _____ ar earra de bharr athrú céatadán ar _____ an tomhaltóra.

(ii) ‘Bíonn leaisteachas ioncaim an éilimh **Deimhneach** i gcás earra normálta.’ Mínigh an ráiteas sin.

(16 mharc)

6. Tugtar an t-eolas seo a leanas duit maidir le tír áirithe.

	1995	2005
Olltáirgeacht Náisiúnta (OTN) ar phraghsanna an mhargaidh	€500 m	€1,200 m
Daonra	10 milliún	12 milliún

Ríomh an **OTN in aghaidh gach duine** sa dá bhliain. Taispeáin do chuid oibre.

1995	2005
<u>Obair</u>	<u>Obair</u>
Freagra:	Freagra:

(17 marc)

7. Feidhm amháin atá ag an mBanc Ceannais (a nglaoitear Banc Ceannais agus Údarás Seirbhísí Airgeadais na hÉireann air anois) ná **gníomhú mar bhaincéir an rialtais.**

Mínigh an fheidhm a bhfuil líne fúithi agus luaigh **DHÁ** phríomhfheidhm eile atá ag an mBanc Ceannais.

Míniú: _____

Feidhm 1: _____

Feidhm 2: _____

(17 marc)

8. Luaigh buntáiste eacnamaíoch **AMHÁIN** agus míbhuntáiste eacnamaíoch **AMHÁIN** do gheilleagar na hÉireann a bhaineann le méadú an Aontais Eorpaigh (AE) le déanaí.

Buntáiste eacnamaíoch amháin _____

Míbhuntáiste eacnamaíoch amháin _____

(17 marc)

9. Bonn tuisceana amháin ag gnólacht in **Iomaíocht Fhoirfe** ná go bhfuil *eolas foirfe ar bhrabús agus ar phraghsanna ann.*

Luaigh **CEITHRE** bhonn tuisceana eile ag gnólacht in Iomaíocht Fhoirfe.

(i) _____

(ii) _____

(iii) _____

(iv) _____

(17 marc)

Ná dearmad an ceistpháipéar seo a thabhairt ar ais leis an/na f(h)reagarleabha(i)r a úsáideadh chun na ceisteanna i Roinn B a fhreagairt.

ROINN B (300 Marc)

Freagair **Ceithre** cheist.

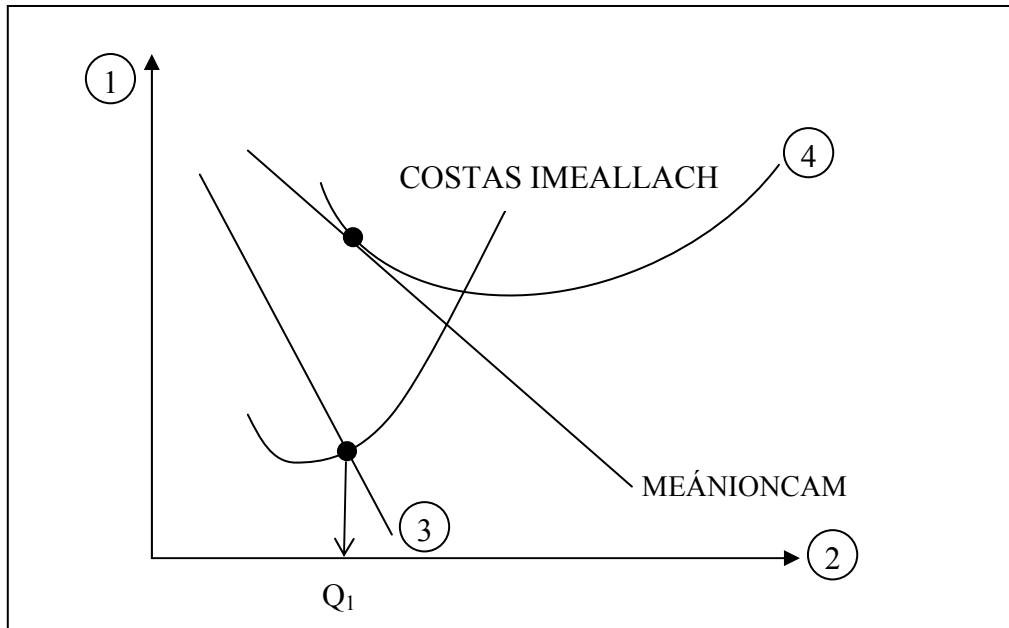
Scríobh na freagraí i do fhreagarleabha(i)r.

Ná scríobh na freagraí do Roinn B ar an gceistpháipéar seo.

Tá na ceisteanna ar fad ar aon mharc (75 marc).

Tabhair faoi deara go bhfuil fo-ranna sna ceisteanna.

1. Taispeánann an léaráid thíos cothromaíocht fhadtréimhseach gnólachta in **Iomaíocht Neamhhoirfe**.



- (a) (i) Déan cóip den léaráid i do fhreagarleabhar. Cuir lipéad soiléir ar gach ceann de na línte ó 1 go 4.

- (ii) Táirgeann an gnólacht thuas Q_1 , mar a thaispeántar sa léaráid. Taispeáin ar do léaráid:
- an praghas a ghearrfaidh an gnólacht ar Q_1 , (úsáid lipéad P_1)
 - meánchostas táirgeachta an aschuir seo. (úsáid lipéad C_1)

- (iii) Mínigh, agus tú ag tagairt a dhéanamh don léaráid, cén fáth a bhfuil brabús normálta á thuilleamh ag an gnólacht thuas.

(30 marc)

- (b) Luaigh **TRÍ** bhonn tuisceana atá i **Margadh in Iomaíocht Neamhhoirfe**. Scríobh nótaí gearra ar gach ceann díobh sin.

(25 marc)

- (c) Luaigh, agus mínigh, buntáiste **AMHÁIN** agus míbhuntáiste **AMHÁIN** atá ag margai in **Iomaíocht Neamhhoirfe** do gach ceann díobh seo a leanas:

- Táirgeoirí;
- Tomhaltóirí.

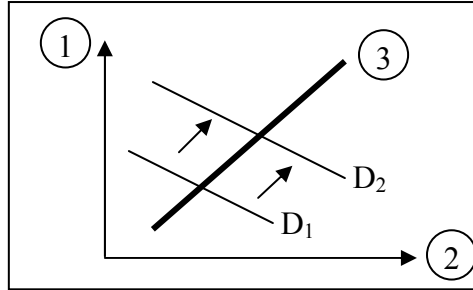
(20 marc)

[75 marc]

2. (a) Chun go n-áireofaí tráchtarra mar earra eacnamaíoch, caithfidh sé a bheith **gann agus inaistrithe** agus caithfidh sé **áirgiúlacht** a sholáthar don tomhaltóir.
- (i) Mínigh **gach** ceann de na téarmaí a bhfuil líne fúthu.
- (ii) ‘Tá an dea-shláinte inmhianaithe ach áirítear mar earra eacnamaíoch í.’
Mínigh an chiall atá leis an ráiteas sin.

(20 marc)

- (b) Taispeánann an léaráid thíos an soláthar agus an t-éileamh ar fhóin phóca in Éirinn.



- (i) Déan cóip den léaráid i do fhreagarleabhar. Cuir lipéad soiléir ar gach ceann de na línte ó 1 go 3.
- (ii) Luaigh, agus mínigh, **DHÁ** chúis a bhfuil an t-éileamh ar fhóin phóca méadaithe, mar a thaispeántar sa léaráid.
- (iii) Déan earra ionaid d’fhón póca a mholadh agus mínigh do fhreagra.

(20 marc)

- (c) Le blianta beaga anuas tá an t-éileamh ar thithe in Éirinn méadaithe.

- (i) Luaigh, agus mínigh, **DHÁ** chúis leis an bhforbairt sin.
- (ii) Mínigh go hachomair conas a théann an fhorbairt sin i bhfeidhm ar **gach** ceann díobh seo a leanas:
- Tionscal na Tógála / na Foirgníochta;
 - An Rialtas;
 - Scairshealbhóirí na mBanc.

(35 marc)

[75 marc]

3. (a) Dhá fheidhm atá ag an airgead ná bheith ina **mheán malairte** agus ina **stóras rachmais**. Mínigh **gach** ceann de na téarmaí a bhfuil líne fúthu agus luaigh feidhm **AMHÁIN** eile ag an airgead.

(20 marc)

- (b) (i) Mínigh cad is ciall leis an téarma ‘**boilsciú praghsanna**’.
- (ii) Luaigh, agus mínigh, an tionchar a d’fhéadfadh a bheith ag **ardú** sa ráta boilscithe praghsanna ar **gach** ceann díobh seo a leanas:
- Pinsinéirí seanaoise;
 - Éilimh ar phá ag oibrithe;
 - An Rialtas.

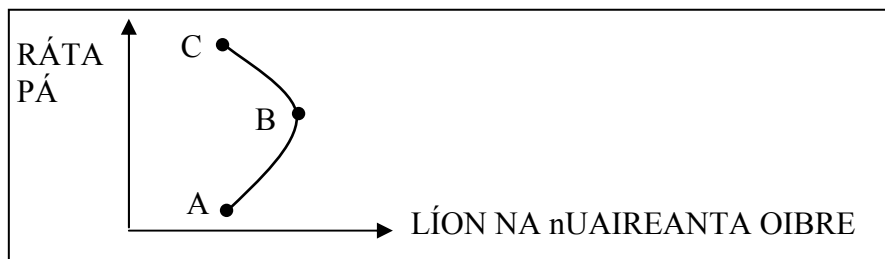
(30 marc)

- (c) Luaigh, agus mínigh, na sochair a thiocfadh as titim sa ráta úis do **gach** ceann díobh seo a leanas:
- Iasachtaithe;
 - Fostóirí;
 - An Rialtas.

(25 marc)

[75 marc]

4. (a) (i) Sainmhíneadh **saothar** mar thoisé tháirgeachta.
(ii) Luaigh, agus mínigh, **DHÁ** chúis a n-íoctar rátaí pá éagsúla ar phoist éagsúla.
(iii) Luaigh, agus mínigh, forbairt **AMHÁIN** a mbeadh sé de thoradh air, b'fhéidir, go ndéanfadh gnólacht laghdú ar líon na n-oibríthe a fhostaíonn sé faoi láthair. (25 marc)
- (b) Taispeánann an léaráid thíos an soláthar saothair ag duine áirithe. Ó phointe A go pointe B tá an duine seo ullamh chun níos mó uaireanta oibre a dhéanamh, de réir mar a mhéadaítear an ráta pá in aghaidh na huairé an chloig.



- (i) Mínigh an chaoi a dtéann méaduithe breise pá ó phointe B go pointe C i bhfeidhm ar an duine seo. Tabhair cúis **AMHÁIN** go dtarlódh sé seo.
(ii) D'fhéadfadh fostóir **sochair chomhchineáil** a thairiscint dá fhostaithe, chomh maith le pá. Mínigh an téarma a bhfuil líne faoi agus tabhair **DHÁ** shampla de shochair chomhchineáil. (25 marc)
- (c) In 2005 méadaíodh an t-íosphá a íoctar le hoibríthe in Éirinn go dtí €7.65. Mínigh an tionchar a d'fhéadfadh a bheith ag an méadú sin ar gach ceann díobh seo a leanas:
- An soláthar saothair;
 - An t-éileamh ar shaothar ag gnólachtaí aonair;
 - An ráta boilscithe in Éirinn.

(25 marc)
[75 marc]

5. Taispeánann an tábla thíos táirgeacht innealra agus éadaí sa tSín agus san India. Cé go bhfuil an tSín níos éifeachtaí i dtáirgeacht an dá earra, bainfidh sé sochar amach fós as an speisialtóireacht.

Tír	Tráchtearra (táirgeacht ag oibrí san uair)	
	Innealra	Éadaí
An India	5 aonad	10 n-aonad
An tSín	6 aonad	20 aonad
Táirgeacht Iomlán	11 aonad	30 aonad

- (a) (i) Mínigh cén fáth ar chóir don tSín díriú ar tháirgeacht éadaí agus don India díriú ar tháirgeacht innealra.
(ii) Ainmnigh an Dlí Eacnamaíochta a bhaineann leis an tábla thuas.
(iii) Má tharlaíonn an speisialtóireacht sin, ríomh an táirgeacht iomlán dá thoradh sin. Taispeáin do chuid oibre. (30 marc)
- (b) (i) Luaigh, agus mínigh, **TRÍ** chúis a bhfuil tábhacht le hallmhairí i ngeilleagar na hÉireann.
(ii) Is sampla d'allmhaire dhofheicthe in Éirinn iad na hÉireannaigh a bheidh ag freastal ar Chorn an Domhain sa Ghearmáin. Luaigh **DHÁ** shampla eile d'**allmhairí dofheicthe**. (25 marc)
- (c) Tá seans go gcinneadh rialtais ar shrian a chur leis an tsaorthrádáil idirnáisiúnta.
(i) Luaigh, agus mínigh, **DHÁ chúis** a mbeadh fonn ar rialtas srian a chur le hallmhairí.
(ii) Luaigh, agus mínigh, **DHÁ mhodh** a d'úsáidfeadh rialtas chun srian a chur le hallmhairí. (20 marc)
[75 marc]

6. (a) Fadhb amháin atá ag tíortha tearcforbartha (LDCs i mBéarla) faoi láthair ná ráta ard fáis sa daonra.
- (i) Luaigh, agus mínigh, **TRÍ** fhadhb eacnamaíocha eile (seachas fás an daonra), atá ag cur as do na tíortha seo.
- (ii) Mol **DHÁ** bheart, a d'fhéadfadh daoine sa domhan forbartha a dhéanamh, chun cabhrú leis na tíortha seo a gcuid fadhbanna a laghdú.
- (25 marc)
- (b) Tá lánfhostaíocht i ngeilleagar na hÉireann faoi láthair.
- (i) Mínigh an téarma a bhfuil líne faoi.
- (ii) Luaigh, agus mínigh, an tionchar a d'fhéadfadh a bheith ag an lánfhostaíocht ar **gach** ceann díobh seo a leanas:
- leibhéal an chaiteachais sa gheilleagar;
 - leibhéal na hinimirce go hÉirinn.
- (20 marc)
- (c) Tá a lán Éireannach buartha faoi leibhéal ólta an alcóil in Éirinn.
- (i) Luaigh, agus mínigh, **DHÁ** bheart eacnamaíocha a d'fhéadfadh an Rialtas a dhéanamh chun **laghdú** ar ólachán an alcóil a spreagadh.
- (ii) Dá laghdófaí ólachán an alcóil, luaigh agus mínigh an tionchar eacnamaíoch a d'fhéadfadh a bheith ag an bhforbairt sin ar **gach** ceann díobh seo a leanas:
- gnólachtaí in earnáil deochanna na hÉireann;
 - leibhéal na neamhláithreachta ag oibrithe;
 - glacadh isteach othar i rannóga timpistí agus éigeandála na n-ospidéal.
- (30 marc)
[75 marc]
7. (a) (i) Is geilleagar oscailte beag í Éire, a bhíonn ag brath ar an infheistíocht chun fás geilleagrach a bhaint amach. Mínigh **gach** ceann de na téarmaí a bhfuil líne fúthu.
- (ii) Tugtha: Ioncam Náisiúnta mar $Y = C + I + G + X - M$
 $C = €5,000m$; $I = €2,500m$; $G = €2,300m$; $X = €1,000m$ agus $M = €800m$
- Ríomh, agus na figiúirí tugtha á n-úsáid agat, leibhéal an ioncaim náisiúnta. Taispeáin do chuid oibre ar fad.
- (25 marc)
- (b) Tá fás geilleagrach ard in Éirinn le blianta beaga anuas.
- (i) Luaigh, agus mínigh, **DHÁ bhuntáiste** a d'fhéadfadh a bheith ag an tír as an bhfás geilleagrach.
- (ii) Luaigh, agus mínigh, **DHÁ mhíbhuntáiste** a d'fhéadfadh a bheith ag an tír as an bhfás geilleagrach.
- (25 marc)
- (c) Chabhraigh infheistíocht choigríche le fás geilleagrach na hÉireann.
- (i) Cén fáth a roghnaíonn gnólachtaí coigríche a láithriú in Éirinn? Luaigh, agus mínigh, **DHÁ** chúis eacnamaíocha leis.
- (ii) Luaigh, agus mínigh, bealach **AMHÁIN** a mbíonn tionchar ag na gnólachtaí coigríche seo ar **gach** ceann díobh seo a leanas:
- Leibhéal na fostaíochta in Éirinn;
 - Leibhéal na n-onnmhairí as Éirinn;
 - An t-ioncam a bhailítear ón gcáin in Éirinn.
- (25 marc)
[75 marc]

8. (a) Réitíonn Aire Airgeadais an Buiséad Reatha seo a leanas do 2006.

Buiséad Reatha – 2006			
Ioncam Reatha an Rialtais	€3,800m	Caiteachas Reatha an Rialtais	€3,000m

- (i) Luaigh **DHÁ** shampla d'ioncam reatha an Rialtais agus **DHÁ** shampla de chaiteachas reatha an Rialtais.
- (ii) Ríomh an Barrachas sa Bhuiséad Reatha don bhuiséad thuas. Taispeáin do chuid oibre.
- (iii) Dá mbeifeá i d'Aire Airgeadais agus dá mbeadh an Barrachas sin sa Bhuiséad Reatha ar fáil duit, luaigh agus mínigh **DHÁ** bheart a dhéanfa chun an caighdeán maireachtála laistigh den tír a fheabhsú.
- (25 marc)
- (b) Tá ag méadú ar an ioncam ón gcáin in Éirinn le blianta beaga anuas.
- (i) Luaigh, agus mínigh, **DHÁ** chúis leis an bhforbairt sin.
- (ii) Dá ndéanfadh an Rialtas **na rátaí do cháin indíreach a laghdú**, luaigh agus mínigh an tionchar a bheadh ag an bhforbairt sin ar gach ceann díobh seo a leanas:
- Tomhaltóirí;
 - Déantóirí;
 - Gnólachtaí sa tionscal seirbhíse (e.g. óstáin / bialanna)
- (20 marc)
- (c) Tá an Rialtas ag ullmhú do **phríobháidiú** Aer Lingus.
- (i) Mínigh an téarma a bhfuil líne faoi.
- (ii) Luaigh, agus mínigh buntáiste, eacnamaíoch **AMHÁIN** agus míbhuntáiste eacnamaíoch **AMHÁIN** a d'fhéadfadh a bheith ag a leithéid d'fhorbairt do gach ceann díobh seo a leanas:
- fostaithe Aer Lingus;
 - paisinéirí Aer Lingus;
 - cáiníocóirí na hÉireann.

(30 marc)

[75 marc]

Ná dearmad an ceistpháipéar seo a thabhairt ar ais leis an/na f(h)reagarleabha(i)r a úsáideadh chun na ceisteanna i Roinn B a fhreagairt.