

RABHADH

Ní mór duit an Páipéar Ceisteanna seo a chur ar ais le do leabha(i)r freagraí ag deireadh an Scrúdaithe, nó caillfear marcanna.

Scríobh d'Uimhir Scrúdaithe anseo ⇒

**Coimisiún na Scrúduithe Stáit**

SCRÚDÚ NA hARDTEISTIMÉIREACHTA, 2003

DÉ CÉADAOIN, 18 MEITHEAMH 2003, MAIDIN 9.30 – 12.00

EACNAMAÍOCHT - GNÁTHLEIBHÉAL
(400 Marc)

Freagair **sé** cheist as Roinn A agus **ceithre** cheist as Roinn B. Tabharfar creidiúint ar fhreagraí soiléire, gonta agus ar chur i láthair slachtmhar an ábhair.

ROINN A (100 marc)

Freagair **sé** cinn as **naoi** gcinn de na ceisteanna gearra sna spásanna atá ar fáil chuige sin.

ROINN B (300 marc)

Ceithre cheist le freagairt i do leabha(i)r freagraí.
Tá na ceisteanna ar fad ar aon mharc (75 marc).
Tabhair faoi deara na fo-ranna sna ceisteanna.

CUIMHNIGH GO gCAITHFIDH TÚ AN PÁIPÉAR CEISTEANNA SEO A CHUR AR AIS LEIS AN/NA LEABHA(I)R FREAGRAÍ A ÚSÁIDEADH CHUN NA CEISTEANNA I ROINN B A FHREAGAIRT.

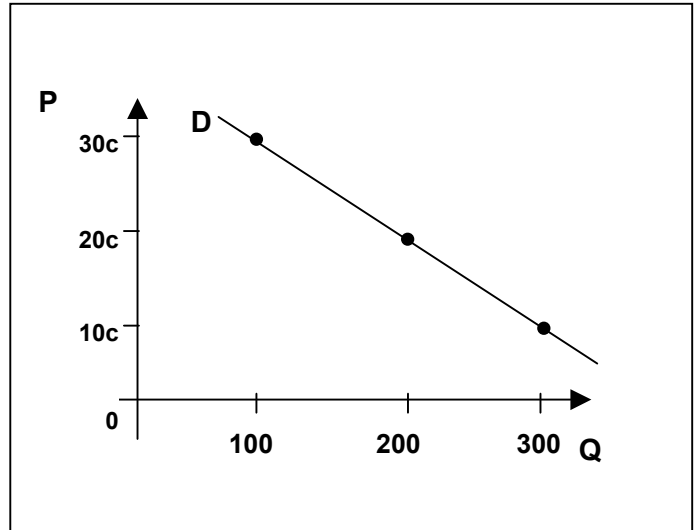
ROINN A (100 marc)

Freagair **sé** cinn as **naoi** gcinn de na ceistanna gearra sna spásanna atá ar fáil chuige sin.

1. Breathnaigh ar chuar an éilimh a thaispeántar d'Earra "x".

- (i) 'Feidhmíonn Earra "x" de réir chuar an éilimh'.
Mínigh an ráiteas seo go hachomair.

- (ii) Bain úsáid as an léaráid chun an chainníocht d'Earra "x" a éileofar más é 20c an praghas díolacháin, a dheimhniú.



Freagra:

(16 marc)

2. Cuir fáinne timpeall ar an bhfocal ceart i gcás **gach ceann** de na roghanna atá folínithe thíos:

"Is é is barainneacht scála inmheánach ann ná toisc ar bith is cúis le ardú / ísliú ar chostas an aonaid de réir mar a mhéadaíonn / íslíonn an gnólacht / tionscal scála (nó méid) a chuid oibriúchán."

(16 marc)

3. (i) Cuir isteach na siombailí atá ar iarraidh sa chothromóid Ioncam Náisiúnta anseo thíos:

$$Y = \square + I + G + X - \square$$

(iii) Scríobh amach **go hiomlán** an bhrí atá leis na siombailí anseo thíos:

I : _____

G : _____

(16 marc)

4. Má bhíonn mórán earraí ionaid cóngaracha ag earra, beidh laghdú suntasach ar an éileamh atá air má ardaíonn a phraghas.

(i) An bhfuil an t-éileamh ar a leithéid d'earra 'leasteach' nó 'neamhleasteach'? _____

(ii) Mínigh go hachomair cén fáth a dtitfidh an t-éileamh go suntasach sa chás seo.

(16 marc)

5. Mínigh an téarma ‘**earra comhlántach**’ (nó comhlánú) maidir le gluaisteáin.

(16 marc)

6. Maidir leis na bacainní ar shaorthrádáil, meaitseáil an modh leis an míniú ceart.
(Léirítear an chéad fhreagra mar shampla duit)

AINM

- A. Bacainní riaracháin
- B. Trádbhac
- C. Cuóta
- D. Taraif
- E. Fóirdheontas

MÍNIÚ

- 1. Íocaíocht le honnmhaireoirí
- 2. Srian le cainníocht allmhairithe
- 3. Rialacháin a bhaineann le hallmhairí
- 4. Cosc iomlán ar tháirge
- 5. Cáin ar allmhairithe

AINM →	A	B	C	D	E
MÍNIÚ →	3				

(17 marc)

7. Ainmnigh an t-eacnamaí atá luaite leis na smaointe eacnamaíochta atá liostaithe thíos:

- (i) Teoiric dhaonra agus sholáthar bia _____
- (ii) Prionsabail an Chánachais _____
- (iii) An t-Éifeacht Iolraitheora _____

(17 marc)

8. Más easnamh an toradh atá ar bhuiséad iomlán an rialtais, an méadóidh nó an laghdóidh sé seo an Fiachas Náisiúnta?

Freagra:

Mínigh do fhreagra go hachomair.

(17 marc)

9. Mínigh buntáiste eacnamaíoch **AMHÁIN** do gheilleagar na hÉireann a bhaineann le méadú an Aontais Eorpaigh.

(17 marc)

Cuimhnigh go gcaithfidh tú an páipéar ceisteanna seo a chur ar ais leis an/na leabha(i)r freagraí a úsáideadh chun na ceisteanna i Roinn B a fhreagairt.

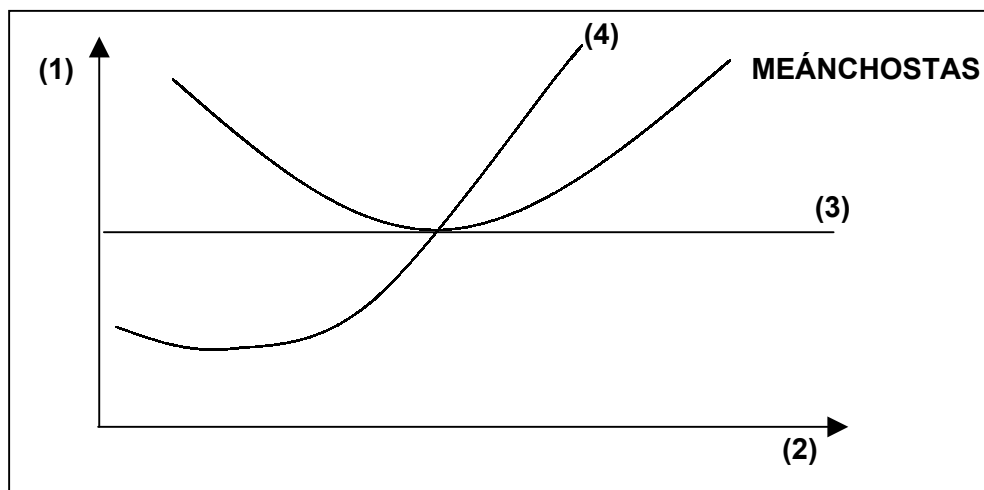
ROINN B (300 marc)

Ceithre cheist le freagairt i do leabha(i)r freagraí.

Tá na ceisteanna ar fad ar aon mharc (75 marc).

Tabhair faoi deara na fo-ranna sna ceisteanna.

1. Léiríonn an léaráid thíos cothromaíocht fhadtéarmach ghnólachta in **Iomaíocht Fhoirfe**.



- (a) (i) Déan cóip den léaráid i do leabhar freagraí. Cuir lipéad soiléir ar **gach** líne atá uimhrithe ó (1) go (4).

- (ii) Taispeáin ar do léaráid:

- an t-aschur a tháirgeoidh an gnólacht i gcothromaíocht (úsáid lipéad **Q**)
- meánchostas táirgeachta an aschuir seo (úsáid lipéad **C**)
- an praghas a ghearrfaidh sé ar an aschur seo (úsáid lipéad **P**)

(25 marc)

- (b) Tá cuar meánchostais an ghnólachta “U”-chruthach ar an léaráid thuas.

- (i) Mínigh fáth **AMHÁIN** a gclaonann an cuar seo anuas ar dtús.

- (ii) Mínigh fáth **AMHÁIN** a gclaonann sé in airde ar deireadh.

(20 marc)

- (c) In Iomaíocht Fhoirfe, meallann brabús osnormálta gnólachtaí nua isteach sa tionscal san fhadtéarma.

- (i) Mínigh go hachomair an bhrí atá le ‘brabús osnormálta’.

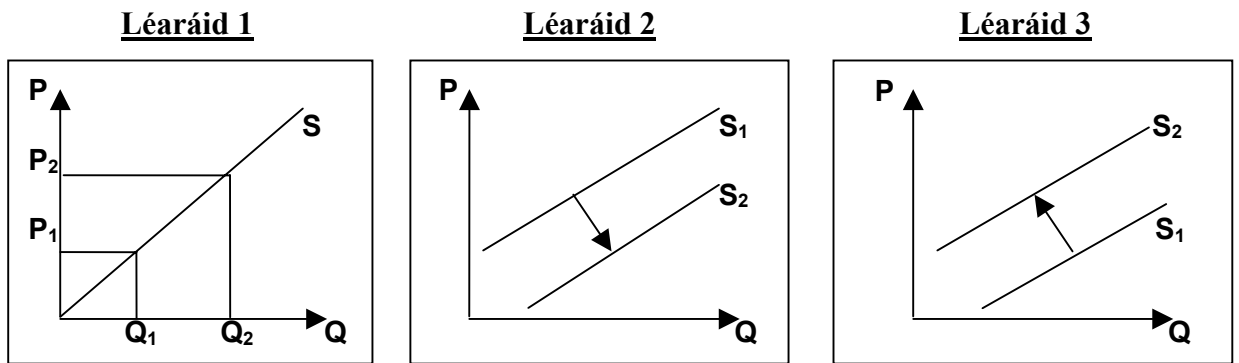
- (ii) Luaigh buntáiste **AMHÁIN** a bhaineann le leibhéil arda brabúis i dtionscal do **gach** ceann díobh seo a leanas:

- an rialtas
- na fostaithe sa tionscal atá i gceist.

(30 marc)

[75 marc]

2. (a) Léiríonn na trí léaráid thíos athruithe i soláthar cruithneachta:



Cuireann gach ceann de na tarlúintí seo a leanas faoi deara ceann amháin de na hathruithe a thaispeántar thuas:

- (i) titeann costas shíol cruithneachta go suntasach
- (ii) téann oibrithe áirithe atá ag baint na cruithneachta ar stailc
- (iii) ardaíonn praghas díolachán na cruithneachta.

Luaigh cé acu léaráid a léiríonn gach ceann de na trí tharlúintí atá liostaithe thuas, agus i **ngach** cás, mínigh cén fáth a ndéanann an soláthar freagairt sa chaoi a léirítear é ar an léaráid atá roghnaithe agat.

(25 marc)

- (b) Íocann táirgeoir gránach cíos ar pháirc a úsáid. Íocann an táirgeoir pá gach seachtain freisin leis na h-oibrithe. Ar na costais eile aige tá an bille ar shíol, agus aisíocaíocht iasachta in aghaidh na míosa ar sholáthar airgid chun innealra a cheannach.

- (i) Sainmhíneadh costais sheasta agus costais athraitheacha.
- (ii) I gcás **gach ceann** de na ceithre íocaíocht atá folínithe thuas, luaigh más samplaí iad de chostais sheasta nó de chostais athraitheacha.

(30 marc)

- (c) Tá soláthar mórán earraí talmhaíochta laghdaithe in Éirinn le blianta beaga de bharr na drochaimsire.

Luaigh agus mínigh an chaoi a bhféadfadh tionchar a bheith ag an tarlú seo ar **gach** ceann díobh seo a leanas:

- (i) praghas díolacháin na n-earraí seo.
- (ii) Comhardú Trádála na hÉireann.

(20 marc)

[75 marc]

3. (a) (i) Sainmhínigh an téarma ‘lucht saothair’.
- (ii) Luaigh agus mínigh **DHÁ** chúis a n-íoctar rátaí éagsúla pá ar jabanna éagsúla. (25 marc)
- (b) Luaigh agus mínigh **DHÁ** chúis go dtarlódh sé go laghdódh gnólacht líon na n-oibrithe a fhostaítear faoi láthair. (20 marc)
- (c) I gcás **gach ceann** de na ráitis atá liostaithe thíos, luaigh an bhfuil tionchar acu ar *shoghluaisteacht gheografach lucht oibre NÓ ar sho-aistritheacht gairme lucht oibre*, agus inis cén fáth.
- Ardaíonn an praghas tithíochta go mór i réigiúin thionsclaíocha.
 - Ní mór ardchaighdeán oideachas foirmeálta do mhórán de na poist atá ar fáil .
 - Scaoileann an rialtas na srianta ar inimirce isteach as tír.
- (30 marc)
- [75 marc]

4. (a) (i) Mínigh an téarma ‘Easnamh i gComhardú na Trádála’.
- (ii) Luaigh agus mínigh **DHÁ** bheart a d’fhéadfadh rialtas a dhéanamh chun easnamh i gComhardú na Trádála a laghdú. (25 marc)
- (b) Úsáidtear na hargóintí seo a leanas uaireanta mar thacaíocht le bacainní saorthrádála a bheith ann:
- (i) is gá jabanna sa gheilleagar baile a chosaint.
- (ii) tá buntáiste éagórach ag earraí as geilleagair ‘íseal-phá’.
- (iii) gan srianta, d’fhéadfadh tíortha eile ‘dumpáil’ a dhéanamh.
- Mínigh go hachomair, an bhrí atá le **DHÁ CHEANN** ar bith de na hargóintí atá liostaithe thuas. (20 marc)
- (c) Luaigh agus mínigh an chaoi a mbeadh tionchar ag **gach ceann** de na tarlúintí seo a leanas ar onnmhairithe as tíortha an euro-zóin:
- (i) titeann luach an dollair Mheiriceánaigh in aghaidh an *euro*.
- (ii) titeann an meán-ráta boilscithe i dtíortha an euro-zóin faoi bhun an ráta boilscithe i Stáit Aontaithe Mheiriceá
- (iii) cuirtear tús le téarnamh eacnamaíoch i Stáit Aontaithe Mheiriceá. (30 marc)
- [75 marc]

5. (a) Sainmhínigh **TRÍ CINN AR BITH** díobh seo a leanas:

- Caiteachas Caipitil an Rialtais
- Barrachas Reatha Buiséid
- Fiachas Náisiúnta
- Cáin Indíreach.

(20 marc)

(b) Luaigh agus mínigh bealach **AMHÁIN** a bhféadfadh an rialtas **beartas fioscach** a úsáid chun **gach ceann** de na cuspóirí atá liostaithe thíos a bhaint amach:

- Fostaíocht a chruthú
- Boilsciú a rialú
- Breis infheistíocht eachtrach in Éirinn a chothú.

(25 marc)

(c) Ar na cánacha rialtais atá ann, tá:

ÍMAT (PAYE) CBL (VAT) CÁIN CHORPARÁIDE

(i) Luaigh an mhír ar a leagtar **gach ceann** de na cánacha thuas.

(ii) Luaigh agus mínigh **DHÁ** éifeacht eacnamaíochta atá ag ardú ar rátaí CBL ar gheilleagar na hÉireann.

(30 marc)

[75 marc]

6. (a) “Nuair a tharlaíonn boilsciú i ngeilleagar, titeann caighdeáin mhaireachtála tomhaltóirí”. Mínigh an ráiteas seo go hachomair.

(15 marc)

(b) (i) Luaigh agus mínigh **DHÁ** chúis atá le boilsciú i ngeilleagar.

(ii) Luaigh agus mínigh an chaoi a mbíonn tionchar ag boilsciú ar **DHÁ CHEANN AR BITH** díobh seo a leanas:

- Leibhéal an choigiltis.
- Leibhéal na n-allmhairithe.
- Leibhéal caiteachais an rialtais.

(30 marc)

(c) Mhol an tAire Sláinte agus Páistí le déanaí go mbainfí toitíní den CPI (Tomhas oifigiúil an bhoilscithe in Éirinn).

(i) Cad dó a seasann na litreacha CPI?

(ii) Mínigh go hachomair an t-éifeacht a bheadh ag an moladh thuas ar ráta boilscithe na hÉireann.

(iii) Luaigh agus mínigh **DHÁ** bhealach a bhféadfadh an t-Aire caitheamh toitíní in Éirinn a mhaolú.

(30 marc)

[75 marc]

7. (a) Sa bhliain 2002 rinne an Phríomhoifig Staidrimh (CSO) áireamh ar dhaonra na hÉireann.
- (i) Cad é an téarma oifigiúil a úsáidtear ar áireamh daonra?
- (ii) Mínigh úsáid **AMHÁIN** a d'fhéadfaí a bhaint as eolas ar dhaonra i **ngach** cás díobh seo a leanas:
- An rialtas.
 - Táirgeoirí earraí agus seirbhísí.
- (20 marc)
- (b) Measann an Phríomhoifig Staidrimh (CSO) go bhfuil daonra na hÉireann ag ardú le blianta beaga.
- (i) Luaigh agus mínigh toisc **AMHÁIN** is cúis leis seo
- (ii) Luaigh agus mínigh **DHÁ** éifeacht eacnamaíocha ar gheilleagar na hÉireann a bhaineann le harduithe ar an daonra.
- (25 marc)

(c) Baineann na figiúiri seo a leanas le dhá thír don bhliain 2002:

TÍR	OTN(GNP) IOMLÁN	DAONRA
A	€10,000 m.	2 m.
B	€24,000 m.	6 m.

- (i) Déan an OTN (GNP) **per capita** (in aghaidh an duine) a ríomh do gach tír.
- (ii) Luaigh agus mínigh **DHÁ** chúis a mbíonn difríocht ins an OTN per capita maidir le tíortha éagsúla.
- (30 marc)
[75 marc]

8. (a) Mínigh **TRÍ CINN** ar bith díobh seo a leanas:
- Babhtáil
 - Airgead Plaisteach
 - Beartas Airgeadaíochta
 - Díluacháil (maidir le hairgid reatha).
- (20 marc)
- (b) Luaigh agus mínigh **DHÁ** fheidhm atá ag **gach** ceann díobh seo a leanas:
- Banc Ceannais na hÉireann
 - Banc Thráchtála.
- (30 marc)
- (c) (i) Ainmnigh ballstáit **AMHÁIN** de chuid an Aontais Eorpaigh, seachas an Ríocht Aontaithe, nach n-úsáideann an *euro* mar airgead reatha aige féin.
- (ii) Dá mbeartódh an Ríocht Aontaithe an *euro* a thabhairt isteach, luaigh agus mínigh **DHÁ** éifeacht eacnamaíochta a bheadh ag an dtarlúint seo ar gheilleagar na hÉireann.
- (25 marc)
[75 marc]

Cuimhnigh go gcaithfidh tú an páipéar ceisteanna seo a chur ar ais leis an/na leabha(i)r freagraí a úsáideadh chun na ceisteanna i Roinn B a fhreagairt.