



Coimisiún na Scrúduithe Stáit

State Examinations Commission

Scrúdú na hArdteistiméireachta, 2016

Grafaic Dhearaidh agus Chumarsáide Gnáthleibhéal

Roinn A (60 marc)

Dé Céadaoin, 22 Meitheamh
Tráthnóna, 2:00 - 5:00

Tá an scrúdú seo roinnte ina thrí roinn:

ROINN A (Croiréimsí Staidéir - Ceisteanna Gearra)

ROINN B (Croiréimsí Staidéir - Ceisteanna Fada)

ROINN C (Grafaic Fheidhmeach - Ceisteanna Fada)

ROINN A

- Cuirtear ceithre cheist i láthair.
- Freagair **trí cheist ar bith** ar an mbileog A3 lastall.
- Tá **20 marc** ag gabháil le gach ceann de na ceisteanna i Roinn A.

ROINN B

- Cuirtear trí cheist i láthair.
- Freagair **dhá cheist ar bith** ar pháipéar líníochta.
- Tá **45 marc** ag gabháil le gach ceann de na ceisteanna i Roinn B.

ROINN C

- Cuirtear cúig cheist i láthair.
- Freagair **dhá cheist ar bith** (i.e. na roghanna a bhfuil staidéar déanta agat orthu) ar pháipéar líníochta.
- Tá **45 marc** ag gabháil le gach ceann de na ceisteanna i Roinn C.

Treoracha Ginearálta:

- *Ní mór na línte tógála a thaispeáint ar gach réiteach.*
- *Scríobh uimhir na ceiste go soiléir ar pháipéar na bhfreagraí i Roinn B agus i Roinn C.*
- *Ná bain úsáid ach as taobh amháin den pháipéar líníochta.*
- *Tugtar na toisí go léir ina méadair nó ina milliméadair.*
- *Scríobh do Scrúduimhir sa bhosca thíos agus ar na bileoga eile go léir a úsáidtear.*

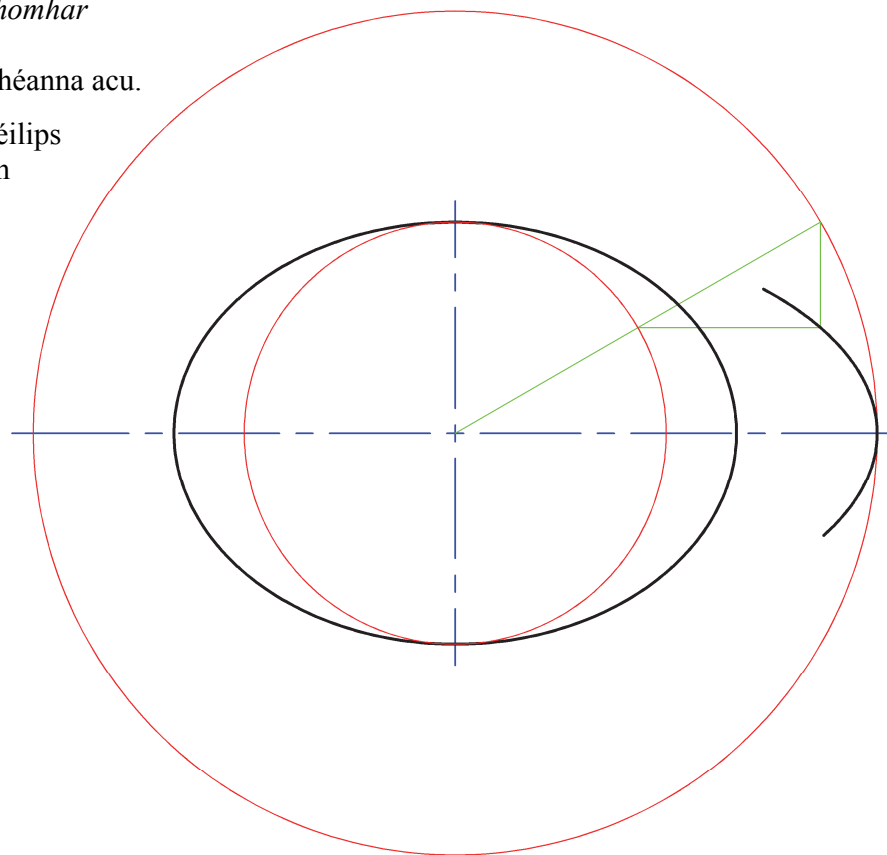
Scrúduimhir:

ROINN A – Croírimsí Staidéir – Freagair trí cinn ar bith de na ceisteanna ar an mbileog A3 seo.

A-1. Taispeánann an ghrafaic thíos lógó *Chomhar Creidmheasa na hÉireann*. Tá dhá éilips ann agus an mhion-ais chéanna acu.

Taispeánann an líniócht ar dheis an t-éilips inmheánach críochnaithe. Tá cuid den dara héilips tarraingthe freisin.

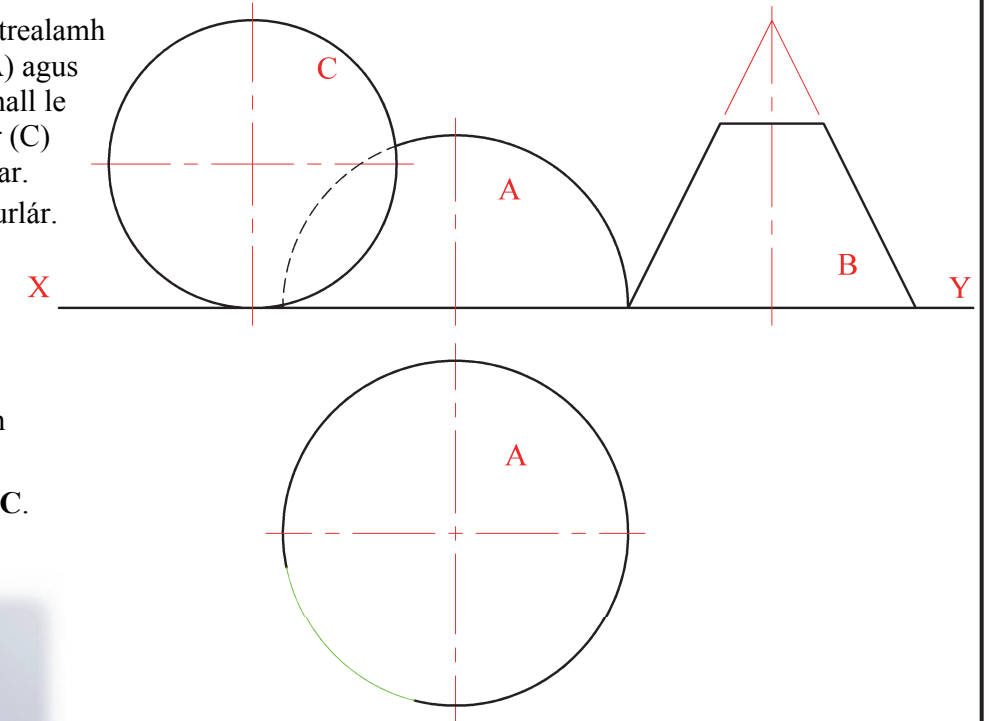

- (a) Aimsigh pointí eile ar an gcuar agus tarraing an dara héilips.
- (b) Aimsigh pointí fócais an dara héilips.



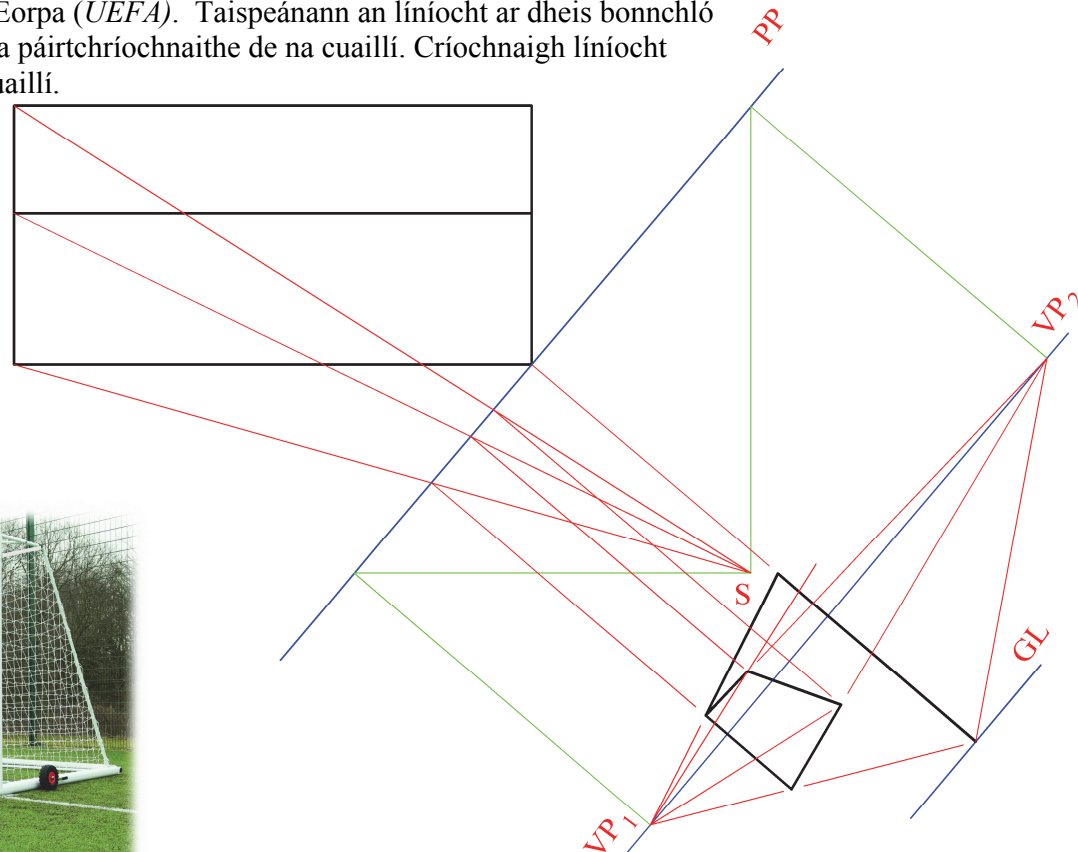
A-3. Taispeánann an ghrafaic 3D de trealamh gleacaíochta thíos, leathsféar (A) agus cón barrscoite (B) i gcomhthadhall le chéile. Taispeántar freisin sféar (C) i gcomhthadhall leis an leathsféar. Tá na trí cinn díobh suite ar an urlár.

Taispeánann an líniócht ar dheis ingearchló agus bonnchló páirtchríochnaithe den trealamh gleacaíochta.

- (a) Tarraing bonnchló an chóin barrscoite B.
- (b) Tarraing bonnchló an sféir C.

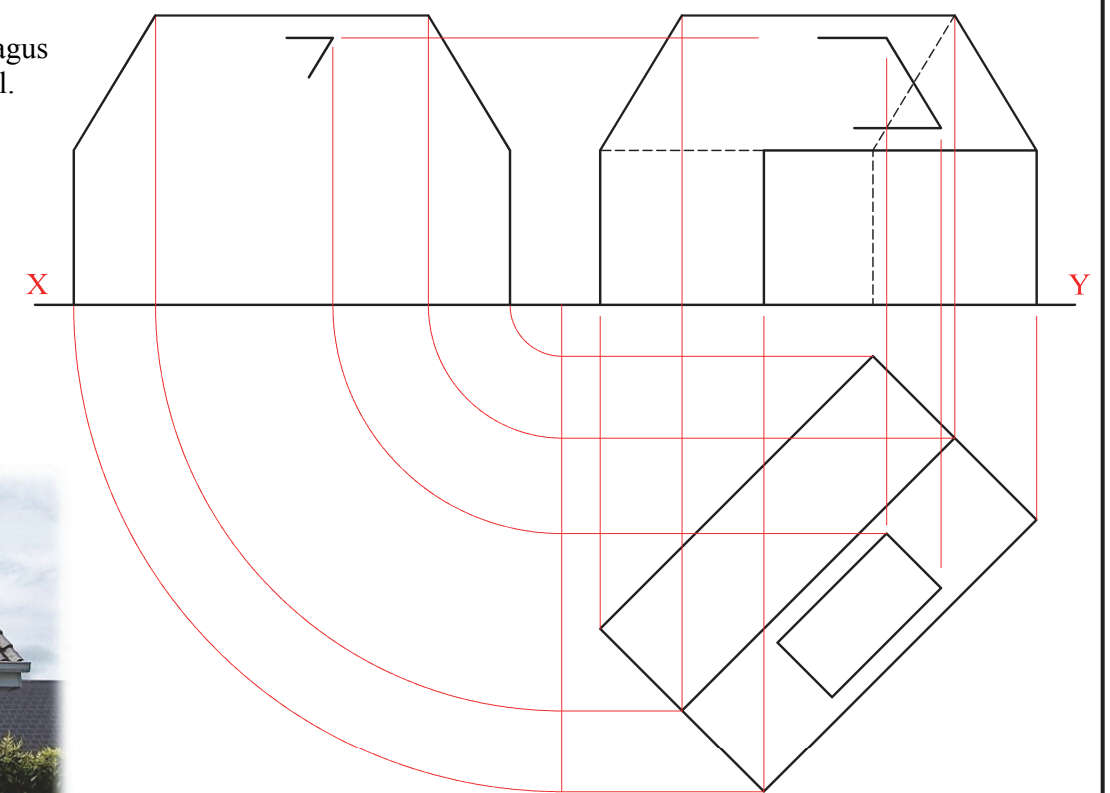


A-2. Taispeánann an ghrafaic 3D thíos foireann cuailí cosúil leo sin a úsáidtear i gceolbhomórtas Aontas Chumainn Sacair na hEorpa (UEFA). Taispeánann an líniócht ar dheis bonnchló agus cló peirspictíochta páirtchríochnaithe de na cuailí. Críochnaigh líniócht pheirspictíochta na gcuailí.



A-4. Taispeánann an íomhá thíos teach a bhfuil ghrianphainéal suite ar a dhíon. Taispeántar freisin bonnchló, ingearchló páirtchríochnaithe agus taobhchló páirtchríochnaithe den teach agus den ghrianphainéal.

- (a) Críochnaigh ingearchló an tí agus an ghrianphainéil.
- (b) Críochnaigh an taobhchló.



Ní mór an scrúdpháipéar seo a thabhairt ar ais ag deireadh an scrúdaithe – Ní mór do Scrúduimhir a chur ar an gclúdach tosaigh.

**Is cuid de Roinn C an léarscáil
chomhairde seo agus ba chóir í a úsáid
don fhreagra ar rogha na Céimseatan
Geolaíche (Ceist C-1) amháin.**

(Scála 1:1000)

