



Coimisiún na Scrúduithe Stáit

State Examinations Commission

Scrúdú na hArdteistiméireachta, 2014

Grafaic Dhearaidh agus Chumarsáide Gnáthleibhéal

Roinn A (60 marc)

Dé Céadaoin, 18 Meitheamh
Tráthnóna, 2:00 - 5:00

Tá an scrúdú seo roinnte ina thrí roinn:

ROINN A (Croiréimsí Staidéir - Ceisteanna Gearra)

ROINN B (Croiréimsí Staidéir - Ceisteanna Fada)

ROINN C (Grafaic Fheidhmeach - Ceisteanna Fada)

ROINN A

- Cuirtear ceithre cheist i láthair.
- Freagair **trí cheist ar bith** ar an mbileog A3 lastall.
- Tá **20 marc** ag gabháil le gach ceann de na ceisteanna i Roinn A.

ROINN B

- Cuirtear trí cheist i láthair.
- Freagair **dhá cheist ar bith** ar pháipéar líníochta.
- Tá **45 marc** ag gabháil le gach ceann de na ceisteanna i Roinn B.

ROINN C

- Cuirtear cúig cheist i láthair.
- Freagair **dhá cheist ar bith** (i.e. na roghanna a bhfuil staidéar déanta agat orthu) ar pháipéar líníochta.
- Tá **45 marc** ag gabháil le gach ceann de na ceisteanna i Roinn C.

Treoracha Ginearálta:

- Ní mór na línte tógála a thaispeáint ar gach réiteach.
- Scríobh uimhir na ceiste go soiléir ar pháipéar na bhfreagraí i Roinn B agus i Roinn C.
- Ná bain úsáid ach as taobh amháin den pháipéar líníochta.
- Tugtar na toisí go léir ina méadair nó ina milliméadair.
- Scríobh do Scrúduimhir sa bhosca thíos agus ar na bileoga eile go léir a úsáidtear.

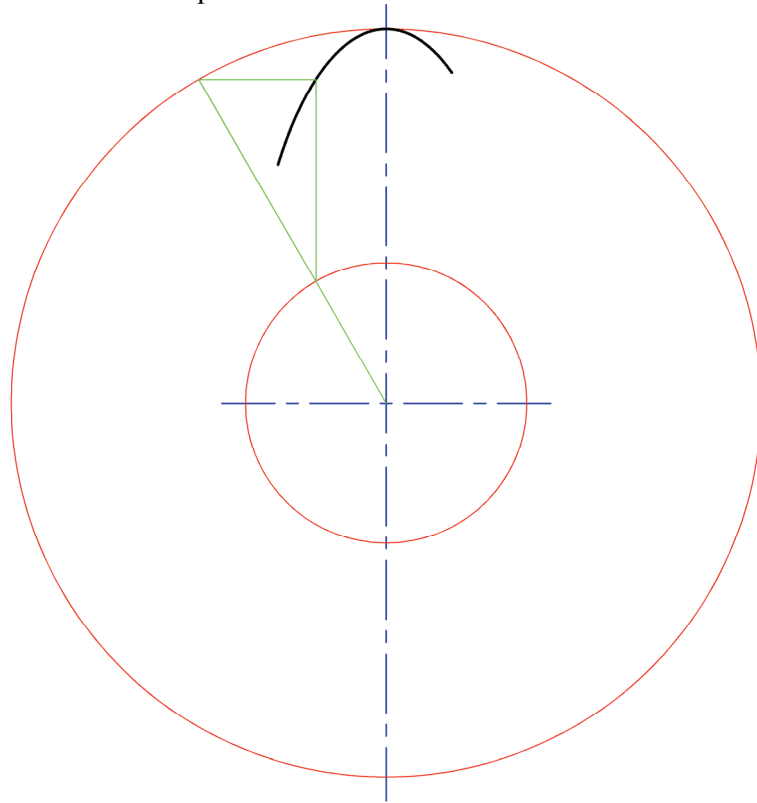
Scrúduimhir:

ROINN A – Croírimsí Staidéir – Freagair trí cinn ar bith de na ceistanna ar an mbileog A3 seo.

A-1. Sa ghrafaic 3D thíos, taispeántar péire fáinní cluaise atá bunaithe ar chruthanna éilipseacha.

Taispeánann an líníocht ar dheis mór-ais agus mion-ais an éilips. Tá cuid den chuar tarraingthe cheana féin.

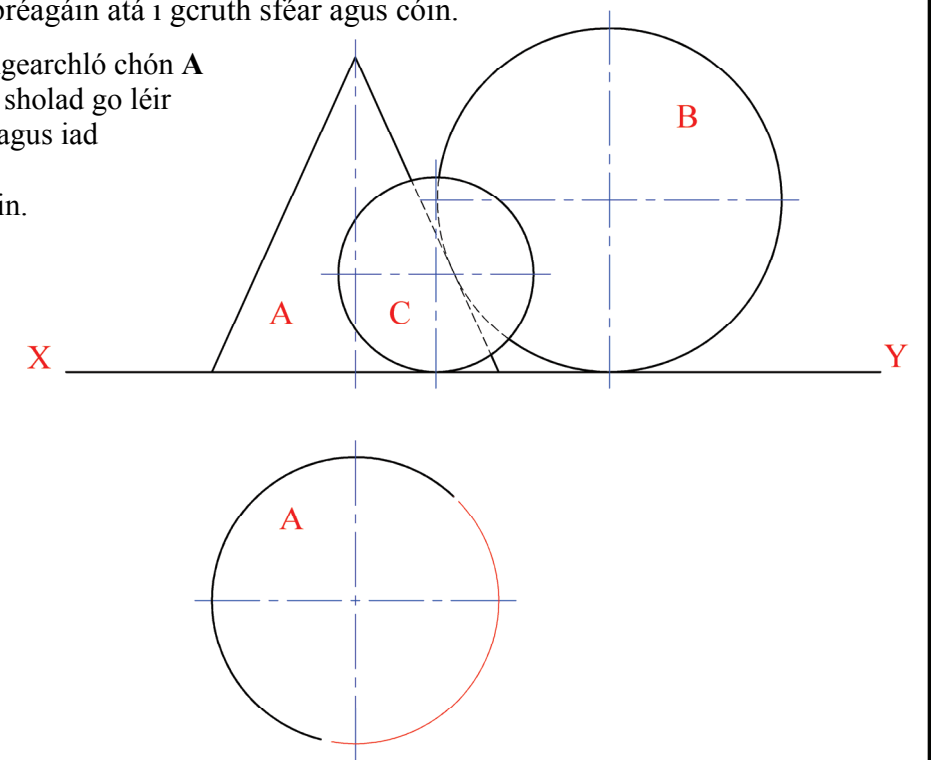
- Aimsigh na pointí eile ar an gcuar agus tarraing an t-éilips.
- Aimsigh pointí fócais an éilips.



A-3. Sa ghrafaic 3D thíos taispeántar bréagáin atá i gcruth sféar agus cóin.

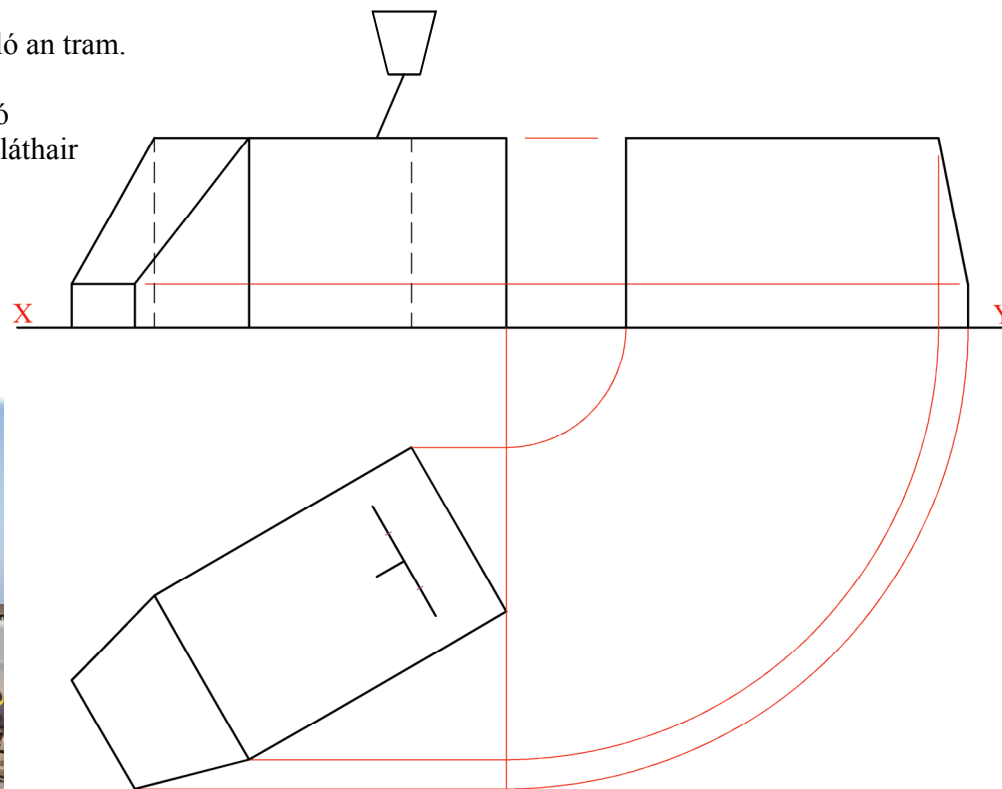
Taispeánann an líníocht ar dheis ingearchló chón A agus dhá sféar, B agus C. Tá na trí sholad go léir ina luí ar an bplána cothrománach agus iad i dteagmháil lena chéile. Taispeántar bonnchló chón A freisin.

- Tarraing bonnchló sféar B.
- Tarraing bonnchló sféar C.



A-2. Sa ghrafaic 3D thíos taispeántar cuid amháin de thram *Luas*. Taispeántar ar dheis an bonnchló, an t-ingearchló agus an taobhchló d'ímlíne an tram. Níl an taobhchló críochnaithe.

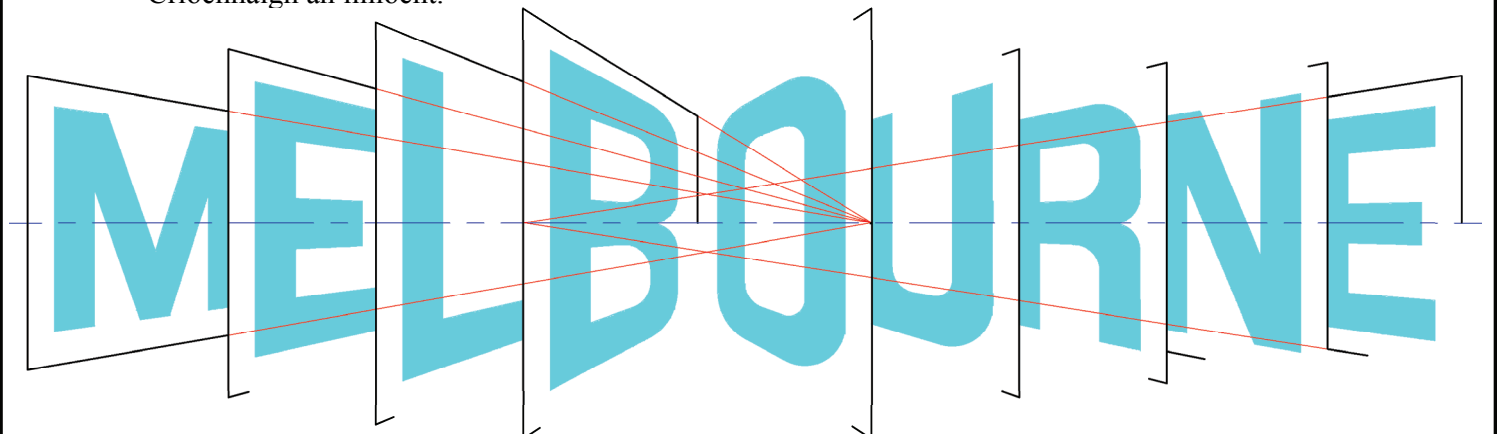
- Críochnaigh taobhchló an tram.
- Tarraing an taobhchló de chónascaire an tsoláthair chumhachta ar bharr an tram.



A-4. Sa ghrafaic 3D ar dheis taispeántar an lógó “MELBOURNE” a bhí ar taispeáint ar chlár fógraí le linn chraobhchomórtas leadóige an *Australian Open*. Tá an lógó deartha le bheith cosúil le leathanaigh as leabhar.

Sa líníocht thíos, nach bhfuil críochnaithe, taispeántar conas a úsáideadh dhá phointe téaltaithe chun an lógó a thógáil.

Críochnaigh an líníocht.



Ní mór an scrúdpháipéar seo a thabhairt ar ais ag deireadh an scrúdaithe – Ní mór do Scrúduimhir a chur ar an gclúdach tosaigh.

**Is cuid de Roinn C an léarscáil
chomh-airde seo agus ba chóir í a úsáid
don fhreagra ar rogha na Céimseatan
Geolaíche (Ceist C-1) amháin.**

(Scála 1:1000)

