



Coimisiún na Scrúduithe Stáit
State Examinations Commission

Scrúdú na hArdteistiméireachta, 2011

Grafaic Dhearaidh agus Chumarsáide
Gnáthleibhéal

Roinn A (60 marc)

Dé hAoine, 17 Meitheamh
Tráthnóna, 2.00 - 5.00

Tá an scrúdú seo roinnte ina thrí roinn:

ROINN A (Croiréimsí Staidéir - Ceisteanna Gearra)

ROINN B (Croiréimsí Staidéir - Ceisteanna Fada)

ROINN C (Grafaic Fheidhmeach - Ceisteanna Fada)

ROINN A

- Cuirtear ceithre cheist i láthair.
- Freagair **trí cheist ar bith** ar an mbileog A3 lastall.
- Tá **20 marc** ag gabháil le gach ceann de na ceisteanna i Roinn A.

ROINN B

- Cuirtear trí cheist i láthair.
- Freagair **dhá cheist ar bith** ar pháipéar líníochta.
- Tá **45 marc** ag gabháil le gach ceann de na ceisteanna i Roinn B.

ROINN C

- Cuirtear cúig cheist i láthair.
- Freagair **dhá cheist ar bith** (i.e. na roghanna a bhfuil staidéar déanta agat orthu) ar pháipéar líníochta.
- Tá **45 marc** ag gabháil le gach ceann de na ceisteanna i Roinn C.

Treoracha Ginearálta:

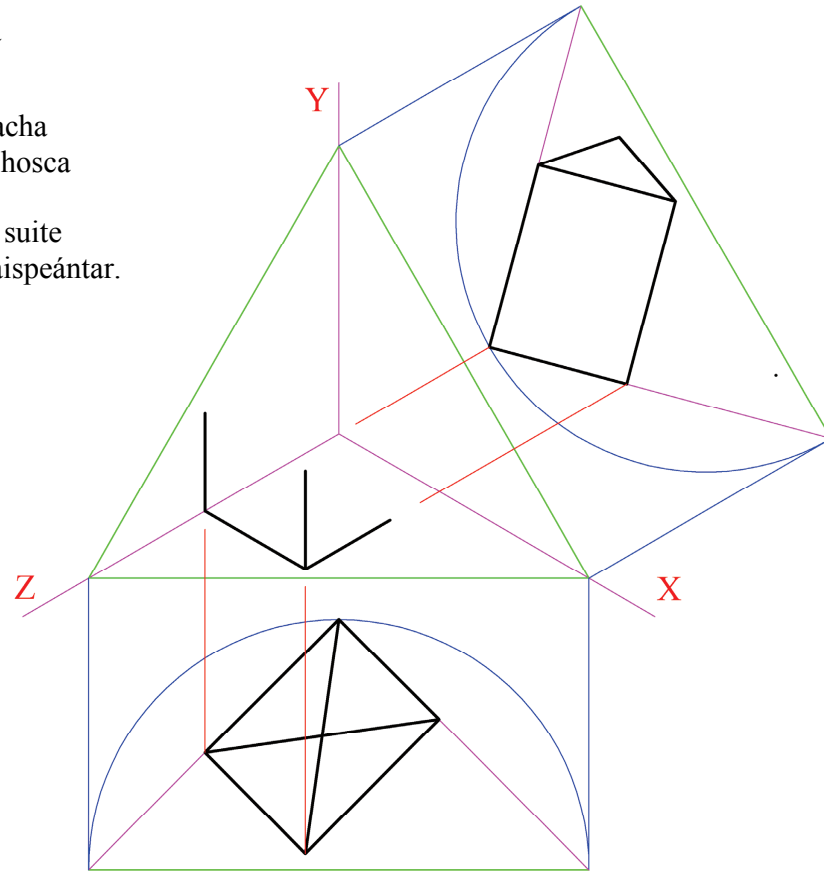
- *Ní mór na línte tógála a thaispeáint ar gach réiteach.*
- *Scríobh uimhir na ceiste go soiléir ar pháipéar na bhfreagraí i Roinn B agus i Roinn C.*
- *Ná bain úsáid ach as taobh amháin den pháipéar líníochta.*
- *Tugtar na toisí go léir ina méadair nó ina milliméadair.*
- *Scríobh do Scrúduimhir sa bhosca thíos agus ar na bileoga eile go léir a úsáidtear.*

Scrúduimhir:

ROINN A – Croírimsí Staidéir – Freagair trí cinn ar bith de na ceisteanna ar an mbileog A3 seo

A-1. Taispeánann an ghrafaic 3D thíos bosca teileafóin traidisiúnta Éireannach.

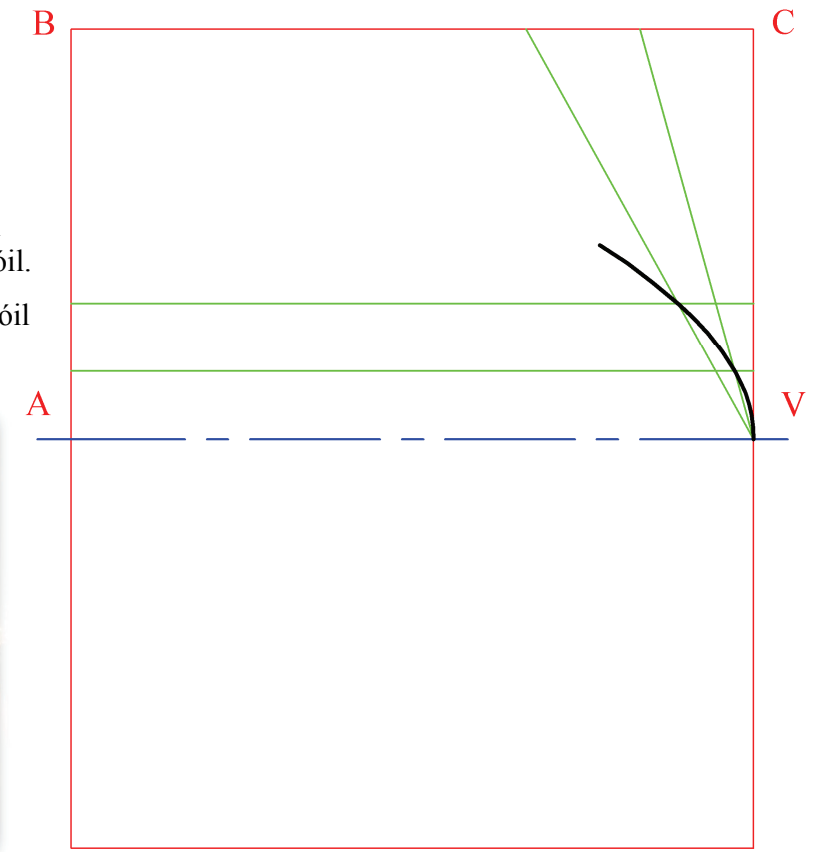
Taispeántar foireann aiseanna isiméadracha agus líníocht neamhchríochnaithe den bosca ar dheis. Tá ingearchló agus bonnchló an bosca suite i gcoibhneas leis na haiseanna mar a thaispeántar. Críochnaigh an teilgean aismhéadrach.



A-3. Taispeánann an ghrafaic 3D thíos an droichead is nua i mBaile Átha Cliath atá i bhfoirm leath-pharabóile.

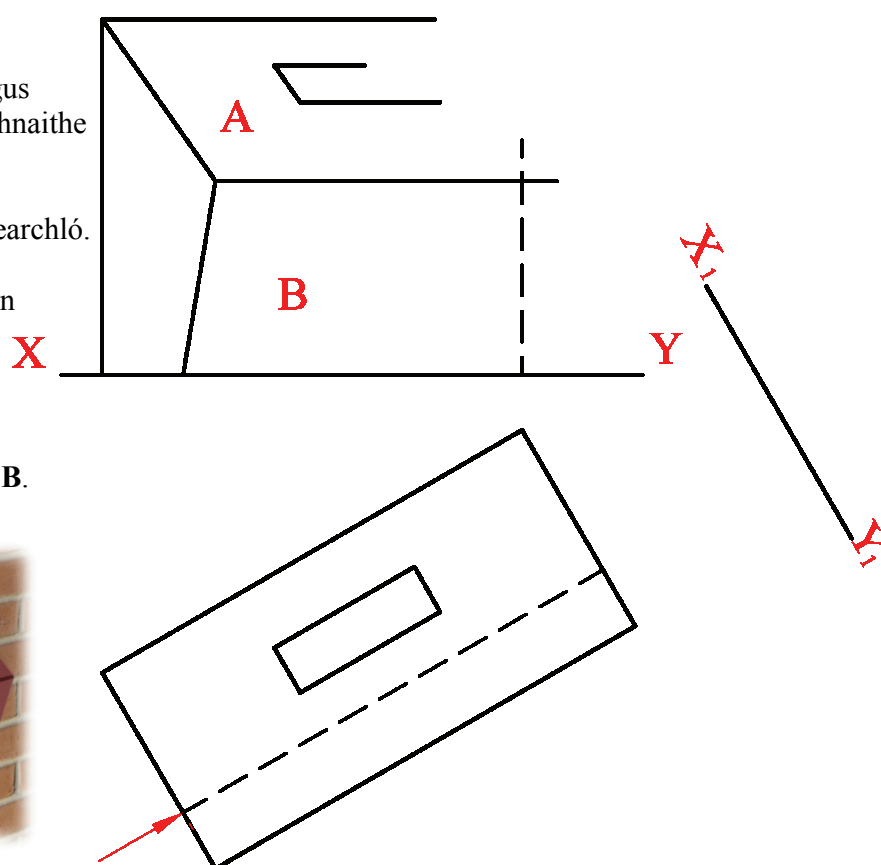

Taispeánann an líníocht ar dheis dronuilleog ABCV agus cuid den pharabóil inscriófa inti.

- (a) Aimsigh an chuid eile de na pointí ar an gcuar agus críochnaigh an leath-pharabóil.
- (b) Tarraing an leath íochtarach den pharabóil a léiríonn an scáil san uisce, mar a thaispeántar thíos.



A-2. Taispeánann an ghrafaic 3D thíos bosca poist. Taispeántar bonnchló agus ingearchló neamhchríochnaithe an bosca ar dheis.

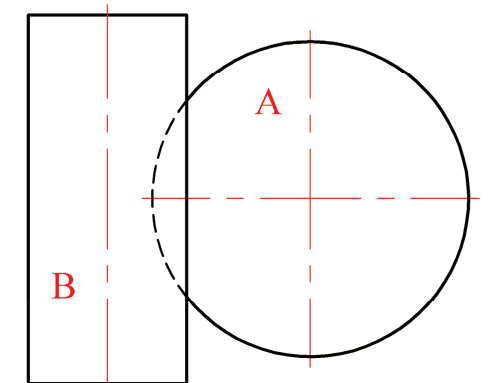
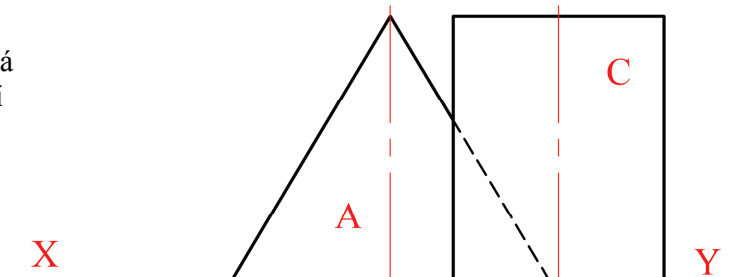

- (a) Críochnaigh an t-ingearchló.
- (b) Tarraing cló cúnta den bosca, ar an X_1Y_1 a thugtar, a thaispeánfaidh an fhíoruillinn idir na dromchlaí A agus B.



A-4. Taispeánann an ghrafaic 3D thíos trí choinneal agus iad i dteagmháil le chéile. Is é atá sa leagan amach ná cón agus dhá shorcóir. Tá na trí choinneal uile ina luí ar an bplána cothrománach.

Taispeánann an líníocht ar dheis bonnchló agus ingearchló an chóin A. Taispeántar an sorcóir B sa bhonnchló agus an sorcóir C san ingearchló.

- (a) Tarraing ingearchló an tsorcóra B.
- (b) Tarraing bonnchló an tsorcóra C.



**Is cuid de Roinn C an léarscáil
chomh-airde seo agus ba chóir í a úsáid
don fhreagra ar rogha
na Céimseatan Geolaíche (Ceist C-1)
amháin.**

