



**Coimisiún na Scrúduithe Stáit**  
*State Examinations Commission*

*Scrúdú na hArdteistiméireachta, 2010*

***Grafaic Dhearaidh agus Chumarsáide***  
***Gnáthleibhéal***

***Roinn A (60 marc)***

**Dé hAoine, 18 Meitheamh**  
**Tráthnóna, 2.00 - 5.00**

**Tá an scrúdú seo roinnte ina thrí roinn:**

ROINN A (Croírimsí Staidéir - Ceisteanna Gearra)

ROINN B (Croírimsí Staidéir - Ceisteanna Fada)

ROINN C (Grafaic Fheidhmeach - Ceisteanna Fada)

**ROINN A**

- Cuirtear ceithre cheist i láthair.
- Freagair **trí cheist ar bith** ar an mbileog A3 lastall.
- Tá **20 marc** ag gabháil le gach ceann de na ceisteanna i Roinn A.

**ROINN B**

- Cuirtear trí cheist i láthair.
- Freagair **dhá cheist ar bith** ar pháipéar líníochta.
- Tá **45 marc** ag gabháil le gach ceann de na ceisteanna i Roinn B.

**ROINN C**

- Cuirtear cúig cheist i láthair.
- Freagair **dhá cheist ar bith** (i.e. na roghanna a bhfuil staidéar déanta agat orthu) ar pháipéar líníochta.
- Tá **45 marc** ag gabháil le gach ceann de na ceisteanna i Roinn C.

**Treoracha Ginearálta:**

- *Ní mór na línte tógála a thaispeáint ar gach réiteach.*
- *Scríobh uimhir na ceiste go soiléir ar pháipéar na bhfreagraí i Roinn B agus i Roinn C.*
- *Ná bain úsáid ach as taobh amháin den pháipéar líníochta.*
- *Tugtar na toisí go léir ina méadair nó ina milliméadair.*
- *Scríobh do Scrúduimhir sa bhosca thíos agus ar na bileoga eile go léir a úsáidtear.*


**Scrúduimhir:**

# ROINN A - Croírimsí Staidéir - Freagair trí cinn ar bith de na ceisteanna ar an mbileog A3 seo

**A-1.** Taispeánann an ghrafaic 3D ar clé thíos raicéad leadóige. Is éilips é ceann an raicéid.

Ar an líníocht ar dheis, is é AB an mhór-ais don éilips agus tá cuid den chuar tarraingthe cheana féin.

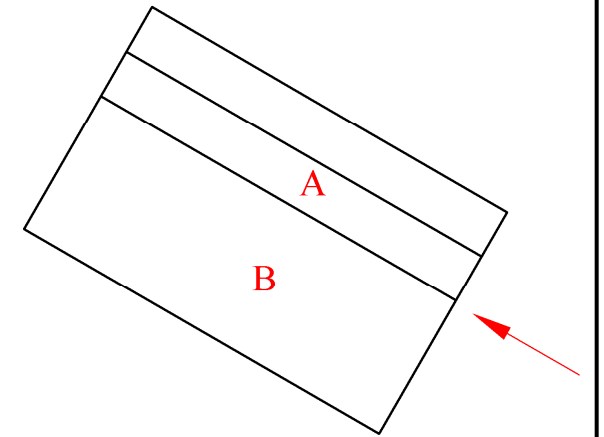
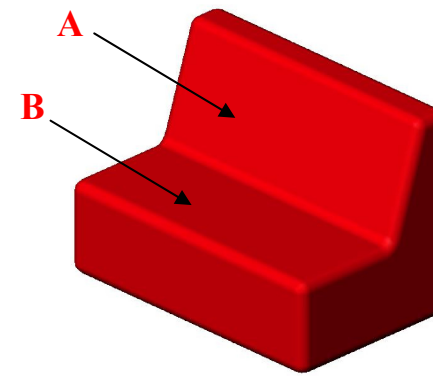
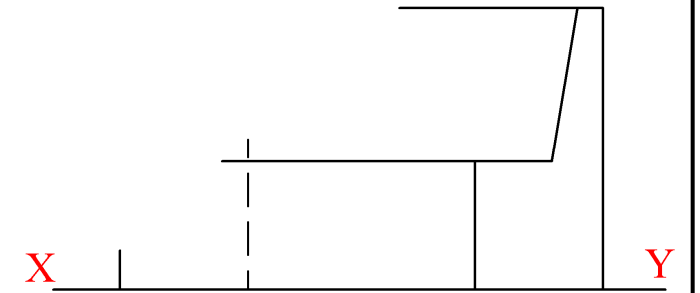
- (a) Aimsigh an mhion-ais agus tóg an éilips iomlán.
- (b) Aimsigh na pointí fócais don éilips.



**A-3.** Taispeánann an ghrafaic 3D thíos suíochán nua-aimseartha as forhalla óstáin.

Taispeántar bonnchló agus ingearchló neamhchríochnaithe an tsuíocháin ar dheis.

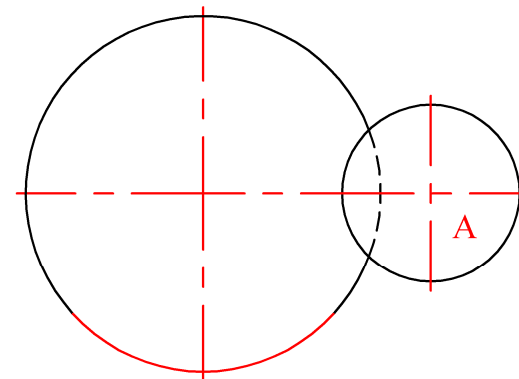
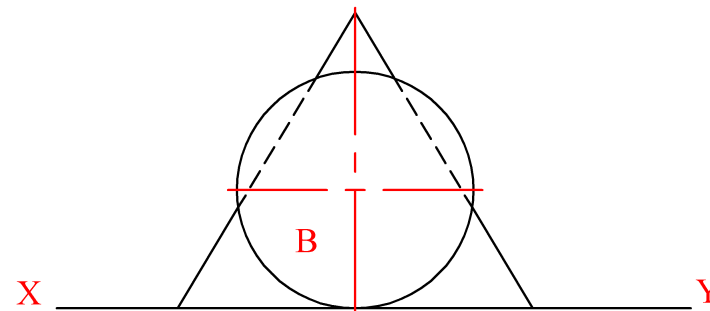
- (a) Críochnaigh an t-ingearchló.
- (b) Tarraing cló cúnta den suíochán a thaispeánfaidh an fhíoruillinn idir na dromchlaí A agus B.



**A-2.** Taispeánann an ghrafaic 3D thíos cón traenála atá i dteagmháil le liathróid peile (A) agus le liathróid cispheile (B) freisin mar a thaispeántar. Tá na trí mhír ina seasamh ar an urlár.

Taispeánann an líníocht ar dheis bonnchló agus ingearchló an chóin. Taispeántar sféar A freisin sa bhonnchló agus taispeántar sféar B san ingearchló.

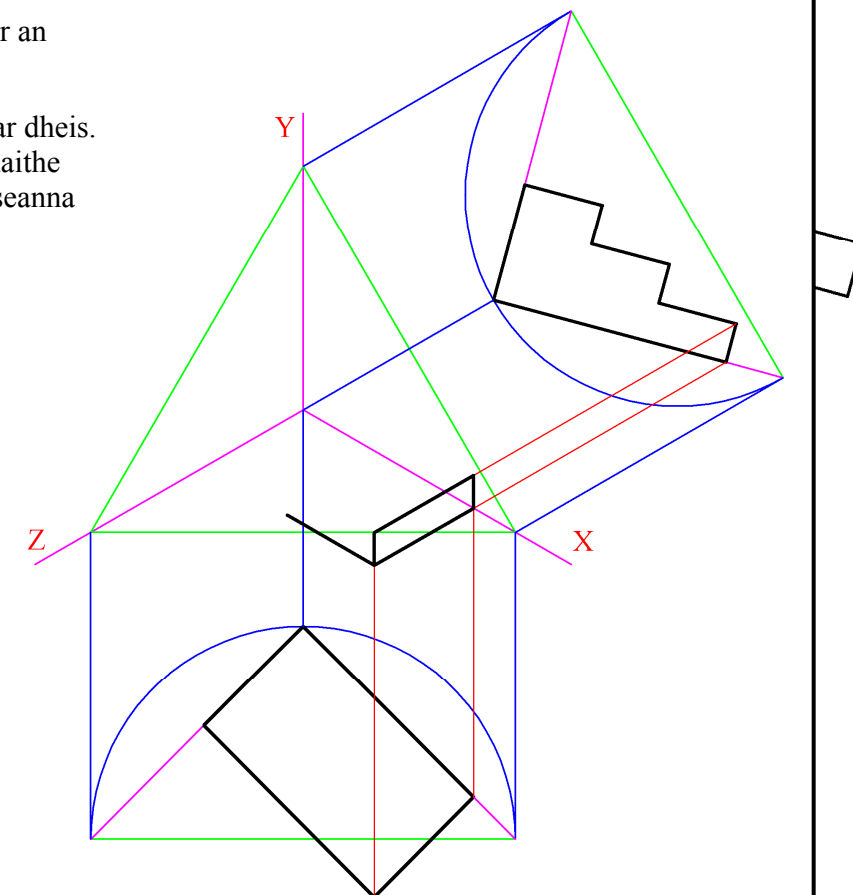

- (a) Tarraing ingearchló sféar A.
- (b) Tarraing bonnchló sféar B.



**A-4.** Taispeánann an ghrafaic 3D thíos trí chéim ar an mbealach isteach chuig foirgneamh áirithe.

Taispeántar foireann aiseanna isiméadracha ar dheis. Tá ingearchló agus bonnchló neamhchríochnaithe na gcéimeanna suite i gcoibhneas leis na haiseanna mar a thaispeántar.

- (a) Críochnaigh bonnchló an ruda.
- (b) Críochnaigh an teilgean aismhéadrach.



**Is cuid de Roinn C an léarscáil  
chomh-airde seo agus ba chóir í a úsáid  
don fhreagra ar rogha na  
Céimseatan Geolaíche (Ceist C-1)  
amháin.**

