



Coimisiún na Scrúduithe Stáit

An Ardteistiméireacht 2013

**Aistriúchán
Ar Scéim Mharcála**

Grafaic Dhearaidh agus Chumarsáide

Ardleibhéal

Nóta do mhúinteoirí agus do scoláirí faoi úsáid na scéimeanna marcála foilsithe

Níl na scéimeanna marcála a fhoilsíonn Coimisiún na Scrúduithe Stáit ceaptha lena n-úsáid mar cháipéisí astu féin. Is áis riachtanach iad ag scrúdaitheoirí a théann faoi oiliúint i léirlámh agus i gcur i bhfeidhm ceart na scéime. Mar chuid den oiliúint sin, as measc rudaí eile, déantar samplaí d'obair na scoláirí a mharcáil agus déantar plé ar na marcanna a bhronntar, mar mhaithe le cur i bhfeidhm ceart na scéime a shoiléiriú. Déanann Scrúdaitheoirí Comhairleacha monatóireacht ar obair na scrúdaitheoirí ina dhiaidh sin le cinntiú go gcuirtear an scéim mharcála i bhfeidhm go comhleanúnach agus go beacht. Bíonn an Príomhscrúdaitheoir i bhfeighil an phróisis agus is gnách go mbíonn Príomhscrúdaitheoir Comhairleach ag cuidiú leis. Is é an Príomhscrúdaitheoir an t-údarás deiridh i dtaca le cé acu a cuireadh an scéim mharcála i bhfeidhm i gceart ar aon phíosa d'obair iarrthóra nó nár cuireadh.

Is cáipéisí oibre na scéimeanna marcála. Cé go n-ullmhaítear dréachtscéim mharcála roimh an scrúdú, ní chuirtear bailchríoch uirthi go dtí go gcuireann scrúdaitheoirí i bhfeidhm ar obair iarrthóirí í agus go dtí go mbailítear agus go meastar an t-aiseolas ó na scrúdaitheoirí uile, i bhfianaise raon iomlán na bhfreagraí a thug na hiarrthóirí, leibhéal foriomlán deacrachta an scrúdaithe agus an ghá le comhleanúnachas caighdeán a choimeád ó bhliain go bliain. Aistriúchán ar an scéim chríochnaithe atá sa cháipéis fhoilsithe seo, mar a cuireadh i bhfeidhm ar obair na n-iarrthóirí uile í.

Is cóir a nótáil i gcás scéimeanna ina bhfuil freagraí nó réitigh eiseamláireacha nach bhfuil sé i gceist a chur in iúl go bhfuil na freagraí ná na réitigh sin uileghabhálach. D'fhéadfadh sé go bhfuil leaganacha éagsúla nó malartacha ann a bheadh inghlactha freisin. Ní mór do na scrúdaitheoirí tuillteanas gach freagra a mheas agus téann siad i gcomhairle lena Scrúdaitheoirí Comhairleacha nuair a bhíonn amhras orthu.

Scéimeanna Marcála san am atá le teacht

Ní cóir talamh slán a dhéanamh d'aon rud a bhaineann le scéimeanna marcála san am atá le teacht bunaithe ar scéimeanna a bhí ann cheana. Cé go mbíonn na bunphrionsabail mheasúnachta mar an gcéanna, is féidir go mbeadh athrú ar shonraí marcála cineál áirithe ceiste i gcomhthéacs na páirte a bheadh ag an gceist sin sa scrúdú foriomlán bliain áirithe ar bith. Bíonn sé de fhreagracht ar an bPríomhscrúdaitheoir bliain áirithe ar bith a dhéanamh amach cén tslí is fearr a chinnteoidh go measfar obair na n-iarrthóirí go cothrom agus go cruinn, agus go gcoimeádfar caighdeán comhleanúnach measúnachta ó bhliain go bliain. Dá réir sin, d'fhéadfadh gnéithe de struchtúr, de mhionsonraí agus de chur i bhfeidhm na scéime marcála in ábhar áirithe athrú ó bhliain go bliain gan rabhadh.



Coimisiún na Scrúduithe Stáit
State Examinations Commission

Scrúdú na hArdteistiméireachta 2013

***Grafaic Dhearaidh agus
Chumarsáide
Ardleibhéal***



***Scéim Mharcála
agus Freagraí Samplacha***

(Tá glacadh le freagraí eile atá bailí agus déantar iad a mharcáil dá réir sin)

CEIST A-1

MARCANNA

(a) An tIngearchló a chríochnú (16)

(i) Teilgin ón mbonnchló	1
(ii) Teilgin ón taobhchló	1
(iii) Pointí san ingearchló a shonrú	2
(iv) An t-ingearchló a chríochnú	9
(v) Sonraí ceilte	3

(b) An Sféar a Imscríobh (4)

(vi) Fíorfhad an trasnáin fhada a shonrú (nó an tógáil chun fíorfhad an trasnáin fhada a aimsiú)	2
(vii) An sféar riachtanach a tharraingt sa taobhchló	2

Iomlán = 20

CEIST A-2

MARCANNA

(a) Bonnchló an sféir (13)

(i) Suíomh lárphointe an sféir san ingearchló nuair a bhíonn sé tadhláioch leis an bpionna	2
(ii) Teilgean chuig an bpointe ceart sa bhonnchló	3
(iii) Rothlú thart ar lárphointe an phionna sa bhonnchló	3
(iv) Suíomh an lárphointe riachtanaigh sa bhonnchló ... (1,1)	2
(v) Bonnchló riachtanach an sféir a tharraingt (Ceann ar bith = 1)	3

(b) Bonnchló an tsorcóra (7)

(vi) Líne a tharraingt ó lárphointe an phionna trí P sa bhonnchló	1
(vii) Dhá thacar stuanna/línte chomhfhreagracha a tharraingt (2,1)	3
(viii) Lócas a tharraingt chun an lárphointe riachtanach a aimsiú	2
(ix) Bonnchló riachtanach an tsorcóra a tharraingt	1

Iomlán = 20

CEIST A-3

MARCANNA

(a) Idirthreá (14)	
(i) Suíomh na bpointí idirthreáite ar TLD sa bhonnchló	3
(ii) Na pointí ar TLD sa bhonnchló a cheangal le chéile, lena n-áirítear sonraí ceilte ... (3x1)	3
(iii) Suíomh na bpointí idirthreáite ar TLD agus ar barr sa bhonnchló	3
(iv) An gearradh riachtanach a tharraingt san ingearchló	1
(v) Gearradh comhfhreagrach a tharraingt sa bhonnchló chun “pointí trasacha” ar an gciumhais ‘de’ a aimsiú	1
(vi) Na pointí ar TLC agus ar barr sa bhonnchló a cheangal le chéile, lena n-áirítear sonraí ceilte ... (3x1)	3
 (b) Fíorchruth an triantáin abc (6)	
(vii) Céimniú triantáin san ingearchló nó líne sa bhonnchló (nó úsáid cheart X_1Y_1)	1
(viii) Úsáid cheart línte teilgin	1
(ix) An fíorchruth riachtanach a aimsiú	4
	<hr/>
	<i>Iomlán = 20</i>

CEIST A-4

MARCANNA

(a) An coibhneas idir na línte AB agus CD a aimsiú (12)	
(i) Teilgin AB agus CD a leanúint go dtrasnaíonn siad a chéile san ingearchló	5
(ii) Teilgin AB agus CD a leanúint go dtrasnaíonn siad a chéile sa bhonnchló	5
(iii) Úsáid a bhaint as tic chun an freagra a chur in iúl	2
 (b) Fíorfhad AC a aimsiú (8)	
(iv) A a cheangal le C sa bhonnchló agus san ingearchló	2
(v) Rothlú AC sa bhonnchló (nó san ingearchló)	3
(vi) Tógáil san ingearchló (nó sa bhonnchló) chun an fíorfhad a aimsiú	3
	<hr/>
	<i>Iomlán = 20</i>

CEIST B-1

MARCANNA

(a) Bonnchló agus ingearchló an struchtúir (10)	
(i) An bonnchló a thugtar a tharraingt sa treoshuíomh a thaispeántar	5
(ii) An t-ingearchló a thugtar a theilgean ón mbonnchló	5
(b) Uillinn dhéhéidreach idir na plánaí A agus B (21)	
(iii) X_1Y_1 comhthreomhar leis an líne thrasnaithe sa bhonnchló (nó san ingearchló) ...	4
(iv) Teilgean na bplánaí ar an gcló cúnta	4
(v) X_2Y_2 ingearach le fíorfhad na líne trasnaithe	4
(vi) Teilgean na bplánaí ar an 2^u cló cúnta	3
(vii) An uillinn dhéhéidreach a chur in iúl	6
(c) Fíorchruth an dromchla A (8)	
(viii) Céimniú an dromchla A sa bhonnchló agus teilgean chuig an ingearchló $(2,2)$	4
(ix) An fíorchruth riachtanach a aimsiú san ingearchló	4
(d) Teilgin chonair na gluaiseachta (6)	
(x) An líne ó S, ingearach leis an líne thrasnaithe ar fhíorchruth an dromchla A a aimsiú	2
(xi) An líne thuas a aimsiú san ingearchló.....	1
(xii) An chonair a chríochnú san ingearchló.....	2
(xiii) An chonair a chríochnú sa bhonnchló.....	1

Iomlán = 45

CEIST B-2

MARCANNA

- (a) Aiseanna aismhéadracha agus an triantán comhchosach (7)**
- (i) Na haiseanna X, Y agus Z a tharraingt ar na huillinneacha cearta(1,1,1).....3
- (ii) Bonn 7m a bhunú agus an triantán comhchosach a chríochnú(2,1,1)4
- (b) An Taobhchló agus an tIngearchló sa treoshuíomh a thaispeántar (14)**
- (iii) Líne b_1c_1 agus leathchiorcal a tharraingt.....2
- (iv) Treoshuíomh na n-aiseanna Y agus Z a aimsiú2
- (v) Taobhchló a tharraingt ar na haiseanna aimsithe.....4
- (vi) Líne a_1c_1 agus leathchiorcal a tharraingt.....2
- (vii) Treoshuíomh na n-aiseanna X agus Y a aimsiú2
- (viii) Ingearchló a tharraingt ar na haiseanna aimsithe.....2
- An teilgean aismhéadrach a chríochnú (18)**
- (ix) Teilgin ón ingearchló agus ón taobhchló (mar a thaispeántar)2
- (x) An chuid den teilgean aismhéadrach a thugtar a tharraingt.....2
- (xi) An barr dronuilleogach a aimsiú sa teilgean aismhéadrach.....2
- (xii) Pointí ar na cuair sa teilgean aismhéadrach a aimsiú9
- (xiii) Na cuair chearta a tharraingt2
- (xiv) An teilgean aismhéadrach a chríochnú1
- (c) Cic Pharabóileach (6)**
- (xv) Pointe F agus an stuaic i gcomhair na parabóile a aimsiú sa taobhchló(1,1).....2
- (xvi) An chuid riachtanach den pharabóil a tharraingt chun an freagra a fháil4

Iomlán = 45

CEIST B-3

MARCANNA

(a) Peirspictíocht (34)

- (i) An t-ingearchló a thugtar a tharraingt(5 x 1)5
- (ii) An bonnchló imlíneach lena n-áirítear na trasnáin a tharraingt5
- (iii) An bonnchló a chríochnú4

- (iv) An breathnóir agus bonnchló phlána an phictiúir a shuíomh (1,2).....3
- (v) Bonnchló na bpointí téaltaithe2
- (vi) Líne na talún, léaslíne, pointí téaltaithe san ingearchló(1,1,1)3
- (vii) Línte teilgin ón mbonnchló go dtí an breathnóir2
- (viii) Líníocht pheirspictíoch de bhonnlínte an struchtúir(4x1).....4
- (ix) Airde H^1 a thomhas agus a chur i bhfeidhm agus príomhchabhail na pirimide a chríochnú3
- (x) An pointe téaltaithe cúnta a aimsiú agus an bealach isteach triantánach a chríochnú3

(b) Línte Sceabhacha (11)

- (xi) Na comhordanáidí a léirthuisceint agus na línte sceabhacha a tharraingt2
- (xii) Plána a chruthú ina mbeidh AB (nó CD) agus a bheidh comhthreomhar le CD (nó le AB)2
- (xiii) Ingearchló agus bonnchló na líne cothrománaí ar an bplána comhthreomhar.....2
- (xiv) X_1Y_1 ingearach le bonnchló na líne cothrománaí2
- (xv) Teilgean na línte sa chéad ingearchló cúnta ... (comhthreomhar)2
- (xvi) An fad is giorra a thaispeáint1

Iomlán = 45

CEIST C-1**MARCANNA****(a) Oibreacha talún don bhóthar (28)*****Oibreacha talún idir A agus B (Leibhéalta) - Gearradh***

- (i) Línte comhthreomhara 5mm óna chéile a tharraingt2
- (ii) Pointí trasnaithe na gcomhrianta a shonrú agus cuar a tharraingt3

Oibreacha talún idir A agus B (Leibhéalta) - Claífort

- (iii) Línte comhthreomhara 7.5mm óna chéile a tharraingt2
- (iv) Pointí trasnaithe na gcomhrianta a shonrú agus cuar a tharraingt3

Oibreacha talún idir B agus C (Ag Titim) - Gearradh

- (v) An stua riachtanach a tharraingt4
- (vi) Línte comhthreomhara 5mm óna chéile a tharraingt4
- (vii) Pointí trasnaithe na gcomhrianta a shonrú agus cuar a tharraingt5

Trasnú oibreacha talún atá leibhéalta agus oibreacha talún atá ag ardú

- (viii) Pointí breise a aimsiú.....(3,1)4
- (ix) An trasnú a chríochnú1

(b) Próifil ar DE (7)

- (x) Línte airde 5mm óna chéile a thomhas agus a tharraingt.....2
- (xi) Teilgin ó phointí trasnaithe idir an líne DE agus comhrianta2
- (xii) Imlíne den phróifil a tharraingt2
- (xiii) An phróifil a chríochnú agus taobhchló de dhromchlaí gearrtha a chur san áireamh1

(c) Treoíocht agus Claonas (10)

- (xiv) An triantán PQR a tharraingt sa bhonnchló agus san ingearchló(1,2).....3
- (xv) Líne threoíochta a aimsiú3
- (xvi) X_1Y_1 a tharraingt ingearach leis an líne threoíochta2
- (xvii) An claonas a aimsiú2

Iomlán = 45

CEIST C-2

MARCANNA

(a) Bonnchló an tsolais uasdírithé (17)

- (i) Imlíne dhronuilleogach a tharraingt sa bhonnchló ... (1,1) 2
- (ii) Tógáil le pointí ar an bparabóil ABC a aimsiú 5
- (iii) Cuar ABC a tharraingt (ceann ar bith = 1) 3
- (iv) Tógáil le pointí ar an gcuar inmheánach a aimsiú (aistriúchán) 4
- (v) Bonnchló a chríochnú agus cuar inmheánach san áireamh (cuar ar bith = 1) 3

(b) Taobhchló Teilgthe (7)

- (vi) Taobhchló imlíneach a tharraingt (gan cuar san áireamh) 3
- (vii) Tógáil le pointí ar an bparabóil BD a aimsiú 2
- (viii) Cuar BD a tharraingt (ceann ar bith = 1) 2

(c) Ingearchló an tsolais uasdírithé (15)

- (ix) Taobhchló na gcuar uachtair agus íochtair a theilgeadh agus a tharraingt 4
- (x) Tógáil le pointí ar na cuair hipearbóileacha san ingearchló a aimsiú 8
- (xi) Cuair hipearbóileacha a tharraingt (ceann ar bith = 1) 3

(d) Asamtóití a aimsiú (6)

- (xii) An lárphointe a shonrú mar phointe trasnaithe na n-asamtóití 2
- (xiii) Tógáil le pointe breise a aimsiú ar an gcéad asamtóit 3
- (xiv) An dara hasamtóit a tharraingt 1

Iomlán = 45

CEIST C-3**MARCANNA**

- (a) **Bonnchló an diamaint agus ingearchló na ndromchlaí uachtair (16)**
- (i) Imlíne chearnógach a tharraingt sa bhonnchló.....2
- (ii) Ochtagán seachtrach a aimsiú agus a tharraingt4
- (iii) Ochtagán inmheánach a aimsiú agus a tharraingt5
- (iv) Teilgean chuig an ingearchló agus dromchlaí uachtair a tharraingt(1,2,2).....5
- (b) **Uillinn dhéhéidreach idir na dromchlaí A agus B (10)**
- (v) X_1Y_1 comhthreomhar leis an líne thrasnaithe2
- (vi) Cló na ndromchlaí ag taispeáint fhíorfhad na líne trasnaithe4
- (vii) X_2Y_2 ingearach leis an líne thrasnaithe.....2
- (viii) An uillinn dhéhéidreach a aimsiú2
- (c) **Ingearchló thaobh íochtair an diamaint (9)**
- (ix) Tógáil chun fíorfhad 95mm a chur i bhfeidhm (cló cúnta nó céimniú).....4
- (x) Stuaic íochtair an diamaint a aimsiú i gceart ...(2,2).....4
- (xi) An t-ingearchló a chríochnú1
- (d) **Uillinn dhéhéidreach idir na dromchlaí D agus F (10)**
- (xii) X_1Y_1 comhthreomhar leis an líne thrasnaithe2
- (xiii) Cló na ndromchlaí ag taispeáint fhíorfhad na líne trasnaithe3
- (xiv) X_2Y_2 ingearach leis an líne thrasnaithe2
- (xv) An uillinn dhéhéidreach a aimsiú3

Iomlán = 45

CEIST C-4

MARCANNA

(a) Meicníocht Nascála (23)

(i)	Naise agus conairí ciorclacha mar a thugtar a tharraingt(5x1).....	5
(ii)	An ciorcal a roinnt ina chodanna cothroma (12 cheann ar a laghad).....	2
(iii)	Suímh do phointe B a aimsiú	6
(iv)	Pointe C a aimsiú i gcás gach suímh díobh.....	6
(v)	Géag CD a tharraingt i gcás gach suímh díobh.....	2
(vi)	An lócas riachtanach a tharraingt	2

(b) An Ceam agus Léaráid Díláithriúcháin (22)

(vii)	Ceamsheafta agus an ciorcal íos-trastomhais istigh a tharraingt	2
(viii)	An ciorcal a roinnt ina 12 chuid chothroma	3
(ix)	Tógáil le pointí ar an ionbhlóideach a aimsiú	3
(x)	Ionbhlóideach a tharraingt (ceann ar bith = 1)	2
(xi)	Próifil an cheama (ciorcail agus comhthadhláí) a chríochnú	3
(xii)	An léaráid díláithriúcháin a roinnt go cothrománach	2
(xiii)	Luachanna airde a aistriú go dtí an léaráid díláithriúcháin	3
(xiv)	An léaráid díláithriúcháin a chríochnú	2
(xv)	Uasfhad an díláithriúcháin a aimsiú agus a thaispeáint	2

Iomlán = 45

CEIST C-5**MARCANNA**

- (a) **Ingearchló gearrtha (41)**
- Cóimeáil (6)***
- (i) Socrú na gcomhbhall éagsúil i gcoibhneas lena chéile6
- Bonnfheiste (12)***
- (ii) Imlíne an traschló6
- (iii) Sonraí inmheánacha (poill x 3, sliotán, taca inse agus cúl-líne)(6x1)6
- Cabhail Ghloine (2)***
- (iv) Dronuilleoga x 22
- Claibín (4)***
- (v) Imlíne2
- (vi) Sonraí inmheánacha (lena n-áirítear seaimféir agus filléid)2
- Slaitín Treorach an Ardáin (3)***
- (vii) Imlíne2
- (viii) Sonraí inmheánacha (lena n-áirítear seaimféir agus ceann snáithithe)1
- Luamhán Coigeartaithe na hAirde (4)***
- (ix) Aiseanna cothrománacha agus claonta a tharraingt2
- (x) Seach-chur chun ciumhaiseanna an bharr a aimsiú1
- (xi) Luamhán Coigeartaithe na hAirde a chríochnú1
- Rollóir (1)***
- (xii) Imlíne an rollóra a tharraingt1
- Ardán na Coinnle (3)***
- (xiii) Imlíne1
- (xiv) Sonraí inmheánacha (lena n-áirítear filléid)2
- Críochnú na Líniócha (6)***
- (xv) Cur i láthair, Haitseáil agus Lár línte ... (4,1,1)6
- (b) **Uasairde ghluaiseacht an ardáin (4)**
- (xvi) Lár an rollóra a aimsiú in ionad rothlaithe2
- (xvii) An rollóir a tharraingt agus an airde riachtanach a chur in iúl2

Iomlán = 45

ROINN A – Croíreimsí Staidéir – Freagair trí cinn ar bith de na ceisteanna ar an mbileog A3 seo

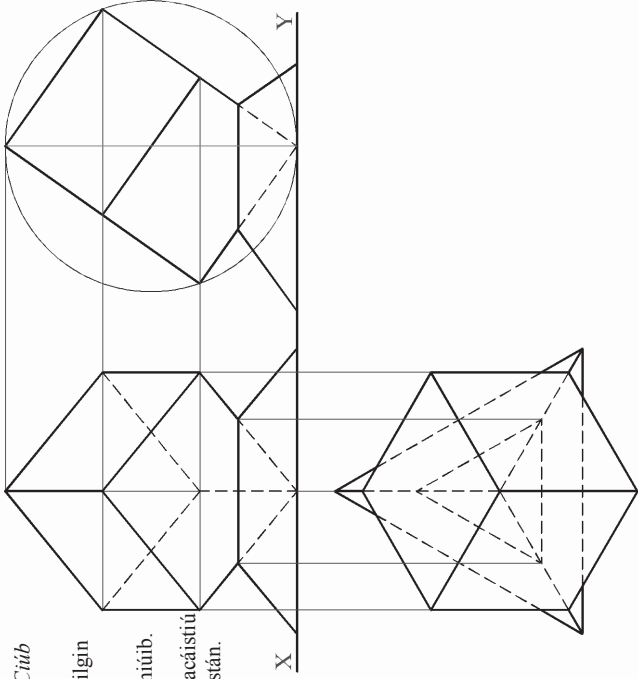

A-1. Sa ghrafaic 3D thíos taispeántar *Citúb Rubik* agus seastán taispeántais.

Sa líniócht ar dheis taispeántar teilgín neamhchriochnaithe na rudai sin.

(a) Críochnaigh ingearchló an chitúib.

(b) Tá sé beartaite an citúb a phacáistiú i sféar plaisteach, gan an seastán.


Aimsigh trastomhas an sféir is lú a d'fhéadfadh an citúb a choinneáil agus tarraing an sféar sin sa taobhchló.



A-3. San íomhá thíos taispeántar comhartha taobh amuigh d'oifigí cuideachta ar a dtugtar "Key Technologies". Sa chomhartha, trasnáinn príosma triantánach cruach pirimíd chopair theasetha (barrscoite). Sa líniócht ar dheis thíos taispeántar an t-ingearchló agus an bonnchló neamhchriochnaithe de na solaid ag treá a chéile.

(a) Críochnaigh an bonnchló agus taispeáin na línte idirthréite go léir. Bain úsáid as **plána gearrtha** chun na "pointí trasacha" ar an geimhais 'de' a aimsiú. (*Ba chóir an lógó den pholl eochrach a thaispeántar thíos a fhágáil ar lár i do líniócht.*)

(b) Aimsigh fíorchruth an triantáin abc.

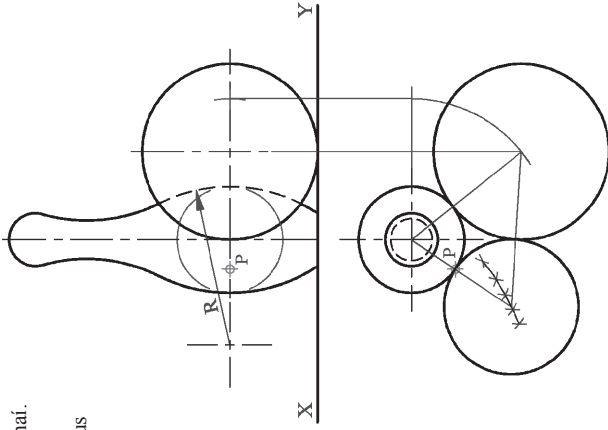



A-2. Sa ghrafaic thíos taispeántar liathróid bhahblála agus pionnái.

Sa líniócht ar dheis taispeántar an t-ingearchló agus an bonnchló neamhchriochnaithe de cheann de na pionnái agus den liathróid bhahblála, iad ag tadhall a chéile.

(a) Críochnaigh bonnchló na solad agus iad ag tadhall a chéile.

(b) Tarraing **bonnchló** dronsorcóra atá ina sheasamh go ceartgearach ar an bplána cothrománach. Tá barr an tsorcóra ag tadhall an phionna ag an bpointe P agus tá sé ag tadhall na liathróide freisin.



A-4. Is mimic a úsáidtear léasair in *Imscrúduithe ar Láithreacha Coireanna* chun rianta (ruthaig) piléar a aimsiú. Sa líniócht ar dheis, léirítear rian dhá piléar leis na línte **AB** agus **CD**.

(a) Agus úsáid á baint agat as tógálacha geoméadracha, déan amach cén cineál línte díobh seo iad chun a fháil amach ar scaoileadh na piléir ón láthair chéa

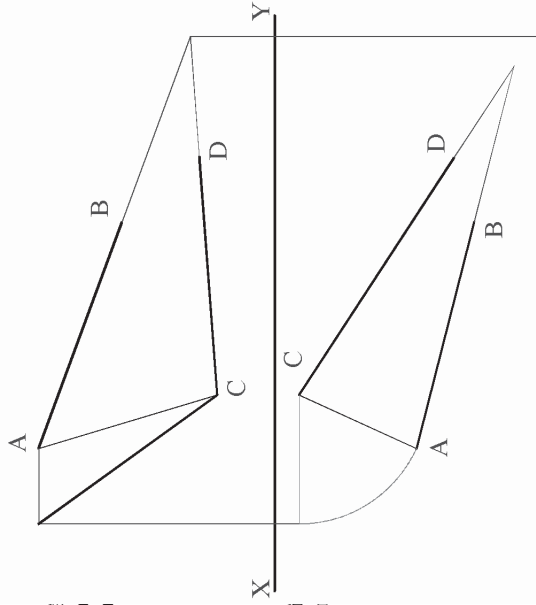
Línte sceabhacha

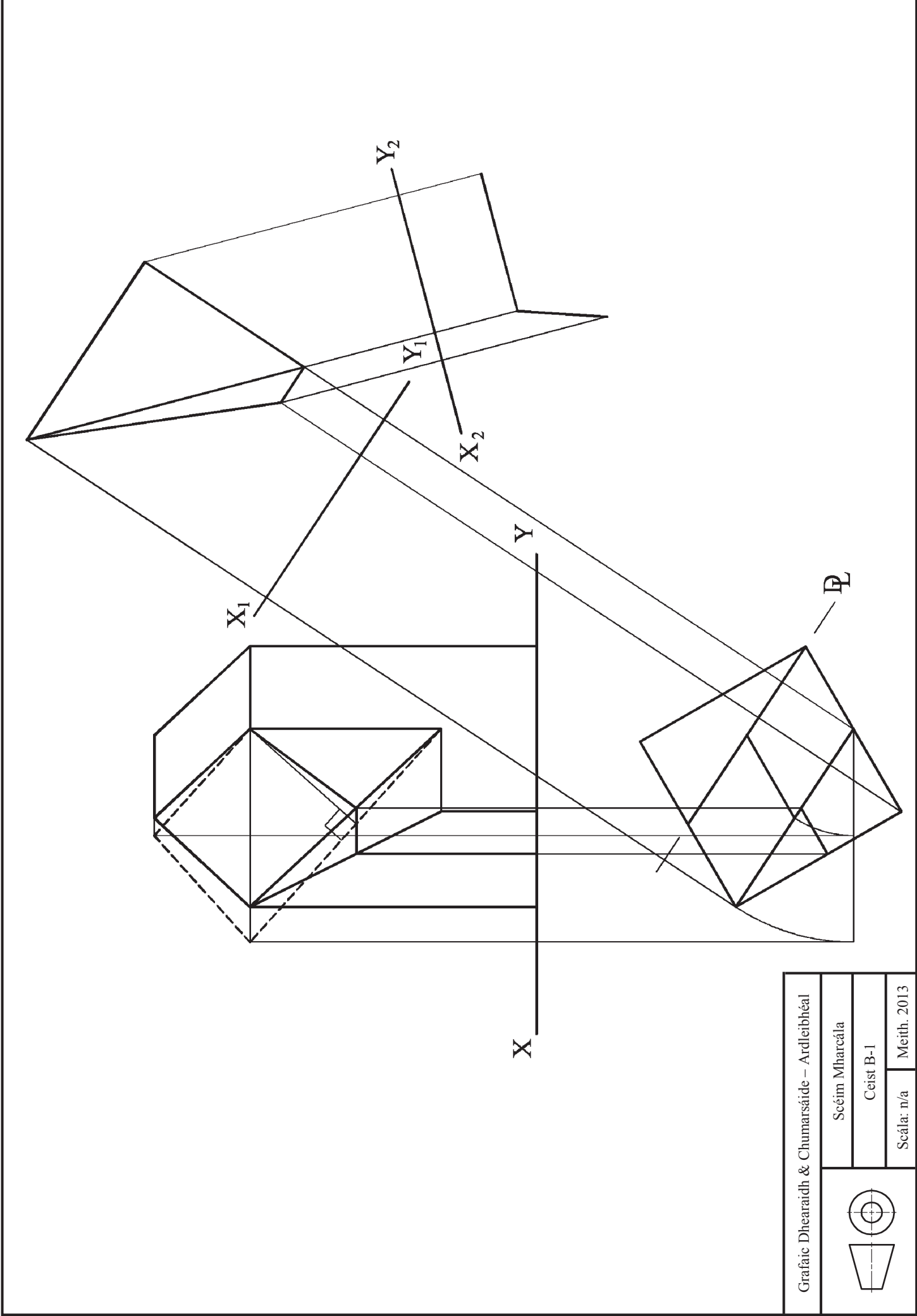
nó

Línte trasnaithe

(Cuir in iúl le tic '✓').

(b) Tarraing líne a cheanglaíonn na pointí A agus C, agus aimsigh fíorchruth na lí.



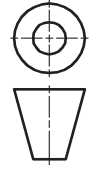


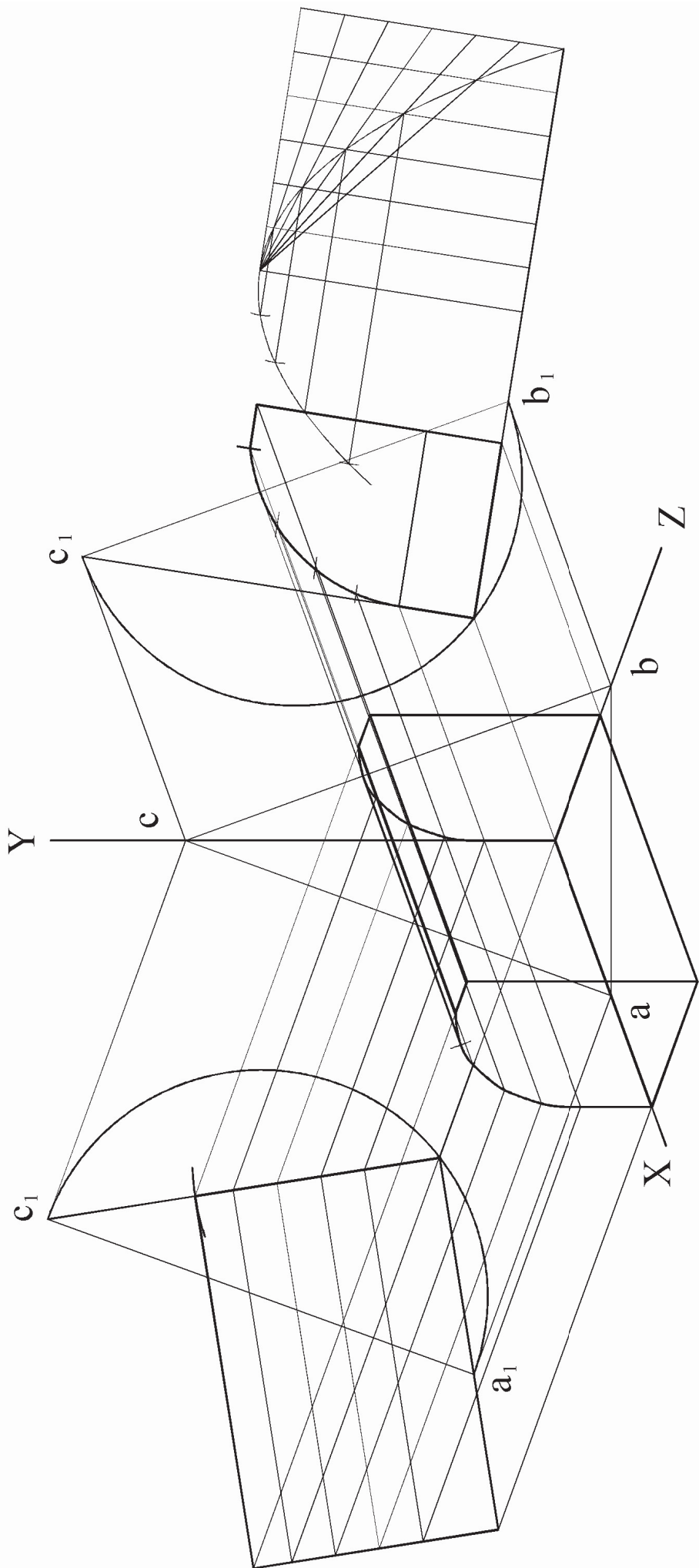
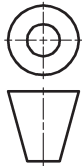
Grafiac Dhearaidh & Chumarsaide – Ardleibheal

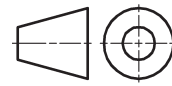
Scéim Mharcála

Ceist B-I

Scála: n/a Meith. 2013





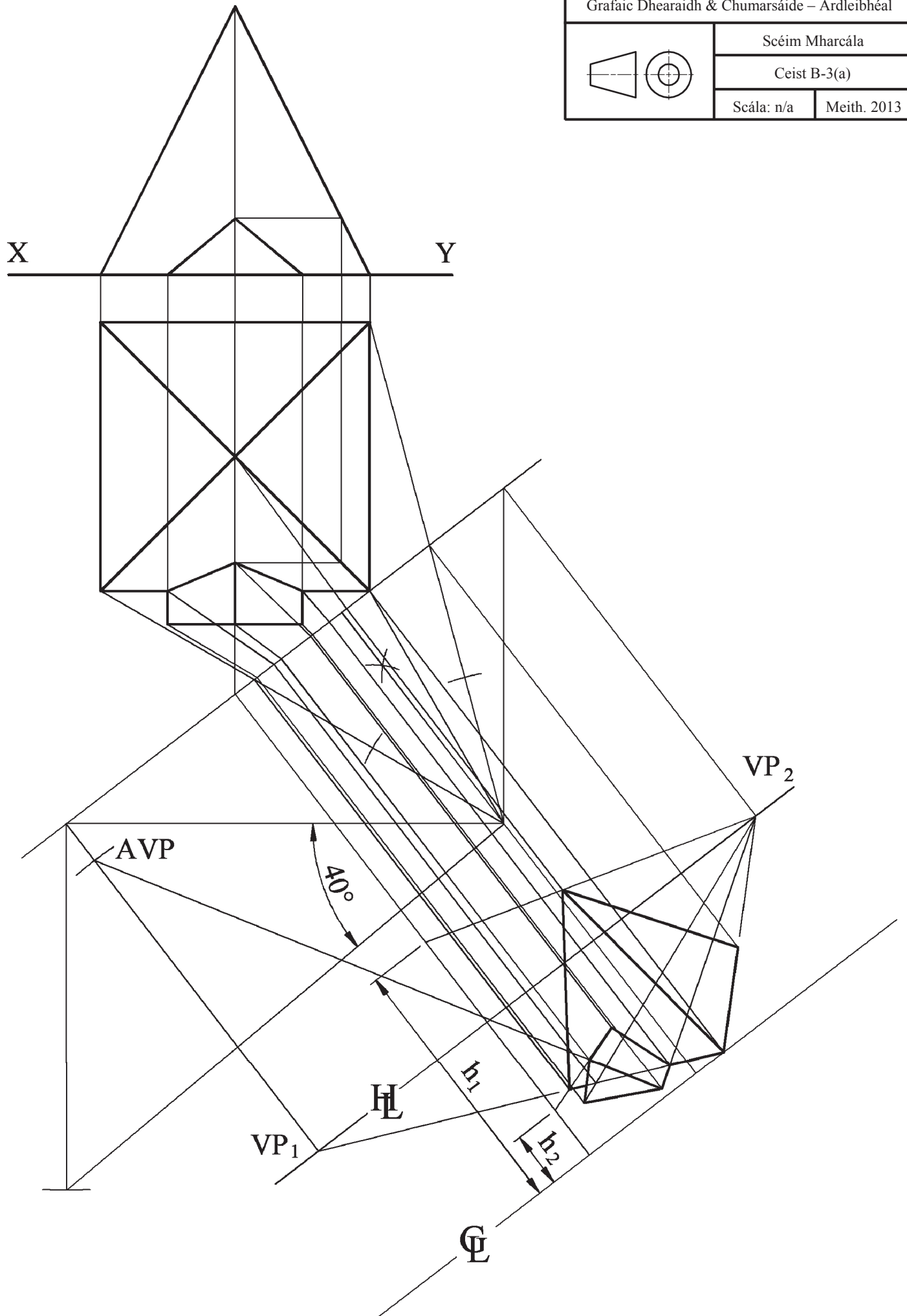


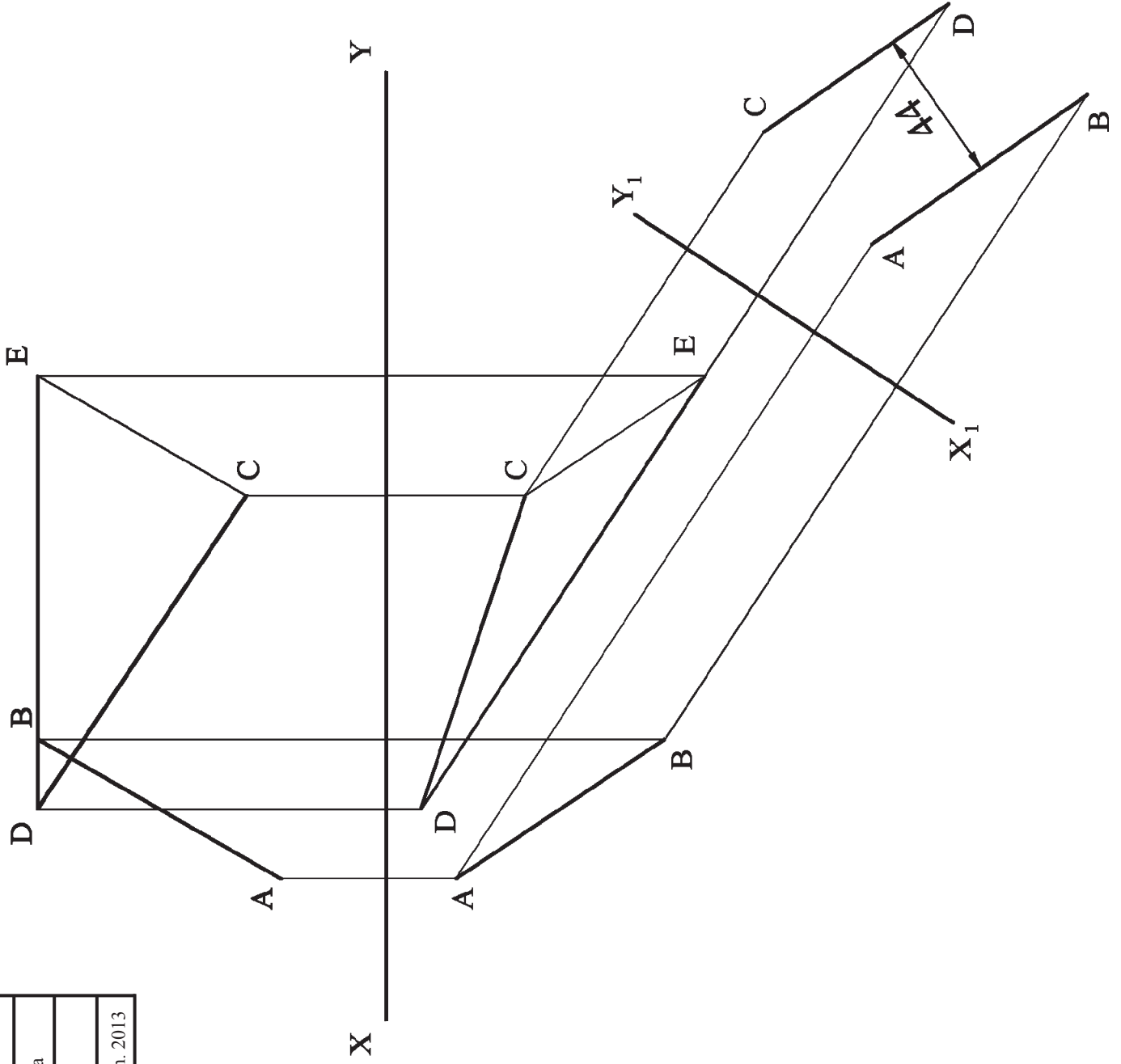
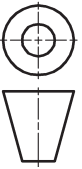
Scéim Mharcála

Ceist B-3(a)

Scála: n/a

Meith. 2013



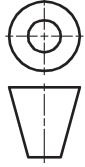


Grafaic Dhearaidh & Chumarsáide – Ardleibhéal

Scéim Mharcála

Ceist C-1

Scála: n/a Meith. 2013



ϕ Q

ϕ R X_1

D

Y_1

ϕ R

45

40

P

ϕ R

45

50

55

60

65

60

55

50

45

40

35

30

25

25

30

35

Q

55

60

65

60

55

50

45

40

35

30

25

25

30

35

40

45

50

B

60

ϕ B

55

50

45

40

35

30

25

25

C

65

ϕ C

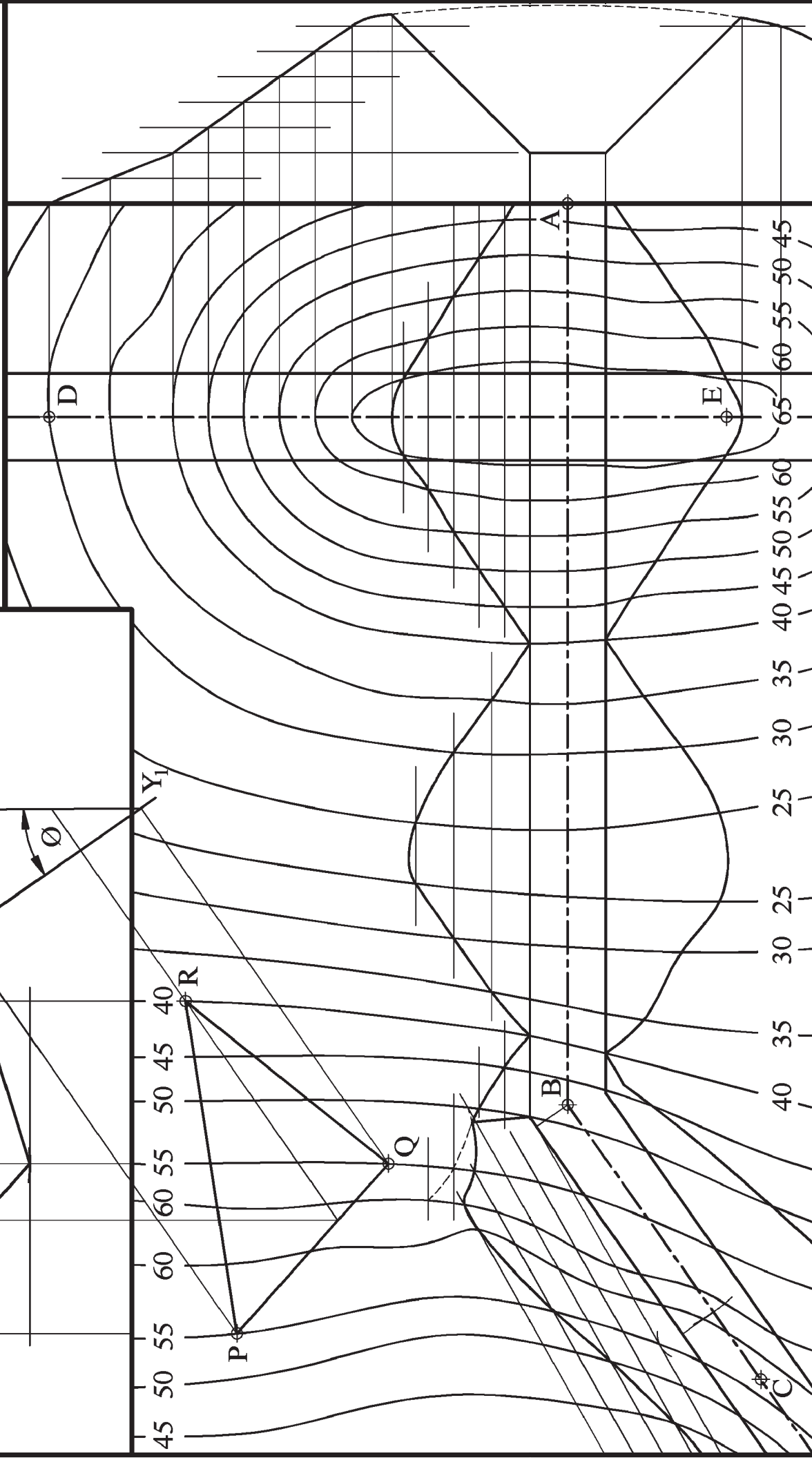
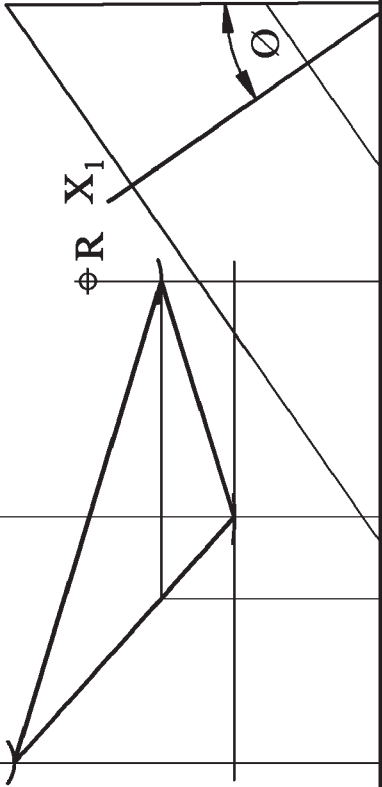
60

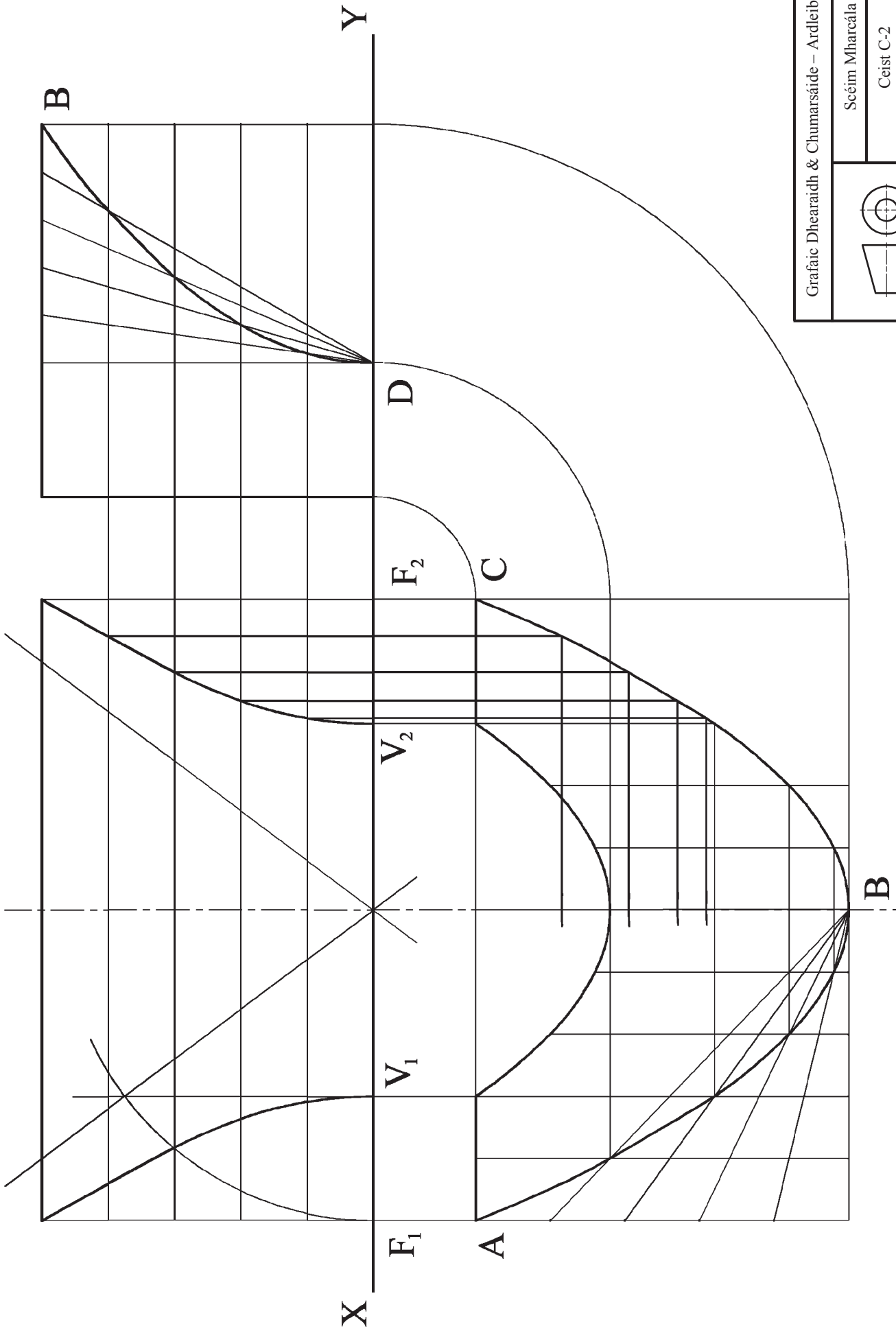
55

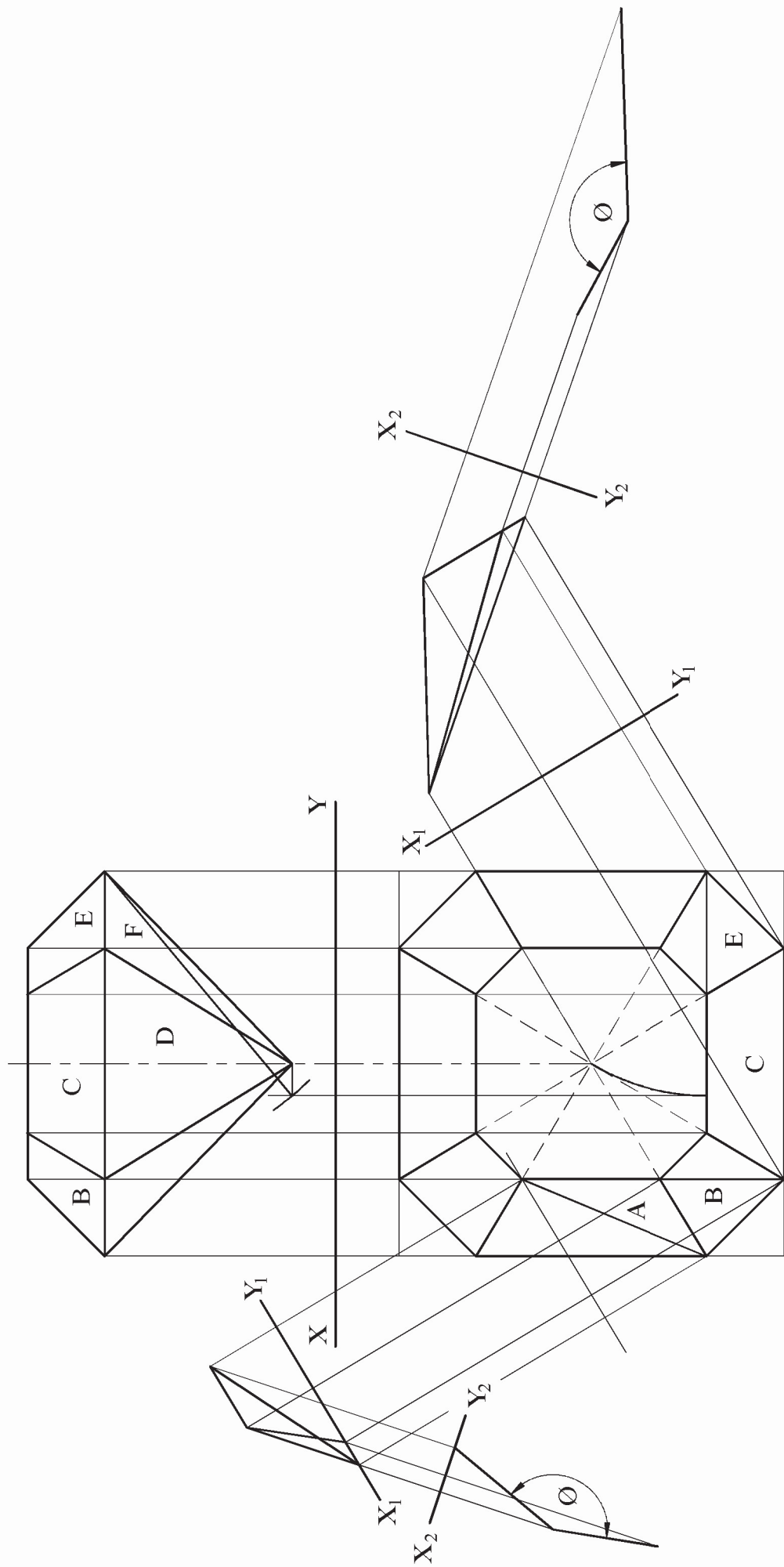
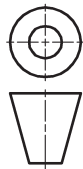
50

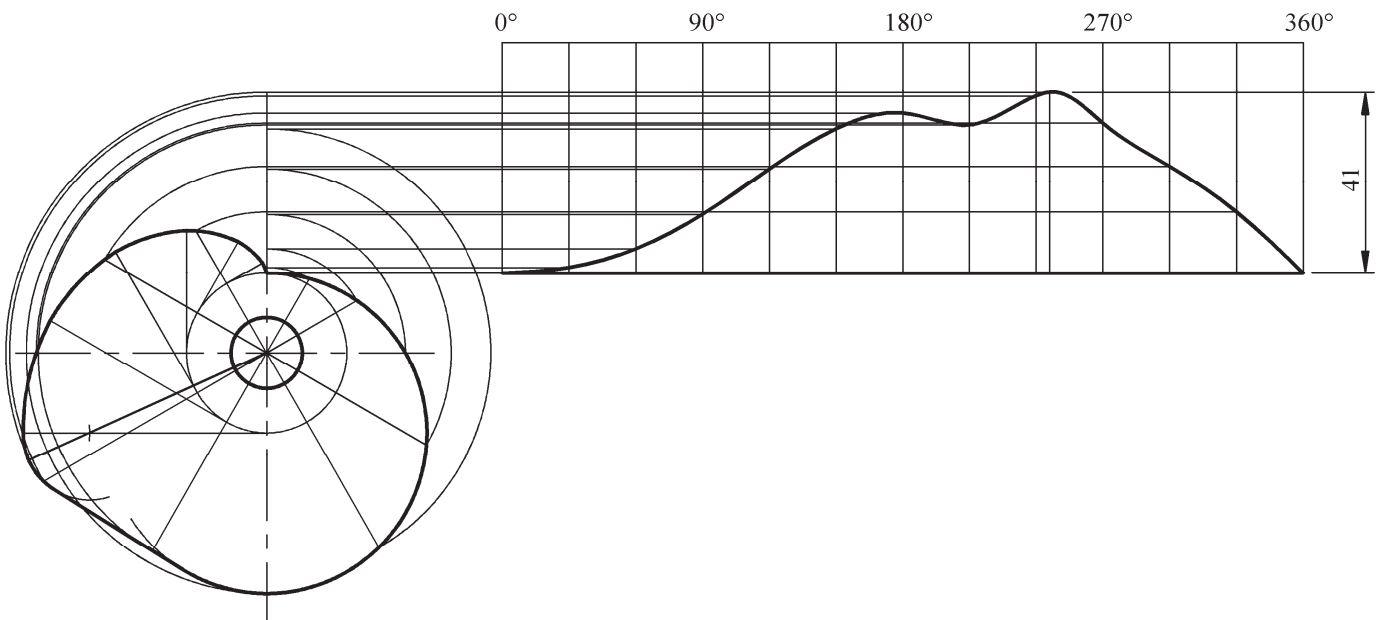
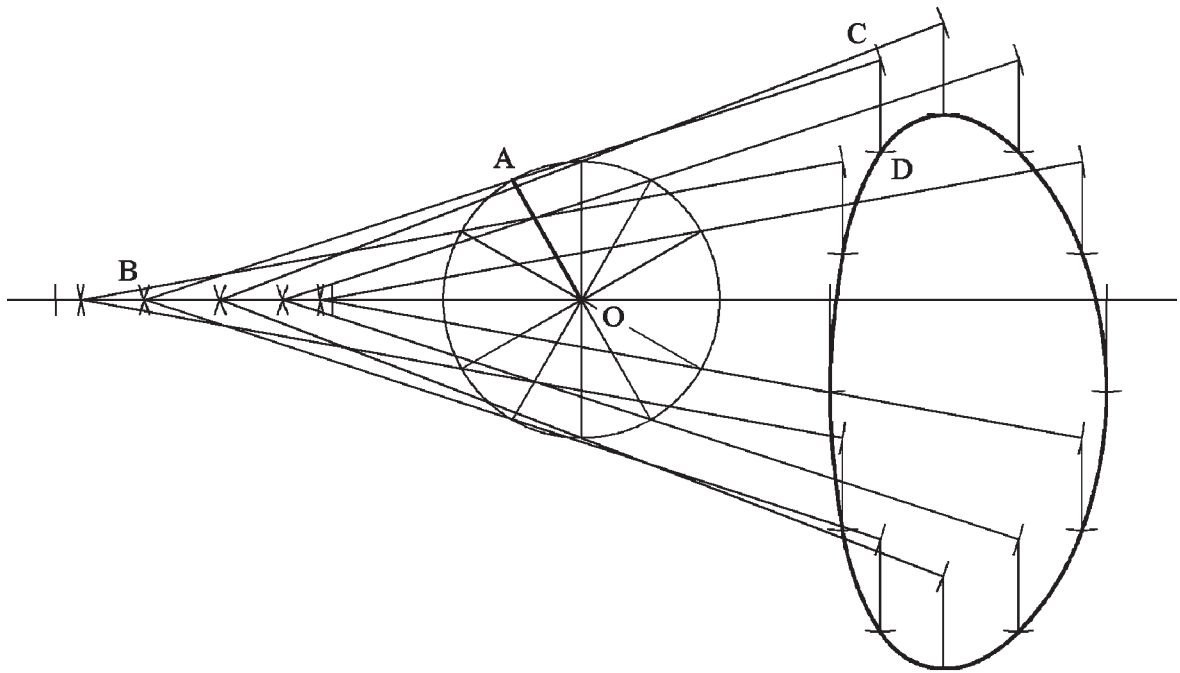
45

45









Grafaic Dhearaidh & Chumarsáide – Ardleibhéal

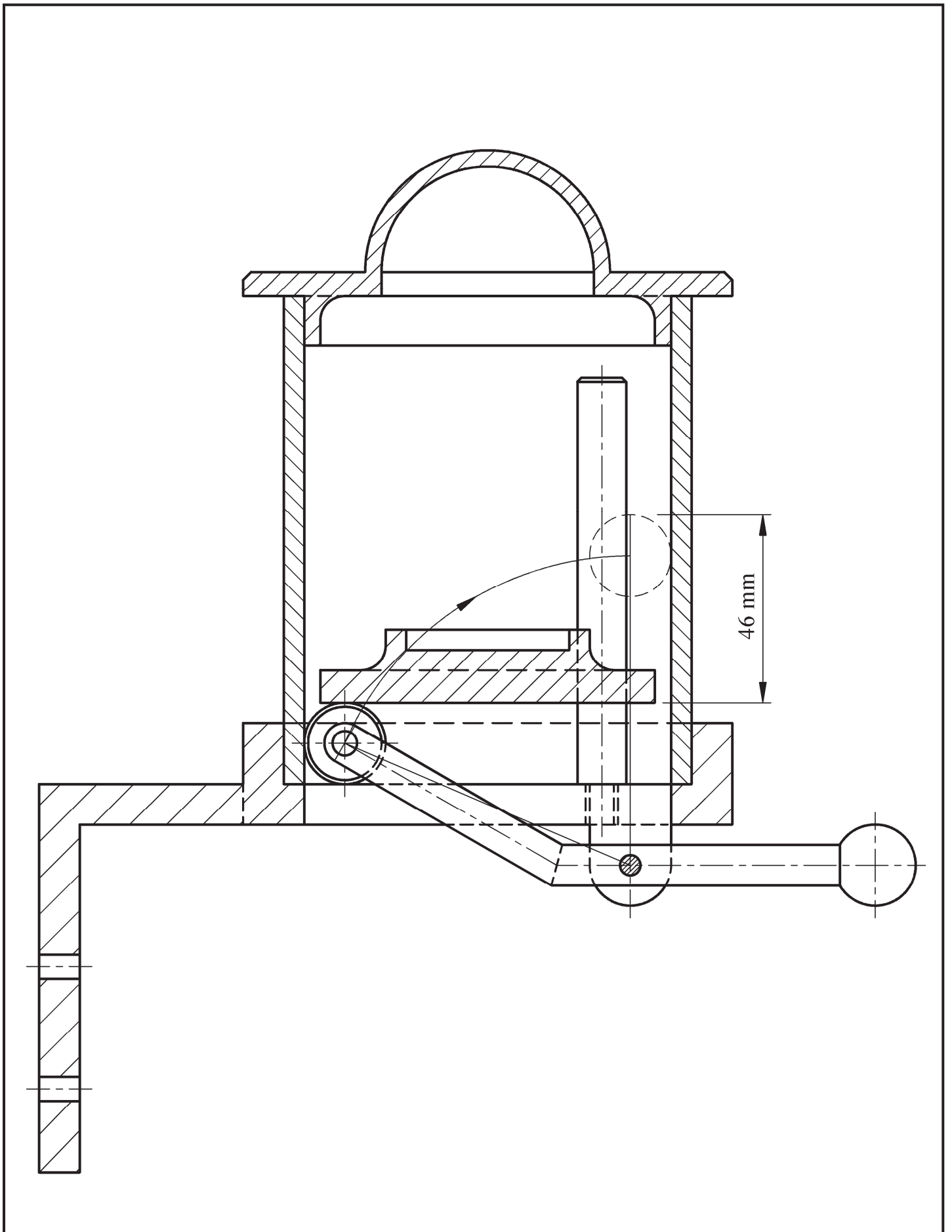


Scéim Mharcála

Ceist C-4

Scála: n/a

Meith. 2013



Grafic Dheairidh & Chumarsáide – Ardleibhéal	
	Scéim Mharcála
	Ceist C-5
	Scála: n/a
	Meith. 2013



Grafaic Dhearaidh agus Chumarsáide

Tasc an Dalta - Ardleibhéal

Bileog Mheasúnachta 2013

Aschur	Critéir Mharcála	Marc
1	Taighde Dearaidh - Príomhghnéithe dearaidh a fhiosrú trí bhuntaighde & taighde tánaisteach a úsáid; Grafaicí iomchuí a roghnú; Leagan amach éifeachtach & cur i láthair éifeachtach na faisnéise, le híomhánna, sceitsí & nótaí	
	a) Breithniú déanta ar réimse leathan de na critéir ábhartha go léir – cur i láthair den scoth	13 - 15
	b) Breithniú déanta ar an gcuid is mó de na critéir ábhartha – cur i láthair an-mhaith	10 - 12
	c) Breithniú déanta ar roinnt de na critéir ábhartha – cur i láthair maith	7 - 9
	d) Breithniú déanta ar bheagán de na critéir – cur i láthair réasúnta	4 - 6
e) Breithniú déanta ar chritéar amháin ar a laghad – cur i láthair lag	0 - 3	
2	Comparáid idir Ghnéithe Dearaidh - Dhá íomhá oiriúnacha a roghnú; Príomhthoisí a chur isteach; Comparáid idir na príomhghnéithe dearaidh; Codarsnacht idir na príomhghnéithe dearaidh; Leagan amach éifeachtach agus cur i láthair éifeachtach na faisnéise, le híomhánna, sceitsí & nótaí	
	a) Breithniú déanta ar réimse leathan de na critéir ábhartha go léir – cur i láthair den scoth	13 - 15
	b) Breithniú déanta ar an gcuid is mó de na critéir ábhartha – cur i láthair an-mhaith	10 - 12
	c) Breithniú déanta ar roinnt de na critéir ábhartha – cur i láthair maith	7 - 9
	d) Breithniú déanta ar bheagán critéar – cur i láthair réasúnta	4 - 6
e) Breithniú déanta ar chritéar amháin ar a laghad – cur i láthair lag	0 - 3	
3	Léiriúchán Grafaice Saorláimhe – Comhréir; Foirm/Toirt; Úsáid Toin/Líne le haghaidh rindreáil éifeachtach; Cur i láthair mionsonraithe ar phríomhghnéithe an dearaidh, líniocht 3D ar chaighdeán ‘presentation’ san áireamh; Leagan amach agus cur i láthair	
	a) Breithniú déanta ar réimse leathan de na critéir ábhartha go léir – cur i láthair den scoth	17 - 20
	b) Breithniú déanta ar an gcuid is mó de na critéir ábhartha – cur i láthair an-mhaith	13 - 16
	c) Breithniú déanta ar roinnt de na critéir ábhartha – cur i láthair maith	9 - 12
	d) Breithniú déanta ar bheagán critéar – cur i láthair réasúnta	5 - 8
e) Breithniú déanta ar chritéar amháin ar a laghad – cur i láthair lag	0 - 4	
4	Páirteanna SolidWorks, Cóimeáil, Líniocht agus comhaid eDrawings	
	• Cloí leis an struchtúr comhdúcháin riachtanach	3
	• Ar a laghad 5 chomhad de na páirteanna a chruthú	3
	• Samhlacha Páirteanna – Inniúlacht in CAD Paraiméadrach, barainneacht dearaidh agus cuspóir an dearaidh san áireamh; An phróifíl is oiriúnaí a roghnú; Sceitsí a shainléiriú go hiomlán; Gnéithe a ath-ainmniú; Easbhú/coinníollacha deiridh den chineál ceart a úsáid	10
	• Cóimeáil – Timpeallacht na cóimeála a chruthú; Cruineas na bpáirteanna d’fhonn an chóimeáil cheart a éascú; Na páirteanna a chur le chéile mar ba cheart; cuma oiriúnach a thabhairt i gcrích	5
	• Fachtóir Deacrachta	5
• eDrawing den tsamhail CAD	2	
5	Aschuir chruachóipe as SolidWorks - Clónna mionsonraithe ortagrafacha den déantán roghnaithe; Clónna de ghearrthacha/shonraí nuair is cuí; Cló pictiúrtha rindreáilte den Chóimeáil; Cló scartha den tsamhail CAD; Na príomhthoisí, nótaí agus siombailí a chur isteach; Scála, leagan amach agus cur i láthair cuí le breithniú	
	a) Breithniú déanta ar réimse leathan de na critéir ábhartha go léir – cur i láthair den scoth	13 - 15
	b) Breithniú déanta ar an gcuid is mó de na critéir ábhartha – cur i láthair an-mhaith	10 - 12
	c) Breithniú déanta ar roinnt de na critéir ábhartha – cur i láthair maith	7 - 9
	d) Breithniú déanta ar bheagán critéar – cur i láthair réasúnta	4 - 6
e) Breithniú déanta ar chritéar amháin ar a laghad – cur i láthair lag	0 - 3	
6	Léiriú Fótairéalaíoch	
	Íomhánna fótairéalaíocha den déantán, arna cheapadh ar ríomhaire, a chur ar fáil	7
7	Fiosrú grafaice ar réitigh dhearaidh - Fiosrú ar théama/réiteach/réitigh; Réiteach/réitigh a roghnaíodh a chosaint; Íomhánna/grafaicí iomchuí a úsáid; Leagan amach éifeachtach agus cur i láthair éifeachtach ar an bhfaisnéis, le híomhánna, sceitsí & nótaí	
	a) Breithniú déanta ar réimse leathan de na critéir ábhartha go léir – cur i láthair den scoth	21 - 25
	b) Breithniú déanta ar an gcuid is mó de na critéir ábhartha – cur i láthair an-mhaith	16 - 20
	c) Breithniú déanta ar roinnt de na critéir ábhartha – cur i láthair maith	11 - 15
	d) Breithniú déanta ar bheagán critéar – cur i láthair réasúnta	6 - 10
e) Breithniú déanta ar chritéar amháin ar a laghad – cur i láthair lag	0 - 5	
8	Mionathrú/Coincheap Dearaidh a Chur i Láthair – Comhréir; Foirm/Toirt; Úsáid Toin/Líne ar mhaithe le rindreáil éifeachtach; Cur i láthair mionsonraithe ar ghnéithe de mhionathrú nó de choincheap an dearaidh; Leagan amach agus cur i láthair	
	a) Breithniú déanta ar réimse leathan de na critéir ábhartha go léir – cur i láthair den scoth	9 - 10
	b) Breithniú déanta ar an gcuid is mó de na critéir ábhartha – cur i láthair an-mhaith	7 - 8
	c) Breithniú déanta ar roinnt de na critéir ábhartha – cur i láthair maith	5 - 6
	d) Breithniú déanta ar bheagán critéar – cur i láthair réasúnta	3 - 4
e) Breithniú déanta ar chritéar amháin ar a laghad – cur i láthair lag	0 - 2	
9	Aschuir chruachóipe as SolidWorks – Samhail CAD; Clónna mionsonraithe ortagrafacha den réiteach atá á chur chun cinn; Clónna de ghearrthacha/shonraí nuair is cuí; Cló pictiúrtha rindreáilte den tsamhail CAD; Íomhá fhótairéalaíoch; Na príomhthoisí, nótaí, siombailí a chur isteach; Scála, leagan amach agus cur i láthair cuí le breithniú	
	• Scileanna CAD a chur in úsáid	5
	a) Breithniú déanta ar réimse leathan de na critéir ábhartha go léir – cur i láthair den scoth	17 - 20
	b) Breithniú déanta ar an gcuid is mó de na critéir ábhartha – cur i láthair an-mhaith	13 - 16
	c) Breithniú déanta ar roinnt de na critéir ábhartha – cur i láthair maith	9 - 12
	d) Breithniú déanta ar bheagán critéar – cur i láthair réasúnta	5 - 8
e) Breithniú déanta ar chritéar amháin ar a laghad – cur i láthair lag	0 - 4	
Fo-iomlán	Déantar marcanna a dhealú i gcás líon leathanach is mó ná mar a cheadaítear	Iomlán

Leathanach Bán

Leathanach Bán

Leathanach Bán

