



*Scrúdú na hArdteistiméireachta, 2012*

***Grafaic Dhearaidh agus Chumarsáide***  
***Ardleibhéal***

***Roinn A (60 marc)***

**Dé Céadaoin, 20 Meitheamh**  
**Afternoon, 2:00 - 5:00**

**Tá an scrúdú seo roinnte ina thrí roinn:**

ROINN A (Croírimsí Staidéir - Ceisteanna Gearra)

ROINN B (Croírimsí Staidéir - Ceisteanna Fada)

ROINN C (Grafaic Fheidhmeach - Ceisteanna Fada)

**ROINN A**

- Cuirtear ceithre cheist i láthair.
- Freagair **trí cheist ar bith** ar an mbileog A3 lastall.
- Tá **20 marc** ag gabháil le gach ceann de na ceisteanna i Roinn A.

**ROINN B**

- Cuirtear trí cheist i láthair.
- Freagair **dhá cheist ar bith** ar pháipéar líníochta.
- Tá **45 marc** ag gabháil le gach ceann de na ceisteanna i Roinn B.

**ROINN C**

- Cuirtear cúig cheist i láthair.
- Freagair **dhá cheist ar bith** (i.e. na roghanna a bhfuil staidéar déanta agat orthu) ar pháipéar líníochta.
- Tá **45 marc** ag gabháil le gach ceann de na ceisteanna i Roinn C.

**Treoracha Ginearálta:**

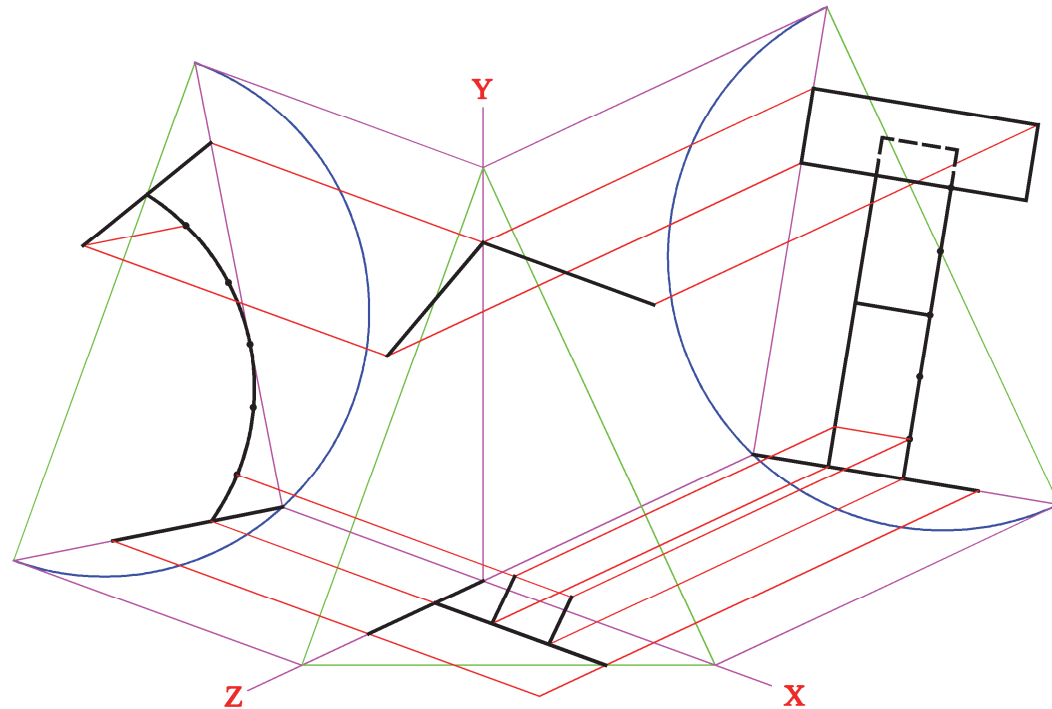
- *Ní mór na línte tógála a thaispeáint ar gach réiteach.*
- *Scríobh uimhir na ceiste go soiléir ar pháipéar na bhfreagraí i Roinn B agus i Roinn C.*
- *Ná bain úsáid ach as taobh amháin den pháipéar líníochta.*
- *Tugtar na toisí go léir ina méadair nó ina milliméadair.*
- *Scríobh do scrúduimhir sa bhosca thíos agus ar na bileoga eile go léir a úsáidtear.*

**Scrúduimhir:**

# ROINN A – Croírimsí Staidéir – Freagair trí cinn ar bith de na ceisteanna ar an mbileog A3 seo

**A-1.** Sa ghrafaic 3D thíos taispeántar léachtán. Agus modh na n-aiseanna aismhéadracha á úsáid, sa líníocht ar dheis taispeántar teilgean trímhédarach neamhchríochnaithe de léachtán cosúil leis an léachtán sa ghrafaic.

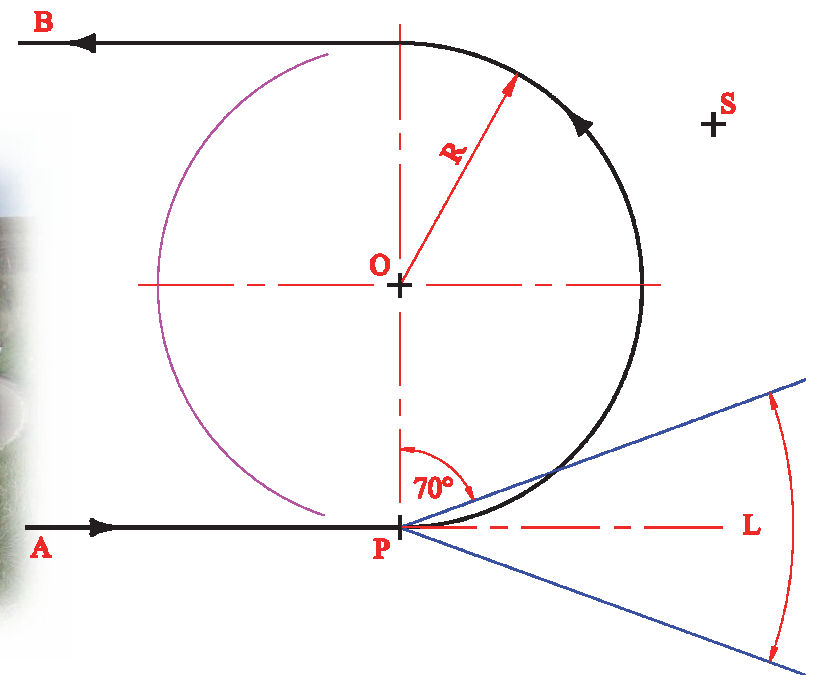
- (a) Críochnaigh teilgean aismhéadrach an léachtáin.
- (b) Déan amach agus cuir in iúl an fíorfhad trasnánach den bharr dronuilleogach claonta.



**A-3.** Is tábhachtach comharthaí bóthair a chur san áit cheart ar chorthaí dainséaracha, mar a thaispeántar sa phictiúr thíos. Cinntíonn sé seo gur féidir iad a fheiceáil go soiléir i rith an lae agus san oíche freisin.

Sa líníocht ar dheis taispeántar an bonnchló de coradh biorrach (U-chruthach). Taispeánann pointe **P** suíomh cairr atá ag taisteal feadh an bhóthair ó **A** go dtí **B** istóiche. Seasann an uillinn **L** don gha solais as na ceannsoilse agus taispeánann **S** suíomh comhartha bóthair.

Aimsigh suíomh an chairr ar an mbóthar nuair a shoilsítear an chomhartha i dtosach.

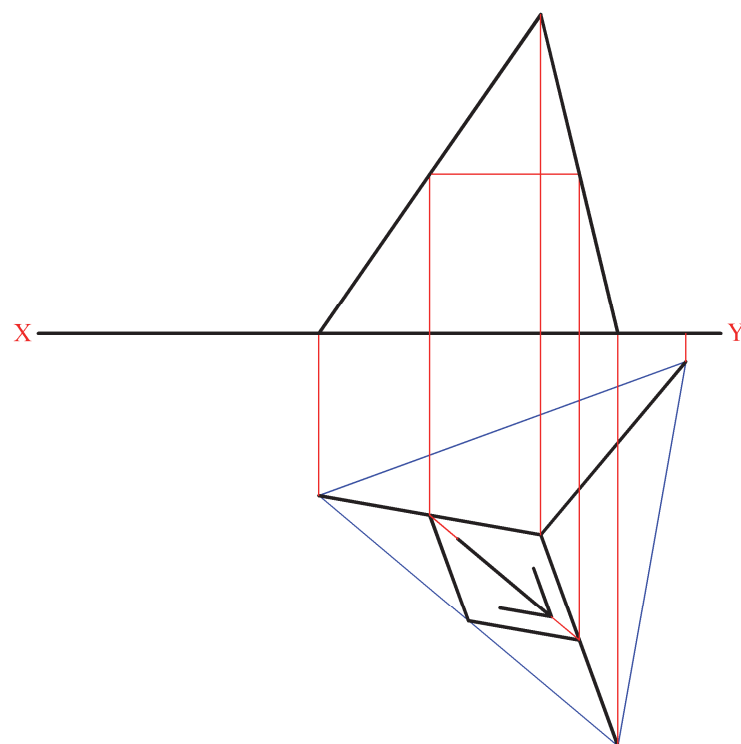



**A-2.** Sa ghrafaic 3D thíos taispeántar comhartha bóthair agus a fhráma tacaithe.

Tá an fráma tacaithe i bhfoirm teitrihéadráin rialta.

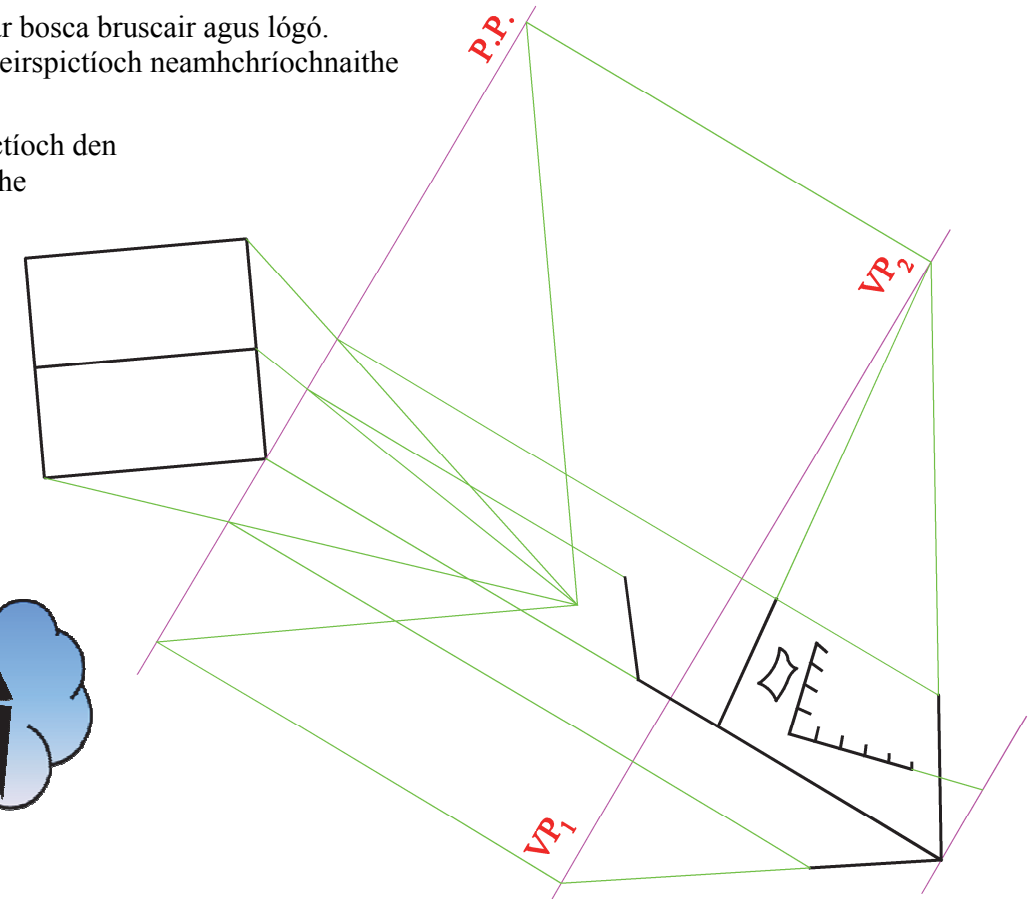
Sa líníocht ar dheis taispeántar bonnchló agus ingearchló neamhchríochnaithe an struchtúir.

- (a) Críochnaigh an t-ingearchló. (*Bíodh an saighead threoch ann.*)
- (b) Déan amach fíorchruth an chomhartha bóthair a bhfuil cruth comhthreomharáin air.



**A-4.** Sa ghrafaic thíos taispeántar bosca bruscair agus lógó. Sa líníocht ar dheis tá cló peirspictíoch neamhchríochnaithe den bhosca.

Críochnaigh an cló peirspictíoch den bhosca, agus pointe téaltaithe cúnta á úsáid agat do na dromchlai claonta.



Is cuid de Roinn C an léarscáil chomh-airde seo agus ba chóir í a úsáid don fhreagra ar rogha na Céimseatan Geolaíche (Ceist C-1) amháin.

