



Scrúdú na hArdteistiméireachta, 2008

Staidéar Foirgníochta

Teoiric - Gnáthleibhéal


(200 marc)

Dé Céadaoin, 18 Meitheamh
Tráthnóna, 2:00 go 4:30

- (a) Freagair Ceist 1 agus trí cheist eile.*
- (b) Tá na ceisteanna go léir ar aon mharc.*
- (c) Ní mór na freagraí a scríobh i ndúch.*
- (d) Ní mór na líníochtaí agus na sceitsí a dhéanamh le peann luaidhe.*
- (e) Scríobh uimhir na ceiste go soiléir roimh gach freagra ar leith.*
- (f) Ba chóir saorsceitsí néata a dhéanamh chun tuairiscí scríofa a léiriú.*
- (g) Ní mór ainm, méideanna, toisí agus sonraí riachtanacha eile i gcás gach ábhair ar leith a luaitear a bhreacadh ar an líníocht.*

1. Taispeánann an sceitse díon tilithe ar theach cónaithe atá á iompar ar bhlocbhalla seachtrach coincreíte 300 mm a bhfuil cuas inslithe ann.
Tá claonadh 30° sa díon agus is díon gearrtha traidisiúnta é.

- (a) Tarraing, de réir scála 1:5, gearradh ceartingearach trí sceimhleacha an dín tilithe agus tríd an mballa seachtrach. Ba chóir go dtaispeánfadh an gearradh na sonraí tógála uile ó phointe atá 400 mm faoi bhun an mhaide balla, trí na sceimhleacha, agus bíodh **trí** chúrsa tileanna ann chomh maith.
- (b) Taispeáin ar an líníocht, modh chun comhbhaill an dín a aeráil.




2. Baintear úsáid fhorleathan as fothaí stéille i dtithe cónaithe nua-aimseartha.

- (a) Bain úsáid as nótaí agus **sceitsí néata saorláimhe** agus taispeáin tógáil fotha stéille do bhalla seachtrach ar theach cónaithe.

Bíodh na nithe seo a leanas sa sceitse agat:

- doimhneacht an trinse;
- leithead an fhotha;
- tiús an fhotha;
- suíomh balla 300 mm ar an bhfotha.

- (b) Taispeáin ar do sceitse sonra dearaidh **amháin** a chinnteoidh go mbeidh an fotha láidir go leor leis an mballa seachtrach agus díon an tí a iompar. Cuir isteach **dhá** ghnáth-thoise.



3. (a) Bain úsáid as **léaráid aonlíneach le lipéid** agus déan sceitse de chóras chun uisce **fuar** a sholáthar do bháisín níocháin láimhe agus do leithreas uisce (WC) i seomra folctha, mar a thaispeántar sa sceitse a ghabhann leis seo.

Bíodh na nithe seo a leanas sa sceitse agat:

- umar stórála uisce;
- príomhphiobán ardaitheach;
- píobobair don bháisín níocháin láimhe agus don WC;
- gnáth-thoisí na píobaire;
- na comhláí riachtanacha uile.

- (b) Bain úsáid as nótaí agus **sceitsí néata saorláimhe** agus taispeáin conas a rialáítear leibhéal an uisce i sistéal sruthlaithe an WC.




4. Tá doras soladach adhmaid a bhfuil ceithre phainéil ann agus fráma dorais, feistithe sa bhalla seachtrach ar theach cónaithe, mar a thaispeántar sa sceitse a ghabhann leis seo.

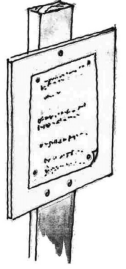
120 mm x 75 mm atá i bhfráma an dorais, agus 120 mm x 50 mm atá i mbarr-ráille an dorais. Blocbhalla coincreíte 300 mm é an balla.
Tá cuas inslithe ann agus tá sé plástráilte ar an dá thaobh.

- (a) Tarraing, de réir scála 1:2 (*leath-lánmhéid*), gearradh ceartingearach tríd an mballa seachtrach, trí fhráma an dorais agus tríd an doras. Taispeáin na sonraí tógála go léir ó phointe atá 250 mm faoi bhun an lindéir choincreíte go dtí pointe atá 350 mm os a chionn ag barr an dorais.

- (b) Taispeáin ar do líníocht, sonra dearaidh a chinnteoidh nach dtreáfaidh an taise go dtí an duille istigh ag barr an dorais.



5. (a) Luaigh **dhá** chúis ar gá cead pleanála a lorg chun teach cónaithe a thógáil.
- (b) Mínigh an bhrí atá le **cead pleanála imlíneach** agus déan cur síos ar chás amháin inar mhaith le duine cead pleanála imlíneach a lorg.
- (c) Pléigh go mionchruinn **dhá** chúis a bhféadfadh údarás pleanála cead pleanála do theach cónaithe faoin tuath a dhiúltú.




6. Baintear úsáid as insliú teirmeach chun laghdú ar chaillteanas teasa trí na ballaí seachtracha ar theach cónaithe.
- (a) Bain úsáid as nótaí agus **sceitsí néata saorláimhe** agus taispeáin suíomh an chláir inslithe righin sa chuas i mballa seachtrach de bhloic choincréite. Taispeáin gnáth-thiús an chláir inslithe.
- (b) Bain úsáid as nótaí agus **sceitsí néata saorláimhe** agus taispeáin conas a choimeádtar an clár inslithe ina shuíomh sa chuas.
- (c) Bain úsáid as nótaí agus **sceitsí néata saorláimhe** agus taispeáin modh eile chun balla seachtrach an tí a insliú.

7. (a) Liostaigh **dhá** réamhchúram sábháilteachta **faoi leith** nach mór cloí leo i **ngach ceann** de na suímh seo a leanas:

- druilire colúin a úsáid sa seomra Staidéar Foirgníochta;
- aonad gloiniú dúbailte a fheistiú i bhfráma fuinneog adhmaid;
- greamachán teagmhála a úsáid chun veinír a dhaingniú ar phainéal adhmaid.

- (b) Sceitseáil **dhá** chomhartha sábháilteachta ba chóir a bheith ar taispeáint ar an mbealach isteach i láithreán tógála, mar a thaispeántar sa sceitse a ghabhann leis seo, agus mínigh an fheidhm atá ag gach comhartha sábháilteachta díobh.




8. Bain úsáid as nótaí agus **sceitsí néata saorláimhe** agus mínigh **cúig** cinn ar bith díobh seo a leanas:

- déadalt;
- sábhadh tríd is tríd;
- scannán taisdionach;
- lindéar réamhstrusta coincréite;
- plástarchlár;
- gaiste gáitéir;
- dúnpholl iniúchta.

9. Taispeánann an sceitse a ghabhann leis seo teachín agus cumhdach seachtrach adhmaid air.

- (a) Roghnaigh adhmaid oiriúnach don chumhdach seachtrach agus tabhair **dhá** fháth le do rogha.
- (b) Mol bailchríoch fheidhmithe a chabhródh le caomhnú an adhmaid. Bain úsáid as nótaí agus **sceitsí néata saorláimhe** agus déan cur síos ar na céimeanna atá i gceist leis an mbailchríoch a chur ar an adhmaid.
- (c) Dearadh an teachín chun go mbeadh foscadh ón aimsir ag an gcumhdach. Bain úsáid as nótaí agus **sceitsí néata saorláimhe** agus taispeáin sainghné dearaidh **amháin** a chabhraíonn le foscadh ón aimsir a tabhairt don chumhdach.



Leathanach Bán