



*Scrúdú Ardteistiméireachta 2004*

# *Staidéar Foirgníochta*


## *Teoiric - Gnáthleibhéal*

*(200 Marc)*

*Dé Céadaoin 23 Meitheamh*  
*Tráthnóna, 2.00 - 4.30*

- (a) Freagair Ceist 1 agus trí cheist eile.*
- (b) Tá na ceisteanna go léir ar aon mharc.*
- (c) Ní mór na freagraí a scríobh i ndúch.*
- (d) Ní mór na líníochtaí agus na sceitsí a dhéanamh le peann luaidhe.*
- (e) Scríobh uimhir na ceiste go soiléir roimh gach freagra ar leith.*
- (f) Ba chóir saorsceitsí néata a dhéanamh chun tuairiscí scríofa a léiriú.*
- (g) Ní mór ainm, méideanna, toisí agus sonraí riachtanacha eile i gcás gach ábhair ar leith a luaitear a bhreacadh ar an líníocht.*

1. Tá fuinneog cháisminte adhmaid feistithe i mblocbhalla seachtrach caighdeánach 300mm le cuas inslithe, mar a thaispeántar sa sceitse. Tá an balla plástráilte ar gach taobh. De réir scála 1:2 (*leath dá lánmhéid*) tarraing gearradh ceartingearach tríd an lindéar, barr na fuinneoige agus an sais. Taispeáin na sonraí tógála go léir ó 350mm os cionn go 200mm faoi bhun bharr fhráma na fuinneoige.



2. (a) Ag baint úsáide as nótaí agus *sceitsí néata saorlámhe*, taispeáin fotha a bheadh oiriúnach do bhlocbhalla seachtrach i dteach aon stóir. Ainmnigh an sórt fotha agus tabhair a thoisí i gcoibhneas leithead an bhalla.
- (b) Ar an sceitse, taispeáin agus cuir lipéad ar shonra dearaidh a mhéadóidh neart an fhotha.

3. (a) Ag baint úsáide as *léaráid shoiléir le lipéid*, sceitseáil córas le **huisce te** a sholáthar do bháisín níocháin lámhe, mar a thaispeántar sa sceitse.

Cuir isteach iad seo a leanas sa léaráid agat:


- Umar stórála uisce;
- Sorcóir d'uisce te;
- An phíobobair go léir;
- Na comhlaí atá riachtanach.



- (b) Déan cur síos, ag baint úsáide as nótaí agus sceitsí néata saorlámhe, ar shonra dearaidh **amháin** ba chóir a bheith ann leis an gcaillteanas teasa sa chóras uisce te a laghdú.
4. Clúdaítear díon theach cónaithe le tileanna coincreíte dín. Is tógáil traidisiúnta atá sa díon agus tá claonadh 30 céim ann.
- (a) De réir scála 1:5, tarraing gearradh tríd an díon, ag taispeáint an mhaide mullaigh, na rachaí, an choiléir cheangail agus na tileanna. Taispeáin na sonraí tógála ó bharr an dín go 150mm faoin gcoiléar ceangail. Cuir lipéid ar na comhbhaill dín go léir agus tabhair a dtoisí.
- (b) Mol leasaitheach oiriúnach a d'fhéadfaí a chur ar na comhbhaill dín agus liostaigh **dhá** réamhchúram sábháilteachta ba chóir a choimeád agus an leasaitheach á húsáid.


5. (a) Liostaigh **dhá** réamhchúram sábháilteachta faoi leith nach mór cloí leo i ngach ceann de na cásanna seo a leanas:

- Ag cur insliú snáithíní gloine i spás an áiléir de theach cónaithe;
- Ag sreangú plocóid trí-phionna;
- Ag tógadh scafaill;
- Ag thabhairt cuairte ar láithreán tógála agus meaisíní ag tochailt trinsí ann.



- (b) Tabhair fáth **amháin** gur gá cloí le gach réamhchúram sábháilteachta a liostaítear thuas.

6. Ní mór plástarchlár agus insliú, mar thirimlíneáil, a fheistiú ar dhromchla istigh bhlocbhalla sheachtraigh.
- (a) Ag baint úsáide as nótaí agus *sceitsí néata saorláimhe*, taispeáin modh **amháin** leis an tirimlíneáil a fheistiú ar an mballa.
- (b) Luaigh **dhá** fháth a mbeadh gá le tirimlíneáil a fheistiú ar bhallaí seachtracha seantí.
- (c) Déan cur síos ar ullmhú dhromchla an bhalla tirimlíneáilte sula gcuirtear bailchríoch phéinte air.




7. Mínigh, le cúnamh nótaí agus *sceitsí néata saorláimhe*, **cúig** cinn ar bith de na téarmaí seo a leanas:

- Tarr;
- Fó-urlár;
- Lámhráille;
- Cuaille staighre;
- Taobhán;
- Gaiste gáitéir;
- Radónbhacainn.

8. (a) Taispeáin, ag baint úsáide as nótaí agus *sceitsí néata saorláimhe*, na sonraí tógála d'urlár na talún soladach a dhéantar as choincrét inslithe i dteach cónaithe.
- (b) Sa sceitse atá déanta agat, cuir isteach le lipéid, sonra dearaidh a chuirfidh cosc le taise an taobh istigh den fhoirgneamh a shroicheadh ag leibhéal an urláir.
- (c) Mol clúdach urláir d'urlár na talún coincríte i gcistin agus tabhair **dhá** fháth le do rogha ábhair.

9. (a) Mínigh, go mion, **trí** cinn de na téarmaí seo a leanas a bhaineann le coincrét:

- Comhbhailithe;
- Baisceadh;
- Foirmeánacht;
- Tástáil mheatha;
- Leasú.



- (b) Déan cur síos ar **trí** shuíomh ina mbaintear úsáid as comhbhailí réamhtheilgte choincríte agus teach cónaithe á thógáil.
- (c) Mínigh **trí** bhuntáiste a bhaineann le húsáid chomhbhailí réamhtheilgte choincríte.

Leathanach  
Bán