

Staidéar Foirgníochta

Teoiric - Gnáthleibhéal


(200 Marc)

Dé Céadaoin, 19 Meitheamh
Tráthnóna, 2.00 go dtí 4.30

- (a) Freagair Ceist 1 agus trí cheist eile.*
- (b) Tá na ceisteanna go léir ar aon mharc.*
- (c) Ní mór na freagraí a scríobh i ndúch.*
- (d) Ní mór na líníochtaí agus na sceitsí a dhéanamh le peann luaidhe.*
- (e) Scríobh uimhir na ceiste go soiléir roimh gach freagra ar leith.*
- (f) Ba chóir saorsceitsí nó léaráidí a dhéanamh chun tuairiscí scríofa a léiriú.*
- (g) Ní mór ainm, méideanna, toisí agus sonraí riachtanacha eile i gcás gach ábhar ar leith a luaitear a bhreacadh ar an líníocht.*

1. De réir scála 1:5, tarraing gearradh ceartingearach trí urlár crochta adhmaid ar leibhéal na talún agus trí bhalla sheachtrach ualachiompartha a dhéantar as bloic choincréite.
Is gnáthbhalla é le cuasbhalla 300mm inslithe agus an dá éadan air plástráilte.
Tá an gearradh le tógáil ó íochtar an fhotha go dtí 300mm os cionn leibhéal an urláir chríochnaithe agus ba chóir na sonraí tógála uile a thaispeáint.


2. (a) Ag baint úsáide as *léaráid le lipéid*, sceitseáil córas le huisce **fuair** a chur ar fáil d'fholcadán mar a thaispeántar.
Cuir isteach sa sceitse an píobobair, an t-umar stórála don uisce agus na comhlaí uile atá riachtanach.



- (b) Déan cur síos, ag baint úsáide as *nótaí agus sceitsí néata saorláimhe*, ar réamhchúram **amháin** ba chóir a thógáil le píobobair chopair a chosaint ar shioc.

3. Taispeánann an léaráid cuid den píobobair shéarachais ó theach cónaithe go humar múnlaigh. Ag baint úsáide as *nótaí agus sceitsí néata saorláimhe*, déan cur síos ar an gcaoi a leagtar amach an trinse agus a leagtar na píobáin, faoi **gach** ceannteideal díobh seo a leanas:

- (i) Tochailt an trinse;
- (ii) Doimhneacht agus leithead an trinse;
- (iii) Sábháilteacht;
- (iv) Fána nó grádán an trinse;
- (v) Píobobair;
- (vi) Cúl-líonadh.



4. (a) De réir scála 1:10, tarraing gearradh ceartingearach trí leac fuinneoige choincréite i ngnáth-chuasbhalla bloc 300mm inslithe seachtrach.
(Ní gá fráma na fuinneoige a chur isteach)
- (b) Cuir isteach sonraí dearaidh ar do líníocht chun cabhrú le cosc a chur le **gach ceann** díobh seo a leanas:
- (i) Uisce a théann chomh fada leis an mballa díreach faoin leac;
 - (ii) Taise a théann chomh fada leis an duille istigh den chuasbhalla.

5. (a) Míneigh go cruinn **gach ceann** de na téarmaí seo a leanas mar a bhaineann siad le coinchréit:

- (i) Comhbhailithe;
- (ii) Cóimheas uisce / stroighne;
- (iii) Tástáil mheatha;
- (iv) Coinchréit threisithe.

(b) Tabhair **dhá** shampla ina n-úsáidí coinchréit threisithe agus teach cónaithe á thógáil.

Scríobh nóta gearr ar an úsáid a bhaintear as coinchréit threisithe i **ngach** ionad a thoghtar.

6. (a) Ceithre chomhartha shábháilteachta a bhíonn in úsáid go coitianta sa tionscal tógála iad seo a leanas:

(i)




(ii)



(iii)



(iv)



Luaigh go soiléir an míniú atá le gach ceann de na comharthaí sábháilteachta thuas.


(b) Liostaigh **dhá** réamhchúram sábháilteachta ba chóir a dhéanamh agus uirlisí le cumhacht leictreach á n-úsáid lasmuigh.

(c) Ag baint úsáide as **nótaí agus sceitsí néata saorláimhe**, déan cur síos ar **thrí** réamhchúram sábháilteachta ba chóir a dhéanamh nuair a bhíonn scafalra á úsáid ar láithreán tógála agus míneigh go gearr an fáth atá le **gach** réamhchúram.

7. Míneigh, le cúnaimh nótaí agus **sceitsí néata saorláimhe**, **cúig** cinn ar bith de na téarmaí seo a leanas mar a bhaineann siad le teicneolaíocht thógála:

- (i) Giarsa urláir;
- (ii) Teanntóga soladacha nó Droicheadú;
- (iii) Próifil;
- (iv) Cúrsa Taisdionach (D.P.C.);
- (v) Taobhán;
- (vi) Cláir urláir le teanga agus eitre;
- (vii) Plástarchlár.

8. (a) Nuair a bhíonn adhmaid úr á úsáid lasmuigh, mar shampla i gcás éadanchlár mar a thaispeántar sa léaráid, is gá é a réiteach agus a phéinteáil i gceart. Mínigh go cruinn an tsraith cheart oibríochtaí chun adhmaid mar seo a réiteach agus a phéinteáil.



- (b) Liostaigh agus mínigh **dhá** réamhchúram sláinte ba chóir a dhéanamh nuair a bhíonn ábhar leasaitheach á chur ar adhmaid.

9. (a) Ag baint úsáide as **nótaí agus sceitsí néata saorláimhe**, taispeáin an t-insliú teirmeach i **ngach ceann** de na suímh seo a leanas:
- (i) díon claonta;
 - (ii) cuasbhalla bloc seachtrach.
- (b) Luaigh an cineál inslithe agus an tiús ba chóir a úsáid i **ngach ceann** de na suímh thuas.