

RABHADH

NÍ MÓR duit an Ceistpháipéar seo a chur ar ais le do fhreagarleabhar ag deireadh an Scrúdaithe;
mura ndéantar sin caillfear marcanna

Scríobh do Scrúduithe anseo →



Coimisiún na Scrúduithe Stáit

SCRÚDÚ NA hARDTEISTIMÉIREACHTA, 2011

EOLAÍOCHT TALMHAÍOCHTA – GNÁTHLEIBHÉAL

DÉARDAOIN, 23 MEITHEAMH – MAIDIN, 9.30 – 12.00

Don Fheitheoir amháin

Stampa an Ionaid

Treoracha Ginearálta

TÁ DHÁ ROINN SA SCRÚDPHÁIPÉAR SEO.

Roinn a hAon: Ní mór **sé** cheist a fhreagairt.
Tá 20 marc ag gabháil le gach ceist.

Roinn a Dó: Ní mór **trí** cheist a fhreagairt.
Tá 60 marc ag gabháil le gach ceist.

Iomlán na Marcanna: 300 marc.

*Níor chóir níos mó ná 45 nóiméad a chaitheamh ar Roinn a hAon.
Ba chóir 105 nóiméad a fhágáil do Roinn a Dó.*

[THALL]

Treoracha

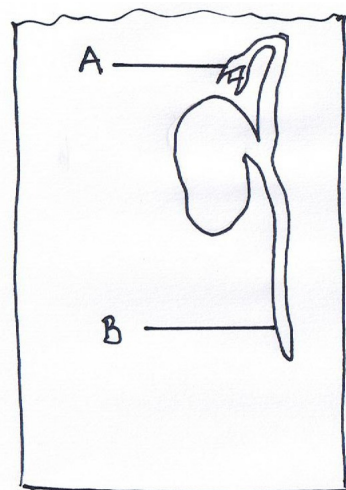
- Freagair **sé** cheist ar bith. Tá **20** marc ag gabháil le gach ceist.
 - Scríobh do chuid freagraí sna spásanna atá ann dóibh.
 - Bíodh do chuid freagraí gearr.
 - Scríobh do scrúduimhir sa spás atá ann di ar leathanach 1.
-

Ceist 1.

- (a) Taispeántar síol de phónaire leathan atá ag péacadh sa léaráid ar dheis. Sainaithin na codanna a bhfuil na lipéid A agus B orthu.

A. _____

B. _____



- (b) Liostaigh na **trí** dháil atá riachtanach chun go bpéacfaidh síol.

(i) _____

(ii) _____

(iii) _____

- (c) Luaigh **dhá** bhealach a scaipeann plandaí a gcuid síolta.

(i) _____


(ii) _____

(20 marc)

Ceist 2.

- (a) Luaigh difear amháin idir leasachán cumaisc agus aoileach.
Luaigh pointe **amháin** faoi gach aon cheann díobh i do fhreagra.

- (b) Taispeántar mála de leasachán cumaisc san fhótagraf. Seasann na huimhreacha ar an tosach do na príomhdhúile sa leasachán. Ainmnigh na **trí** dhúil sin.

(i) _____	
(ii) _____	
(iii) _____	

- (c) Seachas an leasachán a thaispeántar san fhótagraf thuas, ainmnigh leasachán eile a úsáidtear sa talmhaíocht.

(20 marc)

Ceist 3.



Luaigh suíomh gach ceann díobh seo a leanas i gcorp mamaigh. Tá an chéad cheann déanta duit mar shampla.

Cuid an Choirp	Suíomh
Villis	Stéig bheag
(i) Méadailín clé	
(ii) Féimear	
(iii) Broincín	
(iv) Uirí	
(v) Ceirbream	

(20 marc)
[THALL]

Ceist 4.

Comhlánaigh an tábla thíos i dtaca leis na horgánaigh a thaispeántar sna fótagraif.

		
(i) Ainm an orgánaigh		
(ii) Fíleam		
(iii) Tréith amháin de bhall den fhíleam		
(iv) Tábhacht sa talmhaíocht		

(20 marc)

Ceist 5.

Tabhair sainmhíniú ar gach ceann de na téarmaí seo a leanas a úsáidtear i dtáirgeadh ainmhithe.

Téarma beostoic	Sainmhíniú
(i) Bullán	
(ii) Céis	
(iii) Caora dhealaithe	
(iv) Sicín grísce	
(v) Lao diúil	

(20 marc)

Ceist 6.

Tabhair míniú eolaíochta ar **gach ceann** de na cleachtais seo a leanas a chuirtear ar siúl ar fheirmeacha curaíochta:

(a) Uainíocht na mbarr. _____

(b) Síol deimhnithe a chur. _____

(c) Luibhicíd roghnaíoch a leathadh. _____

(d) Cineálacha geimhridh de ghránaigh a phlandú. _____

(20 marc)

Ceist 7.

(a) Ainmnigh **dhá** ghalar beostoic a bhfuil baictéir ina gcúis leo.

1. _____ 2. _____

(b) Tabhair **dhá** bhuntáiste le baictéir sa talmhaíocht.

1. _____

2. _____

(c) Cén **cineál** orgánaigh is cúis le dúchan na bprátaí? _____

(20 marc)

[THALL]

ROINN A DÓ (180 MARC)

Treoracha

Scríobh do chuid freagraí ar Roinn a Dó i do fhreagarleabhar.

Freagair trí cheist ar bith. Tá 60 marc ag gabháil le gach ceist.

Ceist 8.

- (a) Scríobh nóta ar **gach ceann** de na cleachtais seo a leanas a chuirtear ar siúl i dtáirgeadh caorach:
- Sciotadh eireabaill
 - Bearradh
 - Breasal a chur ar reithe
 - Tumadh
 - An tréad a chur ag siúl trí fholcadán crúb.
- (b) Úsáidtear píosaí éagsúla fearais agus aonaid tithíochta chun dea-bhainistíocht feirme a chinntiú. Mínigh an úsáid a bhaintear as **gach ceann** díobh seo a leanas ar fheirmeacha atá i mbun táirgeadh beostoic:
- Pionna aonraithe
 - Lampa infridhearg
 - Beathaitheoir bacphoill
 - Gabhloch
 - Cliathbhosca breithe.

(60 marc)

Ceist 9.

- (a) Úsáidtear seamair agus seagalach ilbhliantúil go minic i meascán síolta i gcomhair féaraigh.
- Luaigh trí bhuntáiste le seamair a úsáid i meascáin síolta.
 - Tabhair dhá chúis a n-aithnítear seagalach ilbhliantúil mar fhéar den scoth.
- (b) Is minic a chuireann feirmeoirí meascán de chineálacha síolta ina gcuid bánta. Péacann na síolta agus déantar iad a bhunú cé go dtagann siad i gcraobh (i ndias) ar dhátaí éagsúla. Mínigh na trí théarma a bhfuil líne fúthu.
- (c) Is féidir modhanna éagsúla a úsáid nuair atá síol féir á chur. Luaigh an modh is oiriúnaí chun síol féir a chur i **ngach ceann** ar leith de na cúinsí seo a leanas:
- Tá feirmeoir ag iarraidh eorna a chur ach féar a bheith ar fáil aige chomh maith céanna i gcomhair na hinnilte nuair a bhainfear an eorna.
 - Tá feirmeoir ag iarraidh síol féir a chur ar thalamh atá éadomhain nó nach féidir a threabhadh go héasca.
- (d)
- Céard a chiallaíonn an téarma *Dileáiteacht Ábhair Thirim (DMD)*?
 - Cén luach garbh DMD is ceart a bheith ag sadhlas ardcháilíochta?
 - Mínigh cén fáth a bhfuil seantalamh féaraigh faoi dhrochbhainistíocht mí-oiriúnach i gcomhair táirgeadh sadhlais de dhea-cháilíocht.

(60 marc)

Ceist 10.

- (a) Léigh an t-alt seo a leanas faoi fhás na bportach móna agus meaitseáil na focail **ón liosta thíos** leis na spásanna uimhrithe.

leathbhá 1-2m 8-10m galú báisteach aigéadacht

Scríobh do chuid freagraí i do fhreagarleabhar agus ní ar an scrúdpháipéar seo.

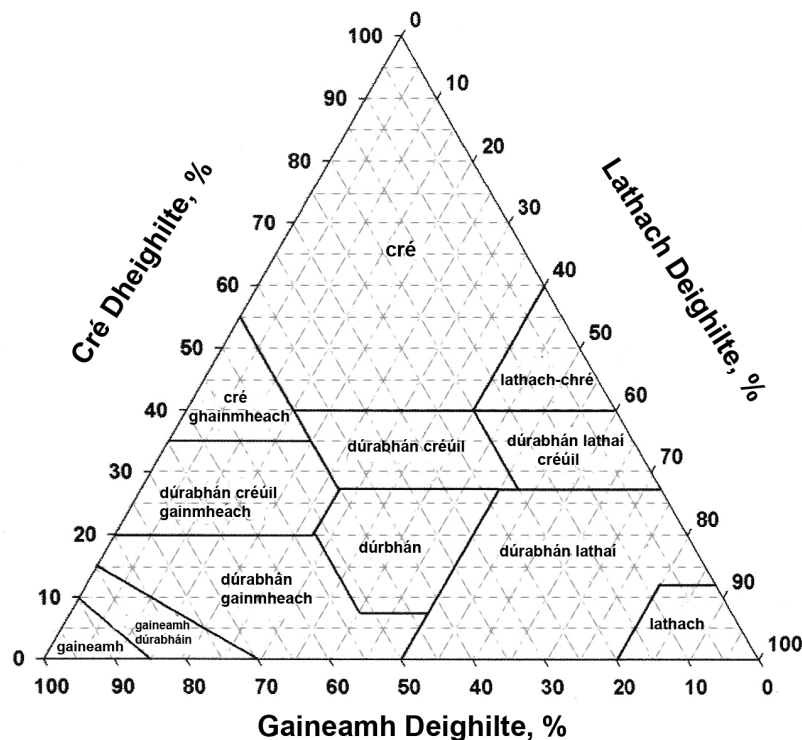
Déantar bratphortaigh i gceantair ina bhfuil _____ **1** _____ ard agus _____ **2** _____ íseal. Bíonn siad _____ **3** _____ ar doimhneacht de ghnáth. Is tréith choitianta de bhratphortach í _____ **4** _____. Bíonn portaigh ardaithe _____ **5** _____ ar doimhneacht de ghnáth. Fásann siad i ngleannta agus i loig mar thoradh ar _____ **6** _____.

- (b) Tabhair sampla de (i) bruthcharraig
(ii) carraig dhríodair
(iii) carraig mheiteamorfach.

I ngach cás **ar leith**, luaigh ceantar nó contae ar oileán na hÉireann ina bhfaightear go forleathan é.

- (c) Is féidir go ndéanfaí máthaircharraig a shíonchaitheamh ar bhealaigh fhisiciceacha nó cheimiceacha. Briseann an síonchaitheamh an charraig ina cáithníní ithreach. Tabhair **mionsonraí de thrí** bhealach ar bith inar féidir carraig a shíonchaitheamh.

- (d) Taispeántar triantán uigeachta ithreach sa léaráid thíos.



Samplaí ithreach	Gaineamh %	Lathach %	Cré %
Ithir A	10	35	55
Ithir B	40	45	15
Ithir C	60	25	15

Bain úsáid as an triantán uigeachta ithreach chun uigeacht na samplaí ithreach A, B agus C liostaithe sa tábla thuas a aithint. **Scríobh do chuid freagraí i do fhreagarleabhar.**

(60 marc)

Ceist 11.

- (a) Bíonn paraisítí coitianta sa talmhaíocht.
- (i) Céard is paraisít ann?
 - (ii) Tabhair sampla de pharaisít de bharr **nó** de bheostoc **ainmnithe** a bhfuil staidéar déanta agat air.
 - (iii) Luaigh bealach **amháin** chun fáil réidh leis an bparaisít atá ainmnithe agat.
- (b) Le cúnadh léaráide lipéadaithe, déan cur síos ar shaolré feithide **ainmnithe**.
- (c) Déan cur síos ar shaothrú gránach **nó** barr fréimhe, faoi na ceannteidil seo a leanas:
- (i) Oiriúnacht na hithreach
 - (ii) Siolchur – dáta **agus** modh
 - (iii) An leasachán a úsáidtear
 - (iv) Srianadh lotnaidí
 - (v) Baint – modh **agus** am
 - (vi) Táirgeadh in aghaidh an heicteáir.

(60 marc)

Ceist 12.

Freagair dhá chuid ar bith de (a), (b), (c) agus (d).

(30 marc, 30 marc)

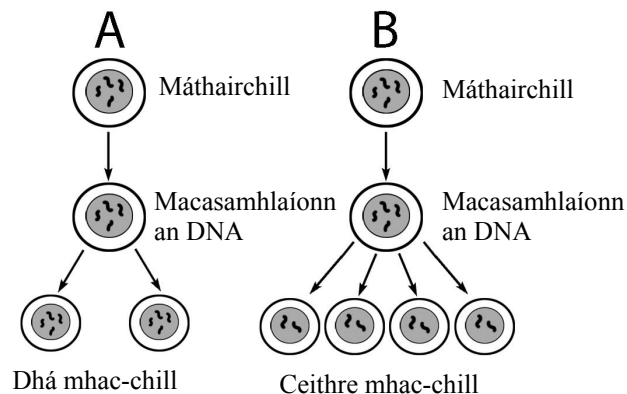
- (a) Tarraing léaráid lipéadaithe den chóras díleá in ainmhí monagastrach **ainmnithe**. Déan cur síos ar thurgnamh chun iniúchadh a dhéanamh ar ghníomhaíocht einsíme díleáiche **ainmnithe**.
- (b) Tabhair míniú eolaíochta ar **gach aon cheann** díobh seo a leanas:
- (i) Cuiteoga a bheith le feiceáil ar dhromchla na hithreach tar éis báisteach throm.
 - (ii) Lao a bheathú le gruth buí sna huaireanta díreach tar éis a shaolaithe.
 - (iii) Caomhnú fála sceach.
 - (iv) Féar tirim á stóráil i gceart díreach i ndiaidh a thriomaithe.
 - (v) Crainn á dtanú i dtáirgeadh crann foraoiseachta.
- (c) Aithnítear bainne mar bhunriachtanas bia do laonna óga.
- (i) Luaigh comhdhéanamh meánach bainne úir.
 - (ii) Déan cur síos ar iniúchadh saotharlainne chun a thaispeáint go bhfuil comhpháirt **ainmnithe amháin** ar fáil i mbainne úir.
 - (iii) Cén chaoi ar féidir leis an bhfeirmeoir déiríochta fabhtú bainne sa bhleánlann a sheachaint?
- (d)
- (i) Déan cur síos, le cúnadh léaráide lipéadaithe, ar bhíashlabhra simplí mar a tharlaíonn sé ar an bhfeirm.
 - (ii) Déan cur síos ar iniúchadh páirce chun comhdhéanamh luibheolaíoch seanfhéaraigh bhuaín a fháil amach.
 - (iii) D'ainmnigh na Náisiúin Aontaithe an bhliain 2010 mar Bhliain Idirnáisiúnta na Bithéagsúlachta. Mínigh an téarma *bithéagsúlacht*.

Ceist 13.

- (a) Mínigh na téarmaí seo a leanas: (i) Ailléilí, (ii) Clón, (iii) Spreacadh hibrideach.
- (b) San eorna tá an ailléil don chineál déise sé shraith (**S**) ceannasach ar an ailléil don chineál déise dhá shraith (**s**). Rinneadh planda eorna, a bhí homaisigeach maidir leis an gcineál déise sé shraith (**SS**), a chrosáil le planda a bhí homaisigeach maidir leis an gcineál déise dhá shraith (**ss**). Bhí an sliocht (F1) heitrisigeach. Rinneadh an sliocht a chrosáil lena chéile ansin le féinphailniú chun ginealach an F2 a tháirgeadh. **Cóipeáil é seo a leanas i do fhreagarleabhar** agus líon na spásanna (géinitíopaí idir lúbíní, feinitíopaí ar na línte).

Géinitíopaí na dtuismitheoirí tosaigh	(SS)	X	(ss)
Na gaiméití a tháirgeann gach tuismitheoir	()	X	()
Géinitíopa an tsleachta (F1)		()	
Feinitíopa an tsleachta (F1)	_____		
Géinitíopa tuismitheoirí an dara ginealach	()	X	()
Na gaiméití a tháirgeann gach tuismitheoir	()	()	X () ()
Géinitíopaí an dara ginealach (F2)	()	()	() ()
Feinitíopaí an dara ginealach (F2)	_____		

- (c) **I do fhreagarleabhar** taispeáin crosáil idir tuismitheoir leis an gcineál déise dhá shraith agus aonán F1 ón sampla thuas. I do chrosáil, taispeáin:
- géinitíopaí na dtuismitheoirí
 - géinitíopaí na ngaiméití
 - géinitíopaí agus feinitíopaí shliocht na crosála.
- (d) Is dhá chineál cilldeighilte iad miotóis agus méóis atá ar do chúrsa agus a chuirtear i láthair thíos i bhfoirm léaráide.



- Cé acu léaráid, A nó B, a sheasann don mhéóis?
- Cé acu léaráid a bhfuil cealla haplóideacha ann?
- Céard é an phríomhdhifríocht idir chill haplóideach agus cill dhioplóideach?
- Cén áit i gcorp an ainmhí a mbeifeá ag súil le cealla haplóideacha a fháil?

(60 marc)

Leathanach Bán

Leathanach Bán

Leathanach Bán