

**RABHADH**

**NÍ MÓR duit an Páipéar Ceisteanna seo a chur ar ais le do leabhar freagraí ag deireadh an Scrúdaithe: mura ndéantar sin caillfear marcanna.**

**M. 39T**

Scríobh d'Uimhir Scrúdaithe anseo 

**AN ROINN OIDEACHAIS AGUS EOLAÍOCHTA**

**SCRÚDÚ NA hARDTEISTIMÉIREACHTA, 2002**

**EOLAÍOCHT TALMHAÍOCHTA – GNÁTHLEIBHÉAL**

**Dé Céadaoin, 12 Meitheamh – Tráthnóna 2.00 – 4.30**

*d'Úsáid an Fheitheora amháin*

Stampa an Ionaid

*Treoracha Ginearálta*

**TÁ DHÁ ROINN SA SCRÚDÚ SEO**

**Roinn a hAon:** **Sé** ceist le freagairt.  
Tá 20 marc ar gach ceist.

**Roinn a Dó:** **Trí** ceist le freagairt.  
Tá 60 marc ar gach ceist.

**Iomlán:** 300 marc

*Níor chóir duit níos mó ná 45 nóiméad a chaitheamh ar Roinn a hAon,  
sa tslí go mbeidh 105 nóiméad agat do Roinn a Dó.*

**Treoracha**

- Freagair **sé** cheist. Tá 20 marc ar gach ceist.
- Scríobh do chuid freagraí sa spás atá ann dóibh.
- Bíodh do chuid freagraí gearr.

**Ceist 1**

Taispeánann an léaráid turgnamh a cuireadh ar bun chun tréscailteacht dhá shampla éagsúla ithreach a léiriú.

- (a) Cé acu ithir, **A** nó **B**, is mó atá tréscailte?

\_\_\_\_\_

- (b) Cén chaoi a dtaispeánfadh an turgnamh seo cé acu ithir is mó atá tréscailte?

\_\_\_\_\_

\_\_\_\_\_

\_\_\_\_\_

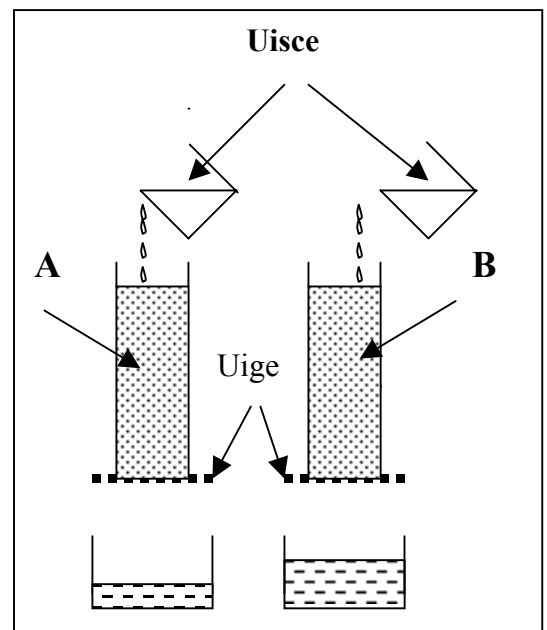
- (c) Céard a mhéadódh tréscailteacht ithreach?

\_\_\_\_\_

\_\_\_\_\_

- (d) Ainmnigh cineál **amháin** carraig dhríodair.

\_\_\_\_\_



(20 marc)

## Ceist 2

Seo a leanas baill choirp bó. Sa spás atá ann dó luaigh feidhm **amháin** le gach ball ar an liosta.

Baill Choirp	Feidhm amháin sa Chorp
Abomasam	
Cruan	
Úiréadar	
Vena cava	
Broincín	

(20 marc)

## Ceist 3

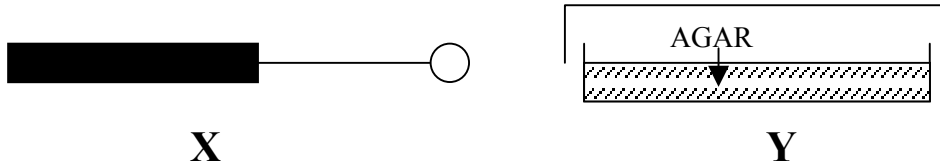
Léirigh pé acu an bhfuil na ráitis seo a leanas fíor (F) nó bréagach (B), trí chiorcal a tharraingt timpeall ar an bhfreagra ceart, faoi mar a dhéantar sa sampla.

<b>Sampla:</b>	<b>Ní bhíonn cúlphiacla ar bith ag luibhiteoirí</b>	<b>F</b>	<b>(B)</b>
(a)	Pór muc is ea Lanrásach	F	B
(b)	Is féidir le maothal buinneach a chur ar ghamhna	F	B
(c)	Bíonn DNA i gcrómasóim, is é sin ár gcód géiniteach	F	B
(d)	Baineann an chuiteog leis an bhFíleam Annelida	F	B
(e)	Cuireann iaidín dath gorm/dubh ar stáirse	F	B
(f)	Téann an féileacán faoi mheiteamorfois ainfhoirfe	F	B
(g)	Fás crann buaircíneach is mó atá sa táirgeadh crann foraoise in Éirinn	F	B
(h)	Is é is brí le F.C.R. ( i mBéarla) ná méid an bhia i gcuid chothaithe	F	B
(i)	Spreagann <i>Babesia</i> fiabhras an bhuinne dheirg	F	B
(j)	Is í an lathach an cáithnín ithreach is lú ar fad.	F	B

(20 marc)

#### Ceist 4

Baineadh úsáid as an trealamh seo a leanas in imscrúdú chun láithreachta baictéar a thaispeáint i sampla bainne.



(a) Ainmnigh an dá pháirt trealamh X agus Y ar baineadh úsáid astu san imscrúdú.

X \_\_\_\_\_

Y \_\_\_\_\_

(b) Cad iad na feidhmeanna atá ag X agus ag Y san imscrúdú?

X \_\_\_\_\_

Y \_\_\_\_\_

(c) Cén toradh a mbeadh súil agat leis dá mbeadh baictéir sa bhainne?

\_\_\_\_\_  
\_\_\_\_\_

(d) Cén chaoi a ndéantar steiriliú ar X le linn an imscrúdaithe?

\_\_\_\_\_  
\_\_\_\_\_

**(20 marc)**

### Ceist 5

Is í an fheoil príomhtháirge thionscal na gcaorach in Éirinn.

- (a) Ainmnigh **dhá** tháirge eile ag tionscal na gcaorach.

1 \_\_\_\_\_ 2 \_\_\_\_\_

- (b) Ainmnigh **dhá** phór caorach atá in Éirinn.

1 \_\_\_\_\_ 2 \_\_\_\_\_

- (c) Déan cur síos ar **dhá** shaintréith atá ag pór **amháin** díobh sin a ainmníodh i gcuid (b).

1 \_\_\_\_\_

2 \_\_\_\_\_

- (d) Cad atá i gceist nuair a deirtear go bhfuil caora “diúltaithe ar bhonn aoise”, nó “draft” nó “cast” i mBéarla?

\_\_\_\_\_  
\_\_\_\_\_  
\_\_\_\_\_

(20 marc)

### Ceist 6

- (a) Taispeánann an léaráid bláth phlanda féir.  
Ainmnigh **dhá** fhéar ar bith a fhásann in Éirinn.

1 \_\_\_\_\_

2 \_\_\_\_\_

- (b) Cuidíonn cineál cheann an bhlátha le féara a shainaitint.

Luaigh **dhá** shaintréith eile, a chuidíonn le sainaitint an fhéir.

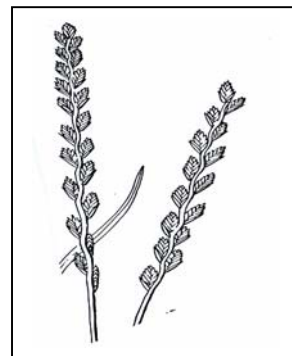
1 \_\_\_\_\_

2 \_\_\_\_\_

- (c) Luaigh **dhá** mhodh chun síol féir a chur.

1 \_\_\_\_\_

2 \_\_\_\_\_



Tógtha as: Grasses. C.E. Hubbard.  
Penguin Books, England.

(20 marc)

## Ceist 7

Comhlánaigh iad seo a leanas:

- (a) Is cineálacha \_\_\_\_\_ “brat” nó “báisín”
- (b) Feadán i bplandaí is ea an xiléim a iompraíonn \_\_\_\_\_
- (c) Is é is gríosachán ann ná cineál \_\_\_\_\_
- (d) Sampla de bhó dhá phór is ea \_\_\_\_\_
- (e) Is é is *Mucor* ann ná foirm \_\_\_\_\_

**(20 marc)**

## Roinn a Dó (180 marc)

### Treoracha

Scríobh do chuid freagraí ar Roinn a Dó i do leabhar freagraí.

➤ Freagair **trí** cheist ar bith. Tá 60 marc ar gach ceist.

---

#### Ceist 8

Bíonn teorainn uaireanta le táirgíocht ghránbharr in Éirinn de dheasca cúinsí aimsire agus oiriúnacht na hithreach.

Freagair iad seo a leanas maidir le gránbharr ainmnithe a bhfuil staidéar déanta agat air.

- (a) Ainmnigh **dhá** chineál éagsúla den ghránbharr a roghnaigh tú.
- (b) Déan cur síos ar na cúinsí aimsire a choinneodh an fás agus an cháilíocht ar chúl.
- (c) Luaigh **dhá** shaintréith san ithir atá riachtanach chun go n-éireodh le fás an bhairr.
- (d) Déan cur síos ar an gcaoi a réiteofá an ithir do shíolchur an bhairr.
- (e) Luaigh na sonraí a bhaineann le galar ainmnithe sa ghránbharr a roghnaigh tú, faoi na ceannteidil seo
  - Ainm an ghalair
  - Cúis leis an ngalar
  - Comharthaí an ghalair
  - Cóireáil an ghalair
- (f) Cén uair agus cén chaoi a ndéantar an barr a bhaint?
- (g) Tá stóráil an ghránbhairr tábhachtach. Luaigh **trí** chúinse atá riachtanach chun stóráil chuí a dhéanamh ar do ghránbharr roghnaithe.

**(60 marc)**

### Ceist 9

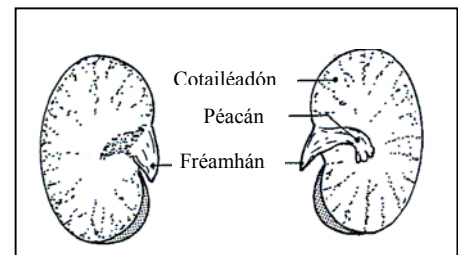
- (a)
- (i) Agus léaráid lipéadaithe mar chúnamh agat, mínigh an córas bainistíochta a dtugtar “Leader – Follower”.
  - (ii) Luaigh **dhá** chúis faoi deara beithígh a bheith séidte agus iad ar féarach san earrach luath.
  - (iii) Déan cur síos ar an gcaoi a n-oibríonn an córas rangaithe EUROP.
  - (iv) Agus léaráid lipéadaithe á húsáid agat, taispeáin an difríocht idir póir mairteola agus póir déiríochta eallaigh maidir le cruth agus déanamh a gcoirp.
- (b) Úsáideann feirmeoirí áirithe barra fréimhe ar nós biatas beithíoch agus svaeideanna chun ainmhithe feirme a bheathú, sa bhreis ar shadhlas, féar agus beatha thacúil (min).
- (i) Luaigh buntáiste **amháin** agus míbhuntáiste **amháin** don fheirmeoir a bhaineann leis na barra fréimhe seo a úsáid.
  - (ii) Ainmnigh na príomh-chomhábhair atá i gcion beatha thacúil (min).
  - (iii) Cén tábhacht a bhaineann le cuid chothromaithe don ainmhí feirme?

(60 marc)

### Ceist 10

(a) Siol pónaire leathain atá sa léaráid.

- (i) An sampla é seo de shíol monacotailéadónach nó de shíol déchotailéadónach?
- (ii) Luaigh feidhm **amháin** a bhaineann le gach páirt ar leith atá ainmnithe sa léaráid.



(b) Rachaidh an síol seo trí phróiseas ar a dtugtar péacadh.

- (i) Mínigh an téarma a bhfuil líne faoi.
- (ii) Agus léaráid lipéadaithe mar chúnamh agat, déan cur síos ar imscrúdú a rinne tú chun an tionchar a thaispeáint a bhí ag toisc ainmnithe amháin ar an bpéacadh.

(c) Dhá phróiseas is ea pailíniú agus truailiú a tharlaíonn sa timpeallacht.

- (i) Mínigh an téarma pailíniú.
- (ii) Luaigh **dhá** mhodh trína dtarlaíonn pailíniú.
- (iii) Luaigh **trí** chúis a bhféadfadh truailiú tarlú ar fheirm agus mínigh cén chaoi a bhféadfaí gach cúis ar leith díobh sin a chosc.

(60 marc)



## Ceist 11

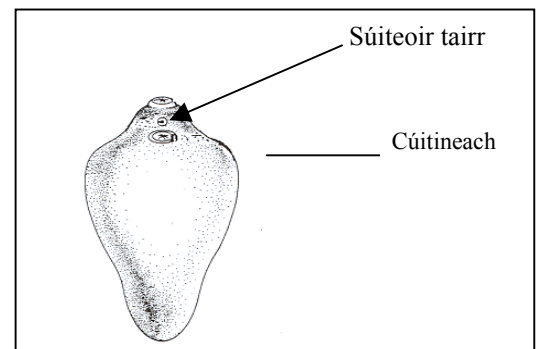
Freagair **dhá** chuid ar bith, (a), (b), (c) nó (d).

- (a) Meastar gur riachtanas bunaidh bia é bainne.
- Luaigh comhdhéanamh bainne úir.
  - Déan cur síos ar imscrúdú saotharlainne chun láithreach comhábhair **amháin ainmnithe** sa bhainne úr a thaispeáint.
  - Cén chaoi ar féidir le feirmeoir cosc a chur ar fhabhtú bainne sa bhleánlann?
- (b) Cineál speisialaithe ferimeoireachta is ea táirgeadh muc.
- Liostáil **trí** chúinse tithíochta atá riachtanach in aonad táirgeachta muc ar fheirm.
  - Déan cur síos ar bhainistiú agus ar bheathú na cránach le linn toirchis.
  - Cén fheidhm atá leis an gliathbhosca breithe?
- (c) Tá dúile mianracha tábhachtach d'fhás plandaí folláine.
- Liostáil **trí** dhúil mhianracha a mbíonn tionchar acu ar leibhéal na torthúlachta san ithir.
  - Le cúnaimh léaráidí lipéadaithe déan cur síos ar imscrúdú saotharlainne chun iarmhairtí dhíothacht mianra ar fhás planda a thaispeáint.
- (d) Is é is sadhlas ann ná féar coipthe.
- Ainmnigh baictéar **amháin** a thagann i gceist agus sadhlas á dhéanamh den fhéar.
  - Luaigh **trí** shlí ina bhféadfadh an feirmeoir ardleibhéil siúcra san fhéar a spreagadh.
  - Rianaigh an cur chuige atá i gceist chun sadhlas a bhaint agus a stóráil i gceart.

(60 marc)

## Ceist 12

- (a) Orgán mór stórála is ea an t-ae in ainmnithe feirme.
- Cén chuid den chorp ina bhfuil an t-orgán seo lonnaithe?
  - Luaigh **dhá** ábhar a stóráiltear san ae.
  - Ainmnigh **dhá** orgán stórála eile sa chorp.
- (b) Is é atá sa léaráid ná puchán ae (*Fasciola hepatica*), orgánach a bhíonn san ae ag roinnt ainmhithe feirme.
- Déan cur síos ar fheidhmeanna na bpáirteanna lipéadaithe sa léaráid.
  - Ainmnigh **dhá** ainmhí feirme a mbíonn an puchán ae iontu.
  - Luaigh **dhá** chomhartha a bheadh ag ainmhí a mbeadh galrú an phuchán ae air.
  - Cén chóireáil is féidir a chur ar ainmhí feirme láithreach do ghalrú an phuchán ae?
  - Mínigh **trí** mhodh is féidir leis an bhfeirmeoir a úsáid chun galrú breise den phuchán ae a chosc ar an bhfeirm.
- (c) Agus ainmhí nua á cheannach ag an bhfeirmeoir, breathnaíonn sé ar an mbail atá air.
- Cad iad na comharthaí dea-shláinte atá ar an ainmhí ina chuma agus ina ghníomhaíocht?
  - Mínigh cad atá i gceist le bailscóráil ainmhí.



(60 marc)

### Ceist 13

- (a) Dhá chineál cilldeighilte is ea **Méóis** agus **Miotóis**. Cóipeáil an tábla thíos isteach i do leabhar freagraí, agus comhlánaigh é, agus úsáid á baint agat as an liosta seo a leanas chun comparáid a dhéanamh idir an dá chineál cilldeighilte.

**Cealla combhionanna cruthaithe**      **Tá na cealla nua haplóideach**  
**Cealla neamh-chombhionanna**      **Tá na cealla nua dioplóideach**  
**cruthaithe**

Cineál cilldeighilte (máthairchill dioplóideach)	Cealla combhionanna nó neamh-chombhionanna cruthaithe	Tá na cealla nua haplóideach nó tá na cealla nua dioplóideach
<b>Méóis</b>		
<b>Miotóis</b>		

- (b) Tá méadú tagtha ar úsáid inseamhnú saorga A.I. i gcúrsaí feirmeoireachta le tamall de bhlianta.
- Cad dó a seasann na litreacha A.I?
  - Luaigh buntáiste **amháin** agus míbhuntáiste **amháin** a bhaineann le A.I. i gcás na mbeithíoch.
  - Déan idirdhealú idir tástáil éifeachta agus tástáil sleachta na dtarbh.
- (c) Crosáiltear tarbh gearr-adharcach atá homaisigeach do dhath dearg (**DD**) le bó ghearr-adharcach atá homaisigeach do dhath bán (**dd**). Tá an sliocht (**F1**) heitrisigeach do dhath gríséid.
- Luaigh géinitíopa an tsleachta **F1**.
  - Mínigh cén fáth a bhfuil dath gríséid ar an sliocht.
  - Má chrosáiltear tarbh gearr-adharcach eile atá homaisigeach do dhath dearg (**DD**) leis an sliocht (**F1**), cad iad na géinitíopaí agus na feinitíopaí a bheidh ag an dara glúin (**F2**)? Cóipeáil an méid seo a leanas isteach i do leabhar freagraí agus comhlánaigh na spásanna (géinitíopaí idir na lúibíní, feinitíopaí ar na línte).

Géinitíopaí thuismitheoirí an dara glúin (Tarbh dearg homaisigeach agus bó ghríséid heitrisigeach)      (      )      x      (      )

Na gaiméití a tháirgeann gach thuismitheoir      (      )      x      (      ) (      )

Géinitíopaí an dara glúin (**F2**)      (      )      x      (      )

Feinitíopaí an dara glúin (**F2**)      \_\_\_\_\_      \_\_\_\_\_

**(60 marc)**