

**RABHADH**

Caithfear an Ceistpháipéar seo a chur ar ais le do fhreagarleabha(i)r ag deireadh an scrúdaithe, nó caillfear marcanna.

Scríobh do Scrúduimhir anseo⇒

**Coimisiún na Scrúduithe Stáit**

**SCRÚDÚ NA hARDTEISTIMÉIREACHTA, 2012**

**DÉ CÉADAOIN 20 MEITHEAMH 2012 –MAIDIN 9.30 - 12.00**

**EACNAMAÍOCHT TALMHAÍOCHTA – GNÁTHLEIBHÉAL**  
(320 marc)

Freagair **cúig cheist déag** as Cuid I agus **ceithre** cheist as Cuid II.  
Níor cheart duit níos mó ná uair an chloig a chaitheamh le Cuid I.

**CUID I (120 marc)**

Freagair **cúig cheist déag**.  
Scríobh na freagraí sna spásanna cuí.  
Tá na ceisteanna ar fad ar aon mharc.

**CUID II (200 marc)**

Freagair **ceithre** cheist.  
Scríobh na freagraí i do fhreagarleabha(i)r.  
Tá na ceisteanna ar fad ar aon mharc (50 marc).  
**Ná** scríobh freagraí Chuid II ar an gceistpháipéar seo.

**NÁ DEARMAD AN CEISTPHÁIPÉAR SEO A THABHAIRT AR AIS  
LEIS AN/NA (bh)FREAGARLEABHA(I)R A ÚSÁIDEADH CHUN NA CEISTEANNA  
I gCUID II A FHREAGAIRT.**

## CUID I (120 marc)

Freagair cúig cheist déag.

Scríobh na freagraí sna spásanna cuí.

Tá na ceisteanna ar fad ar aon mharc.

1. Tagraíonn conacra do thalamh talmhaíochta a thógáil ar cíos ar feadh tréimhse:  
(Cuir tic (✓) sa bhosca cuí.)

11 mhí

12 mhí

24 mhí

2. Is é a thugtar ar an sciar de chaipiteal a bhíonn ag teastáil chun innealra, trealamh agus foirgnimh feirme a chur in áit a leithéidí atá seanchaite ná

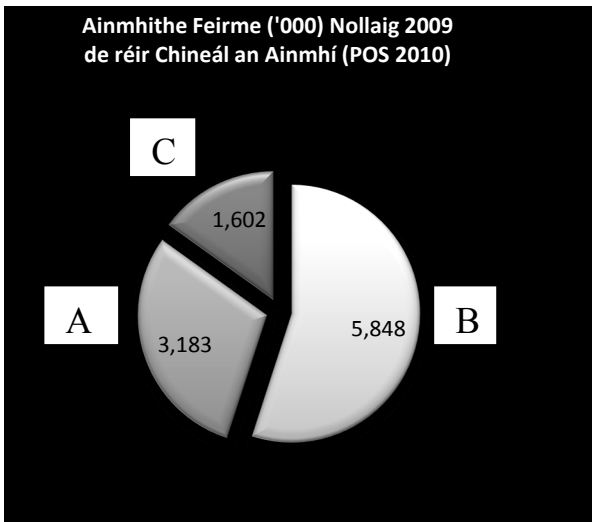
\_\_\_\_\_.

3. “Ní hacmhainn don fheirmeoir a sholáthróidh níos mó bainne ná mar a cheadaíonn a c(h)uóta dó/dí, neamhaird a thabhairt ar bhagairt an fhorthobhaigh idir seo agus an bhliain 2015.”  
Mínigh (i) bagairt an fhorthobhaigh agus (ii) tábhacht na bliana 2015.

(i) \_\_\_\_\_  
\_\_\_\_\_

(ii) \_\_\_\_\_  
\_\_\_\_\_

4. Léiríonn an phíchart thíos beostoc an gheilleagair náisiúnta (eallach, caora, muca) i Nollaig na bliana 2009 de réir a méid choibhneasta. Sa bhosca thíos, scríobh cé acu earnáil den bheostoc a seasann A, B agus C di.



A	B	C

5. Cé gur tháinig méadú suntasach ar phraghas na muiceola le linn na bliana 2011, níor tháinig feabhas ar chúinsí na bhfeirmeoirí muc. Mínigh cúis **amháin** atá leis seo.

\_\_\_\_\_  
\_\_\_\_\_

6. Thart ar €1.6 billiún in aghaidh na bliana an fáltas talmhaíochta a fhaigheann Éire ón AE, agus faightear thart ar €1.3 billiún den mhéid sin mar 'íocaíocht aonair feirme'. Míniú 'íocaíocht aonair feirme'.

---

---

---

7. Is é praghasleasteachas an éilimh (PED i mBéarla) ar mhairteoil ná -1.5. Dá rachadh méadú 10% ar an bpraghas thiocfadh \_\_\_\_\_ (méadú/laghdú) \_\_\_\_\_ % ar an gcainníocht a éilítear.

8. I Samhain 2011 bhí an ráta dífhostaíochta ag 14.5% (staitisticí POS). Luaigh slí **amháin** a mbíonn tionchar eacnamaíoch ag an ráta an-ard dífhostaíochta seo ar an bhfeirmeoireacht.

---

---

9. Ainmnigh an luach saothair / íocaíocht a shaothraíonn gach ceann de na Tosca Táirgthe seo a leanas:

Toisc	Luach saothair / Íocaíocht
TALAMH	
CAIPITEAL	

10. Is é an céatadán measta de tháirgeadh déiríochta uile na hÉireann a easpórtáladh sa bhliain 2010 ná: (Cuir tic (✓) sa bhosca cuí.)

10%  50%  80%

11. Cuireann feidhm an táirgthe síos ar an gcoibhneas idir \_\_\_\_\_ agus \_\_\_\_\_.

12. Líon isteach na trí phríomhghné eile den chumasc margaióchta sna spásanna thíos:

		<b>TIONSCNAMH</b>	
--	--	-------------------	--

13. Bunaíodh an Eagraíocht Dhomhanda Trádála sa bhliain 1995. Luaigh an príomhchuspóir atá aici.

---

---

14. Déantar staid airgeadais fadtéarma na feirme a thomhas leis an gcóimheas fiachais / \_\_\_\_\_.

15. De réir an tSuirbhé Náisiúnta Feirme a rinne Teagasc, ba é an meán-ioncam feirme in Éirinn sa bhliain 2010 ná:

(Cuir tic (✓) sa bhosca cuí.)

€18,000

€32,000

€54,000

16. Thug an tAontas Eorpach an Treoir um Níotráití isteach sa bhliain 1991.

(i) Tabhair breac-chuntas ar an bpríomhchuspóir atá ag an Treoir sin:

---

---

(ii) Mínigh an téarma ‘Treoir’:

---

---

17. Tá stocaireacht maidir le hathchóiriú an Chomhbheartais Talmhaíochta (CT) ar cheann de na róil atá ag Feirmeoirí Aontaithe na hÉireann (IFA i mBéarla). Mínigh an téarma ‘stocaireacht’:

---

---

---

18. De réir Dhlí Engel, caitheann grúpaí ardioncaim sciar \_\_\_\_\_ (níos lú/níos mó) dá gcuid ioncaim iomláin ar \_\_\_\_\_ ná mar a chaitheann grúpaí íseal-ioncaim.

19. Tabhair breac-chuntas ar an bhfáth go mb’fhéidir go mbeadh ar fheirmeoir breithmheas ar infheistíocht a dhéanamh.

---

---

---

20. Luaigh teorainn **amháin** a bhaineann le polasaí cabhrach bia do thíortha atá i mbéal forbartha.

---

---

*Ná dearmad an ceistpháipéar seo a thabhairt ar ais leis an/na (bh)freagarleabha(i)r a úsáideadh chun na ceisteanna i gCuid II a fhreagairt.*

## CUID II (200 marc)

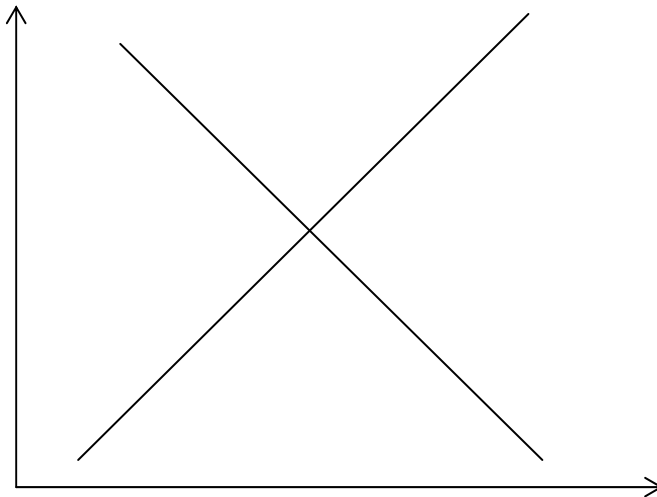
Freagair **ceithre** cheist.

Scríobh na freagraí i do fhreagarleabha(i)r.

Tá na ceisteanna ar fad ar aon mharc (50 marc).

**Ná scríobh freagraí Chuid II ar an gceistpháipéar seo.**

1. Léirítear sa léaráid thíos an tÉileamh ar Phrátaí Éireannacha agus Soláthar na bPrátaí Éireannacha in Ollmhargaí na hÉireann. Cóipeáil an léaráid i do fhreagarleabhar.



- (a) Lipéadaigh an dá áis, an t-éileamh ar phrátaí, an soláthar prátaí agus an praghas cothromaíochta in Ollmhargaí na hÉireann.



- (b) Meastar go coitianta gur féidir Pasta a úsáid in ionad prátaí.

Mínigh an téarma eacnamaíochta ‘earra ionaid’.



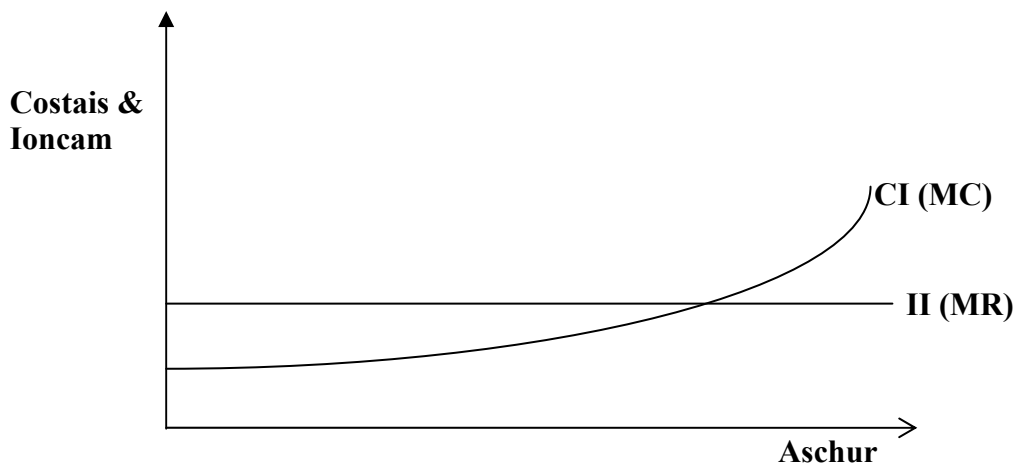
- (c) Mínigh, le cabhair léaráide ar leith i ngach cás, na slite a mbeadh tionchar ag **gach** ceann de na nithe seo a leanas ar an Éileamh ar Phrátaí Éireannacha **nó** ar Sholáthar na bPrátaí Éireannacha:
- (i) tosaítear feachtas rathúil fógraíochta ar son prátaí Éireannacha
  - (ii) cuirtear ar ceal taraif ar phrátaí a iompórtáiltear
  - (iii) bíonn drochaimsir san earrach ina cúis le dúchan na bprátaí.
- (d) Tabhair breac chuntas ar **dhá** shlí a mbíonn tionchar eacnamaíoch atá ag cogadh na bpraghsanna sna hollmhargaí faoi láthair ar an bhfeirmeoireacht.

[50 marc]

2. (a) Tá an-tóir ar mhargáí feirmeoirí in Éirinn le blianta beaga anuas.
- (i) Mínigh an téarma “margadh feirmeoirí”.
- (ii) Mínigh **dhá** bhuntáiste atá ann don fheirmeoir a dhíolann a chuid táirgí ar mhargáí feirmeoirí.
- (iii) Mínigh **dhá** thoisic ba chóir don fheirmeoir a chur san áireamh nuair a dhíolann sé táirgí ar mhargadh feirmeoirí.
- (b) Saghas aonad gnó i gcúrsaí talmhaíochta is ea an comharchumann. Mínigh **trí** príomhphrionsabal a bhaineann le comharchumainn talmhaíochta.
- (c) Margadh nideoige is ea an fheirmeoireacht orgánach. Mínigh an téarma ‘margadh nideoige’ agus luaigh sampla talmhaíochta **amháin** eile.

[50 marc]

3.



Taispeánann an léaráid thuas an leibhéal aschuir is brabúsaí le táirgeadh.

- (a) Mínigh an difríocht idir an Costas Imeachach agus an tIoncam Imeachach.
- (b) Cóipeáil an léaráid i do fhreagarleabhar agus marcáil ar an léaráid an leibhéal aschuir is brabúsaí (úsáid an lipéad  $Q_1$ ).
- (c) Mínigh cén fáth a mbeadh an brabús níos lú dá dtáirgfí níos mó nó níos lú den aschur seo ( $Q_1$ ).
- (d) Déan idirdhealú idir *ionchuir toisce* agus *ionchuir idirmheánacha*. Tabhair sampla **amháin** de gach ceann acu.

[50 marc]

4. Anseo thíos tá na cuntais feirme atá ag feirm déiríochta in Éirinn:

		€
Díolacháin lúide ceannacháin de	Bainne	95,000
	Beostoic	38,000
	Barra	2,500
Costais Athraitheacha		37,000
Tomhaltas teaghlaigh dá tháirgeacht féin		7,500
Athrú ar fhardail		-6,000
Costais sheasta	(i) Dímheas	4,500
	(ii) Costais sheasta eile	27,500



- (a) Ríomh, agus gach áireamh á thaispeáint agat:
- (i) Aschur (táirgeacht) na Feirme
  - (ii) Ollchorrlach na Feirme
  - (iii) An t-ioncam ó fheirm an teaghlaigh.
- (b) (i) Luaigh **dhá** shampla de “Costais sheasta eile”.
- (ii) Luaigh **dhá** shampla de chostais athraitheacha de réir mar a bhaineann siad le cúrsaí talmhaíochta.

[50 marc]

5. “Ní foláir don fheirmeoir caidreamh dearfach a bheith aige le banc.”

- (a) (i) Tabhair breac-chuntas ar an bhfáth nach mór d’fheirmeoir caidreamh maith a bheith aige/aici leis an mbanc.
- (ii) Tabhair breac-chuntas ar **dhá** shlí a bhféadfadh feirmeoir feabhas a chur ar an gcaidreamh atá aige/aici leis an mbanc.
- (b) (i) Tabhair breac-chuntas ar **dhá** chúis a mbeadh creidmheasa ag teastáil ó fheirmeoir sa ghearrthéarma.
- (ii) Mínigh conas a oibríonn rótharraingt bhainc.
- (c) D’ainneoin pleanáil chúramach a bheith déanta aige, tá deacracht ag feirmeoir freastal ar na sceidil chomhaontaithe íocaíochta don iasacht €100,000 a fuair sé chun innealra feirmeoireachta a cheannach.
- (i) Tabhair breac-chuntas ar **dhá** rogha a d’fhéadfadh a bheith ag an bhfeirmeoir.
- (ii) Mínigh na deacrachtaí a chruthódh gach rogha díobh don fheirmeoir.

[50 marc]

6. (a) Tabhair breac-chuntas ar **dhá** chuspóir atá le Comhbheartas Talmhaíochta (CT) an AE a tháinig i bhfeidhm sa bhliain 1962.
- (b) Níor mhór an CT a athchóiriú chun dul i ngleic le dúshláin eacnamaíocha agus le dúshláin chomhshaoil an lae inniu. Tabhair breac-chuntas ar dhúshlán eacnamaíoch **amháin** agus ar dhúshlán comhshaoil **amháin** atá roimh an CT faoi láthair.
- (c) Tá ballstáit nua tagtha isteach san Aontas Eorpach le blianta beaga anuas. Déan plé ar na slite a bhfuil tionchar aige sin ar thalmhaíocht na hÉireann.

[50 marc]

*Ná dearmad an ceistpháipéar seo a thabhairt ar ais leis an/na (bh)freagarleabha(i)ra úsáideadh chun na ceisteanna i gCuid II a fhreagairt.*

Leathanach Bán