



Coimisiún na Scrúduithe Stáit
State Examinations Commission

AN ARDTEISTIMÉIREACTH 2010

**AISTRIÚCHÁN
AR SCÉIM MHARCÁLA**

EACNAMAÍOCHT TALMHAÍOCHTA

GNÁTHLEIBHÉAL

SCRÚDÚ NA hARDTEISTIMÉIREACHTA 2010

EACNAMAÍOCHT TALMHAÍOCHTA

GNÁTHLEIBHÉAL

NÓTAÍ TACAÍOCHTA

Scéim Mharcála agus Nótaí Tacaíochta le húsáid leis an Scéim Mharcála

Agus an scéim mharcála á meas ba chóir na pointí a leanas a thabhairt ar aird:

- Níl na nótaí tacaíochta seo uileghabhálach nó cinntitheach.
- I gcuid mhaith cásanna d'fhéadfadh go mbeadh eochairfhrásaí, a chaithfidh a bheith i bhfreagra an iarrthóra le go dtuillfidh sé na marcanna sannta, sna nótaí tacaíochta.
- Déantar pointí iomchuí breise a chuireann iarrthóirí i láthair a mharcáil agus a chúiteamh de réir fiúntais.
- Cinntítear an mionsonrú a theastaíonn i bhfreagra ar bith tríd an gcomhthéacs agus tríd an mbealach ina gcuirtear an cheist, agus trí líon na marcanna a shanntar don fhreagra ar an bpáipéar scrúdaithe. Is féidir, mar sin, go n-athróidh riachtanais ó bhliain go bliain.

CUID I (120 Marc)

20 CEIST - 15 CEIST LE FREAGAIRT.

TÁ MARCANNÁ COTHROMA AG GABHÁIL LE GACH CEIST (8 MARC)

Scéim Mharcála Imlíne

1.	4 @ 2 marc an ceann	11.	8 marc
2.	8 marc	12.	2 @ 4 marc an ceann
3.	8 marc	13.	8 marc
4.	2 @ 4 marc an ceann	14.	8 marc
5.	2 @ 4 marc an ceann	15.	8 marc
6.	2 @ 4 marc an ceann	16.	8 marc
7.	8 marc	17.	8 marc
8.	8 marc	18.	8 marc
9.	8 marc	19.	8 marc
10.	8 marc (3 m + 2 m + 3 m)	20.	8 marc

CUID II (200 Marc)

6 CEIST - 4 CEIST LE FREAGAIRT AR 50 MARC AN CEANN.

- | | | | |
|-----------|------------|---|----|
| 1. | (a) | Míniú ar chéimeanna sa slabhra bia 20 marc (6 m + 7 m + 7m) | 20 |
| | (b) | An slabhra bia a chosaint – Dhá mhíniú @ 5 marc an ceann | 10 |
| | (c) | Impleachtaí do Thalmhaíocht na hÉireann 20 marc (10 m + 10 m) | 20 |

[50 marc]

- | | | | | | |
|-----------|------------|-------------|--------------|---------------------------|----|
| 2. | (a) | (i) | Ríomhanna | 20 marc (7 m + 7 m + 6 m) | |
| | | (ii) | Ollchorrlach | 10 marc | 30 |
| | (b) | (i) | Míniú | 5 marc | |
| | | | Sampla | 5 marc | |
| | | (ii) | Míniú | 5 marc | |
| | | | Sampla | 5 marc | 20 |

[50 marc]

- | | | | | |
|-----------|------------|--|---------------------------|----|
| 3. | (a) | Ríomh an Ghlanfhiúchais | 10 marc (4 m + 3 m + 3 m) | 10 |
| | (b) | Ríomh an Chóimheasa Leachtachta | 10 marc (4 m + 3 m + 3 m) | |
| | | Comhairle | 10 marc (2 @ 5 m) | 20 |
| | (c) | Dhá rogha @ 10 marc an ceann (5 m + 5 m) | | 20 |

[50 marc]

4. (a)	Dlí an Toraidh Imeallaigh Laghdaithe	10 marc (5 m + 5 m)	10
(b)	Dhá chineál ionchuir @10 marc (5 m + 5 m) an ceann		20
(c)	Léaráid	15 marc grádaithe	
	Tionchar	5 marc	20
			[50 marc]
5. (a)	Meitseáil léaráidí	3 @ 10 marc (4 m + 6 m)	30
(b)	Trí thoisc	20 marc (7 m + 7 m + 6 m)	20
			[50 marc]
6. (a)	Eagraíocht	5 marc	
	Ról	10 marc (2 @ 5 m)	15
(b)	Trí thoisc @ 5 marc an ceann		15
(c)	Tionchar eacnamaíochta	2 @ 10 marc (5 m + 5 m)	20
			[50 marc]

Eacnamaíocht Talmhaíochta – Gnáthleibhéal

Nótaí Tacaíochta

CUID I

1. Seirbhísí, Tionsclaíocht/Déantúsaíocht, Talmhaíocht (in ord méadaíochta).
2. 51%
3. Sainmhínítear bainistíocht mar an toisc tháirgeachta a eagraíonn na tosca táirgeachta eile chun earraí agus seirbhísí a tháirgeadh.
4. Prionsabail Chomharchumainn:
 - Ba chóir go mbeadh ballraíocht deonach
 - Daonlathach – vóta amháin an duine
 - Díbhinn theoranta ar scairchaipiteal
 - Dáileadh comhréireach barrachais i measc na mball
 - Oideachas do na baill
 - Comhoibriú idir comharchumainn
5. Luaigh dhá shaintréith talmhaíochta atá codarsnach leis an margáíocht.
 - Líon mór aonad atá sách beag
 - Scaipeadh geografach na feirmeoireachta
 - Athrú ar sholáthar táirgí talmhaíochta
 - Nádúr somheata agus toirtiúil táirgí talmhaíochta
 - Rósholáthar táirgí talmhaíochta ar mhargaí idirnáisiúnta
6. Luaigh dhá cheann de na trí thréimhse tháirgeachta in anailís an tsoláthair.
 - Tréimhse mhargaidh
 - Tréimhse ghearrthréimhseach (intáirgeadh)
 - Tréimhse fhadtréimhseach (idirtháirgíochta)
7. Mínigh cad is brí le hÁrachas Tríú Páirtí:

Clúdach dliteanais a cheannaíonn áracháí (an chéad pháirtí) ó árachóir (an dara páirtí) mar chosaint in aghaidh éilimh ó pháirtí eile (an tríú páirtí). Tá an chéad pháirtí freagrach as a dhamáistí nó a chailteanais féin cibé an é féin nó an tríú páirtí ba chúis leis.
8. Ainmnigh an t-innéacs a úsáidtear chun an boilsciú a thomhas i ngeilleagar na hÉireann:

Innéacs Praghsanna do Thomhaltóirí
9. Bréagach
10. (i) feirmeoirí inmharthana
(ii) feirmeoirí a d'fhéadfadh a bheith inmharthana
(iii) feirmeoirí neamh-inmharthana

11. Mínigh an téarma Fás Geilleagrach:

Is féidir fás geilleagrach a shainmhíniú mar an t-ardú leanúnach ar thoirt aschuir earraí agus seirbhísí eacnamaíochta náisiúin. Déantar fás geilleagrach a thomhas trí athruithe ar OTI/OTN (GDP/GNP) i gcaitheamh na haimsire.

12. Luaigh dhá mhíbhuntáiste do tháirgeoirí na Éireann a bhaineann le hallmhairí:

- Rogha níos mó ann do thomhaltóirí, mar sin éileamh laghdaithe ar tháirge a tháirgítear intíre;
- Iomaíochas méadaithe, praghsanna níos ísle, ioncaim níos ísle;
- Aschur bia agus fostaíocht laghdaithe.

13. Luaigh slí amháin ar féidir iasacht ó bhanc a bheith urraithe.

Comhthaobhacht; Ráthóir; Coigilteas.

14. Cúis amháin a bhféachtar ar fheirmeoirí mar phraghas-ghlacadóirí:

Feidhmíonn siad i margadh lániomaíoch/líon mór ceannaitheoirí agus díoltóirí/táirgeann táirgí aonchineálacha/ tá an cuar éilimh lánleaisteach.

15. Slí amháin chun an dímheas a ríomh:

Dímheas Iarmhéid Laghdaithe / Dímheas de réir Méid Chothroim

16. Tá Treoir ón AE ina ceangal chomh fada agus a bhaineann leis na torthaí a chaithfear a bhaint amach amháin agus rogha á thabhairt laistigh de theorainneacha forordaithe faoi na modhanna a mbaineann na ballstáit úsáid astu.

17. I gcomthéacs an CBT (CAP), ba é an modh tacaíochta praghsanna an phríomhghné i ráthú ioncaim d'fheirmeoirí. Bhí na híocaíochtaí díreacha a fuair feirmeoirí nasctha lena leibhéal táirgeachta. Dá mhéid a tháirg an feirmeoir ba mhó an t-aistriú ó bhuiséad an AE. Tugadh díchúpláil isteach i 2003 agus is éard is brí leis ná an nasc idir an íocaíocht dhíreach don fheirmeoir agus an leibhéal táirgeachta a bhriseadh.

18. Deirtear go bhfuil an t-éileamh ar earra “praghasleaisteach” **má tá an t-athrú céatadánach ó thaobh cainníochta a éilítear níos mó ná an t-athrú céatadánach ó thaobh praghais** (i ndearbhtéarmaí)

NÓ

Tá praghasleaisteachas an éilimh idir 1 agus ∞ (i ndearbhtéarmaí)
Bíonn an-aird ag éileamh ar athrú sa phraghas.

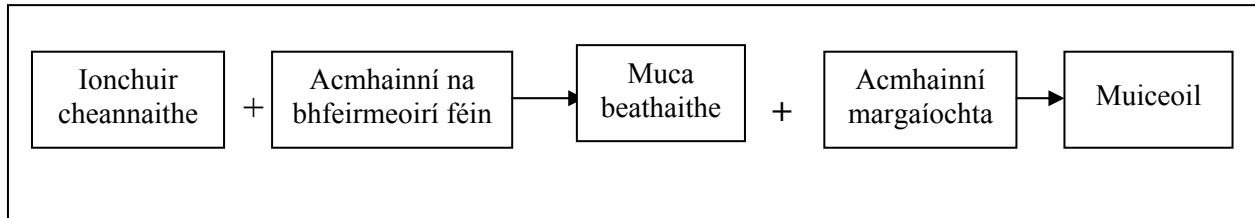
19. Is é **Dímheas** an difríocht idir Glanfhoirmiú Caipitil agus Ollfhoirmiú Caipitil

20. Is féidir beartas talmhaíochta a shainmhíniú mar ‘aon ghníomhaíocht eacnamaíochta de chuid an Rialtais nó Chomhairle Airí an AE atá dírithe ar chuspóirí áirithe maidir leis an talmhaíocht a bhaint amach.

CUID II

Nótaí Tacaíochta

1. (a) Mínigh **gach** céim sa slabhra bia a chríochnaíonn leis an muiceoil a cheannaíonn an tomhaltóir Éireannach.



De bhreis ar a acmhainní féin, baineann an feirmeoir úsáid freisin as ionchuir cheannaithe nach leis féin, e.g. ceannaíonn sé ábhair thógála chun cóiríocht a thógáil d’ainmhithe – láithreacha beathaithe etc., agus is féidir go gceannódh sé beathú chun cur leis an méid a tháirgeann sé ar a fheirm féin. Is féidir go mbeadh costais tréadlaíochta agus fuinnimh i gceist freisin.

Táirgeann an t-ionchuir cheannaithe seo maraon lena acmhainní féin, talamh, saothar, caipiteal agus bainistíocht, aschur talmhaíochta, muca sa chás seo.

Gluaiseann sé seo ar a sheal tríd an gcóras margaióchta áit ar féidir é a iompar, a stóráil, a phróiseáil, a phacáistiú agus ar deireadh, a dhíol leis an tomhaltóir mar mhuceoil.

- (b) Tabhair breac-chuntas ar na hiarrachtaí a d’fhéadfadh Tionscal na Muc a dhéanamh chun slabhra bia na muiceola a chosaint.
- Cloígh le treoirínte na Roinne Talmhaíochta, Iascaigh agus Bia
 - Sonraigh úsáid ionchuir (údaraithe) (grán, próitéin etc.)
 - Monatóireacht/iniúchadh próiseálaithe agus feirmeoirí
 - Dámh táirgeoirí maithe a léiríonn dea-chleachtas tionscail
 - Eisíonn tionscal na muiceola muiceoil Éireannach phróiseáilte do chuideachtaí táirgíochta bia creidiúnacha amháin
- (c) Cad iad na himpleachtaí a bheadh ann do thalmhaíocht na hÉireann mura ndéanfaí an slabhra bia a chosaint?
- Damáiste do shláinte an duine – muintín i dTalmhaíocht na hÉireann á chailliúint
 - Damáiste don dea-cháil ag Bia Éireannach- “oileán an bhia”
 - Díolacháin in Agraibhia Éireannach á gcailliúint
 - Laghdú ar ioncaim fheirme
 - Costais mhéadaithe monatóireachta/ iniúchta agus iarrachtaí feabhais chun déileáil le slabhra bia fabhtach
 - Postanna á gcailliúint ag daoine a oibríonn san earnáil phróiseála
 - Titim ar líon na bhfeirmeoirí lánaimseartha agus méadú ar líon na bhfeirmeoirí páirtaimseartha
 - Thiocthadh meath ar thraidisiún na táirgeachta talmhaíochta
 - Costais mhéadaithe cur chun cinn.

2. Agus na sonraí seo a leanas as na cuntais airgeadais ag feirm Éireannach san áireamh:

ASCHUR (€)

Táirge	Díolacháin líide Ceannacháin	Athruithe ar na Fardail	Tomhaltas Teaghlaigh	Aschur Iomlán
Eallach	48,000	- 4,000	0	
Barra	5,000	+1,000	200	
Iomlán	53,000	-3,000	200	

(a) Ríomh iad seo a leanas, (agus tú ag taispeáint do chuid oibre go léir):

(i) An t-aschur iomlán do **gach** earnáil táirgí **agus** don fheirm iomlán;

Táirge	Aschur Iomlán
Eallach	44,000
Barra	6,200
Iomlán	50,200

(ii) An tOllchorlach don fheirm iomlán, más ionann na costais athraitheacha agus €20,000.

Freagra: €30,200 (50,200 – 20,000)

(b) Míniú iad seo a leanas, agus sampla á úsáid agat i ngach cás:

(i) Athrú fardail:

Tagraíonn fardail do bhailiú le chéile stoic le díol amach anseo. Tagraíonn athrú fardail d'athrú ar luach an stoic seo.

(ii) Costais athraitheacha:

Is éard is costais athraitheacha ann ná costais a athraíonn leis an leibhéal aschuir.

Sampla: cuireann feirmeoir tuilleadh síolta agus athraíonn costais leasacháin dá réir.

Eile: obair pháirtaimseartha, beathú.

3. Tógadh na figiúirí seo a leanas as an gClár Comhardaithe ag Feirmeoir Curadóireachta ar 31 Nollaig 2009.

Sócmhainní €		Fiachais €	
Sócmhainní Seasta Talamh, Foirgnimh & Innealra	300,000 200,000	Iasachtaí Fadtéarmach le hÍoc d'Fhoirgnimh & d'Innealra	160,000
Sócmhainní Reatha Cothú Síol Sócmhainní Leachtacha	1,000 4,000 35,000	Fiachais Reatha Rótharraingt Bhainc Creidiúnaithe eile	15,000 45,000
		Glanfhiúchas	?
	540,000		540,000

Agus an t-eolas thuas á úsáid agat:

- (a) Ríomh (agus tú ag taispeáint do chuid oibre go léir) Glanfhiúchas na feirme:

$$\text{Glanfhiúchas} = \text{€}540,000 - \text{€}220,000 = \text{€} 320,000.$$

- (b) Ríomh (agus tú ag taispeáint do chuid oibre go léir), Cóimheas Leachtacha na feirme agus bunaithe ar an gcóimheas sin, scríobh síos an chomhairle a thabharfá don fheirmeoir, atá ag smaoinemh ar tharracóir nua a cheannach.

Cóimheas Leachtacha = sócmhainní leachtacha: fiachais reatha

$$= 35,000 : 60,000$$

$$= 0.58: 1$$

Fágann sé seo go bhfuil an fheirm neamhleachtach a bheag nó a mhór. Ní leor na sócmhainní leachtacha is gá leis na fiachais reatha a ghlanadh.

D'fhéadfadh go mbeadh deacracht ag an bhfeirmeoir má lorgaíonn creidiúnaithe gearrthéarmacha íocaíocht. D'fhéadfadh an feirmeoir roinnt sócmhainní a dhíol chun tarracóir nua a cheannach/ tarracóir a thógáil ar léas b'fhéidir.

- (c) Tabhair breac-chuntas ar **dhá** rogha a d'fhéadfadh a bheith ag feirmeoir a mbeadh deacracht aige / aici íocaíochtaí iasachta a dhéanamh.

Sócmhainní a dhíol
Gearradh siar ar chaighdeán maireachtála
Fad a chur leis an tréimhse aisíocaíochtaí.

4. Cuireann cur na dtáirgí iomlána thuas síos ar an ngaol idir an t-*aschur* agus an t-*ionchur* ar Fheirm X. Taispeánann sé go bhfuil “an t-*aschur* ag méadú ach ar ráta laghdaitheach”.

(a) Ainmnigh an dlí eacnamaíochta a dtagraíonn an coincheap thuas, a bhfuil líne faoi, dó.

Dlí an Toraidh Imeallaigh Laghdaithe

(b) Is féidir cur síos ar ionchuir mar *ionchuir toisce* agus *ionchuir idirmheánacha*. Idirhealaigh idir an dá chineál ionchur seo, agus sampla **amháin** á thabhairt agat sa dá chás.

Is éard is Ionchair Toisce ná na tosca ar leis an feirmeoir iad.

Samplaí: Talamh, Obair, Caipiteal, Bainistíocht

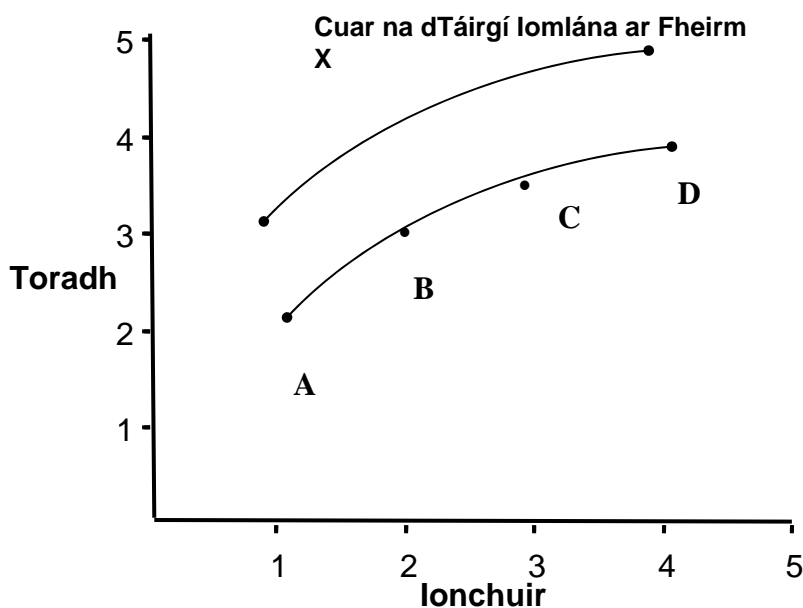
Is éard is Ionchuir idirmheánacha ná táirgí tionscail & cuideachtaí eile

Samplaí: beathú, leasachán.

(c) Mar úinéir ar Fheirm X, cheannaigh an feirmeoir innealra nua-aimseartha don fheirm.

Mínigh, le cabhair léaráide, an tionchar is dócha a bheadh aige sin ar Chuar na dTáirgí Iomlána ar Fheirm X.

Léaráid – bog an cuar táirge iomlán aníos

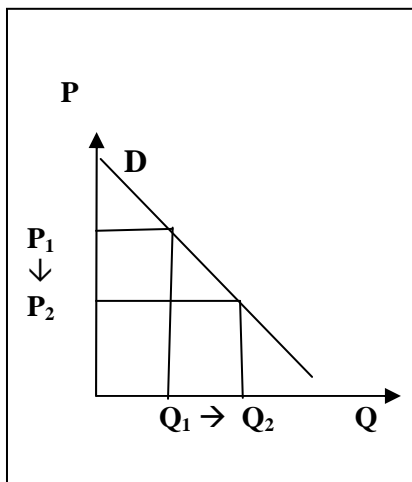


Cuar nua na dtáirgí iomlána agus é san áit cheart, ar chlé ón gcuar láithreach.

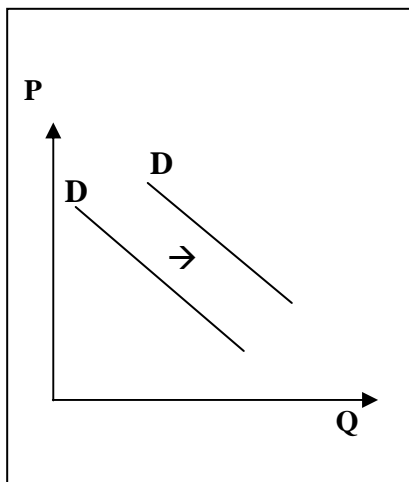
Míniú: ceadaíonn ard-innealra nua breis táirgeachta do gach leibhéal den ionchur aistritheach.

5. Sna trí léaráid thíos, léirítear athruithe ar an éileamh ar mhairteoil sa mhargadh.

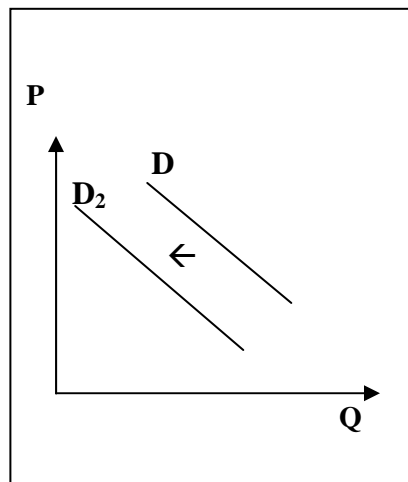
Léaráid 1



Léaráid 2



Léaráid 3



Léirítear **trí** cinn de na forbairtí seo a leanas sna léaráidí thuas:

- (a) Meaitseáil **gach** léaráid leis an bhforbairt chuí ón liosta thuas. I **ngach** cás mínigh cén fáth a ngníomhaíonn an t-éileamh mar a léirítear é sa léaráid.

Léaráid 1 - (iii), Gluaiseacht ar an gcuar éilimh ó P1 go P2.

Léaráid 2 - (i) Éilítear níos mó ag gach leibhéal praghsanna agus cur chun cinn méadaithe mairteola ann.

Léaráid 3 - (iv) Éilítear níos lú ag gach leibhéal praghsanna mar nuair a thiteann ioncaim titeann an t-éileamh ar mhairteoil.

- (b) Is í Éire an cúigiú honnmhaireoir mairteola is mó ar domhan. Luaigh **trí** thoisce a chabhraigh chun go mbeadh rath ar an tionscal.

- Caighdeán na mairteola
- Cuireann séasúr fada fás féir le blas & cáilíochtaí sláinte
- Monatóireacht ar shláinte & ar ghluaiseacht eallaí
- Cinntíonn modhanna nua-aimseartha táirgthe comhsheasmhacht.

6. Thit ioncaim feirme in 2009 agus ceapann cuid de na heagraíochtaí feirmeoireachta go dtitfidh siad arís in 2010.

(a) Ainmnigh eagraíocht feirmeoireachta **amháin** agus tabhair breac-chuntas ar a ról.

IFA = Feirmeoirí Aontaithe na hÉireann (Irish Farmers Association)

ICMSA = Cumann Soláthróirí Baine Uachtarlainne na hÉireann

Ról: “Bíonn ról tábhachtach ag eagraíochtaí feirmeoirí i bhfoirmiú beartais maidir lena dtionscal. Molann siad agus déanann measúnú ar bheartais mhalartacha agus bíonn suim ghéar acu i gcur i ngníomh beartais. Tacaíonn siad le cás na bhfeirmeoirí agus iarracht á dhéanamh a scar den rathúnas náisiúnta a mhéadú”

ICSA = Cumann Feirmeoirí Eallach agus Caorach na hÉireann

- Déanann ionadaíocht thar ceann feirmeoirí tráchtála eallach, caorach agus lao
- Tairiscíonn peirspictíochtaí malartacha ar bheartais talmhaíochta agus saincheistanna tuaithe in Éirinn.

Macra na Feirme

- Cuireann oiliúint ar fáil d’fheirmeoirí óga chun slí bheatha a chinntiú agus saol sóisialta a chur ar fáil d’fheirmeoirí óga
- Eagraíocht dheonach a dhéanann ionadaíocht do dhaoine óga idir 17-35
- Forbairt phearsanta na mball

ICOS = Cumann Comhareagrais na hÉireann

- Cuireann seirbhísí ar fáil do chomharchumainn na mball agus tugann ionadaíocht dóibh ar eagraíochtaí náisiúnta agus idirnáisiúnta.
- Comhpháirtí sóisialta.

(b) Tabhair breac-chuntas ar **thrí** thoisce a bhí mar chúis leis an laghdú ar ioncaim feirme.

- Praghsanna feirme laghdaithe,
- Costais mhéadaithe (fuinneamh, ionchuir)
- Cúlú eacnamaíochta
- Níos lú ioncaim infheistíochta
- Droch-aimsir.

(c) Déan plé ar an tionchar eacnamaíochta a d’fhéadfadh a bheith ag ioncaim laghdaithe feirme ar bhailte móra faoin tuath agus ar shráidbhailte na hÉireann.

- Ciallaíonn ioncam indiúscartha laghdaithe go bhfuil níos lú caiteachais ag feirmeoirí d’earraí agus do sheirbhísí i mbailte agus i sráidbhailte faoin tuath.
- Cailliúint ioncaim agus postanna i mbailte agus i sráidbhailte faoin tuath.
- Níos lú infheistíochta á dhéanamh ag feirmeoirí i bhfeirmeacha ag éirí as ioncaim níos ísle, níos lú á chaitheamh dá bharr seo ar cheardaithe áitiúla etc.
- Rochtain níos lú ar chaipiteal.



Coimisiún na Scrúduithe Stáit

Marcanna Breise as ucht freagairt trí Ghaeilge

Léiríonn an tábla thíos an méid marcanna breise ba chóir a bhronnadh ar iarrthóirí a ghnóthaíonn níos mó ná 75% d'iomlán na marcanna.

N.B. Ba chóir marcanna de réir an ghnáthrata a bhronnadh ar iarrthóirí nach ghnóthaíonn níos mó ná 75% d'iomlán na marcanna don scrúdú. Ba chóir freisin an marc bónais sin **a shlánú síos**.

Tábla 320 @ 10%

Bain úsáid as an tábla seo i gcás na n-ábhar a bhfuil 320 marc san iomlán ag gabháil leo agus inarb é 10% gnáthrata an bhónais.

Bain úsáid as an ghnáthrata i gcás 240 marc agus faoina bhun sin. Os cionn an mharc sin, féach an tábla thíos.

Bunmharc	Marc Bónais
241 - 243	23
244 - 246	22
247 - 250	21
251 - 253	20
254 - 256	19
257 - 260	18
261 - 263	17
264 - 266	16
267 - 270	15
271 - 273	14
274 - 276	13
277 - 280	12

Bunmharc	Marc Bónais
281 - 283	11
284 - 286	10
287 - 290	9
291 - 293	8
294 - 296	7
297 - 300	6
301 - 303	5
304 - 306	4
307 - 310	3
311 - 313	2
314 - 316	1
317 - 320	0