

RABHADH

Caithfear an Ceistpháipéar seo a chur ar ais le do fhreagarleabha(i)r ag deireadh an scrúdaithe,
nó caillfear marcanna

Scríobh do Scrúduimhir anseo ⇒

**Coimisiún na Scrúduithe Stáit**

SCRÚDÚ NA hARDTEISTIMÉIREACHTA, 2010

DÉ CÉADAOIN 23 MEITHEAMH, MAIDIN 9.30 – 12.00

EACNAMAÍOCHT TALMHAÍOCHTA – GNÁTHLEIBHÉAL
(320 marc)

Freagair **cúig cheist déag** as Cuid I agus **ceithre** cheist as Cuid II. Níor cheart duit níos mó ná uair an chloig a chaitheamh le Cuid I.

CUID I (120 marc)

Freagair **cúig cheist déag**.

Scríobh na freagraí sna spásanna cuí.

Tá na ceisteanna ar fad ar aon mharc.

CUID II (200 marc)

Freagair **ceithre** cheist.

Scríobh na freagraí i do fhreagarleabha(i)r.

Tá na ceisteanna ar fad ar aon mharc (50 marc).

Ná scríobh freagraí Chuid II ar an gceistpháipéar seo.

**NÁ DEARMAD AN CEISTPHÁIPÉAR SEO A THABHAIRT AR AIS
LEIS AN/NA (bh)FREAGARLEABHA(I)R A ÚSÁIDEADH CHUN NA CEISTEANNA
I gCUID II A FHREAGAIRT.**


CUID I (120 marc)

Freagair **cúig cheist déag**.

Scríobh na freagraí sna spásanna cuí.

Tá na ceisteanna ar fad ar aon mharc.

1. Agus tú ag tagairt don phíchairt thíos, sainaithearnálacha an gheilleagair náisiúnta, de réir a méid choibhneasta:



Earnáil A: _____
Earnáil B: _____
Earnáil C: _____

2. Is é an céatadán measta de shealbhóirí feirmeacha teaghlaigh na hÉireann atá os cionn 55 bliain d'aois ná: (Cuir tic (✓) sa bhosca cuí)

5% 25% 51%

3. Sainmhínítear bainistíocht mar an toisc tháirgeachta sin a _____

4. Luaigh **dhá** phrionsabal a bhaineann le Comharchumann:

(i) _____

(ii) _____

5. Luaigh **dhá** shaintréith talmhaíochta atá codarsnach leis an margaíocht:

(i) _____

(ii) _____

6. Luaigh **dhá** cheann de na trí thréimhse tháirgeachta in anailís an tsoláthair:

(i) _____

(ii) _____

7. Mínigh cad is brí le *hÁrachas Tríú Páirtí*: _____

8. Ainmnigh an t-innéacs a úsáidtear chun an boillsciú a thomhas i ngeilleagar na hÉireann:

9. Taispeáin le tic (✓) cé acu atá an ráiteas seo a leanas fíor nó bréagach de réir Dhlí Engel.
“Go comhréireach, caitheann grúpaí ardioncain níos mó dá gcuid ioncain iomláin ar bhia ná grúpaí ísealioncain.”

Fíor

Bréagach

10. Comhlánaigh an tábla thíos:

<i>Cur síos ar fheirmeoir</i>	<i>Cineál feirmeora</i>
(i) Feirmeoir atá oiriúnaitheach agus a choimeádann céim ar chéim le tosca eacnamaíocha agus teicniúla atá ag athrú.	
(ii) Feirmeoir a d'fhéadfadh, le roinnt cúnaimh, staid inmharthana a bhaint amach.	
(iii) Feirmeoir nach bhfuil an cumas ann / inti ná na hacmhainní aige / aici chun feirm a choimeád suas chun dáta.	

11. Mínigh an téarma ‘Fás Geilleagrach’: _____

12. Luaigh **dhá** mhíbhuntáiste do tháirgeoirí na Éireann a bhaineann le hallmhairí:

(i) _____

(ii) _____

13. Luaigh slí **amháin** ar féidir iasacht ó bhanc a bheith urraithe: _____

14. Luaigh cúis **amháin** a bhféachtar ar fheirmeoirí mar *phraghas-ghlacadóirí*: _____

15. Slí **amháin** chun an dímheas a ríomh ná _____

16. Is é atá i *dTreoir ón AE* ná _____

17. Mínigh an téarma *díchúpláil* i gcomhthéacs leasú an CBT (CAP i *mBéarla*): _____

18. Deirtear go bhfuil “praghasleasteachas” san éileamh ar earra má _____

19. Is ionann Glanfhoirmiú Caipitil agus Ollfhoirmiú Caipitil lúide _____.

20. Sainmhínigh an téarma *beartas talmhaíochta* _____

Ná dearmad an ceistpháipéar seo a thabhairt ar ais leis an/na (bh)freagarleabha(i)r a úsáideadh chun na ceistanna i gCuid II a fhreagairt.

CUID II (200 marc)

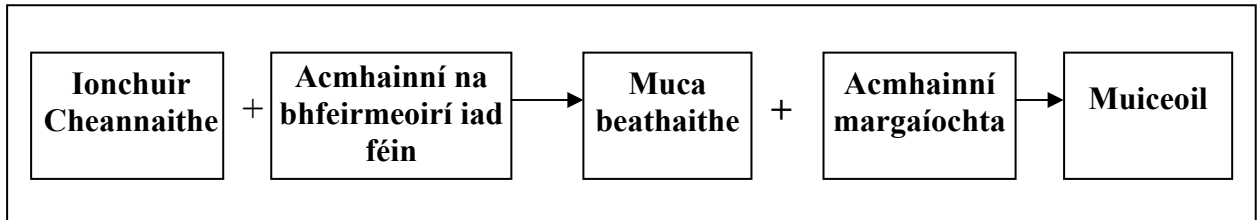
Freagair **ceithre** cheist.

Scríobh na freagraí i do fhreagarleabha(i)r.

Tá na ceisteanna ar fad ar aon mharc (50 marc).

Ná scríobh freagraí Chuid II ar an gceistpháipéar seo.

1. (a) Mínigh **gach** céim sa slabhra bia a chríochnaíonn leis an muiceoil a cheannaíonn an tomhaltóir Éireannach.



- (b) Tabhair breac-chuntas ar na hiarrachtaí a d'fhéadfadh Tionscal na Muc a dhéanamh chun slabhra bia na muiceola a chosaint.
- (c) Cad iad na himpleachtaí a bheadh ann do thalmhaíocht na hÉireann mura ndéanfaí an slabhra bia a chosaint?

[50 marc]

2. Tugtar na sonraí seo a leanas as na cuntais airgeadais ag feirm Éireannach:

ASCHUR (€)

Táirge	Díolacháin lúide Ceannacháin	Athruithe ar na Fardail	Tomhaltas Teaghlaigh	Aschur Iomlán
Eallach	48,000	- 4,000	0	
Barra	5,000	+1,000	200	
Iomlán	53,000	-3,000	200	

- (a) Ríomh iad seo a leanas, agus tú ag taispeáint do chuid oibre go léir:
- An t-aschur iomlán do **gach** earnáil táirgí **agus** don fheirm iomlán;
 - An tOllchorlach don fheirm iomlán, más ionann na costais athraitheacha agus €20,000.
- (b) Mínigh iad seo a leanas, agus sampla á úsáid agat i ngach cás:
- Athrú fardail;
 - Costais athraitheacha.

[50 marc]

3. Tógadh na figiúirí seo a leanas as an gClár Comhardaithe ag Feirmeoir Curadóireachta ar 31 Nollaig 2009.

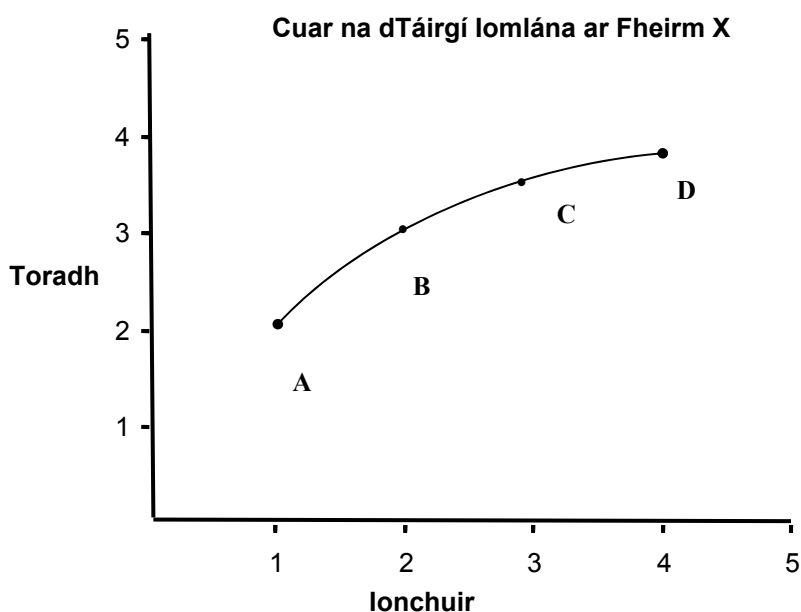
Sócmhainní €		Fiachais €	
Sócmhainní Seasta		Fadtéarmach	
Talamh,	300,000	Iasachtaí le hóc	
Foirgnimh &		d’Fhoirgnimh &	
Innealra	200,000	d’Innealra	160,000
Sócmhainní Reatha		Fiachais Reatha	
Cothú	1,000	Rótharraingt Bhainc	15,000
Síol	4,000	Creidiúnaithe eile	45,000
Sócmhainní Leachtacha	35,000		
		Glanfhiúchas	?
	540,000		540,000

Agus an t-eolas thuas á úsáid agat:

- Ríomh (agus tú ag taispeáint do chuid oibre go léir) Glanfhiúchas na feirme.
- Ríomh (agus tú ag taispeáint do chuid oibre go léir), Cóimheas Leachtachta na feirme **agus**, bunaithe ar an gcóimheas sin, scríobh síos an chomhairle a thabharfá don fheirmeoir, atá ag smaoineamh ar tharracóir nua a cheannach.
- Tabhair breac-chuntas ar **dhá** rogha a d’fhéadfadh a bheith ag feirmeoir a mbeadh deacracht aige / aici íocaíochtaí iasachta a dhéanamh.

[50 marc]

4.

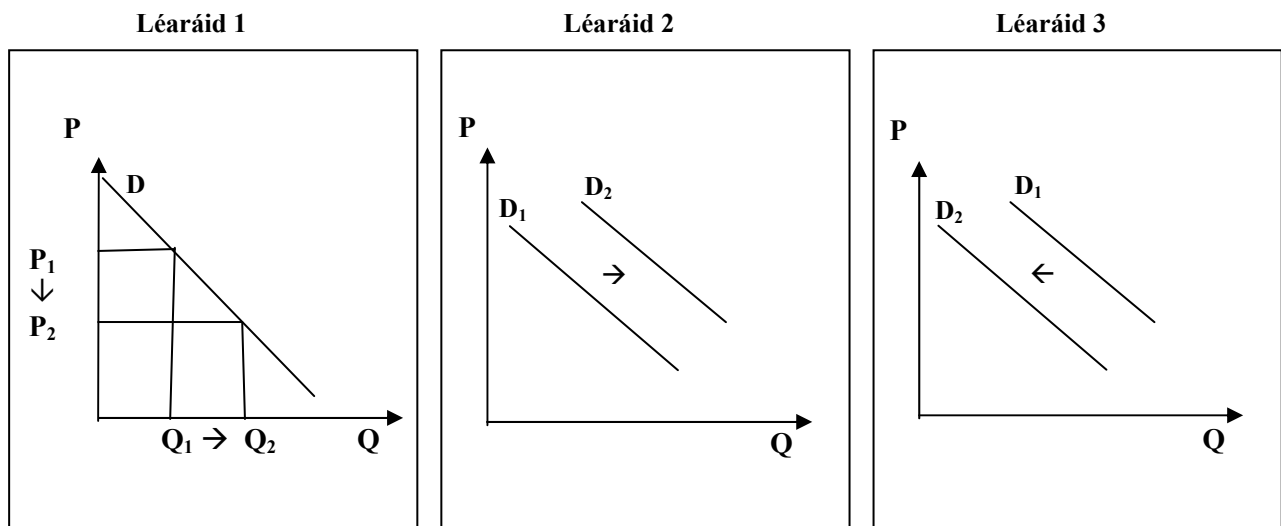


Cuireann cuar na dtáirgí iomlána thuas síos ar an ngaol idir an t-aschur agus an t-ionchur ar Fheirm X. Taispeánann sé go bhfuil “an t-aschur ag méadú ach ar ráta laghdaitheach”.

- Ainmnigh an dlí eacnamaíochta a dtagraíonn an coincheap thuas, a bhfuil líne faoi, dó.
- Is féidir cur síos ar ionchuir mar *ionchuir toisce* agus *ionchuir idirmheánacha*. Idirthealaigh idir an dá chineál ionchur seo, agus sampla **amháin** á thabhairt agat sa dá chás.
- Mar úinéir ar Fheirm X, cheannaigh an feirmeoir innealra nua-aimseartha don fheirm. Mínigh, le cabhair léaráide, an tionchar is dócha a bheadh aige sin ar Chuar na dtÁirgí Iomlána ar Fheirm X.

[50 marc]

5. Sna trí léaráid thíos, léirítear athruithe ar an éileamh ar mhairteoil sa mhargadh.



Léirítear trí cinn de na forbairtí seo a leanas sna léaráidí thuas:

- (i) feachtas fógraíochta rathúil chun na sochair chothaithe a bhaineann le mairteoil a ithe, a chur chun tosaigh;
- (ii) méadú ar chostais phróiseála na mairteola;
- (iii) laghdú ar phraghas margaidh na mairteola;
- (iv) laghdú ar ioncaim na dtomhaltóirí, agus is earra normálta í an mhairteoil.

(Tabhair faoi deara go bhfuil forbairt amháin ina measc sin nach meaitseálann aon cheann de na léaráidí.)

- (a) Meaitseáil **gach** léaráid leis an bhforbairt chuí ón liosta thuas. I **ngach** cás mínigh cén fáth a ngníomhaíonn an t-éileamh mar a léirítear é sa léaráid.
- (b) Is í Éire an cúigiú honnmhaireoir mairteola is mó ar domhan. Luaigh **trí** thoise a chabhraigh chun go mbeadh rath ar an tionscal.

[50 marc]

6. Thit ioncaim feirme in 2009 agus ceapann cuid de na heagraíochtaí feirmeoireachta go dtitfidh siad arís in 2010.

- (a) Ainmnigh eagraíocht feirmeoireachta **amháin** agus tabhair breac-chuntas ar a ról.
- (b) Tabhair breac-chuntas ar **thrí** thoise a bhí mar chúis leis an laghdú ar ioncaim feirme.
- (c) Déan plé ar an tionchar eacnamaíochta a d'fhéadfadh a bheith ag ioncaim laghdaithe feirme ar bhailte móra faoin tuath agus ar shráidbhailte na hÉireann.

[50 marc]

Ná dearmad an ceistpháipéar seo a thabhairt ar ais leis an/na (bh)freagarleabha(i)r a úsáideadh chun na ceisteanna i gCuid II a fhreagairt.

Leathanach Bán

Leathanach Bán