



Coimisiún na Scrúduithe Stáit

State Examinations Commission

An Ardteistiméireacht Fheidhmeach, 2013

Speisialachas Gairmiúil

Staidéar Grafaice agus Tógála

(240 marc)

Dé Máirt, 11 Meitheamh, Maidin, 9:30 - 11:00

Treoracha Ginearálta

1. Scríobh do scrúduimhir sa spás seo:
2. Tá dhá roinn sa pháipéar seo.

Roinn 1 - Freagair an dá cheist. **105 marc**
C1 - Ceisteanna gearrfhreagra
C2 - Cumarsáid Ghrafach

Roinn 2 - Cúig cheist - freagair trí cheist ar bith. **135 marc**
C1 - Tógáil
C2 - Seirbhísí Tógála
C3 - Ceardaíocht Adhmaid
C4 - Dearadh agus Déantús
Bréagán Oideachasúil
C5 - Dearadh Ríomhchuidithe

3. Scríobh do chuid freagraí sna spásanna atá ann dóibh agus bíodh sceitsí san áireamh de réir mar is cuí.

Don Scrúdaithe oir amháin		
1.	Iomlán na n-iomlán bunleathanaigh	
2.	Iomlán na gceisteanna dícheadaíthe ar fad	
3.	Marc iomlán a bronnadh (1 líude 2)	
4.	Bónasmharc don fhreagairt trí Ghaeilge (más cuí)	
5.	Marc iomlán a bronnadh má bhíonn Bónas Gaeilge i gceist (3 + 4)	
Nóta: Ní mór an marc i gcolún 3 (nó colún 5 má bhronntar Bónas Gaeilge) a bheith mar an gcéanna leis an marc iomlán sa bhosca ar an script.		

Don Fheitheoir amháin			
Stampa an Ionaid			
Roinn		Ceist	Marc
1	(An dá ceann)	1	
		2	
2	(3 cheist ar bith)	1	
		2	
		3	
		4	
		5	
Iomlán			

Roinn 1

ÉIGEANTACH CEIST 1

(60 Marc)

1. Freagair DHÁ CHEANN DÉAG ar bith de na CÚIG CINN DÉAG de ghearrcheisteanna a leanas.

(a) Sa léaráid taispeántar feiste atá le fáil i bhformhór na gceardlanna.

Ainmnigh an fheiste seo.

Ainm: _____

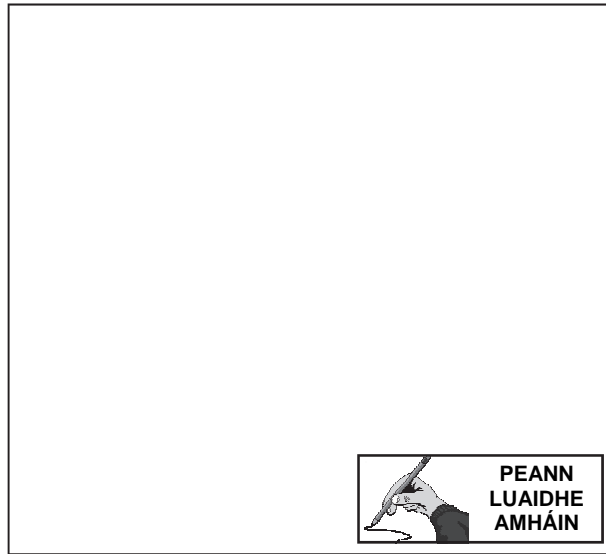
Cén fheidhm atá ag an bpáirt lipéadaithe **A** sa léaráid?

Feidhm: _____



(b) Taispeántar san íomhá thíos aonad seilfre atá gléasta ar bhalla.

Sa spás atá curtha ar fáil, déan sceitse d'alt oiriúnach chun an tseilf a shiúntú don taobh mar a chuireann an ciorcal in iúl.



PEANN
LUAIDHE
AMHÁIN


(c) Is meascán d'ábhair é moirtéal a úsáidtear i dtógáil ballaí.

Ainmnigh an **DÁ** príomhábhar a mheasctar le huisce chun moirtéal a dhéanamh.



Uisce + _____ + _____ = Moirtéal

(d) Sainaitin **CÚIG** chontúirt sábháilteachta sa cheardlann a thaispeántar ar dheis.



1. _____
2. _____
3. _____
4. _____
5. _____

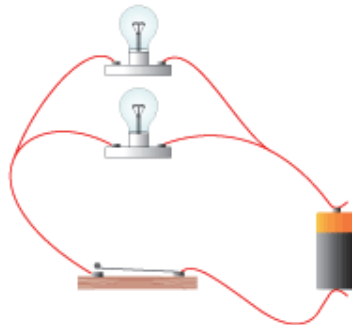
(e) Ainmnigh an píosa trealamh tógála a thaispeántar.

Ainm: _____

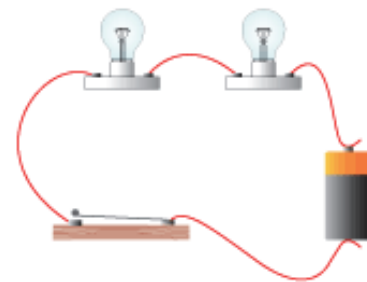
Abair cén úsáid a bhaintear as:



(f) Ainmnigh an **DÁ** chineál ciorcaid leictrigh a thaispeántar ar dheis.



1. _____



2. _____

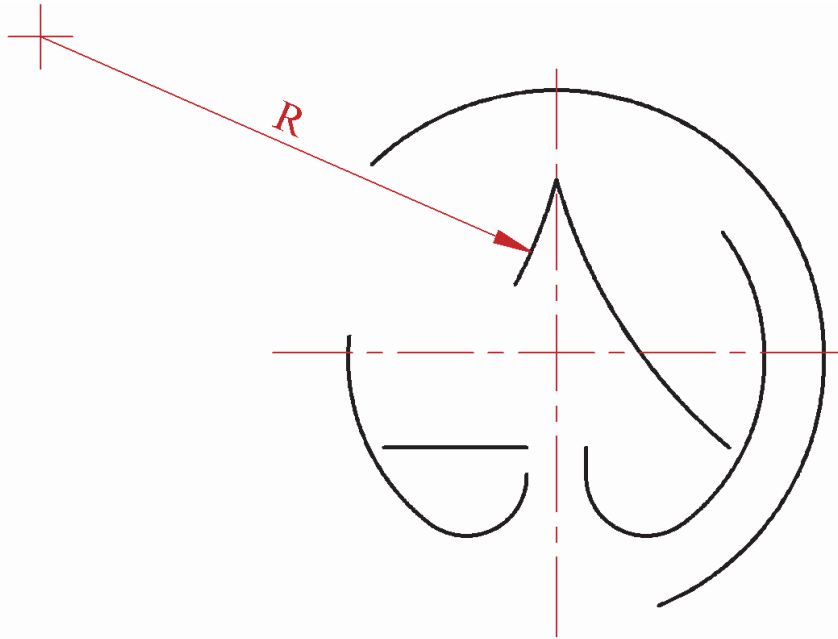
(g) Tá an lógó thíos bunaithe ar línte agus chiorcail.

Críochnaigh an líníocht den lógó ar dheis.

(Ní gá an téacs a thaispeántar faoin lógó a chur isteach.)



SPAR



ÚSÁID
COMPÁS
AGUS PEANN
LUADHE
AMHÁIN

(h) Is minic a tháirgtear plainc d'adhmaid soladach as crainn nuair a leagtar iad.

Liostaigh **TRÍ** tháirge, seachas adhmaid soladach, is féidir a tháirgeadh as crainn.

1. _____

2. _____

3. _____



(i) Nuair a bhíonn tionscadal á dhearadh agus á dhéanamh, bíonn sé tábhachtach fillteán dearaidh a dhéanamh le dul in éineacht leis.

Liostaigh **CEITHRE** cheannteideal ba chóir duit a chur san áireamh i bhfillteán dearaidh dá leithéid:



1.

3.

2.

4.

- (j) Taispeántar teaichín éan ar dheis.
Ainmnigh uirlis adhmaadóireachta amháin a d'fhéadfaí a úsáid chun an cruth éin a ghearradh amach.

Ainm: _____

Sa spás atá curtha ar fáil thíos, déan sceitse den uirlis sin.



- (k) Mínnigh cad is ciall leis an téarma **tairbhe téamh grianteasa**, maidir le dearadh tí in Éirinn.



- (l) Sa léaráid taispeántar cábla leictreach trí chroíleacán.

Sainaithin na **TRÍ** shreang a thaispeántar .


Buí & Uaine: _____

Gorm: _____

Donn: _____

Taispeánann an íomhá ar dheis cló méadaithe de hanla earra leictirigh.

Mínnigh cad is ciall leis an tsiombail atá aibhsithe ag an gciorcal.



- (m) Gearrann cuideachta Soláthair Earraí Tógála 10% ar chostas ordú iomlán na n-earraí mar tháille.

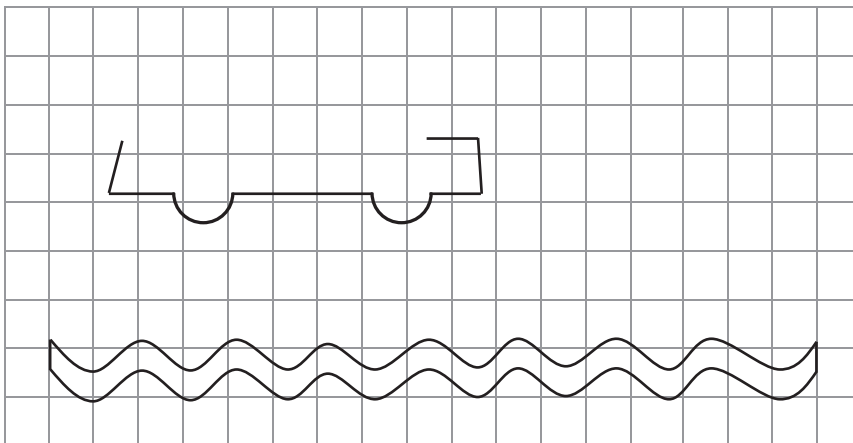
Ordaíonn custaiméir 2 leathán plástarchláir ar chostas €20 an leathán agus 10 mála plástair do chóta scimeála ar chostas €12 an mála.

Ríomh an costas iomlán don chustaiméir ar an ordú thuas, an seachadadh san áireamh



- (n) Taispeánann an íomhá ar dheis comhartha do bhád farantóireachta. Tá líníocht mhéadaithe den chomhartha leathchríochnaithe ar an ngréille thíos.

Críochnaigh an líníocht.



- (o) I dtáirgeadh troscáin cad dó a seasann na litreacha **CAM** (i mBéarla)?

C: _____


A: _____

M: _____

Liostaigh **DHÁ** bhuntáiste a bhaineann leis an saghas sin táirgeachta.

1. _____

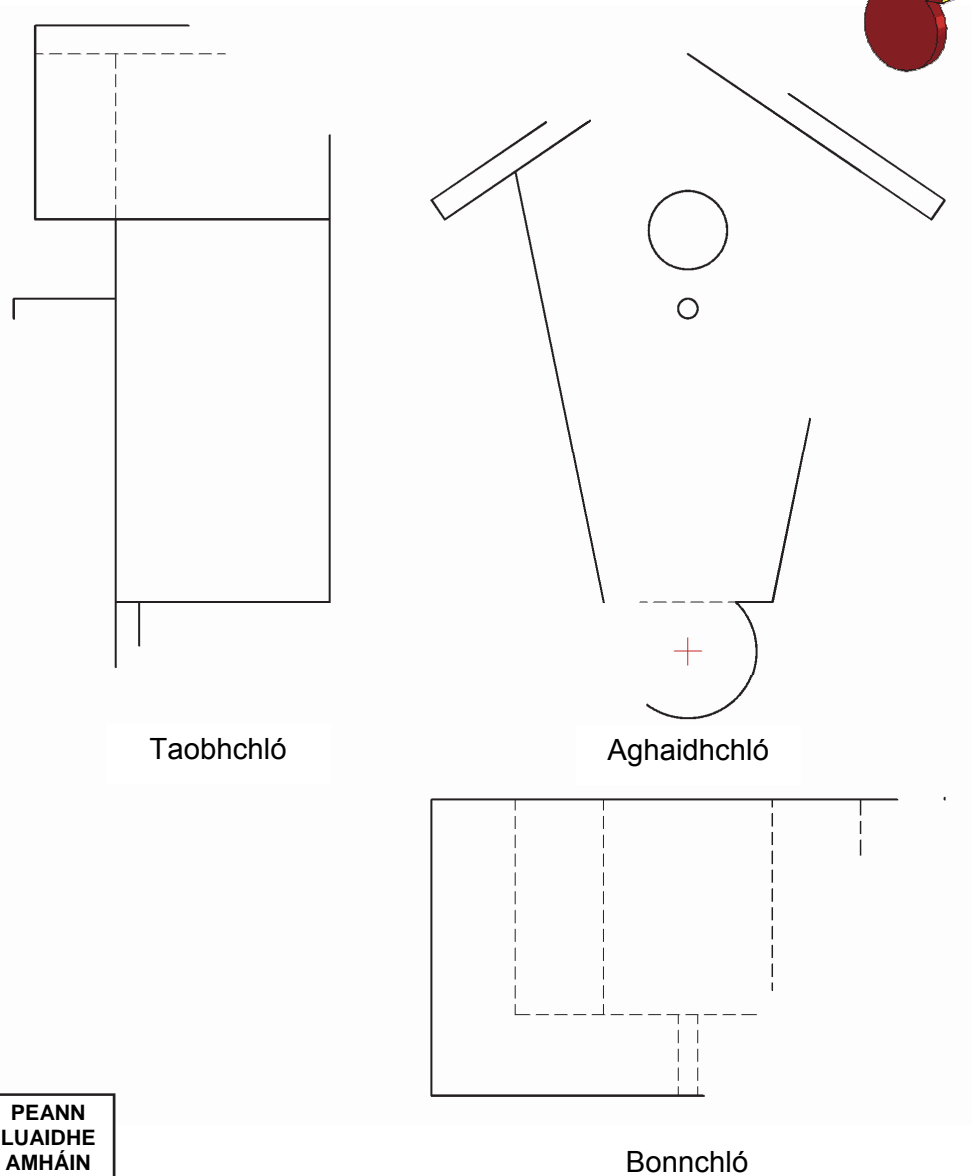

2. _____




2. Cumarsáid Ghrafach

(a) Sa ghrafaic ar dheis taispeántar cló pictiúrtha de Theaichín Éan.

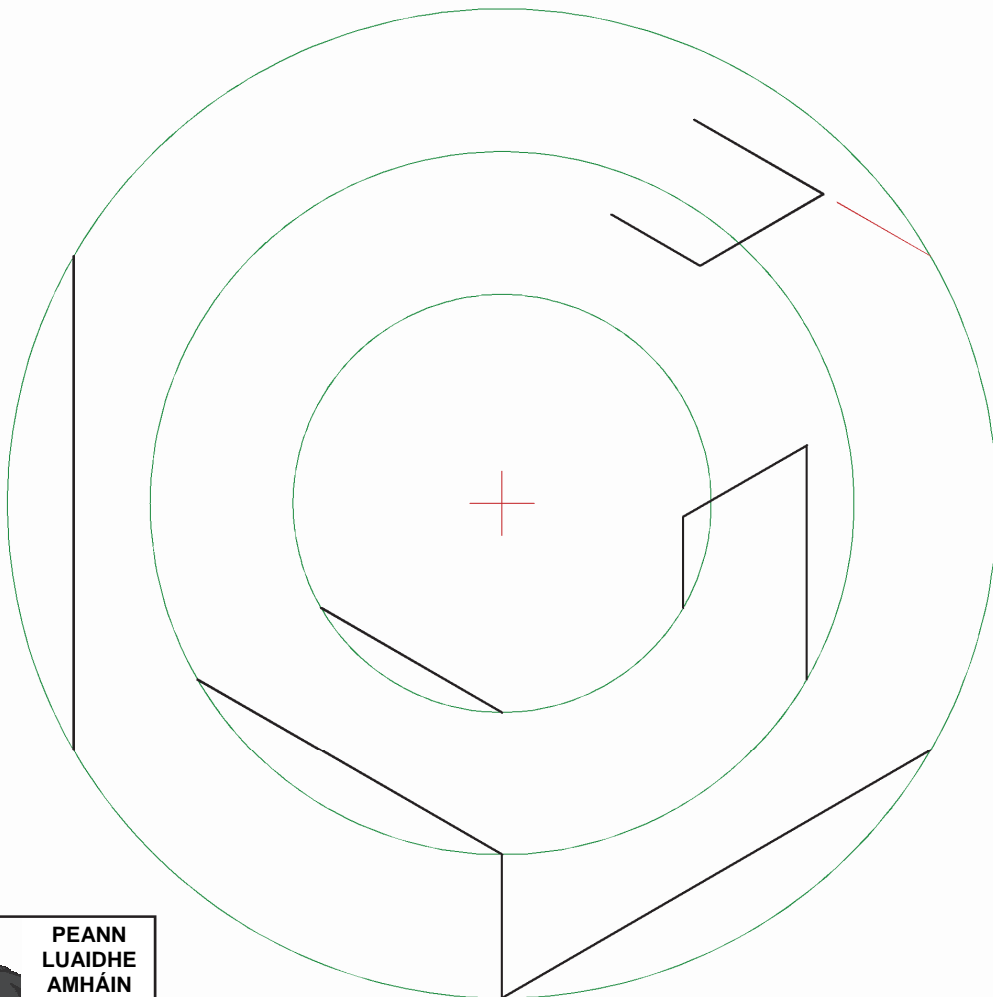
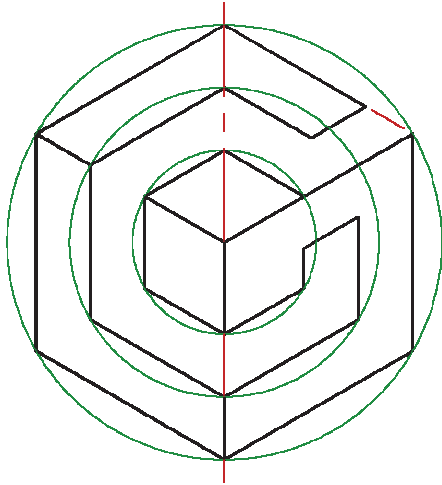
- (1) Críochnaigh Ingearchló, Bonnchló agus Taobhchló an Teaichín Éan ar an líníocht thíos.
(Tá roinnt mionsonraí folaithe fágtha ar lár agus níl gá le mionsonra folaithe ar bith.)
- (2) Cuir dath cuí nó scáthú leis na **Clónna Críochnaithe** chun an líníocht a fheabhsú.



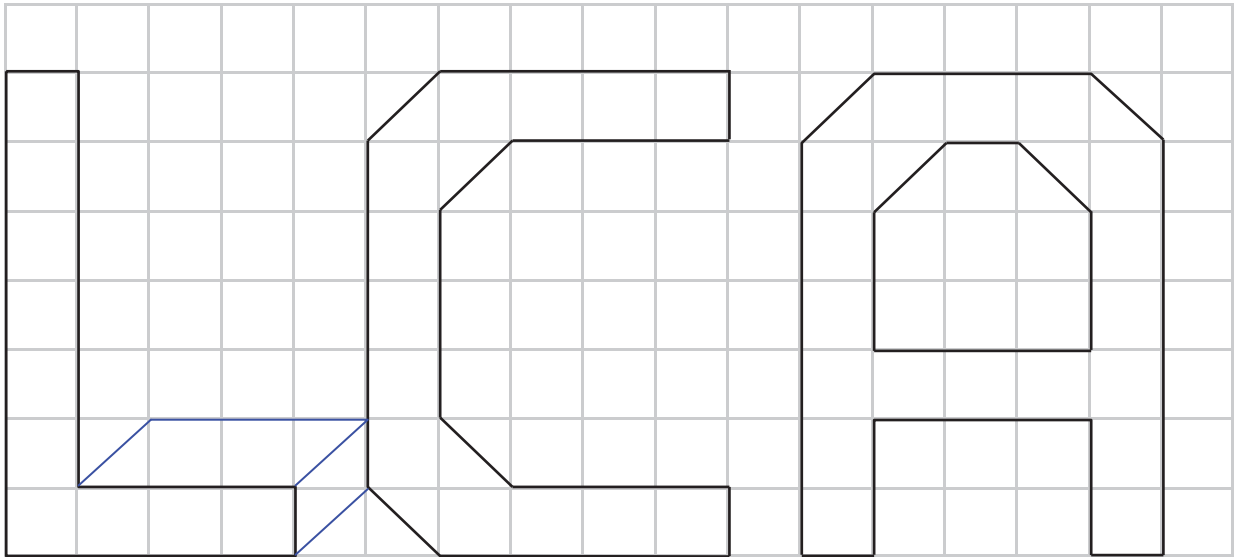
- (b) San íomhá ar dheis taispeántar lógó do chonsól cluichí. Tá an lógó bunaithe ar shraith heicseagán. Léiríonn an líníocht is lú conas a tharraingítear an lógó agus trí chiorcal tógála á n-úsáid. Bain úsáid as an eolas seo chun an leagan is mó den lógó a chríochnú ag bun an leathanaigh.




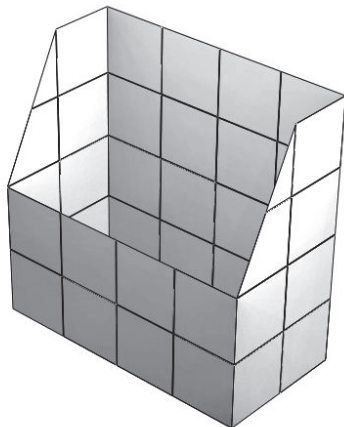
**N I N T E N D O
G A M E C U B E**



- (c) (1) Críochnaigh fiarlíniócht na litreacha **LCA** ar an ngréille thíos. Cuir dath nó scáthú ar an líniócht chun í a fheabhsú.



- (c) (2) Tarraing forbairt an choinneálaí irisí a thaispeántar thíos ar an ngréille atá curtha ar fáil.



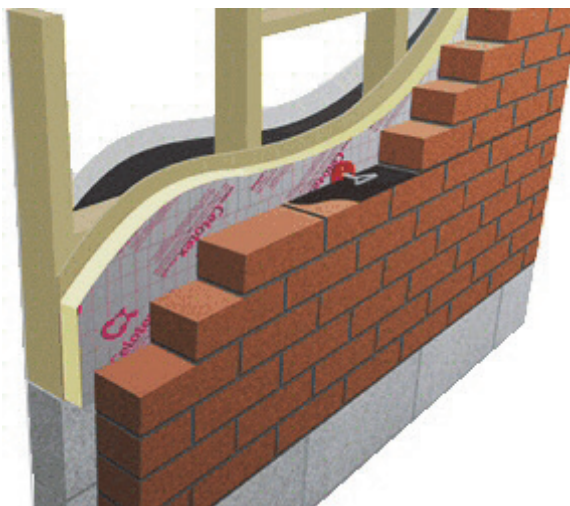
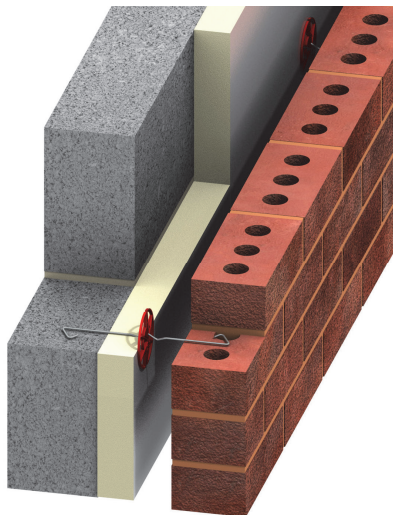
Roinn 2

(135 Marc)

Freagair TRÍ CHEIST AR BITH ón roinn seo.

1. Tógáil

(a) Ainmnigh an **DÁ** cineál tógáil balla a thaispeántar thíos.



1.

2.

Liostaigh buntáiste **AMHÁIN** agus míbhuntáiste **AMHÁIN** a bhaineann le gach cineál tógála.

Buntáiste: _____

Buntáiste: _____

Míbhuntáiste: _____

Míbhuntáiste: _____


(b) (1) Ní mór do dhuine cur isteach ar chead pleanála roimh thógáil. Mínigh go hachomair an chúis go bhfuil gá le rialú pleanála dá leithéid.

Cúis: _____

(2) Mínigh cad is ciall le **Cead Imlíneach** Pleanála agus **Lánchead** Pleanála.

Cead Imlíneach Pleanála: _____

Lánchead Pleanála: _____



- (c) Sa dronuilleog phoncaithe thíos taispeántar ballaí imlíneacha seomra codlata. Is iad tomhais an tseomra codlata ná 3m x 4m.

Déan sceitse, ag scála de 1:20, de leagan amach tipiciúil seomra codlata. Cuir in iúl suíomhanna dóibh seo a leanas: doras, fuinneog, radaitheoir, solas, leaba shingil, taisceadán taobh leaba, vardrús, bord staidéir agus cathaoir.



PEANN
LUAIDHE
AMHÁIN



2. Seirbhísí Tógála

(a) Taispeántar dhá fheiste phluiméireachta thíos.

(1) Luaigh an t-ainm ceart do gach feiste.



Ainm : _____

Ainm: _____

(2) Roghnaigh ceann **AMHÁIN** de na feistí thuas, agus nótaí agus sceitsí á n-úsáid agat, tabhair breac-chuntas ar na céimeanna a bhíonn i gceist chun an fheiste a úsáid chun trí pháipéar a cheangal.

PEANN
LUAIDHE
AMHÁIN

(3) Tá uisce glan riachtanach don bheatha shláintiúil.


Déan cur síos ar conas a dhéantar cóireáil ar uisce chun é a dhéanamh sábháilte le hól.



(b) (1) Mínigh cad is ciall leis an téarma ‘Breoslaí Iontaise’.

Ainmnigh **TRÍ** bhreosla iontaise a úsáidtear chun leictreachas a ghiniúint in Éirinn.

1. _____ 2. _____ 3. _____



(2) Sna léaráidí thíos taispeántar dhá bhealach chun séarachas tí a chóireáil.

Ainmnigh **GACH** bealach agus luaigh buntáiste a bhaineann le **GACH** ceann díobh.



Ainm: _____

Ainm: _____

Buntáiste: _____

Buntáiste: _____

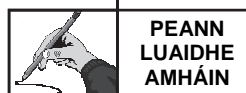
(c) Taispeánann an íomhá theirmeach ar dheis cailliúint teasa as teach.

Sainaithin **DHÁ** ghné i dteach nach mbeadh inslithe go maith trínar féidir teas a chailleadh.

Déan cur síos, agus léaráid lipéadaithe á húsáid agat, ar conas a d’fhéadfaí cailliúint teasa trí gach gné a laghdú.



Gné 1:	Gné 2:



3. Ceardaíocht Adhmaid

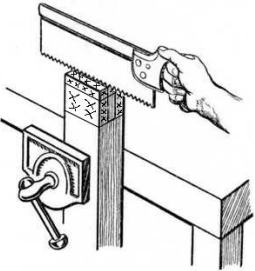
(a) Sa léaráid taispeántar cuid amháin d'alt adhmaadóireachta.

(1) Ainmnigh an chuid sin den alt.

Ainm: _____

(2) Sa bhosca thíos, agus nótaí agus sceitsí á n-úsáid agat, déan cur síos ar na chéad cheithre chéim eile atá i gceist le sábhadh **aghaidh amháin** den chuid sin den alt.



	Sceitse (i bpeann luaidhe)	Cur Síos
1.		<i>Clampáil an t-adhmad go ceartingearach sa bhís. Agus an sábh ar thaobh an fhuíollábhair den líne, sábh go hingearach síos go doimhneacht thart ar 5mm.</i>
2.		_____
3.		_____
4.		_____
5.		_____

(b) Taispeántar sna léaráidí dhá mhír adhmaid lasmuigh.

(1) Ainmnigh leasaitheach de chineál difriúil do gach mír agus an modh feidhmithe a mholfá i ngach cás.

Ainm: _____

Modh: _____

Ainm: _____

Modh: _____



(2) Liostaigh **DHÁ** réamhchúram sábháilteachta ba chóir a chomhlíonadh agus duine ag obair le leasaitheach.

Réamhchúram 1: _____

Réamhchúram 2: _____

(c) Taispeántar uirlis chumhachta iniompartha.

(1) Ainmnigh an uirlis chumhachta.

Ainm: _____



(2) Sa spás atá ar fáil thíos, déan sceitse de phróifíl de ghearrthóir a d'fhéadfaí a úsáid san uirlis chun múnláil ornáideach a fhoirmiú ar chiumhais píosa adhmaid.



4. Dearadh agus Déantús Bréagán Oideachasúil

- (a) (1) Sa léaráid taispeántar bréagán intarraingthe i gcruth máthair lachan agus éiníní lachan.

Mínigh conas a d'aistrefá dearadh na lachan ó pháipéar anuas ar pháosa adhmaid.





- (2) Ainmnigh uirlis oiriúnach chun na cuair a ghearradh amach.

Ainm: _____

- (3) Taispeántar trí éiníní lachan bheaga sa bhréagán intarraingthe.

Agus an bréagán á dhéanamh agat, mínigh conas a chinnteofá go bhfuil cruth gach ceann díobh díreach mar an gcéanna.

- (4) Is leagan méadaithe den éiníní lachan í an mháthair lachan. Agus an ghreille thíos á húsáid agat, déan líníocht mhéadaithe den chuid den lacha mar a thaispeántar.



(b) Is féidir bréagáin a dhéanamh as ábhair dhifriúla mar a thaispeántar. Cuir na bréagáin a thaispeántar thíos i gcomparáid le chéile faoi na ceannteidil a thugtar.

Miotal



Plaisteach



Adhmad



	Tionchar ar an Timpeallacht	Buaine	Costas
Miotal	_____ _____ _____	_____ _____ _____	_____ _____ _____
Plaisteach	_____ _____ _____	_____ _____ _____	_____ _____ _____
Adhmad	_____ _____ _____	_____ _____ _____	_____ _____ _____

(c) Is gné thábhachtach í an tsábháilteacht i ndearadh agus déantús bréagáin leanaí. Liostaigh **TRÍ** ghné shábháilteachta ba chóir a chur san áireamh nuair a bhíonn bréagán do leanbh faoi 3 bliana d'aois á dhearadh agus á dhéanamh.

1. _____

2. _____

3. _____



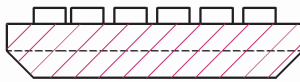
5. Dearadh Ríomhchuidithe

- (a) (1) Ainmnigh pacáiste CAD a d'úsáid tú agus tú ag déanamh staidéir ar Staidéar Grafaice agus Tógála.

Pacáiste: _____

- (2) Taispeántar sa ghrafaic ar dheis mion-mhéarchlár lena úsáid le Ríomhaire Táibléid nua-aimseartha. Taispeánann an líníocht thíos teilgín méarchláir dá leithéid.

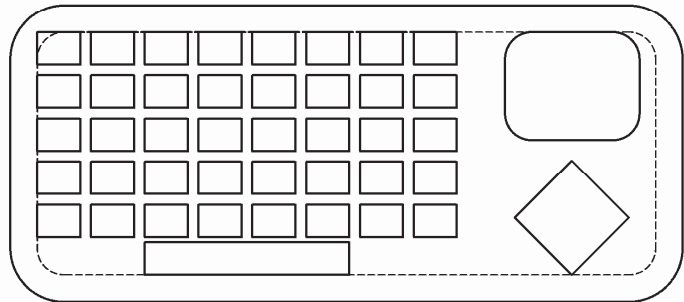
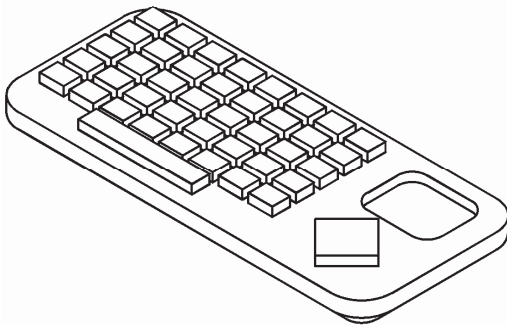
Liostaigh **CÚIG** ordú/uirlis/ghné CAD a d'fhéadfaí a úsáid chun na líníochtaí thíos a tháirgeadh agus mínigh go hachomair cad a dhéanann gach ordú/uirlis/gné.



GEARRADH A-A



AGHAIDHCHLÓ



BONNCHLÓ

Ordú/Uirlis/Gné	Cad a dhéanann sé/sí
1	_____
2	_____
3	_____
4	_____
5	_____

(b) (1) Liostaigh **DHÁ** ghairm a bhfuil baint acu le Dearadh Ríomhchuidithe agus déan cur síos ar gach jab.



	Gairm	Cur Síos ar an Jab
1	_____	_____
	_____	_____
	_____	_____
2	_____	_____
	_____	_____
	_____	_____

(2) Tá cúrsaí Sláinte agus Sábháilteachta an-tábhachtach do dhaoine atá ag obair i dtionscal na ríomhaireachta. Is neamhord sláinte é Gortú Athstraidhneála a bhféadfadh úsáid ríomhaire ar feadh tréimhsí fada a bheith ina cúis leis.

Sainaithin **DHÁ** neamhord sláinte eile a bhfuil baint acu le húsáid ríomhaire ar feadh tréimhsí fada agus abair conas is féidir iad a sheachaint.

Neamhord 1: _____

Seachain trí: _____


Neamhord 2: _____

Seachain trí: _____



(c) Tá sé tábhachtach cóip chúltaca a dhéanamh do chomhaid CAD chun nach gcaillfí sonraí i gcás go dtarlódh tuairt thromchúiseach ríomhaire.

Déan cur síos ar **DHÁ** bhealach chun cóip chúltaca a dhéanamh do chomhaid agus luaigh go hachomair buntáiste agus míbhuntáiste a bhaineann le gach modh díobh.



	Modh Cúltaca	Buntáiste	Míbhuntáiste
1	_____	_____	_____
	_____	_____	_____
	_____	_____	_____
2	_____	_____	_____
	_____	_____	_____
	_____	_____	_____

Leathanach
Bán