



## Coimisiún na Scrúduithe Stáit

*An Ardeistiméireacht Fheidhmeach, 2012*

# Speisialachas Gairmiúil – Innealtóireacht (240 marc)

Dé Luain, 11 Meitheamh

Maidin 9:30 – 11:00

### *Treoirínite Ginearálta d'Iarrthóirí*

1. Scríobh do **scrúduimhir** sa spás seo.
2. Freagair **gach** ceist as Roinn 1.
3. Freagair **trí** cheist **ar bith** as Roinn 2.
4. Scríobh do chuid freagraí sna spásanna atá ann dóibh agus bíodh sceitsí san áireamh de réir mar is cuí.
5. Tabhair suas an páipéar seo i ndeireadh an scrúdaithe.
6. Má thugtar faoi Cheist 7, freagair **dhá** thopaic **ar bith**.

<i>Don Fheitheoir amháin</i>	<i>Don Scrúdaitheoir amháin</i>	
<i>Stampa an Ionaid</i>	1. Iomlán na n-iomlán bun leathanaigh	
	2. Iomlán na gceisteanna dícheadaithe ar fad	
	3. An Marc iomlán a bronnadh (1 lúide 2)	
	4. Bónasmharc don fhreagairt trí Ghaeilge (más cuí)	
	5. Marc iomlán a bronnadh má bhíonn Bónas Gaeilge i gceist (3+4)	
	Nóta: Ní mór an marc i gcolún 3 (nó colún 5 má bhronntar Bónas Gaeilge) a bheith mar an gcéanna leis an marc iomlán ar an liopa i ndeireadh na scrípte.	






# Roinn 1 (90 Marc)

## Freagair gach ceann de na trí cheist

Roinn 1 C1.

45 marc

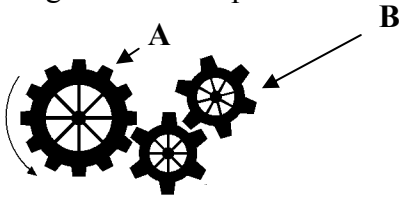
Tabhair freagraí gearra ar **chúig cinn déag ar bith** díobh seo a leanas:  
(Tá cead agat sceitsí a úsáid chun do chuid freagraí a mhíniú.)

CEIST	FREAGRA
<p><b>(a)</b> Sainaithin an próiseas ceangail a thaispeántar agus luaigh sampla praiticiúil d'úsáid a d'fhéadfaí a bhaint as.</p> <div style="display: flex; align-items: center; justify-content: center;">  </div>	<p>Próiseas Ceangail _____</p> <p>Úsáid _____</p> <p>_____</p>
<p><b>(b)</b> Ainmnigh an uirlis a thaispeántar agus luaigh úsáid <b>amháin</b> di.</p> <div style="display: flex; align-items: center; justify-content: center;">  </div>	<p>Ainm _____</p> <p>Úsáid _____</p> <p>_____</p>
<p><b>(c)</b> Luaigh ábhar oiriúnach chun an sceithphíopa cairr a thaispeántar a dhéanamh.</p> <div style="display: flex; align-items: center; justify-content: center;">  </div>	<p>Ainm an ábhair _____</p> <p>_____</p>
<p><b>(d)</b> Ainmnigh an chomhpháirt innealtóireachta a thaispeántar agus luaigh úsáid <b>amháin</b> di.</p> <div style="display: flex; align-items: center; justify-content: center;">  </div>	<p>Ainm _____</p> <p>Úsáid _____</p> <p>_____</p>
<p><b>(e)</b> Ainmnigh an próiseas bailchríochnaithe a thaispeántar.</p> <div style="display: flex; align-items: center; justify-content: center;">  </div>	<p>Ainm an phróisis _____</p> <p>_____</p> <p>_____</p>

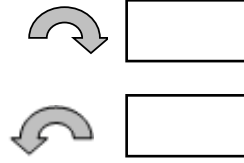
CEIST

FREAGRA

- (f) Tá Gear **A** ag gluaiseacht sa treo a thaispeántar. Cuir tic sa bhosca ceart chun treo gear **B** a thaispeáint.



Cuir tic sa bhosca ceart chun treo Gear **B** a thaispeáint.



- (g) Ainmnigh an bolta speisialta a thaispeántar agus luaigh buntáiste **amháin** a bhaineann leis an gcineál bolta seo a úsáid.



Ainm \_\_\_\_\_

Buntáiste \_\_\_\_\_

\_\_\_\_\_

- (h) Ainmnigh an leicneán a thaispeántar agus luaigh úsáid oiriúnach dó.

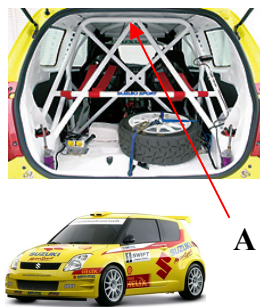


Ainm \_\_\_\_\_

Úsáid \_\_\_\_\_

\_\_\_\_\_

- (i) Luaigh ábhar a bheadh oiriúnach chun an cás iompaithe atá marcáilte **A** sa charr railí a thaispeántar thall a dhéanamh.



Ábhar oiriúnach

\_\_\_\_\_

- (j) Cuir tic sa bhosca ceart chun an dá mhíotal a úsáidtear chun an cóimhíotal sádir, a thaispeántar thall, a dhéanamh.



Luaidhe agus Stán

Copar agus Sinc

Copar agus Stán

CEIST

FREAGRA

(k) Ainmnigh an uirlis a thaispeántar thall agus luaigh úsáid **amháin** dó sa Seomra Innealtóireachta




Uirlis \_\_\_\_\_

Úsáid \_\_\_\_\_

\_\_\_\_\_

(l) Cuir tic sa bhosca ceart chun an gcineál miotail is oiriúnaí chun an *fheiste phluiméireachta* atá marcáilte **A** a dhéanamh.



Prás

Alúmanam

(m) Ainmnigh an teicníocht líofa a thaispeántar.

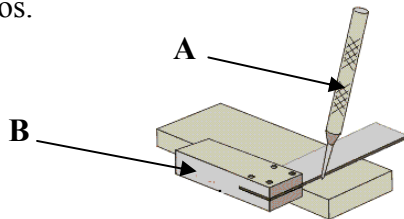


Teicníocht líofa

\_\_\_\_\_

\_\_\_\_\_

(n) Ainmnigh na huirlisí atá marcáilte **A** agus **B** thíos.



Ainm na huirlise **A** \_\_\_\_\_

Ainm na huirlise **B** \_\_\_\_\_

(o) Ainmnigh an scriú a thaispeántar agus luaigh úsáid oiriúnach dó.



Ainm an scriú \_\_\_\_\_

Úsáid \_\_\_\_\_

\_\_\_\_\_

CEIST

FREAGRA

(p) Roghnaigh ábhar oiriúnach le haghaidh chásáil an ríomhaire glúine a thaispeántar agus luaigh fáth leis an ábhar a roghnaigh tú.



Ábhar oiriúnach \_\_\_\_\_

Fáth \_\_\_\_\_

\_\_\_\_\_

(q) Ainmnigh an uirlis a thaispeántar thíos agus luaigh úsáid di.




Ainm na huirlise \_\_\_\_\_

Úsáid \_\_\_\_\_

\_\_\_\_\_

\_\_\_\_\_

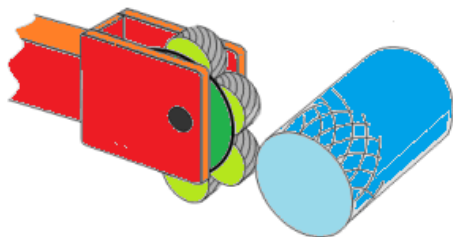
(r) Luaigh úsáid don rud a thaispeántar thíos.



Ainm na huirlise \_\_\_\_\_

\_\_\_\_\_

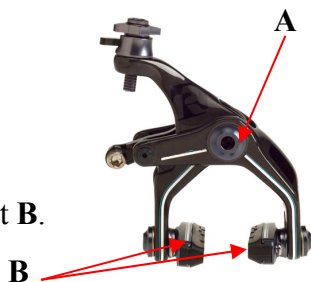
(s) Ainmnigh an próiseas deilte a thaispeántar thíos.



Ainm an phróisis \_\_\_\_\_

\_\_\_\_\_

(t) Scríobh síos ainm na meicníochta atá marcáilte **A** agus luaigh ábhar oiriúnach do pháirt **B**.



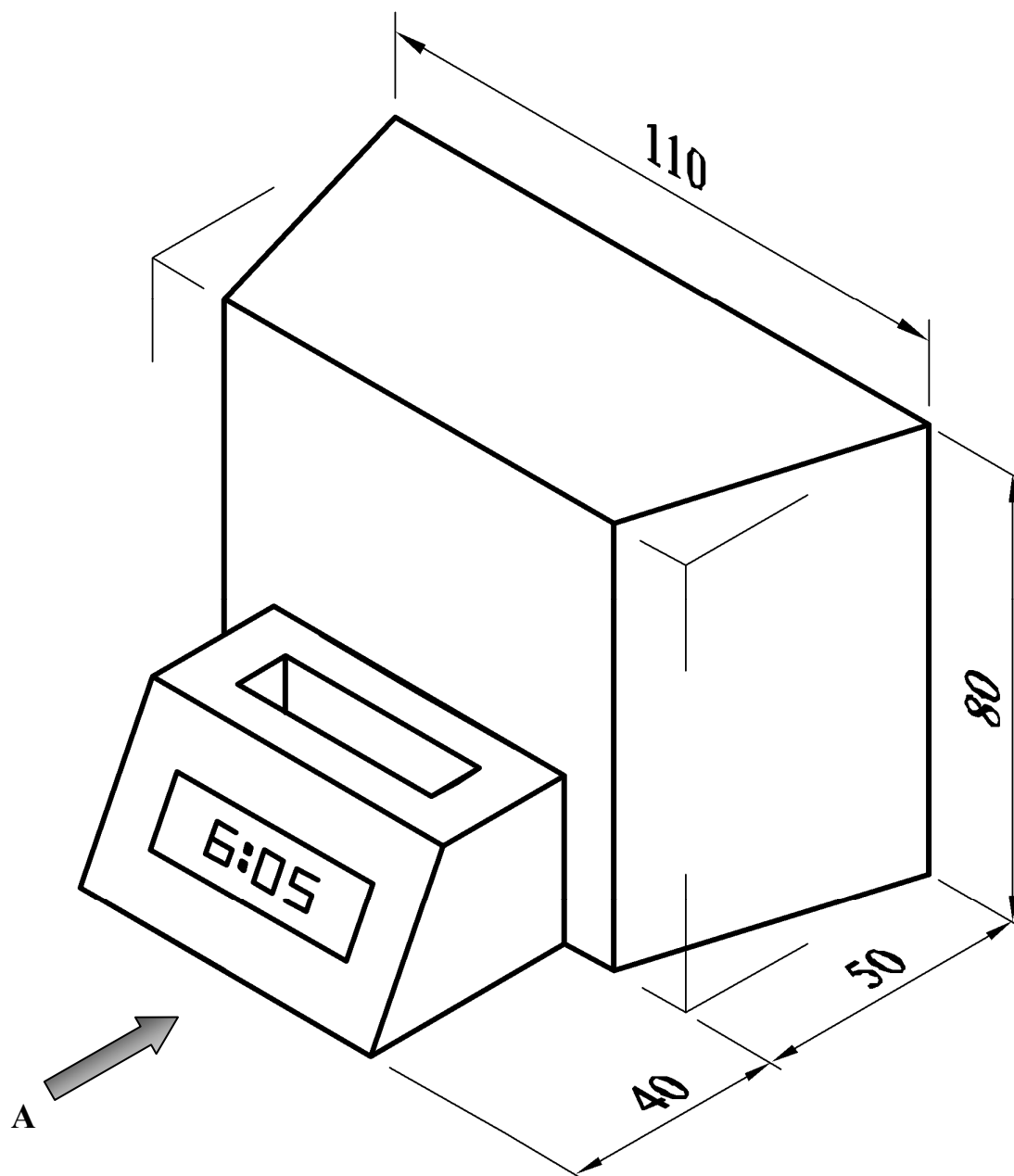
Ainm na meicníochta **A** \_\_\_\_\_

\_\_\_\_\_

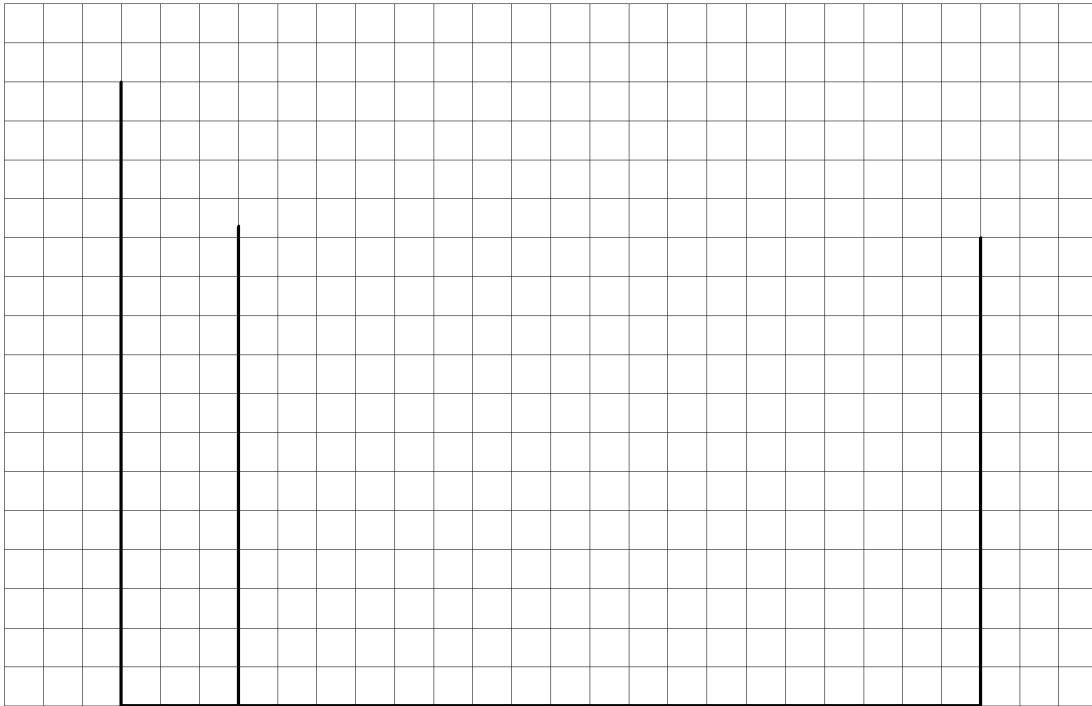
Ábhar do **B** \_\_\_\_\_

Taispeántar thíos cló pictiúrtha de stáisiún nasctha le haghaidh seinnteoir pearsanta ceoil. Tarraing an dá chló seo a leanas den stáisiún nasctha ar an bpáipéar greille thall:


- (a) Aghaidhchló sa treo ina bhfuil an tsaighead A.
- (b) Bonnchló teilgthe ó chló (a).



Nóta: Seasann gach cearnóg den ghreille do 5 mm

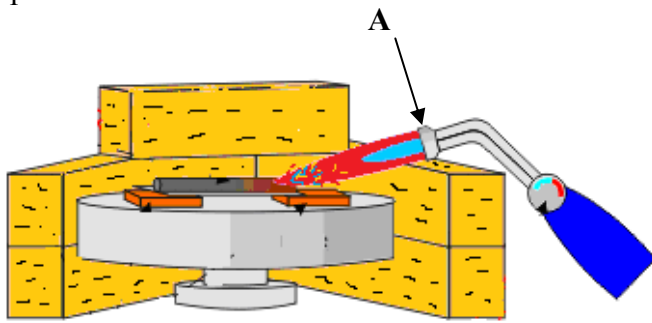


Críochnaigh an tAghaidhchló



Críochnaigh an Bonnchló

(a) Ainmnigh an dá phíosa de threalamh innealtóireachta a thaispeántar ag **A** agus **B** thíos. Luaigh **dhá** réamhchúram sábháilteachta ba cheart a chomhlíonadh agus **gach ceann** den dá phíosa trealaimh á úsáid.



**B**



**A** – Ainm an trealaimh innealtóireachta

\_\_\_\_\_

Réamhchúram Sábháilteachta 1

\_\_\_\_\_

\_\_\_\_\_

Réamhchúram Sábháilteachta 2

\_\_\_\_\_

\_\_\_\_\_

**B** - Ainm an trealaimh innealtóireachta

\_\_\_\_\_

Réamhchúram Sábháilteachta 1

\_\_\_\_\_

\_\_\_\_\_

Réamhchúram Sábháilteachta 2

\_\_\_\_\_

\_\_\_\_\_

(b) Taispeánann an léaráid, prítíl spotála agus casúr á n-úsáid chun píosa miotail a mharcáil amach. Luaigh **dhá** réamhchúram sábháilteachta ba cheart don mhac léinn a chomhlíonadh agus é ag marcáil amach miotail.

Réamhchúram Sábháilteachta 1 \_\_\_\_\_

\_\_\_\_\_

Réamhchúram Sábháilteachta 2 \_\_\_\_\_

\_\_\_\_\_





(c) Déan cur síos ar **dhá ghné** shábháilteachta **ar bith** ar an meaisín druileála a thaispeántar.

Gné Shábháilteachta 1 \_\_\_\_\_

---

---

---

---

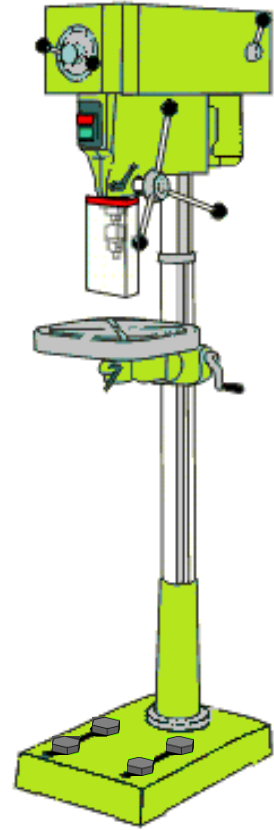
Gné Shábháilteachta 2 \_\_\_\_\_

---

---

---

---



(d) Luaigh réamhchúram sábháilteachta **amháin** ba cheart a chomhlíonadh nuair a bhíonn an sábh miotail leictreach a thaispeántar in úsáid.

---

---



(e) Bíonn na siombailí sábháilteachta thíos le feiceáil i Seomra Innealtóireachta. Tabhair míniú gairid ar **gach** ceann de na siombailí a thaispeántar.

**A**



Siombail **A** \_\_\_\_\_

---

**B**



Siombail **B** \_\_\_\_\_

---

## Roinn 2 (150 Marc)

Freagair trí cheist ar bith

Roinn 2

C4.

50 marc

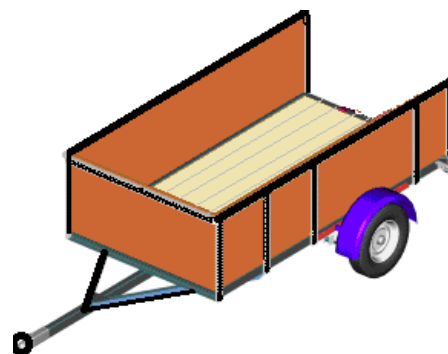
- (a) Dear, sna spásanna atá ann dó, cúlghheata oiriúnach don leantóir cairr a thaispeántar.

Ba chóir go dtaispeánfadh an dearadh **gach ceann** díobh seo a leanas go sóiléir:

- (i) Modh chun an cúlghheata a cheangal den leantóir le hinsí;
- (ii) Modh lena chinntiú gur féidir an cúlghheata a oscailt agus a dhúnadh go sábháilte.

I nGreille A tarraing **dhá sceitse ar a laghad** de smaointe éagsúla a chuir tú san áireamh le haghaidh dhearadh cúlghheata an leantóra.

I nGreille B tarraing **sceitse den réiteach** deiridh do cúlghheata an leantóra.




Ba chóir **dhá sceitse** ar a laghad don cúlghheata a tharraingt thíos i nGreille A.

Greille A – SMAOINTE

Ba chóir **sceitse den réiteach deiridh** don chúlgeata a tharraingt thíos i nGreille B.

**Greille B – RÉITEACH DEIRIDH**



**(b)**

- (i) Luaigh ábhar oiriúnach chun fráma an tralaí bagáiste san aerfort a thaispeántar a mhonarú.

\_\_\_\_\_

- (ii) Luaigh fáth **amháin** leis an ábhar a roghnaigh tú.

\_\_\_\_\_

\_\_\_\_\_

- (iii) Luaigh feabhsú oiriúnach **amháin** a d'fhéadfai a chur san áireamh i ndearadh an tralaí a thaispeántar.

\_\_\_\_\_

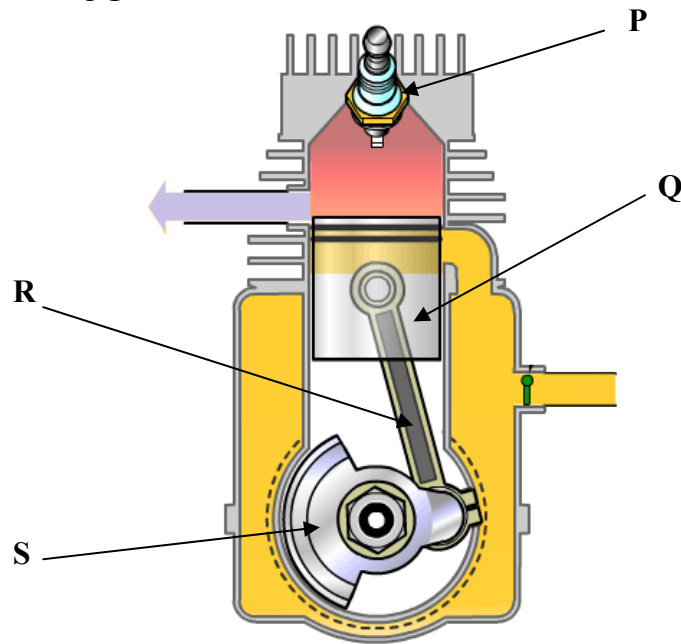
\_\_\_\_\_

\_\_\_\_\_



Fráma

(a) Taispeántar thíos léaráid de thrasghearradh d'inneall dhá bhuille. Ainmnigh **gach ceann** de na páirteanna a bhfuil na lipéid **P**, **Q**, **R** agus **S** orthu, agus déan cur síos ar an bhfeidhm atá ag **gach ceann** díobh.




Páirt	Ainm na Páirte	Feidhm
P		
Q		
R		
S		

(b) Ainmnigh an pháirt a thaispeántar sa léaráid thall agus luaigh an fheidhm atá ag an bpáirt sin in inneall cairr.

Ainm \_\_\_\_\_

Feidhm \_\_\_\_\_

\_\_\_\_\_



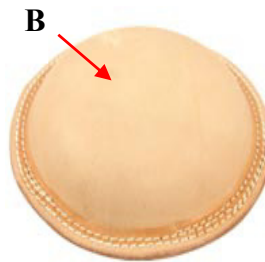
(c) Taispeántar roinnt páirteanna tábhachtacha d'inneall cairr thíos. Ainmnigh na páirteanna a bhfuil na lipéid U, V, W agus X orthu agus luaigh an fheidhm atá ag gach ceann díobh.



Páirt	Ainm na Páirte	Feidhm
U		
V		
W		
X		



(b) Baintear úsáid as an trealamh cuasaithe agus as na huirlisí thíos a bhfuil na lipéid **B** agus **C** orthu chun an babhla copair a bhfuil an lipéad **A** air a dhéanamh. Déan cur síos gairid sna spásanna thíos ar **cheithre** phríomhchéim ar bith a úsáidtear chun an babhla copair a dhéanamh. (*Úsáid sceitsí de réir mar is cuí.*)



Céim 1 \_\_\_\_\_

\_\_\_\_\_

\_\_\_\_\_

Céim 2 \_\_\_\_\_

\_\_\_\_\_

\_\_\_\_\_

Céim 3 \_\_\_\_\_


\_\_\_\_\_

\_\_\_\_\_

Céim 4 \_\_\_\_\_

\_\_\_\_\_

\_\_\_\_\_



(c) Luaigh **dhá** réamhchúram sábháilteachta ba cheart a chomhlíonadh le linn an phróisis chuasaithe.

Réamhchúram 1 \_\_\_\_\_

\_\_\_\_\_

Réamhchúram 2 \_\_\_\_\_

## **An Modúl Córas**

(Áirítear **dhá** thopaic **ar bith** mar mhodúl iomlán.)

Freagair **dhá cheann ar bith** as na cúig thopaic seo a leanas.

Topaic (a) – Dearadh Ríomhchuidithe (CAD)

Topaic (b) – Leictreachas

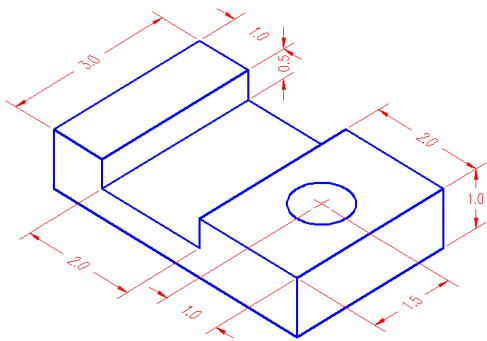
Topaic (c) – Leictreonaic

Topaic (d) – Meicníochtaí

Topaic (e) – Neomataic



- (a) Taispeántar líníocht CAD de threoraí meaisín thíos. Liostaigh **ceithre** ordú CAD **ar bith** atá riachtanach chun an líníocht thíos a tháirgeadh.




Ordú 1 \_\_\_\_\_

Ordú 2 \_\_\_\_\_

Ordú 3 \_\_\_\_\_

Ordú 4 \_\_\_\_\_

- (b) Luaigh **dhá** bhuntáiste a bhaineann le líníochtaí CAD a úsáid in áit líníochtaí traidisiúnta peann luaidhe.



Buntáiste 1 \_\_\_\_\_

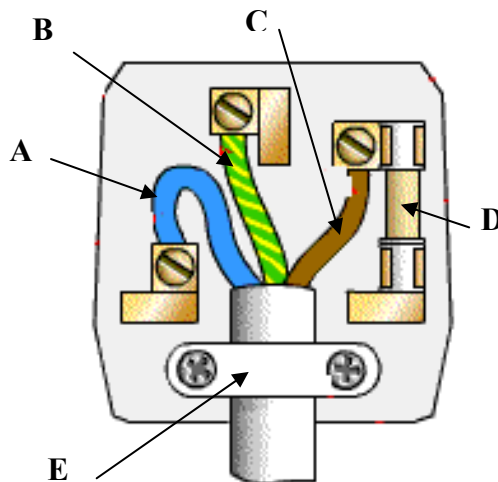
\_\_\_\_\_

Buntáiste 2 \_\_\_\_\_

\_\_\_\_\_

(a) Ainmnigh sna spásanna thíos na compháirteanna den fhlocóid trí phionna a thaispeántar thíos.

Páirt	Ainm
A	
B	
C	
D	
E	



(b) Ainmnigh an chomhpháirt leictreach a thaispeántar thíos agus luaigh úsáid di.



Ainm na Comhpháirte \_\_\_\_\_


Úsáid \_\_\_\_\_  
 \_\_\_\_\_

(c) Ainmnigh **gach** ceann de na comhpháirteanna a thaispeántar thíos agus luaigh úsáid oiriúnach do **gach** ceann díobh.




Ainm \_\_\_\_\_

Úsáid \_\_\_\_\_  
 \_\_\_\_\_



Ainm \_\_\_\_\_


Úsáid \_\_\_\_\_  
 \_\_\_\_\_



Ainm \_\_\_\_\_

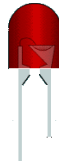
Úsáid \_\_\_\_\_  
 \_\_\_\_\_

(a) Ainmnigh **gach ceann** de na comhpháirteanna a thaispeántar thíos agus luaigh úsáid di.



Ainm \_\_\_\_\_

Úsáid \_\_\_\_\_



Ainm \_\_\_\_\_


Úsáid \_\_\_\_\_



Ainm \_\_\_\_\_

Úsáid \_\_\_\_\_

(b) Ainmnigh an comhbhall leictreonach a thaispeántar agus mínigh an fheidhm atá aige.



Ainm

\_\_\_\_\_

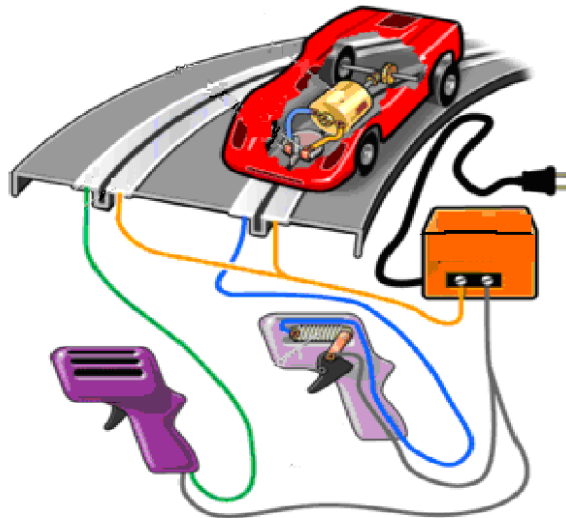
Feidhm

\_\_\_\_\_

\_\_\_\_\_

\_\_\_\_\_

(c) Taispeántar carr bréagáin leictreonach thíos. Déan cur síos gairid sa spás atá ann dó ar conas a oibríonn an carr bréagáin.




Cur síos \_\_\_\_\_

\_\_\_\_\_

\_\_\_\_\_

\_\_\_\_\_

- (a) Taispeánann an léaráid thíos meicníocht chun bréagán sotharraingthe a oibriú. Mínigh conas a oibríonn an mheicníocht.




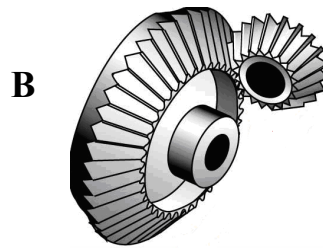

Míniú \_\_\_\_\_

---



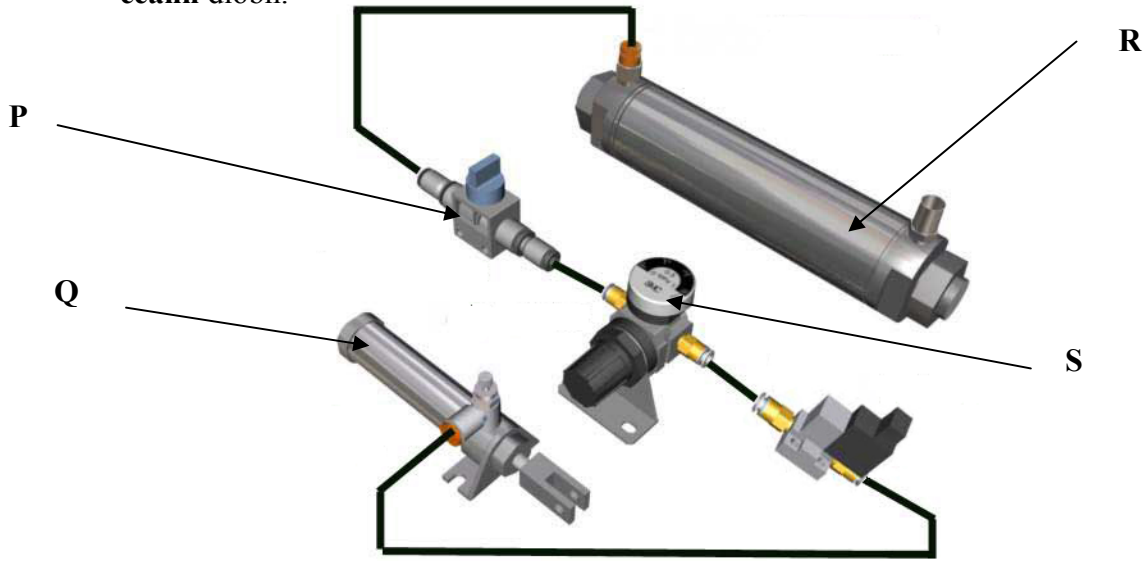
---

- (b) Ainmnigh na trí mheicníocht A, B agus C a thaispeántar thíos agus luaigh úsáid amháin do gach ceann díobh.



	Ainm	Úsáid
Meicníocht A		
Meicníocht B		
Meicníocht C		

(a) Ainmnigh na comhphárteanna neomatacha thíos agus luaigh an fheidhm atá ag gach ceann díobh.



	Ainm	Feidhm
P		
Q		
R		
S		

(b) Ní mór cleachtais shábháilte oibre a úsáid le córais neomatacha. Ainmnigh an chomhpháirt thíos agus luaigh an fheidhm shábháilteachta a bhaineann léi i gciorcad neomatach.

Ainm na Comhpháirte \_\_\_\_\_

Feidhm Shábháilteachta \_\_\_\_\_

\_\_\_\_\_



**Leathanach Bán**

<b>Don Scrúdaitheoir amháin</b>		
<b>Ceist</b>	<b>Marc</b>	<b>Iomlán</b>
<b>Roinn 1</b>		
1		
2		
3		
<b>Roinn 2</b>		
4		
5		
6		
7 (a)		
7 (b)		
7 (c)		
7 (d)		
7 (e)		
<b>Iomlán</b>		

Leathanach Bán