



Coimisiún na Scrúduithe Stáit

An Ardteistiméireacht Fheidhmeach, 2011

Speisialachas Gairmiúil – Innealtóireacht (240 marc)

Dé Luain, 13 Meitheamh, 2011

Maidin 9:30 – 11:00

Treoirlínte Ginearálta d'Iarrthóirí


1. Scríobh do **scrúduimhir** sa spás seo.
2. Freagair **gach** ceist as Roinn 1.
3. Freagair **trí cheist ar bith** as Roinn 2.
4. Scríobh do chuid freagraí sna spásanna atá ann dóibh agus bíodh sceitsí san áireamh de réir mar is cuí.
5. Tabhair suas an páipéar seo i ndeireadh an scrúdaithe.
6. Má thugann tú faoi Cheist 7, freagair **dhá thopaic ar bith**.


<i>Don Fheitheoir amháin</i>	<i>Don Scrúdaitheoir amháin</i>	
<i>Stampa an Ionaid</i>	1. Iomlán na n-iomlán bun leathanaigh	
	2. Iomlán na gceisteanna dícheadaithe ar fad	
	3. An Marc iomlán a bronnadh (1 lúide 2)	
	4. Bónasmharc don fhreagairt trí Ghaeilge (más cuí)	
	5. An Marc iomlán a bronnadh má bhíonn Bónas Gaeilge i gceist (3 + 4)	
	<p>Nóta: Ní mór an marc i gcolún 3 (nó colún 5 má bhronntar Bónas Gaeilge) a bheith mar an gcéanna leis an marc iomlán i ndeireadh na scrípte.</p>	


Roinn 1 (90 Marc)
Freagair gach ceann de na trí cheist

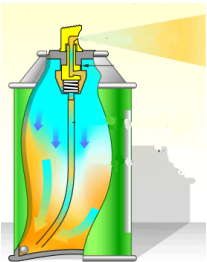
Tabhair freagraí gearra ar **chúig cinn déag ar bith** díobh seo a leanas:
(tá cead agat sceitsí a úsáid chun do chuid freagraí a mhíniú)


CEIST	FREAGRA
-------	---------

<p>(a) Sainaitin an próiseas ceangail a thaispeántar agus luaigh sampla praiticiúil amháin d'áit inar féidir é a úsáid.</p>	<div style="text-align: center;">  </div> <p>Próiseas Ceangail _____</p> <p>Úsáid _____</p> <p>_____</p>
--	---

<p>(b) Luaigh fáth a bhfuil clampaí bíse á n-úsáid chun an miotal a choinneáil mar a thaispeántar.</p>	<div style="text-align: center;">  </div> <p>Fáth _____</p> <p>_____</p>
---	--

<p>(c) Ainmnigh ábhar oiriúnach chun an roth cairr a thaispeántar a dhéanamh.</p>	<div style="text-align: center;">  </div> <p>Ainm an ábhair _____</p> <p>_____</p>
--	---

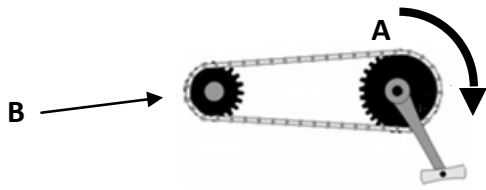
<p>(d) Luaigh réamhchúram sábháilteachta amháin ba cheart a chomhlíonadh nuair a bhíonn péint aerosóil á húsáid.</p>	<div style="text-align: center;">  </div> <p>Réamhchúram sábháilteachta _____</p> <p>_____</p> <p>_____</p>
--	--

<p>(e) Mol ábhar oiriúnach a d'fhéadfaí a úsáid chun lann an lomaire faiche a dhéanamh agus luaigh fáth amháin a bhfuil sé oiriúnach.</p>	<div style="text-align: center;">  <p style="text-align: left; margin-left: 10px;">Lann</p> </div> <p>Ábhar _____</p> <p>Fáth _____</p> <p>_____</p>
--	---

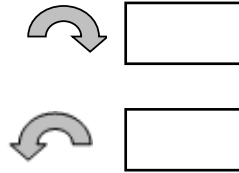
CEIST

FREAGRA

(f) Tá Gear **A** ag gluaiseacht sa treo a thaispeántar. Cuir tic sa bhosca ceart chun treo gear **B** a thaispeáint.



Cuir tic sa bhosca ceart chun treo gear **B** a thaispeáint.



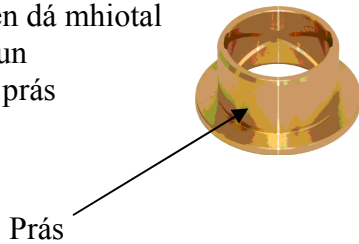
(g) Ainmnigh an cnó speisialta a thaispeántar agus luaigh buntáiste **amháin** a bhaineann lena úsáid.



Ainm _____

Buntáiste _____

(h) Cuir tic sa bhosca ceart thall, le cur in iúl cén dá mhíotal a úsáidtear chun an cóimhiotal prás a dhéanamh.



Prás

Stán + Luaidhe

Copar + Sinc

Copar + Luaidhe

(i) Mol ábhar a bheadh oiriúnach chun suíochán an chairtín a thaispeántar a mhonarú.



Ábhar oiriúnach

(j) Ainmnigh an fáiscín a thaispeántar agus luaigh úsáid dó.




Ainm _____

Úsáid _____

CEIST	FREAGRA
-------	---------


(k) Ainmnigh ábhar oiriúnach a úsáidtear chun béalmhír **A** an druilire a thaispeántar a dhéanamh, agus luaigh fáth **amháin** le do rogha.



Ábhar _____

Fáth _____


(l) Cuir tic leis an gcineál ceart plaistigh a d'fhéadfaí a úsáid chun gur féidir an píobán a thaispeántar a lúbadh agus teas á úsáid.



Plaisteach teirmithéachtach


Teirmeaplaisteach

(m) Ainmnigh an teicníocht cheangail a úsáidtear chun an miotal leatháin tanaí a thaispeántar a cheangal.



Teicníocht cheangail


(n) Ainmnigh an uirlis a thaispeántar agus luaigh úsáid oiriúnach di.



Ainm _____

Úsáid _____


(o) Ainmnigh an scriú a thaispeántar agus a úsáidtear chun an cuaille a choinneáil go docht sa soicéad.



Ainm an scriú

CEIST	FREAGRA
-------	---------


(p) Roghnaigh ábhar oiriúnach le haghaidh chásáil an Aonaid Loingseoireachta Satailíte (GPS) a thaispeántar agus luaigh fáth le do rogha.



Ábhar oiriúnach _____

Fáth _____


(q) Ainmnigh an uirlis a thaispeántar thíos agus luaigh úsáid a bhaintear aisti.



Ainm na huirlise _____


Úsáid _____

(r) Luaigh réamhchúram sábháilteachta **amháin** is cóir a chomhlíonadh nuair a bhíonn an deimheas boird thíos in úsáid.



Réamhchúram sábháilteachta _____


(s) Ainmnigh an píosa trealaimh a thaispeántar agus luaigh úsáid oiriúnach dó.



Ainm _____

Úsáid _____

(t) Ainmnigh an mheicníocht marcáilte A agus luaigh úsáid a bhaintear aisti in obair innealtóireachta.



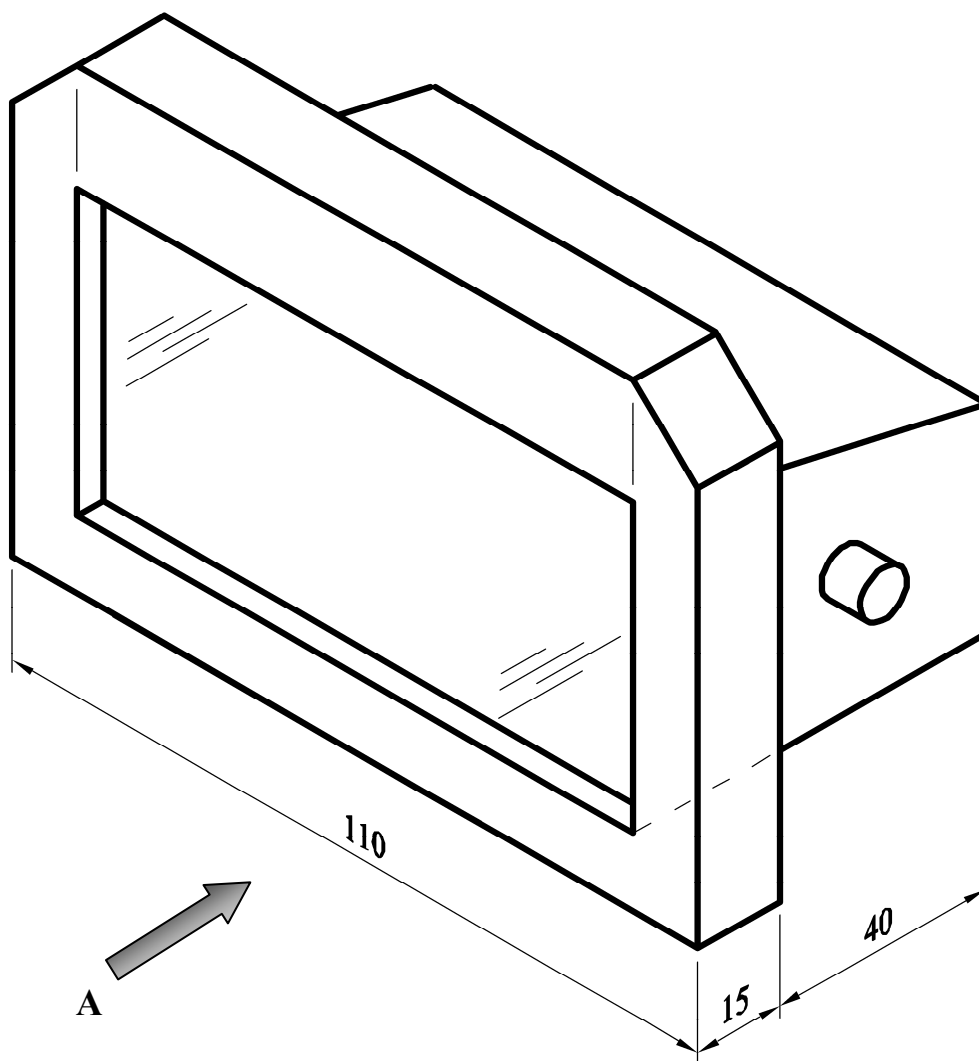
Ainm _____

Úsáid _____


Taispeántar cló pictiúrtha de lampa lasmuigh thíos.

Tarraing an **dá** chló seo a leanas den lampa lasmuigh ar an bpáipéar greille thall:

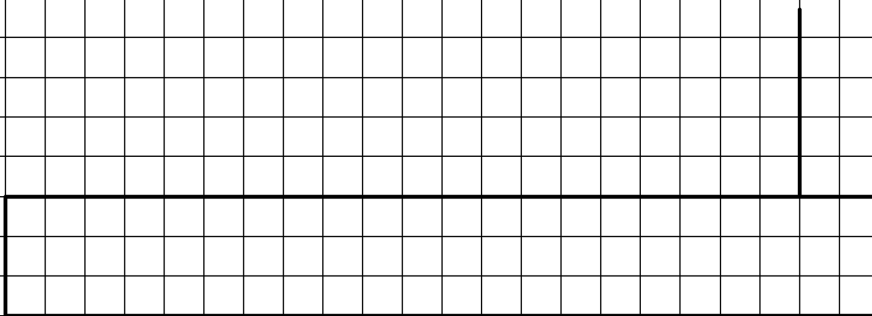
- (a) Aghaidhchló sa treo ina bhfuil an tsaighead A.
- (b) Bonnchló a teilgtear ó chló (a).



Nóta: Do gach cearnóg léigh 5 mm.




Críochnaigh an tAghaidhchló



Críochnaigh an Bonnchló

(a) Ainmnigh an **dá** phíosá trealaimh a thaispeántar ag **A** agus **B** thíos. Luaigh dhá réamhchúram sábháilteachta ba cheart a chomhlíonadh agus **gach ceann** den **dá** phíosá trealaimh á oibriú.



A



B

A - Ainm an trealaimh innealtóireachta

Réamhchúram sábháilteachta 1

Réamhchúram sábháilteachta 2

B - Ainm an trealaimh innealtóireachta

Réamhchúram sábháilteachta 1

Réamhchúram sábháilteachta 2

(b) Taispeánann an léaráid spot-táthaire a úsáidtear go minic chun miotail leatháin a cheangal. Luaigh **dhá** réamhchúram sábháilteachta ba cheart do mhic léinn a chomhlíonadh agus an spot-táthaire á úsáid acu.

Réamhchúram sábháilteachta 1 _____

Réamhchúram sábháilteachta 2 _____



(c) Déan cur síos ar **dhá** ghné shábháilteachta **ar bith** ar an meaisín meilte a thaispeántar thíos.

Gné shábháilteachta 1 _____

Gné shábháilteachta 2 _____



(d) Luaigh réamhchúram sábháilteachta **amháin** ba cheart a chomhlíonadh agus an sábh a thaispeántar á úsáid.

Réamhchúram sábháilteachta _____



(e) Bíonn na siombailí sábháilteachta thíos le feiceáil sa seomra Innealtóireachta. Tabhair míniú gairid ar **gach ceann** de na siombailí a thaispeántar.

A



Siombail A _____

B



Siombail B _____

Roinn 2 (150 Marc)

Freagair trí cheist ar bith

Roinn 2

C4.

50 marc

- (a) Dear, sna spásanna atá ann dó, brac taca oiriúnach chun gur féidir an rothar a thaispeántar a iompar ar chúl na veain campála.

Ba chóir go dtaispeánfaí ar an dearadh **gach ceann** díobh seo a leanas go soiléir:

- (i) Modh chun an brac taca a cheangal leis an veain champála;
(ii) Modh lena chinntiú go gcoinneofar an rothar go daingean sa bhrac taca.

I nGreille A, tarraing **dhá sceitse ar a laghad** de smaointe éagsúla a chuir tú san áireamh le haghaidh dhearadh an bhraca taca.

I nGreille B, tarraing sceitse den **réiteach deiridh** don bhrac taca.



Ba chóir **dhá sceitse** ar a laghad don bhraca taca a tharraingt thíos **i nGreille A**.

Greille A – SMAOINTE

Ba chóir sceitse **den réiteach deiridh** don bhrac taca a tharraingt thíos i **nGreille B**.

Greille B – RÉITEACH DEIRIDH

- (b) (i) Mol ábhar oiriúnach chun fráma an bhugaí a mhonarú.

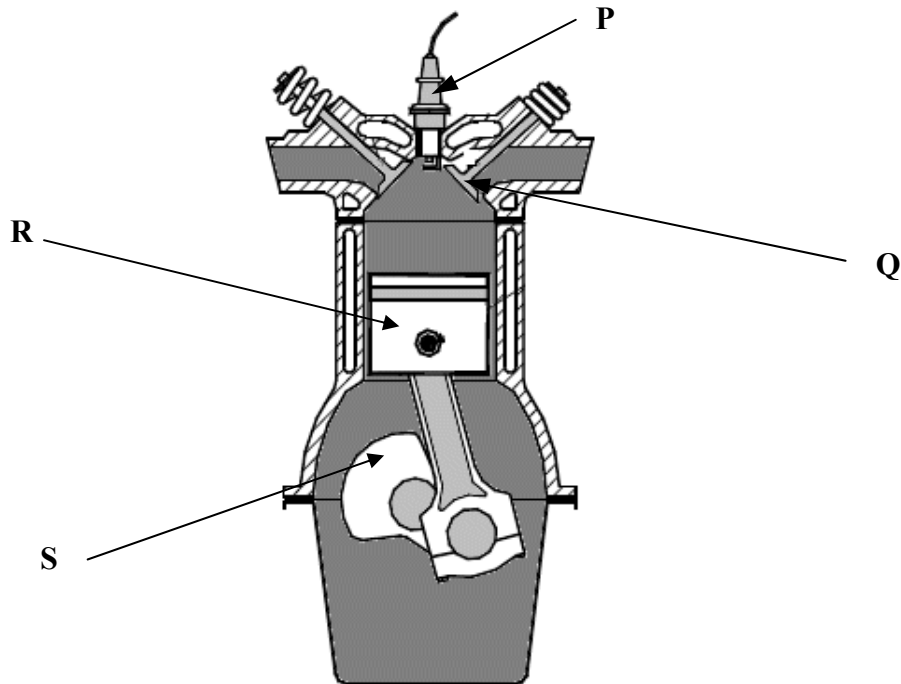
- (ii) Luaigh fáth amháin le do rogha.

- (iii) Tabhair breac-chuntas ar chúis **amháin** a bhfuil an dá roth i dtosach an bhugaí níos lú ná na rothaí taobh thiar.



Fráma

(a) Taispeántar léaráid thrasghearrtha d’inneall ceithre bhuille thíos. Ainmnigh na páirteanna a bhfuil na lipéid P, Q, R agus S orthu agus déan cur síos ar an bhfeidhm atá ag gach ceann díobh.




Páirt	Ainm na Páirte	Feidhm
P		
Q		
R		
S		

- (b) Ainmnigh an pháirt A atá an meicneoir sa léaráid thall a bhaint as an inneall agus luaigh an fheidhm atá ag an bpáirt sin.

Ainm _____

Feidhm _____




- (c) Taispeántar roinnt páirteanna tábhachtacha d'inneall cairr thíos. Ainmnigh na páirteanna a bhfuil na lipéid U, V, W agus X orthu agus luaigh an fheidhm atá ag gach páirt díobh.



Páirt	Ainm na Páirte	Feidhm
U		
V		
W		
X		

- (a) Déan cur síos gairid, sna spásanna thíos, **ar thrí chéim ar bith** i ndéantús an scrolla mhaisithe sa gheata a thaispeántar Is féidir tagairt i do chur síos do mhodh cóireála te **nó** do mhodh cóireála fuar chun an scrolla a fhoirmiú.
 (Úsáid sceitsí de réir mar is cuí.)




Céim 1 _____

Céim 2 _____

Céim 3 _____

- (b) Tá próiseas cruanta á úsáid chun an suaitheantas a thaispeántar thíos á mhaisiú. Déan cur síos gairid, sna spásanna thíos, **ar cheithre** phríomhchéim **ar bith** sa phróiseas chun an dearadh cruanta ar an suaitheantas a dhéanamh.
(Úsáid *sceitsí de réir mar is cuí.*)



Suaitheantas

Céim 1 _____

Céim 2 _____

Céim 3 _____

Céim 4 _____

- (c) Luaigh **dhá** réamhchúram sábháilteachta ba cheart a chomhlíonadh le linn phróiseas an chruanta.

Réamhchúram 1 _____

Réamhchúram 2 _____

An Modúl Córas

(Áirítear **dhá** thopaic **ar bith** mar mhodúl iomlán)

Freagair **dhá cheann ar bith** as na cúig thopaic seo a leanas.

Topaic (a) – Dearadh Ríomhchuidithe (CAD)


Topaic (b) – Leictreachas

Topaic (c) – Leictreonaic

Topaic (d) – Meicníochtaí

Topaic (e) – Neomataic

- (a) Taispeántar líníocht CAD de sheinnteor MP3 thíos. Liostaigh **ceithre** ordú CAD **ar bith** atá riachtanach chun an líníocht a tháirgeadh.



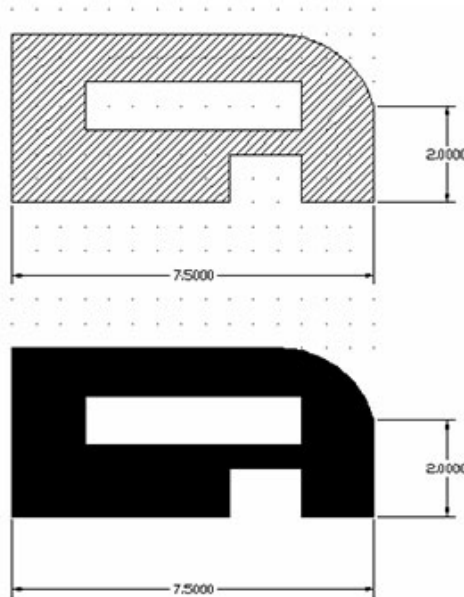
Ordú 1 _____

Ordú 2 _____

Ordú 3 _____

Ordú 4 _____

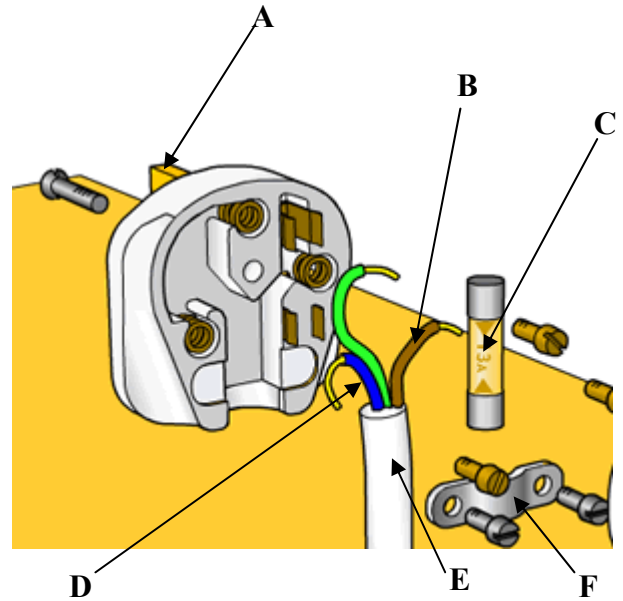
- (b) Táirgtear an líníocht thíos le pacáiste CAD. Míneigh an próiseas atá i gceist chun achar a haisteáil ar líníocht CAD.




Próiseas _____

(a) Meaitseáil **gach ceann** de na páirteanna leictreacha a bhfuil lipéad air leis an ainm ceart sa tábla. Tá an chéad cheann déanta mar shampla duit.

A	Sreang Neodrach
B	Cábla
C	Sreang Bheo
D	Pionna Talmhaithe
E	Fiús
F	Clampa Cábla



(b) Taispeántar dhá chineál dhifriúla plocóide. Míneigh cén fáth a mbíonn plocóid trí phionna ag feistí leictreacha áirithe agus plocóid dhá phionna ag feistí eile.



Míniú _____

(c) Ainmnigh **gach ceann** de na comhbhaill a thaispeántar thíos agus luaigh úsáid oiriúnach do gach ceann díobh.



Ainm _____
 Úsáid _____




Ainm _____
 Úsáid _____



Ainm _____
 Úsáid _____

(a) Ainmnigh gach ceann de na comhbhaill a thaispeántar agus luaigh úsáid oiriúnach do gach ceann díobh.



Ainm _____

Úsáid _____



Ainm _____


Úsáid _____



Ainm _____

Úsáid _____


(b) Ainmnigh an trealamh leictreonach a thaispeántar agus mínigh an fheidhm atá aige.



Ainm _____

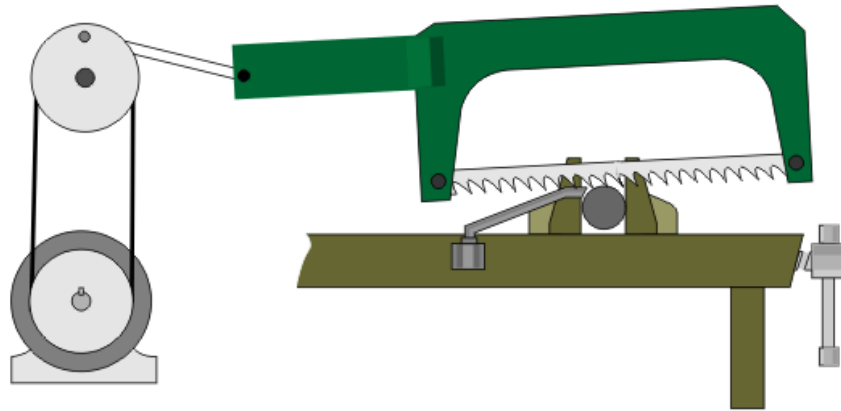
Feidhm _____

(c) Taispeántar bugaí bréagáin leictreonach thíos. Déan cur síos gairid sa spás atá ann dó ar conas a oibríonn an bugaí bréagáin.



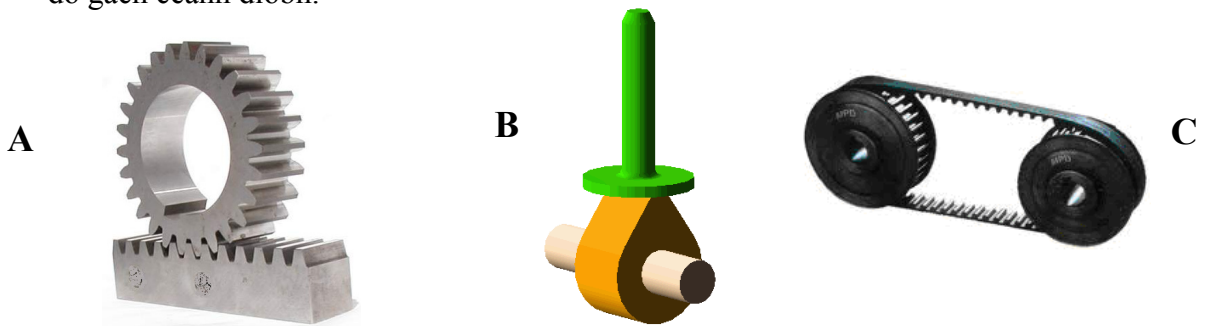
Cur síos _____

(a) Taispeánann an léaráid thíos meicníocht chun sábh cumhachta a oibriú. Mínigh conas a oibríonn an mheicníocht.



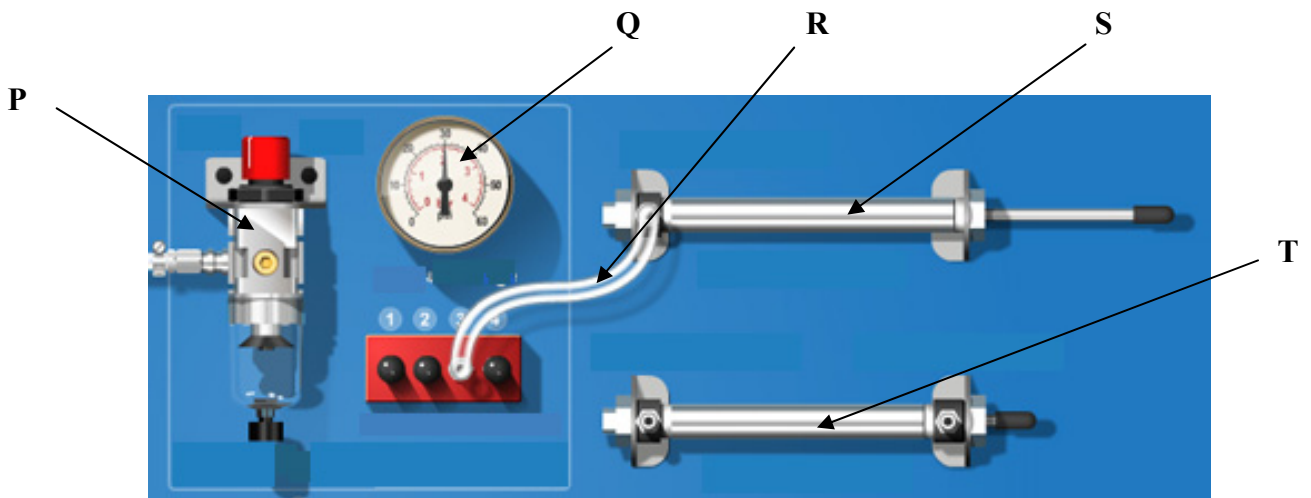
Míniú _____

(b) Ainmnigh na trí mheicníocht A, B agus C a thaispeántar thíos agus luaigh úsáid **amháin** do gach ceann díobh.



	Ainm	Úsáid
Meicníocht A		
Meicníocht B		
Meicníocht C		

(a) Ainmnigh na comhbhaill neomatacha thíos agus luaigh an fheidhm atá ag **gach** ceann díobh.



	Ainm	Feidhm
P		
Q		
R		
S		
T		

(b) Ní mór cleachtais shábháilte oibre a fheidhmiú le córais neomatacha. Luaigh **dhá** shampla de réamhchúraimí sábháilteachta ar leith ba cheart a chomhlíonadh agus duine ag obair le córais neomatacha.

- 1 _____

- 2 _____

Leathanach Bán

Don Scrúdaitheoir amháin		
Ceist	Marc	Iomlán
Roinn 1		
1		
2		
3		
Roinn 2		
4		
5		
6		
7 (a)		
7 (b)		
7 (c)		
7 (d)		
7 (e)		
Iomlán		

Leathanach Bán