



# Coimisiún na Scrúduithe Stáit

*An Ardteistiméireacht Fheidhmeach, 2010*

## Speisialachas Gairmiúil – Innealtóireacht (240 marc)

Dé Luain, 14 Meitheamh, 2010  
Maidin 9:30 – 11:00

### *Treoirlínte Ginearálta d'Iarrthóirí*

1. Scríobh do **scrúduimhir** sa spás seo.
2. Freagair **gach ceist** as Roinn 1.
3. Freagair **trí** cheist ar bith as Roinn 2.
4. Scríobh do chuid freagraí sna spásanna atá ann dóibh agus bíodh sceitsí san áireamh de réir mar is cuí.
5. Tabhair suas an páipéar seo i ndeireadh an scrúdaithe.
6. Má thugtar faoi Cheist 7, freagair **dhá** thopaic ar bith.

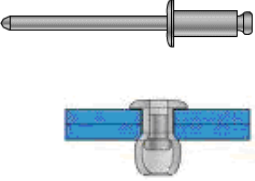
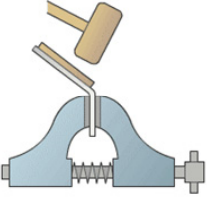



<i>Don Fheitheoir amháin</i>	<i>Don Scrúdaitheoir amháin</i>	
<i>Stampa an Ionaid</i>	1. Iomlán na n-iomlán bunleathanaigh	
	2. Iomlán na gceisteanna dícheadaithe ar fad	
	3. Marc iomlán a bronnadh (1 lúide 2)	
	4. Bónasmharc don fhreagairt trí Ghaeilge (más cuí)	
	5. Marc iomlán a bronnadh má bhíonn Bónas Gaeilge i gceist (3 + 4)	
	Nóta: Ní mór an marc i gcolún 3 (nó colún 5 má bhronntar Bónas Gaeilge) a bheith mar an gcéanna leis an marc iomlán ar an liopa i ndeireadh na scrípte.	

**Roinn 1 (90 Marc)**  
Freagair **gach ceann** de na trí cheist

Roinn 1 **C1.**

**45 marc**

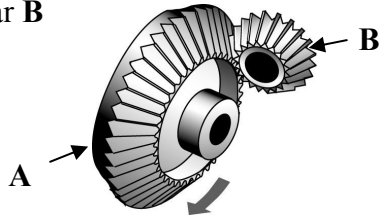
Tabhair freagraí gearra ar **chúig cinn déag ar bith** díobh seo a leanas:  
(tá cead agat sceitsí a úsáid chun do fhreagraí a mhíniú)

CEIST	FREAGRA
<p>(a) Sainaitin an próiseas ceangail a thaispeántar thall agus luaigh sampla praiticiúil d'áit inar féidir é a úsáid.</p> 	<p>Próiseas Ceangail _____</p> <p>Úsáid _____</p> <p>_____</p>
<p>(b) Luaigh fáth a bhfuil máilléad á úsáid chun an miotal a lúbadh mar a thaispeántar.</p> 	<p>Fáth _____</p> <p>_____</p>
<p>(c) Ainmnigh an próiseas a úsáideadh chun na miotail a thaispeántar thall a cheangal.</p> 	<p>Ainm an phróisis _____</p> <p>_____</p>
<p>(d) Sainaitin an uirlis a thaispeántar agus luaigh úsáid atá oiriúnach di.</p> 	<p>Ainm na huirlise _____</p> <p>Úsáid _____</p> <p>_____</p>
<p>(e) Mol ábhar oiriúnach a d'fhéadfaí a úsáid chun an lián a dhéanamh agus luaigh fáth a bhfuil sé oiriúnach.</p> 	<p>Ábhar _____</p> <p>Fáth _____</p> <p>_____</p>

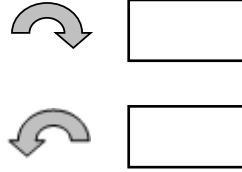
CEIST

FREAGRA

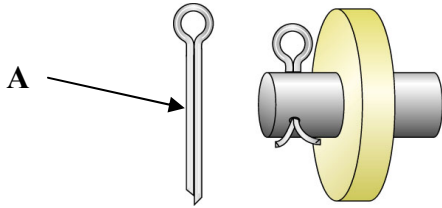
- (f) Tá gear **A** ag gluaiseacht sa treo a thaispeántar. Cuir tic sa bhosca ceart chun treo gear **B** a thaispeáint.



Cuir tic sa bhosca ceart chun treo gear **B** a thaispeáint.



- (g) Ainmnigh an pionna atá marcáilte **A** agus luaigh fáth lena úsáid.

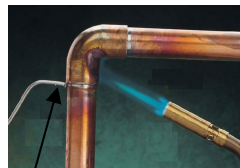


Ainm \_\_\_\_\_

Fáth \_\_\_\_\_

\_\_\_\_\_

- (h) Cuir tic sa bhosca ceart le cur in iúl cén dá mhíotal a úsáidtear sa chóimhíotal sádar.




Sádar

Stán + Luaidhe

Stán + Sinc

Sinc + Luaidhe

- (i) Mol ábhar oiriúnach a d'fhéadfaí a úsáid chun an slabhra rothair atá marcáilte **A** a dhéanamh.



Ábhar oiriúnach

\_\_\_\_\_

- (j) Tabhair gearrchuntas ar **dhá** bhuntáiste a bhaineann le castaire insocraithe.



Buntáiste 1 \_\_\_\_\_


\_\_\_\_\_

Buntáiste 2 \_\_\_\_\_

\_\_\_\_\_


CEIST	FREAGRA
-------	---------

(k) Ainmnigh ábhar oiriúnach a úsáideadh chun an inneoin a thaispeántar a dhéanamh, agus luaigh fáth **amháin** le do rogha ábhar.




Ábhar \_\_\_\_\_  
Fáth \_\_\_\_\_  
\_\_\_\_\_

(l) Cuir tic leis an gcineál plaistigh is oiriúnaí a d'fhéadfaí a úsáid sa tslí is go mbeadh an fráma a thaispeántar somhúnlaíthe.




Plaisteach teirmithéachtach   
Teirmeaplaisteach

(m) Luaigh úsáid atá oiriúnach don chadhnrá a thaispeántar.




Úsáid \_\_\_\_\_  
\_\_\_\_\_  
\_\_\_\_\_

(n) Sainaithin an rud a thaispeántar thíos agus luaigh úsáid atá oiriúnach dó.



Ainm \_\_\_\_\_  
Úsáid \_\_\_\_\_  
\_\_\_\_\_


(o) Mol ábhar oiriúnach do na píobáin sceite a bhfuil an lipéad A orthu ar an ngluaisrothar a thaispeántar thíos.



Ábhar do na píobáin sceite  
\_\_\_\_\_  
\_\_\_\_\_

CEIST	FREAGRA
-------	---------

**(p)** Roghnaigh ábhar oiriúnach do chásáil an tseinnteora phearsanta ceoil agus luaigh fáth leis an ábhar a roghnaigh tú.




Ábhar oiriúnach \_\_\_\_\_

Fáth \_\_\_\_\_

\_\_\_\_\_

**(q)** Ainmnigh an scriú speisialta a thaispeántar thíos agus luaigh úsáid do.



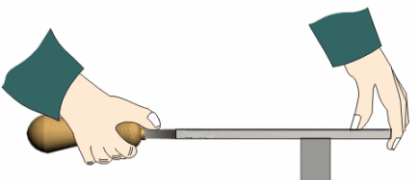
Ainm an scriú \_\_\_\_\_

Úsáid \_\_\_\_\_

\_\_\_\_\_

\_\_\_\_\_

**(r)** Luaigh réamhchúram sábháilteachta **amháin** is cóir a ghlacadh agus miotal á líomhadh agat.

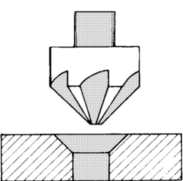


Réamhchúram sábháilteachta \_\_\_\_\_

\_\_\_\_\_

\_\_\_\_\_

**(s)** Ainmnigh an bhéalmhír druilire a thaispeántar thíos agus luaigh fáth amháin lena húsáid.




Ainm \_\_\_\_\_

Fáth \_\_\_\_\_

\_\_\_\_\_

**(t)** Ainmnigh an uirlis a thaispeántar agus luaigh úsáid di sa seomra innealtóireachta.



Ainm \_\_\_\_\_

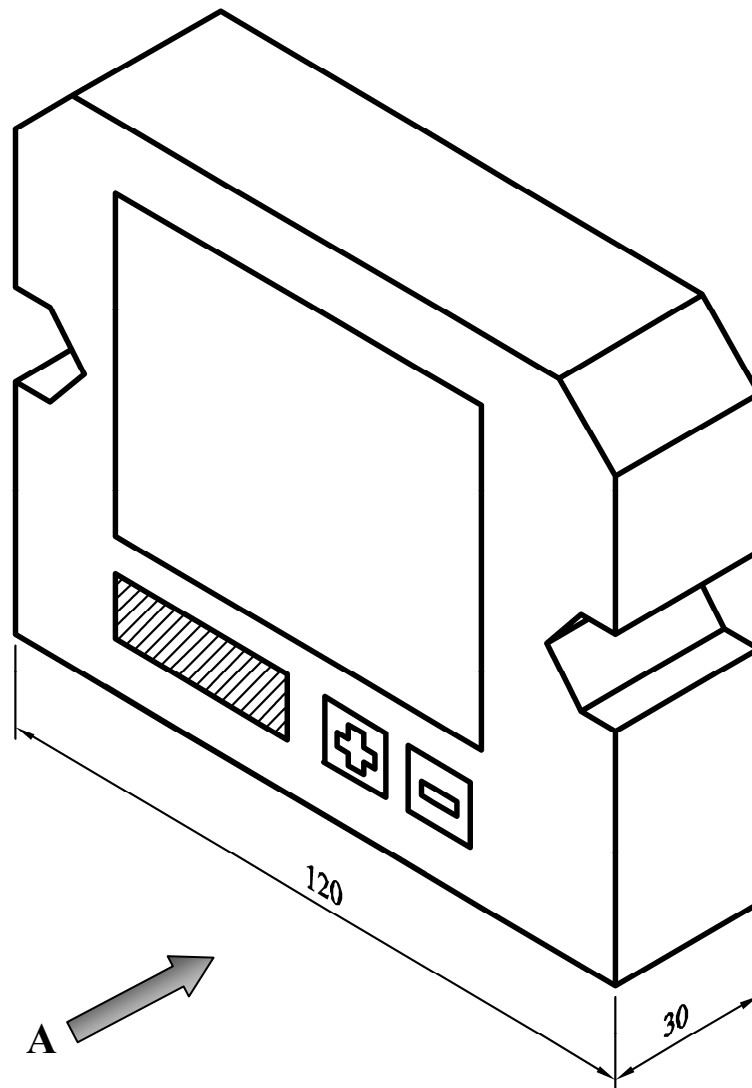
Úsáid \_\_\_\_\_

\_\_\_\_\_


Taispeántar cló pictiúrtha d'aonad GPS thíos.

Tarraing an **dá** chló seo a leanas den aonad GPS ar an bpáipéar greille thall:

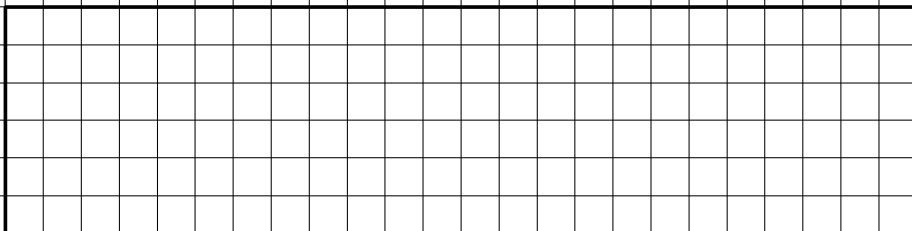
- (a) Aghaidhchló sa treo ina bhfuil an tsaighead A.
- (b) Bonnchló teilgthe ó chló (a).



Nóta: Tá gach cearnóg ghreille 5 mm ar fad.

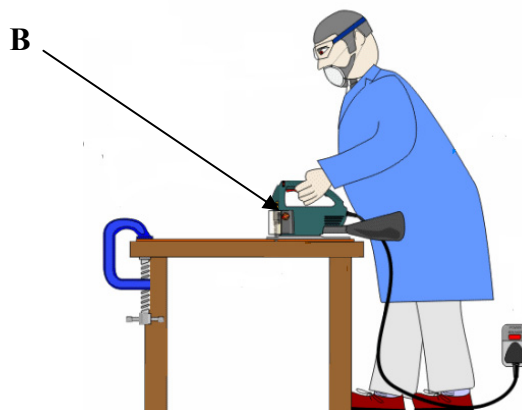


Críochnaigh an tAghaidhchló



Críochnaigh an Bonnchló

(a) Ainmnigh an dá phíosá trealaimh a thaispeántar ag **A** agus **B** thíos. Luaigh **dhá** réamhchúram sábháilteachta ba cheart a chomhlíonadh agus **gach ceann** den dá phíosá trealaimh á n-oibriú.



**A** – Ainm an trealaimh

\_\_\_\_\_

Réamhchúram Sábháilteachta 1

\_\_\_\_\_

\_\_\_\_\_

Réamhchúram Sábháilteachta 2

\_\_\_\_\_

\_\_\_\_\_

**B** – Ainm an trealaimh

\_\_\_\_\_

Réamhchúram Sábháilteachta 1

\_\_\_\_\_

\_\_\_\_\_

Réamhchúram Sábháilteachta 2

\_\_\_\_\_

\_\_\_\_\_

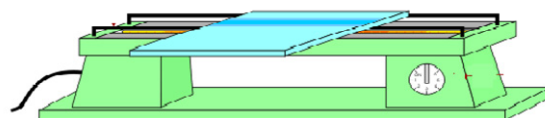
(b) Taispeánann an léaráid stialltéitheoir a úsáidtear go minic chun plaistigh a lúbadh. Luaigh **dhá** réamhchúram sábháilteachta nach mór do scoláirí a chomhlíonadh agus an stialltéitheoir á úsáid acu.

Réamhchúram Sábháilteachta 1 \_\_\_\_\_

\_\_\_\_\_

Réamhchúram Sábháilteachta 2 \_\_\_\_\_

\_\_\_\_\_





(c) Déan cur síos ar **dhá** ghné shábháilteachta **ar bith** ar mheaisín druileála.

Gné Shábháilteachta 1 \_\_\_\_\_

\_\_\_\_\_

\_\_\_\_\_

\_\_\_\_\_



Gné Shábháilteachta 2 \_\_\_\_\_

\_\_\_\_\_

\_\_\_\_\_

\_\_\_\_\_

(d) Luaigh réamhchúram sábháilteachta **amháin** ba chóir a chomhlíonadh agus an meilteoir uillinne a thaispeántar á úsáid.

\_\_\_\_\_

\_\_\_\_\_



(e) Bíonn na siombailí sábháilteachta thíos le feiceáil i gceardlann innealtóireachta. Tabhair míniú gairid ar **gach ceann** de na siombailí a thaispeántar.

A



Siombail A \_\_\_\_\_

\_\_\_\_\_

B



Siombail B \_\_\_\_\_

\_\_\_\_\_

- (a) Dear, sna spásanna atá ann dó, **seastán taca** oiriúnach chun an clár cúil agus an fáinne cispheile a thaispeántar a chur ina saorsheasamh i glós scoile.

Ba chóir go dtaispeánfaí ar an dearadh **gach ceann** díobh seo a leanas go soiléir:

- (i) Modh chun an clár cúil a cheangal leis an seastán taca;
- (ii) Modh lena chinntiú go mbeidh an seastán taca ina shaorsheasamh.

Tarraing i n**Greille A dhá sceitse ar a laghad** de smaointe éagsúla a chuir tú san áireamh agus dearadh an tseastáin taca á dhéanamh agat.

Tarraing i n**Greille B** sceitse den **réiteach deiridh** don seastán taca.



Ba chóir **dhá sceitse** ar a laghad don seastán taca a tharraingt thíos i n**Greille A**.

**Greille A – SMAOINTE**

Ba chóir sceitse den **réiteach deiridh** don seastán taca a tharraingt thíos i nGreille B.

**Greille B – AN RÉITEACH DEIRIDH**

- (b) Taispeántar thall fráma chun dhá luascán a choinneáil.

Fráma  
Crainn seasta



- (i) Mol ábhar oiriúnach chun fráma an luascáin a mhonarú.

---

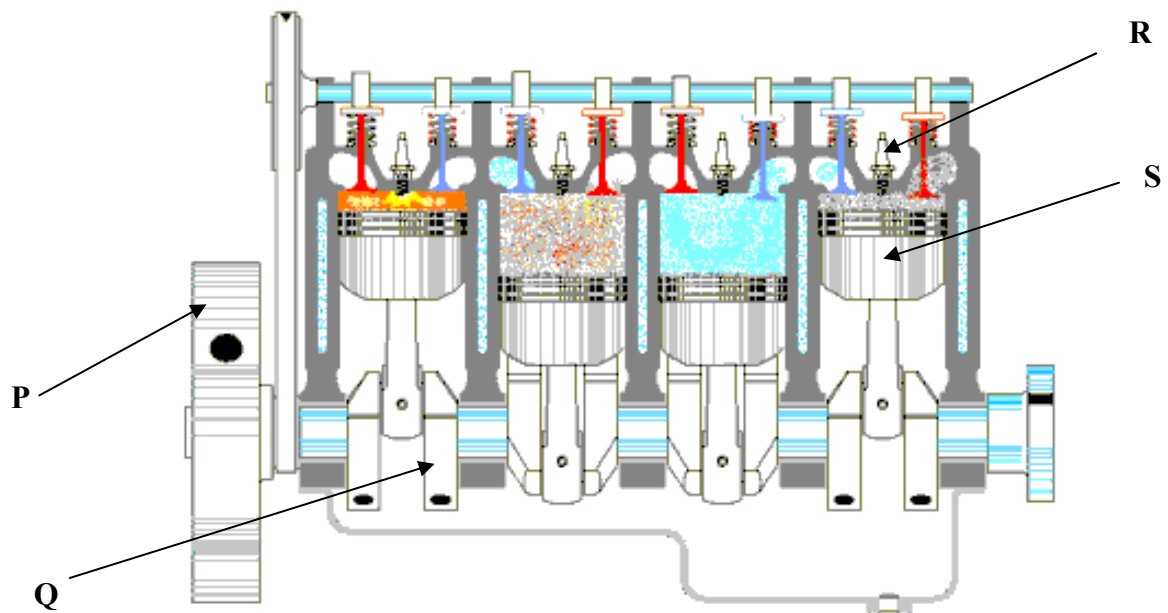
- (ii) Luaigh fáth **amháin** leis an ábhar a roghnaigh tú.

---

- (iii) Tabhair breac-chuntas ar chúis **amháin** a bhfuil dhá chrann seasta sa dearadh a thaispeántar.


---

(a) Taispeántar léaráid thrasghearrtha d’inneall ceithre bhuille thíos. Ainmnigh gach ceann de na páirteanna a bhfuil na lipéid **P**, **Q**, **R** agus **S** orthu agus déan cur síos ar an bhfeidhm atá acu.



Páirt	Ainm na Páirte	Feidhm
P		
Q		
R		
S		


(b) Ainmnigh an pháirt d'inneall a thaispeántar agus mínigh an fheidhm atá aici.



Ainm \_\_\_\_\_

Feidhm \_\_\_\_\_

(c) Is gá carr a sheirbhísiú go rialta. Seo thíos meicneoir ag athrú ola an innill. Sa tábla thíos ainmnigh **thrí** phríomhchéim is gá a thabhairt chun an ola innill a athrú i gcarr agus déan cur síos orthu.



Céim	Ainm na Céime	Cur síos
1		
2		
3		

- (a) Déan cur síos gairid, sna spásanna thíos, ar **thrí** chéim **ar bith** i dtáirgeadh scrolla maisithe. Is féidir tagairt sa chur síos do mhodh cóireála te **nó** fuar. Taispeántar léaráid de gach modh mar threoir úsáideach. (Úsáid sceitsí de réir mar is cuí.)



Céim 1 _____ _____ _____	
Céim 2 _____ _____ _____	
Céim 3 _____ _____ _____ _____	



## **An Modúl Córas**

(Áirítear **dhá thopaic ar bith** mar mhodúl iomlán)

Freagair **dhá cheann ar bith** as na cúig thopaic seo a leanas.

Topaic (a) – Dearadh Ríomhchuidithe (CAD)

Topaic (b) – Leictreachas

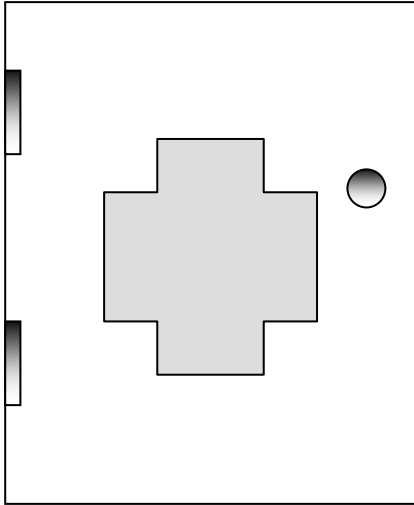
Topaic (c) – Leictreonaic

Topaic (d) – Meicníochtaí

Topaic (e) – Neomataic



- (a) Taispeántar líníocht CAD de chaibinéad garchabhrach thíos. Liostaigh **ceithre** ordú CAD **ar bith** atá riachtanach chun an líníocht a tháirgeadh.



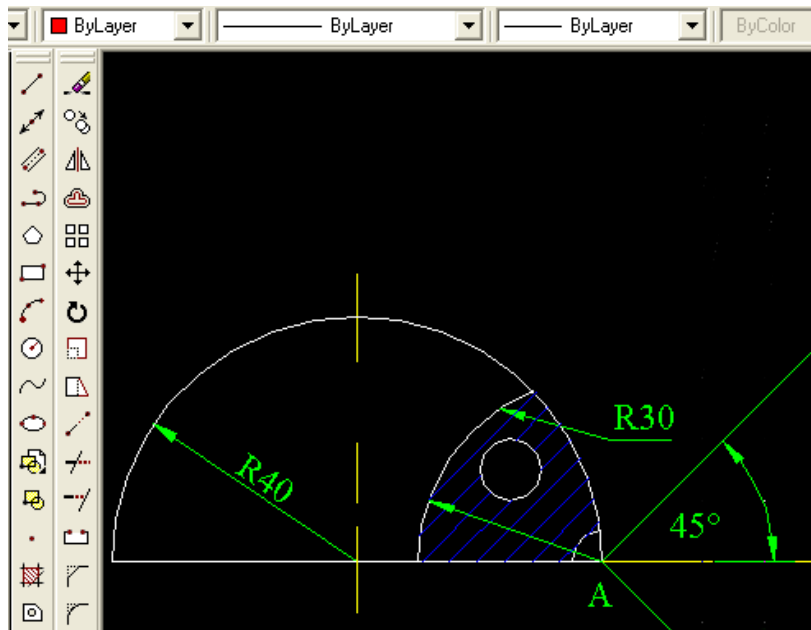
Ordú 1 \_\_\_\_\_

Ordú 2 \_\_\_\_\_

Ordú 3 \_\_\_\_\_

Ordú 4 \_\_\_\_\_

- (b) Táirgeadh an líníocht thíos le pacáiste CAD. Mínigh an próiseas atá i gceist chun toisí a chur isteach ar líníocht CAD.



Próiseas \_\_\_\_\_

\_\_\_\_\_

\_\_\_\_\_

(a) Taispeántar thíos rogha thipiciúil de na huirlisí a úsáideann leictreoir. Ainmnigh sa spásanna thíos na **ceithre** uirlis atá marcáilte **P, Q, R** agus **S**.



P \_\_\_\_\_

Q \_\_\_\_\_

R \_\_\_\_\_

S \_\_\_\_\_

(b) Ainmnigh an trealamh leictreach a thaispeántar thall agus tabhair míniú ar an bhfeidhm atá leis.

Ainm \_\_\_\_\_

Feidhm \_\_\_\_\_

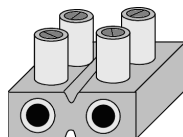


(c) Ainmnigh **gach ceann** de na comhbhaill a thaispeántar thíos agus luaigh úsáid oiriúnach do **gach ceann** díobh.



Ainm \_\_\_\_\_

Úsáid \_\_\_\_\_



Ainm \_\_\_\_\_

Úsáid \_\_\_\_\_



Ainm \_\_\_\_\_

Úsáid \_\_\_\_\_

(a) Ainmnigh **gach ceann** de na comhbhaill a thaispeántar thíos agus luaigh úsáid oiriúnach do **gach ceann** díobh.



Ainm \_\_\_\_\_

Úsáid \_\_\_\_\_

\_\_\_\_\_



Ainm \_\_\_\_\_

Úsáid \_\_\_\_\_

\_\_\_\_\_



Ainm \_\_\_\_\_

Úsáid \_\_\_\_\_

\_\_\_\_\_

(b) Ainmnigh an comhbhall leictreonach a thaispeántar thíos agus mínigh feidhm na mbandaí daite ar an gcomhbhall.



Ainm

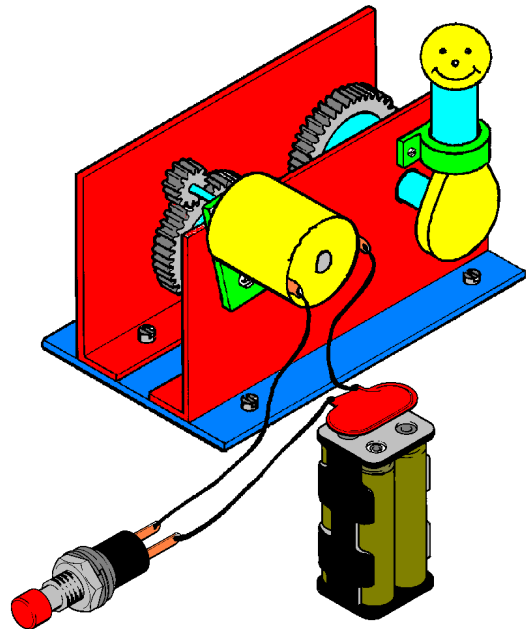
\_\_\_\_\_

Feidhm na mbandaí daite

\_\_\_\_\_

\_\_\_\_\_

(c) Taispeántar thall bréagán leictreonach do pháiste beag. Déan cur síos gairid sa spás thíos ar conas a oibríonn an bréagán.



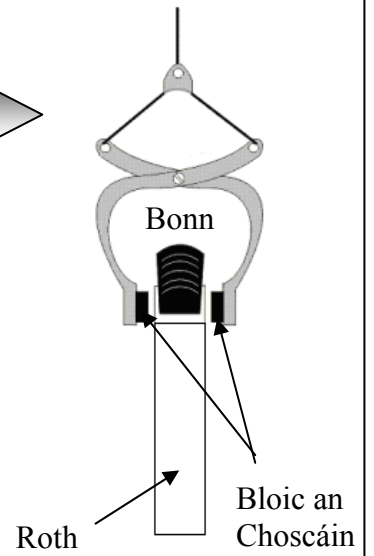
Cur síos \_\_\_\_\_

\_\_\_\_\_

\_\_\_\_\_

\_\_\_\_\_

- (a) Taispeánann na léaráidí meicníocht an choscáin a fheictear go minic ar rothair. Mínigh conas a oibríonn an mheicníocht.



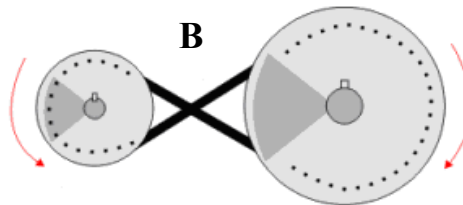

Míniú \_\_\_\_\_

\_\_\_\_\_

\_\_\_\_\_


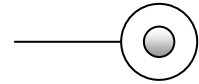



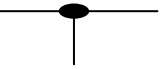
\_\_\_\_\_

- (b) Ainmnigh na trí mheicníocht A, B agus C a thaispeántar thíos agus luaigh úsáid **amháin** do gach ceann díobh.

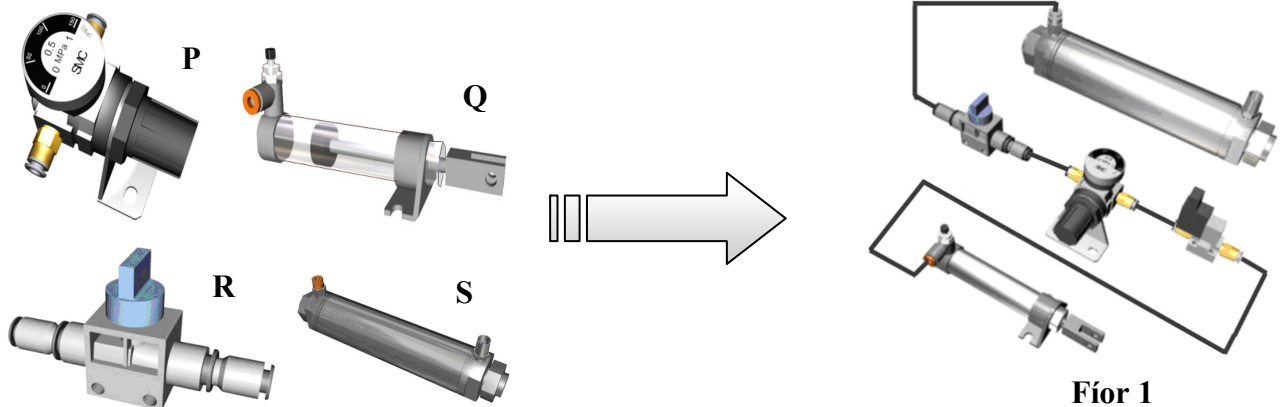


	Ainm	Úsáid
Meicníocht A		
Meicníocht B		
Meicníocht C		

(a) Meitseáil na siombailí neomatacha ar clé leis an ainm ceart ar dheis. Tá an chéad cheann déanta mar eisamláir duit.

			Píobáin Cheangailte
			Comhla Bhéalóige 3/2
			Taiscumar
			Aer Sceite
			Príomhsholáthar Aeir
			Sorcóir Déghníomhach

(b) Taispeántar thíos na comhbhaill neomatacha P, Q, R agus S. Tá na comhbhaill sin ceangailte chun an ciorcad neomatach a thaispeántar i bhFíor 1 a dhéanamh. Déan cur síos ar oibriú an chiorcaid neomataigh.



Cur Síos \_\_\_\_\_

\_\_\_\_\_

\_\_\_\_\_

(c) Baintear úsáid as aer comhbhrúite i gcórais neomatacha chun tascanna éagsúla a dhéanamh. Ainmnigh **dhá** réimse ina n-úsáidtear córais neomatacha.

1. \_\_\_\_\_

2. \_\_\_\_\_

Leathanach Bán

**Leathanach Bán**

Leathanach Bán



<b>Don Scrúdaitheoir amháin</b>		
<b>Ceist</b>	<b>Marc</b>	<b>Iomlán</b>
<b>Roinn 1</b>		
1		
2		
3		
<b>Roinn 2</b>		
4		
5		
6		
7 (a)		
7 (b)		
7 (c)		
7 (d)		
7 (e)		
<b>Iomlán</b>		