



# Coimisiún na Scrúduithe Stáit

*Ardteistiméireacht Fheidhmeach, 2009*

## Speisialachas Gairmiúil – Innealtóireacht (240 marc)

Dé Luain 8 Meitheamh, 2009

Maidin 9:30 – 11:00

### *Treoirlínte Ginearálta d'Iarrthóirí*

1. Scríobh do **scrúduimhir** sa spás seo.
2. Freagair **gach** ceist as Roinn 1.
3. Freagair **trí cheist ar bith** as Roinn 2.
4. Scríobh do chuid freagraí sna spásanna atá ann dóibh agus bíodh sceitsí san áireamh de réir mar is cuí.
5. Tabhair suas an páipéar seo i ndeireadh an scrúdaithe.
6. Má thugtar faoi Cheist 7, freagair **dhá thopaic ar bith**.






<i>Don Fheitheoir amháin</i>	<i>Don Scrúdaitheoir amháin</i>	
<i>Stamp an Ionaid</i>	1. Iomlán na n-iomlán bunleathanaigh	
	2. Iomlán na gceisteanna neamhcheadaithe ar fad	
	3. Marc iomlán a bronnadh (1 lúide 2)	
	4. Bónasmharc don fhreagairt trí Ghaeilge (más cuí)	
	5. Marc iomlán a bronnadh má bhíonn Bónas Gaeilge i gceist ( 3 + 4)	
	Nóta: Ní mór gurb ionann an marc i gcolún 3 (nó colún 5 má bhronntar Bónas Gaeilge) agus an marc iomlán ar an liopa i ndeireadh na scrípte.	

**Roinn 1 (90 Marc)**  
Freagair gach ceann de na trí cheist

Roinn 1 C1.


45 marc

Tabhair freagraí gearra ar **chúig cinn déag ar bith** díobh seo a leanas:  
(tá sé ceadaithe sceitsí a úsáid chun do fhreagraí a mhíniú)

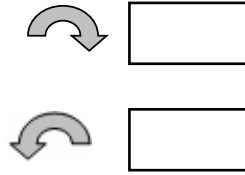
CEIST	FREAGRA
<p>(a) Ainmnigh ábhar oiriúnach a d'fhéadfaí a úsáid chun an caiséad gear rothair a thaispeántar thall, a dhéanamh.</p> 	<p>Ainm an ábhair _____</p>
<p>(b) Sainaithin an uirlis láimhe a thaispeántar agus luaigh úsáid oiriúnach dó.</p> 	<p>Ainm _____</p> <p>Úsáid oiriúnach _____</p>
<p>(c) Ainmnigh an próiseas ceangail a thaispeántar thall.</p> 	<p>Ainm an phróisis _____</p>
<p>(d) Sainaithin an uirlis a thaispeántar agus luaigh úsáid oiriúnach dó.</p> 	<p>Uirlis _____</p> <p>Úsáid _____</p>
<p>(e) Ainmnigh an t-ábhar a úsáidtear sna píopaí a thaispeántar thíos agus mol fáth a bhfuil sé oiriúnach.</p> 	<p>Ainm _____</p> <p>Fáth _____</p>

CEIST	FREAGRA
-------	---------

- (f) Tá an gear A ag gluaiseacht deiseal. Cuir tic sa bhosca ceart chun treo an ghear C a thaispeáint.



Cuir tic sa bhosca chun treo ceart ghair C a thaispeáint.



- (g) Ainmnigh an uirlis láimhe a thaispeántar agus luaigh úsáid atá oiriúnach dó.



Ainm \_\_\_\_\_

Úsáid oiriúnach \_\_\_\_\_

\_\_\_\_\_

- (h) Cuir tic sa bhosca ceart chun an dá mhíotal a úsáidtear chun an cóimhíotal práis a dhéanamh a thaispeáint.



Copar + Stán

Copar + Sinc

Stán + Luaidhe

- (i) Mol ábhar oiriúnach a d'fhéadfaí a úsáid chun an roth cairr a thaispeántar thíos a mhonarú.



Ábhar oiriúnach

\_\_\_\_\_

- (j) Sainaithin an uirlis a thaispeántar agus luaigh úsáid atá oiriúnach dó.




Ainm \_\_\_\_\_

Úsáid \_\_\_\_\_

\_\_\_\_\_

CEIST	FREAGRA
-------	---------

**(k)** Ainmnigh ábhar oiriúnach a úsáidtear chun an bhís bhinse innealtóra a thaispeántar a dhéanamh, agus tabhair fáth **amháin** leis an ábhar a roghnaíonn tú.




Ábhar \_\_\_\_\_

Fáth \_\_\_\_\_

\_\_\_\_\_


**(l)** Cuir tic, sa bhosca, leis an gcineál ceart plaistigh ar féidir an stiallthéitheoir a thaispeántar a úsáid chun é a lúbadh.



Plaisteach teirmithéachtach

Teirmeaphlaisteach

**(m)** Ainmnigh **dhá pháirt ar bith** den chasúr a thaispeántar.

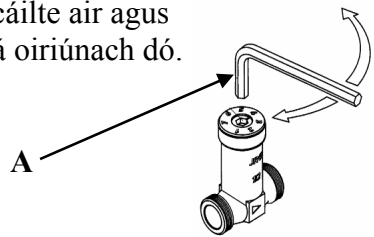


A \_\_\_\_\_

B \_\_\_\_\_

C \_\_\_\_\_

**(n)** Sainaithe an uirlis a thaispeántar a bhfuil **A** marcáilte air agus luaigh úsáid atá oiriúnach dó.




Ainm \_\_\_\_\_

Úsáid \_\_\_\_\_

\_\_\_\_\_

**(o)** Mol ábhar oiriúnach don pháirt a bhfuil an lipéad **A** air, ar an miontochtóir a thaispeántar thíos.




Ábhar do pháirt A

\_\_\_\_\_

CEIST	FREAGRA
-------	---------


(p) Sainaithin an próiseas ceangail a thaispeántar.



Ainm an próiseas ceangail

---

(q) Ainmnigh agus tabhair úsáid don chnó speisialta a thaispeántar thíos.



Ainm an chnó \_\_\_\_\_


Úsáid \_\_\_\_\_

---



---

(r) Sainaithin réamhchúram sábháilteachta **amháin** ba cheart a chomhlíonadh nuair a bhítear ag sábhadh miotail.




Réamhchúram sábháilteachta \_\_\_\_\_

---



---

(s) Luaigh úsáid atá oiriúnach don fháiscín a thaispeántar.




Úsáid \_\_\_\_\_

---



---

(t) Ainmnigh an uirlis a thaispeántar agus luaigh úsáid a bhaintear as sa seomra innealtóireachta.



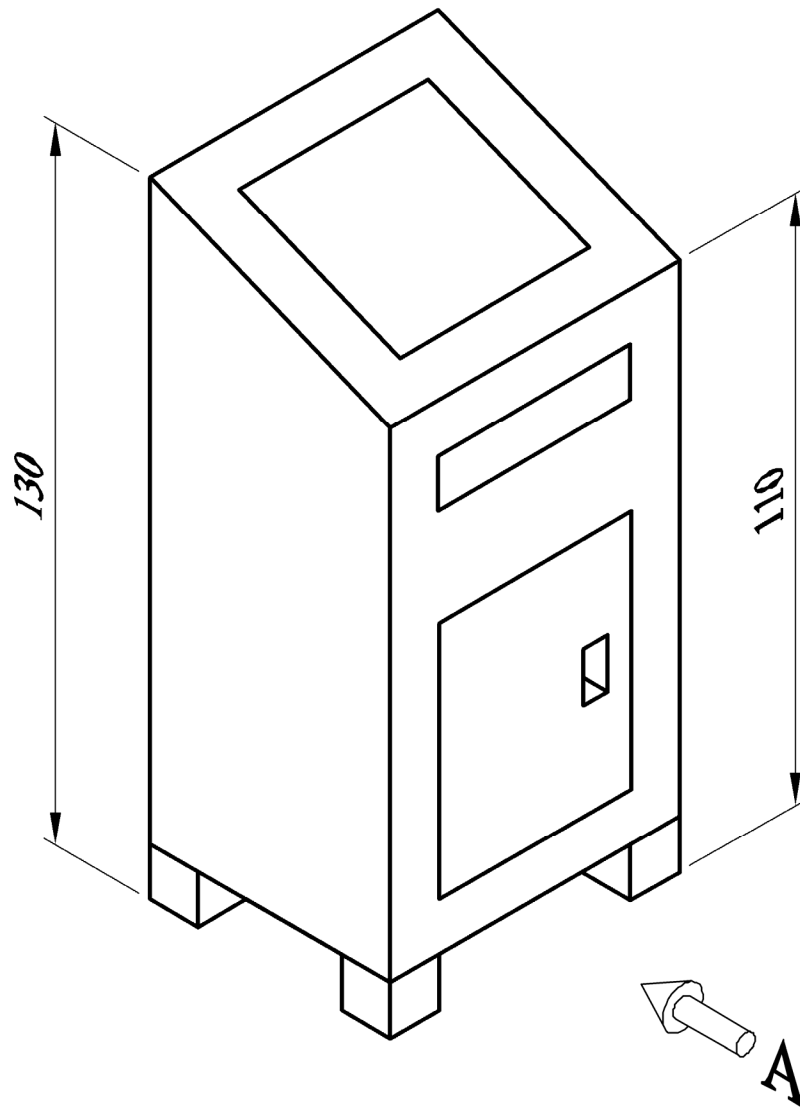
Ainm \_\_\_\_\_

Úsáid \_\_\_\_\_

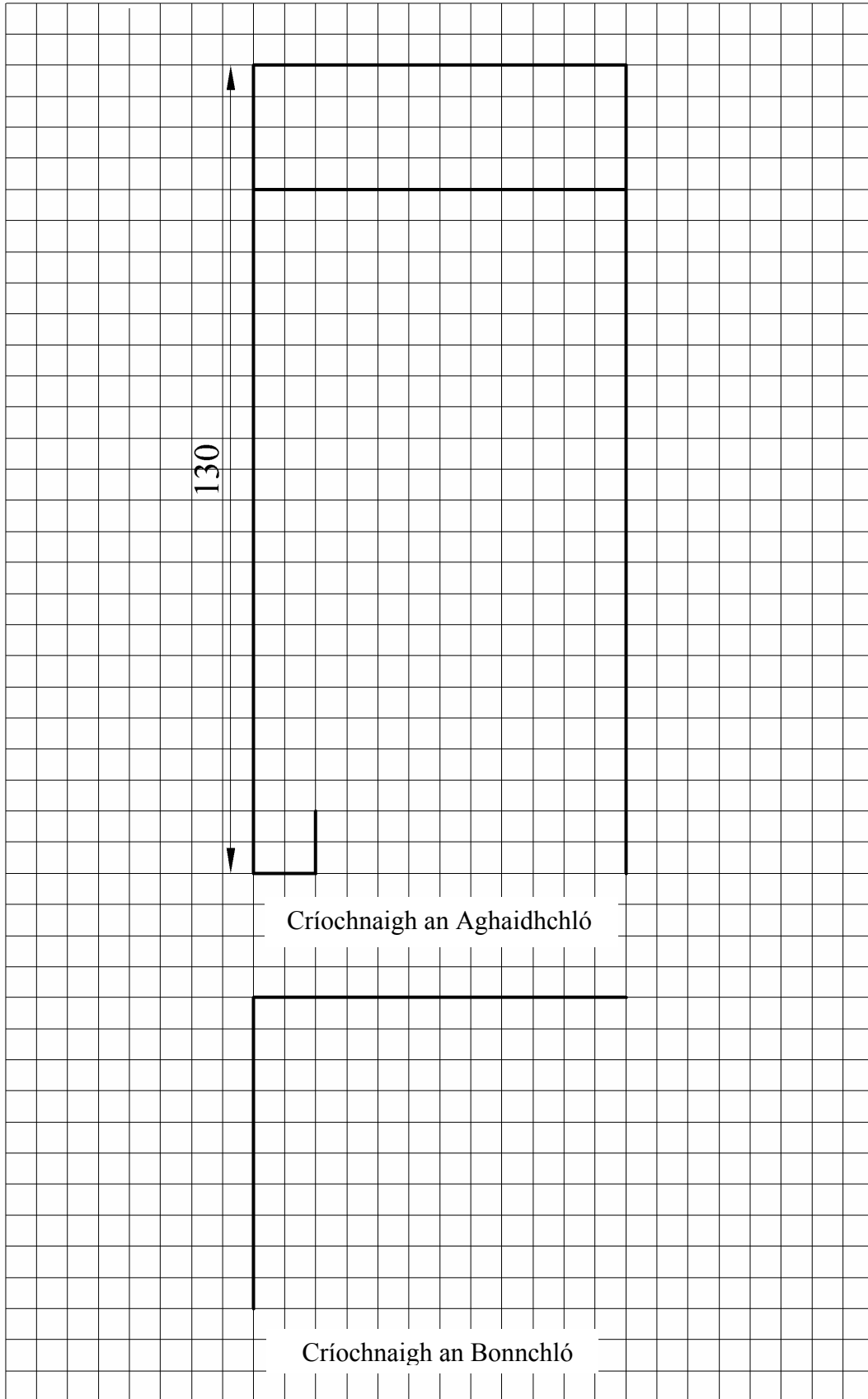
---

Taispeántar amharc pictiúrtha de dearadh le haghaidh bosca phoist anseo thíos.  
Tarraing an **dá** amharc seo a leanas den bhosca phoist ar an bpáipéar greille thall:

- (a) Aghaidhchló i dtreo na saighde **A**;
- (b) Bonnchló teilgthe ó amharc (a).



Nóta: Tá gach cearnóg ghreille 5mm ar fad.



(a) Ainmnigh an dá phróiseas innealtóireachta a thaispeántar ag A agus B thíos. Luaigh dhá shampla de réamhchúraim shábháilteachta mhaithe atá á gcomhlíonadh i ngach cás.

A



B



A - Ainm an phróiseas innealtóireachta

\_\_\_\_\_

Réamhchúram Sábháilteachta 1

\_\_\_\_\_

\_\_\_\_\_

Réamhchúram Sábháilteachta 2

\_\_\_\_\_

\_\_\_\_\_

B - Ainm an phróiseas innealtóireachta

\_\_\_\_\_

Réamhchúram Sábháilteachta 1

\_\_\_\_\_

\_\_\_\_\_

Réamhchúram Sábháilteachta 2

\_\_\_\_\_

\_\_\_\_\_

(b) Taispeántar sa léaráid ceardlann innealtóireachta scoile. Luaigh dhá réamhchúram sábháilteachta ba cheart a chomhlíonadh as scoláirí agus iad ag obair ina leithéid seo de thimpeallacht rangsheomra.

Réamhchúram Sábháilteachta 1 \_\_\_\_\_

\_\_\_\_\_

Réamhchúram Sábháilteachta 2 \_\_\_\_\_

\_\_\_\_\_





(c) Déan cur síos ar **dhá** réamhchúram sábháilteachta **ar bith** atá á gcomhlíonadh ag an oibreoir atá ag baint úsáide as an meilteoir uillinne a thaispeántar.

Réamhchúram Sábháilteachta 1 \_\_\_\_\_

---

---

---

---

Réamhchúram Sábháilteachta 2 \_\_\_\_\_

---

---

---

---



(d) Luaigh réamhchúram sábháilteachta **amháin** ba chóir a chomhlíonadh nuair a úsáidtear an preabshábh a thaispeántar.

---

---



(e) Faightear na siombailí sábháilteachta thíos i gceardlann innealtóireachta. Tabhair míniú gairid ar **gach** ceann de na siombailí a thaispeántar.

A



Siombail A \_\_\_\_\_

B



Siombail B \_\_\_\_\_

## Roinn 2 (150 Marc)

Freagair trí cheist ar bith

Roinn 2

C4.

50 marc

- (a) Dear, sna spásanna atá ann dó, brac taca oiriúnach chun gur féidir an solas cúil le haghaidh an rothair a thaispeántar a chur i bhfearas faoi dhiallait an rothair.



Ba chóir go dtaispeánfadh an dearadh **gach** ceann díobh seo a leanas go soiléir:

- (i) Modh chun an brac a cheangal den solas
- (ii) An chaoi a bhfuil an brac ceangailte den rothar.

Tarraing i **nGreille A dhá** sceitse **ar a laghad** de smaointe éagsúla a chuir tú san áireamh le haghaidh an bhraic.

Tarraing i **nGreille B** sceitse den **réiteach deiridh** le haghaidh an bhraic.




Ba chóir **dhá** sceitse ar a laghad le haghaidh an bhraic a tharraingt thíos i **nGreille A**.

Greille A – SMAOINTE

Ba chóir sceitse den **réiteach deiridh** le haghaidh an bhraic a tharraing thíos i **nGreille B**.

**Greille B – RÉITEACH DEIRIDH**



- (b) Taispeántar thall meicníocht mhearscaoilte chun roth a cheangal den rothar.



Luamhán meicníochta mearscaoilte

- (i) Mol ábhar oiriúnach chun luamhán na meicníochta a mhonarú.

---

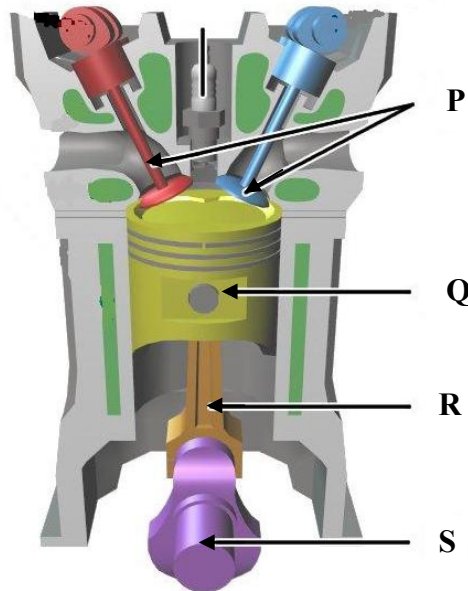
- (ii) Tabhair fáth leis an ábhar a roghnaigh tú.

---

- (iii) Rianaigh fáth **amháin** a bhfuil an luamhán monaraithe leis an geruth a thaispeántar.


---

- (a) Taispeántar léaráid thrasghearrtha d’inneall ceithre bhuille thíos. Sainaithin agus déan cur síos ar fheidhm **gach ceann** de na páirteanna lipéadaithe **P, Q, R** agus **S**.



Páirt	Ainm na Páirte	Feidhm
P		
Q		
R		
S		

(b) Sainaithin agus mínigh an fheidhm a bhíonn in inneall ag an bpáirt a thaispeántar.



Ainm \_\_\_\_\_

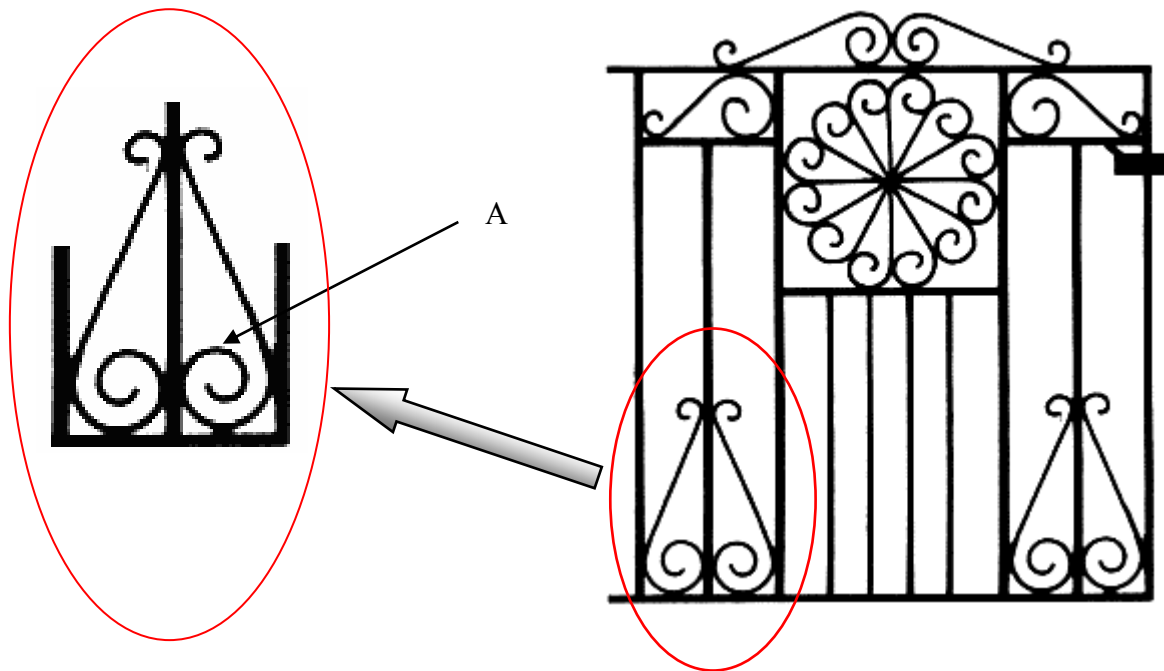
Feidhm \_\_\_\_\_

(c) Taispeántar cuadrothar a úsáidtear ar mhórán feirmeacha le trí pháirt lipéadaithe **X**, **Y** agus **Z**.  
Sainaithin na trí pháirt agus mínigh feidhm **gach** ceann acu.



Ainm	Ainm na Páirte	Feidhm
<b>X</b>		
<b>Y</b>		
<b>Z</b>		

(a) Déan cur síos gairid, sna spásanna thíos, ar **thrí** chéim **ar bith** a úsáidtear i dtáirgeadh an scrolla mhaisithe a thaispeántar ag **A**. Is cuid den gheata a thaispeántar an scrolla seo. (Úsáid sceitsí de réir mar is cuí).



Céim 1 \_\_\_\_\_

\_\_\_\_\_

\_\_\_\_\_

Céim 2 \_\_\_\_\_


\_\_\_\_\_

\_\_\_\_\_

Céim 3 \_\_\_\_\_

\_\_\_\_\_

\_\_\_\_\_



(b) Déan cur síos gairid, sna spásanna thíos, ar **cheithre** chéim **ar bith** a úsáidtear chun an duilleog mhaisiúil chopair a thaispeántar, a dhéanamh. Déantar an píosa as píosa comhréidh copair a bhfuil toisí 200 mm x 100 mm x 0.75 mm aige.  
(*Úsáid sceitsí mar is cuí*).



Céim 1 \_\_\_\_\_

\_\_\_\_\_

\_\_\_\_\_

Céim 2 \_\_\_\_\_

\_\_\_\_\_

\_\_\_\_\_

Céim 3 \_\_\_\_\_


\_\_\_\_\_

\_\_\_\_\_

Céim 4 \_\_\_\_\_

\_\_\_\_\_

\_\_\_\_\_



(c) Luaigh **dhá** réamhchúram sábháilteachta ba cheart a chomhlíonadh le linn mhonarú an duilleog mhaisiúil chopair.

Réamhchúram 1 \_\_\_\_\_

\_\_\_\_\_

Réamhchúram 2 \_\_\_\_\_

\_\_\_\_\_

## **An Modúl Córas**

(Áirítear **dhá thopaic ar bith** mar mhodúl iomlán)

Freagair **dhá cheann ar bith** as na cúig thopaic seo a leanas.

Topaic (a) – Dearadh Ríomhchuidithe (CAD)

Topaic (b) – Leictreachas

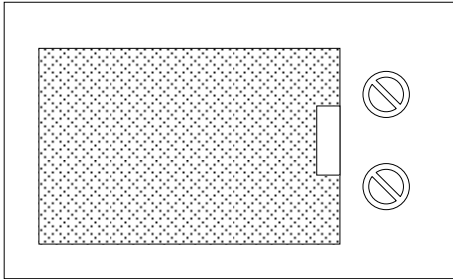
Topaic (c) – Leictreonaic

Topaic (d) – Meicníochtaí

Topaic (e) – Neomataic



- (a) Taispeántar líníocht CAD de oigheann micreathonnach thíos. Liostaigh **ceithre** ordú CAD ar bith atá riachtanach chun an líníocht a tháirgeadh.



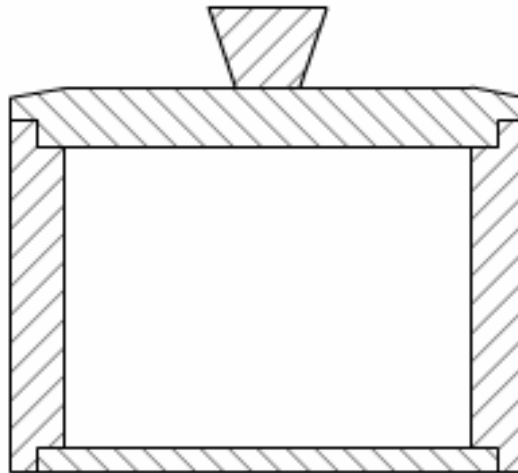
Ordú 1 \_\_\_\_\_

Ordú 2 \_\_\_\_\_

Ordú 3 \_\_\_\_\_

Ordú 4 \_\_\_\_\_

- (b) Táirgeadh an radharc trasghearrtha seo de bhosca adhmaid agus cuid de greanta le pacáiste CAD. Mínigh an próiseas atá i gceist chun ionad a ghreanadh ar líníocht CAD.




Gnáthamh \_\_\_\_\_

\_\_\_\_\_

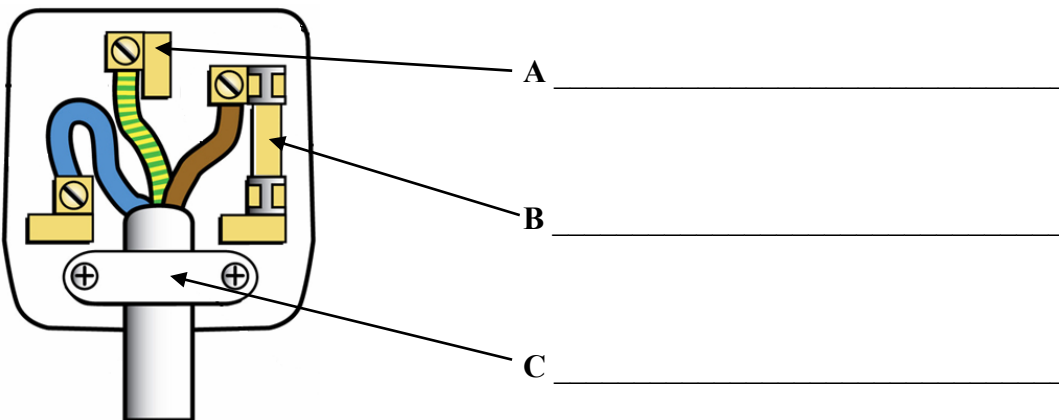
\_\_\_\_\_

(a) Taispeántar thall píosa de chábla príomhlíonra leis na sreanganna daite mar atá. Comhlánaigh an tábla ag tabhairt an t-ainm ceart ar **gach** sreang dhaite.

Dath	Ainm na sreinge
Gorm	
Uaithne/Buí	
Donn	



(b) Tá an cábla le feistiú le plocóid príomhlíonra, a thaispeántar thíos. Ainmnigh na páirteanna **A**, **B** agus **C** na plocóide a thaispeántar.



(c) Mínigh an fheidhm atá le **gach** páirt a thaispeántar ar an léaráid thuas, maidir le sábháilteacht leictreach

Páirt	Feidhm maidir le Sábháilteacht Leictreach
A	
B	
C	

(d) Ainmnigh agus luaigh úsáid atá oiriúnach do **gach** ceann de na compháirteanna a thaispeántar thíos.

Ainm _____ Úsáid _____ _____	Ainm _____ Úsáid _____ _____	Ainm _____ Úsáid _____ _____

(a) Ainmnigh agus luaigh úsáid atá oiriúnach do **gach** ceann de na comhpháirteanna a thaispeántar thíos.



Ainm \_\_\_\_\_

Úsáid \_\_\_\_\_



Ainm \_\_\_\_\_

Úsáid \_\_\_\_\_



Ainm \_\_\_\_\_

Úsáid \_\_\_\_\_

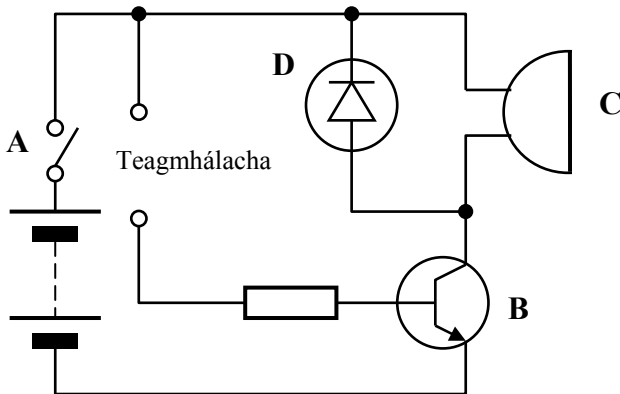
(b) Sainaithin an uirlis a thaispeántar agus mínigh an úsáid a bhaintear as sa leictreonaic.



Ainm \_\_\_\_\_

Úsáid \_\_\_\_\_

(c) Sainaithin **dhá ceann ar bith** de na comhpháirteanna leictreonacha, lipéadaithe **A, B, C** agus **D**, a úsáidtear sa chiorcad leictreonaic don chluiche láimhe socra a thaispeántar. Scríobh do chuid freagraí sa tábla atá ann dóibh.



	Ainm na Comhpháirte Leictreonaí
<b>A</b>	
<b>B</b>	
<b>C</b>	
<b>D</b>	

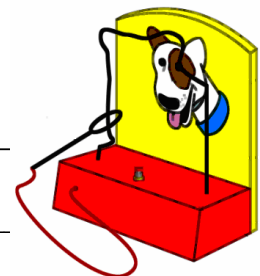
(d) Mínigh an chaoi a n-oibríonn ciorcad an chluiche láimhe socra a thaispeántar.

\_\_\_\_\_


\_\_\_\_\_

\_\_\_\_\_

\_\_\_\_\_





- (a) Taispeánann an léaráid thíos buailteoir ubh a fhaightear de ghnáth i gcistineacha. Mínigh an chaoi a n-oibríonn an mheicníocht.



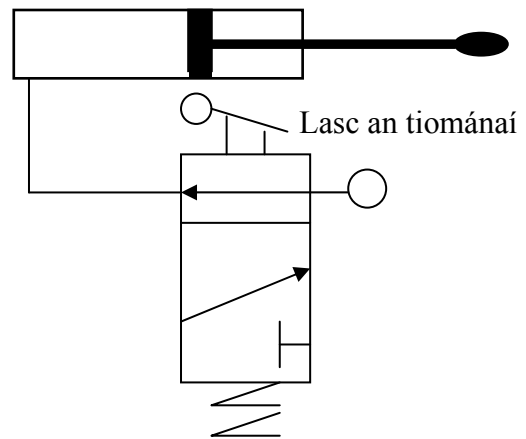
Míniú \_\_\_\_\_  
 \_\_\_\_\_

- (b) Sainnithin na trí mheicníocht A, B agus C a thaispeántar thíos agus luaigh úsáid **amháin** le **gach** ceann díobh.



	Ainm	Úsáid
Meicníocht A		
Meicníocht B		
Meicníocht C		

- (a) Oibrítear doras an bhus scoile ag úsáid rialú neomatach. Taispeántar thall léaráid an chiorcaid neomataigh.



Teastaíonn ón tiománaí go n-osclofaí an doras go mall agus go réidh nuair a ghníomhaítear an lasc. As an liosta thíos roghnaigh **dhá** fheiste **ar bith** a d'fhéadfadh an doras a oibriú de réir mar a theastaíonn ón tiománaí.

- |                  |                          |                |                          |           |                          |
|------------------|--------------------------|----------------|--------------------------|-----------|--------------------------|
| Comhla 3-bhéalóg | <input type="checkbox"/> | Comhbhrúiteoir | <input type="checkbox"/> | Taiscumar | <input type="checkbox"/> |
| Solanóideach     | <input type="checkbox"/> | Sprionga       | <input type="checkbox"/> | Cúngthóir | <input type="checkbox"/> |

- (b) Taispeántar thíos córas neomatach le sorcóir A ag oibriú fáisceáin.

- (i) Sorcóir déghníomhach is ea sorcóir A. Cad é an buntáiste atá aige seo ar shorcóir aonghníomhach?

---




---

- (ii) Mol ábhar oiriúnach le haghaidh mhonarú an tsorcóra.

---

- (iii) Cén fáth a gceapann tú go bhfuil an t-ábhar seo oiriúnach?

---



Leathanach Bán

Leathanach Bán

Leathanach Bán



<b>Don scrúdaitheoir amháin</b>		
<b>Ceist</b>	<b>Marc</b>	<b>Iomlán</b>
<b>Roinn 1</b>		
1		
2		
3		
<b>Roinn 2</b>		
4		
5		
6		
7 (a)		
7 (b)		
7 (c)		
7 (d)		
7 (e)		
<b>Iomlán</b>		